

世 界 史 B

(解答番号 ~)

1 次の文章と図版に関連して、問1～問2に答えよ。

大分県の立花さんは、修学旅行先の奈良について、大分との関わりを調べて授業で班発表することになった。次の会話は、作りかけのパネルを基に、班で模擬発表をしているところである。

立花さん： 東大寺は、1567年に松永久秀^{まつながひさひで}と三好三人衆の合戦の舞台となり、大仏殿が焼失しました。このとき撃ち込まれた火縄銃の銃弾が、資料1の南大門の金剛力士像から見つかっています。それは、現在のタイ、当時のシャムにあるソントー鉱山で採掘された鉛で作られていました。シャム産の鉛で作った鉛玉は、資料2のように、同じ時期の豊後府内^{ぶんご}(大分市)^{おおともそうりん}の大友宗麟時代の遺構からも出土しています。

高橋さん： 驚きました。シャムで採れた鉛が、全体の もの割合を占めていたのですね。

立花さん： 鉛は、銃弾への加工のほか、銀^(a)の精錬に用いられて、使用量が急速に伸びていました。しかし、わが国での外国産の鉛の使用は、1637年の島原・天草一揆(島原の乱)頃を最後に見られなくなっていきます。

高橋さん： シャム産の鉛は、当時どういう勢力の手を経て日本に輸入されていたのですか？

立花さん： それについては、資料3として使えそうな地図を探しているところです。

パネル

《東大寺と大分をつなぐ「タイの鉛」》 資料2 豊後府内遺構から出土した鉛玉の推定産地

資料1 鉛玉の見つかった金剛力士像



産地	出土点数	割合(%)
日本	8	36
朝鮮半島	2	9
中国南部	3	14
タイ	5	23
不明	4	18
合計	22	100

資料3

(当時の日本にタイ産の鉛が輸入されていた経路の参考になる地図を入れる予定)

問 1 に当てはまる数値と、パネル中の資料 3 に入れるのに適切と考えられる地図との組合せとして正しいものを、次の①～④のうちから一つ選べ。解答番号は 。

	<input type="text" value="A"/>	資料 3 に入れるのに適切と考えられる地図
①	約 1 / 4	タイだけが独立を保っている状態を示す、東南アジアの地図
②	約 1 / 4	大航海時代のアジアにおけるポルトガルの拠点を示した地図
③	約 1 / 10	タイだけが独立を保っている状態を示す、東南アジアの地図
④	約 1 / 10	大航海時代のアジアにおけるポルトガルの拠点を示した地図

問 2 下線部分銀について述べた文として正しいものを、次の①～④のうちから一つ選べ。
解答番号は 。

- ① 通貨と同じ役割で用いられ、租調庸の納税品目にもなった。
- ② ドルとの交換は、アメリカ合衆国の大統領ニクソンによって停止された。
- ③ スペインがアメリカ大陸に植民地を領有すると、ヨーロッパに大量にもたらされた。
- ④ カリフォルニアで鉱山が発見されたことが、西部開発が進展するきっかけとなった。

2 1～2の文章と図版に関連して、問1～問8に答えよ。

1 古代社会において、動物と宗教は密接に結びついていた。メソポタミアには、かつてライオンが生息しており、その脅威から人々を守ることが王の使命とされていた。やがて、王は宗教的な儀式としてライオンを狩るようになり、そのようすは、図1のようにアッシリア王によるライオン狩りのレリーフとしても残っている。その後ヨーロッパでは、ライオンは力の象徴として様々な王家の紋章に描かれるようになった。エジプトでは、牛やワニが聖獣として崇拝の対象となった。牛の姿で現れる神やワニの頭をした神が、豊穡をもたらす神として信仰されたためである。インドでは、宗教の影響を受けて殺生を禁止する風潮が広がっていった。マウリヤ朝では、娯楽として狩猟を行うことを禁じ、宗教的に善行を積むための施設として、動物たちを世話する動物保護施設を設けた。



図1 アッシリア王のライオン狩りのレリーフ

問 1 下線部分^(a)アッシリア滅亡後にオリエント世界を統一したアケメネス朝について述べた文として適切なものを、次の①～④のうちから一つ選べ。解答番号は 。

- ① ダレイオス 1 世が、中央集権体制を整えた。
- ② マムルークを軍の主力に用いた。
- ③ 荘園に三圃制を導入した。
- ④ ミケランジェロが、「最後の審判」を描いた。

問 2 下線部分^(b)紋章に関連して、次の紋章は現在のスペインの国章である。この紋章についての下の説明文が述べている出来事として適切なものを、下の①～④のうちから一つ選べ。解答番号は 。



中央の盾で強調して描かれている図柄は、あ^(b)のライオンが「レオン王国」、い^(b)の城壁が「カスティーリャ王国」、う^(b)の縦のストライプが「アラゴン連合王国」、え^(b)の鎖が「ナバーラ王国」をそれぞれ表している。これらの四つの王国は、キリスト教の国々であり、中世においてイベリア半島のイスラーム勢力と戦った。

- ① プラハの春
- ② ペロポネソス戦争
- ③ レコンキスタ(国土回復運動)
- ④ 安史の乱

問 3 下線部分^(c)エジプトに関する出来事について述べた次の(ア)～(ウ)を、古いものから順に正しく並べたものを、下の①～④のうちから一つ選べ。解答番号は 5。

(ア) 東方遠征を行ったアレクサンドロス大王に支配された。

(イ) クフ王のピラミッドが建設された。

(ウ) ファーティマ朝の支配者が、カリフの称号を用いた。

① (ア)→(イ)→(ウ)

② (ア)→(ウ)→(イ)

③ (イ)→(ア)→(ウ)

④ (ウ)→(ア)→(イ)

問 4 下線部分^(d)宗教に関連して、インドで生まれ、中央アジアを経て中国や日本に伝わった宗教の名称と、その特徴の説明との組合せとして正しいものを、次の①～④のうちから一つ選べ。解答番号は 6。

	名 称	説 明
①	大乘仏教	善神と悪神の対立を信仰の基礎におく。
②	大乘仏教	すべての人々の救済のために修行する。
③	ゾロアスター教	善神と悪神の対立を信仰の基礎におく。
④	ゾロアスター教	すべての人々の救済のために修行する。

2 支配者は、自らの政治権力や経済力の象徴として動物を収集した。例えば、中国においては、周の文王は、広大な土地を壁で囲み、シカ、ヤギ、鳥類、魚など様々な動物を飼育したとされる。^(e) また、13世紀にモンゴルを訪れたヴェネツィア商人は、上都の宮殿内における動物のようすを記録している。^(f) 一方で、キリスト教が広がったヨーロッパでは、動物の収集には、^(g) **図2**のような動物たちと仲良く暮らしていたエデンの園を再現するという目的が結びついた。特に、キリスト教においては、ゾウは賢明で貞潔な生き物とされ、支配者はゾウを飼育することを強く望んだ。例えば、13世紀のフランス王ルイ9世は、ゾウを手に入れ、^(h) イングランド王ヘンリ3世に贈っている。



図2 エデンの園

問 5 下線部分^(e)周について述べた文として適切なものを、次の①～④のうちから一つ選べ。

解答番号は 。

- ① 『千夜一夜物語』がまとめられた。
- ② スコラ学が発展した。
- ③ シベリア鉄道を建設した。
- ④ 殷を滅ぼした。

問 6 下線部分^(f)13世紀にモンゴルを訪れたヴェネツィア商人は、上都の宮殿内における動物の

ようすを記録しているとあるが、次の資料がその記録の一部である。文中の二重下線部分カーンに該当する君主について述べた文として適切なものを、下の①～④のうちから一つ選べ。解答番号は 。

苑内には牡ジカ、黄ジカ、小ジカといった類の動物を放牧し、同じ苑内の鳥小屋に飼っているハヤブサ・タカの餌糧^{じりょう}に供せしめている。ハヤブサだけでもここには二百隻以上が飼育されている。…カーンはヒョウを牽きつれてその乗馬のあとに従わしめつつ^{しょうへき}牆壁(垣根や壁)を巡らしたこの園囿内を漫騎することもしばしばである。…カーンには、淡色にせよ斑点一つ交えない雪白の牝ウマ・牝ウマの馬群があつて、その牝ウマだけでも一万以上に達するという莫大な頭数をなしている。この牝ウマの乳を飲むことを許されるのはただ帝室の者のみ、すなわちチンギス＝カーンの後裔^{こうえい}だけに限定されている。

(注) 園囿…草木を植え、鳥や獣を飼っているところ
漫騎…気の向くままに馬に乗る

- ① フビライは、2度の日本遠征を行った。
- ② チュラロンコン(ラーマ5世)は、近代化を進めた。
- ③ 曾国藩は、洋務運動を進めた。
- ④ ムハンマドは、ヒジュラ(聖遷)を行った。

問 7 下線部分^(g)キリスト教について述べた文として適切なものを、次の①～④のうちから一つ選べ。解答番号は 。

- ① 東学の指導者らが、甲午農民戦争をおこした。
- ② 『リグ＝ヴェーダ』が成立した。
- ③ アリーとその子孫だけを指導者とした。
- ④ ニケーア公会議において、アタナシウス派が正統とされた。

問 8 下線部分^(h)13世紀のフランス王ルイ9世は、ゾウを手に入れとあるが、ルイ9世がゾウを手に入れるきっかけとなったと考えられる出来事を、次の①～④のうちから一つ選べ。

解答番号は 。

- ① 鄭和の南海遠征
- ② 十字軍の遠征
- ③ トゥール・ポワティエ間の戦い
- ④ ファショダ事件

B

3 1～2の文章と図版に関連して、問1～問5に答えよ。

1 1661年、親政を始めたフランス王ルイ14世は公務に精力的に取り組んだ。7時に起床、午前中に政務、午後は狩猟や乗馬、夜は演劇、音楽会などをこなして、12時過ぎに就寝した。起床から就寝に至るまで、王の生活はことごとく儀式化され、王の権威を高めるために利用された。例えば、貴族のうちでも起床時及び就寝時の王に寝室で親しく謁見できるのは、特別の寵愛ちようあいを意味した。

フランスは、かつて絶対王政の典型とされてきた。ルイ14世や、18世紀(b)のルイ15世は、貴族や法によって左右されることなく、官僚制と常備軍を用いて国内の諸勢力を圧倒する絶対的な権力を行使したといわれる。しかし、近年では、実際には王権が直接に社会の末端にまで及ぶわけではなかったという見方も示されている。




ルイ14世

問 1 下線部分^(a)ルイ 14 世に関連して、ルイ 14 世の権力を示す建造物として適切なものを、次の①～④のうちから一つ選べ。解答番号は 。



アンコール=ワット



万里の長城



ヴェルサイユ宮殿



タージ=マハル

問 2 下線部分^(b)18 世紀の世界のようすについて述べた文として適切なものを、次の①～④のうちから一つ選べ。解答番号は 。

- ① プラッシーの戦いがおこった。
- ② ハンガリーで、反ソ暴動がおこった。
- ③ ゲルマン人の大移動が始まった。
- ④ 劉邦が、漢を建てた。

B

2 高校生の山下さんは、女性君主について調べ、カード1・カード2を作成した。

カード1 エリザベス1世(在位 1558～1603年)

母は刑死し、自身もロンドン塔に幽閉されるなど、苦難の末、25歳で女王となった。
[A] を制定して宗教対立を取め、国内社会を安定させた。対外的には、全盛期のスペインに打撃を与え、イギリスの海外進出を推し進めた。生涯独身を通して跡継ぎを残さなかったため、彼女の死でテューダー朝は断絶した。



エリザベス1世

カード2 エカチェリーナ2世(在位 1762～96年)

ドイツ出身のロシア皇帝。皇帝である夫からクーデタで帝位を奪った。啓蒙思想を取り入れ、ロシアの近代化を目指した。そのため、啓蒙専制君主に位置付けられている。しかし、農民反乱などを機に反動化した。対外政策に積極的であり、各地へ進出した。



エカチェリーナ2世

問 3 A に当てはまる語句と、下線部分イギリスの海外進出^(c)について述べた文との組合せとして正しいものを、次の①～④のうちから一つ選べ。解答番号は 13。

	A	イギリスの海外進出
①	統一法	東インド会社を設立した。
②	統一法	フィリピンに、マニラを建設した。
③	ホルテンシウス法	東インド会社を設立した。
④	ホルテンシウス法	フィリピンに、マニラを建設した。

B

問 4 下線部分啓蒙思想^(d)に関連して、山下さんが啓蒙思想について学習するための書籍として適切なものを、次の①～④のうちから一つ選べ。解答番号は 14。

- ① 玄奘のインドへの旅を題材とした『西遊記』
- ② ボッカチオが著した『デカメロン』
- ③ 騎士道を題材とした『ローランの歌』
- ④ モンテスキューが著した『法の精神』

問 5 下線部分各地へ進出^(e)について、エカチェリーナ2世が行った事柄として適切なものを、次の①～④のうちから一つ選べ。解答番号は 15。

- ① コロンブスの航海を支援した。
- ② 日本にラクスマンを派遣した。
- ③ メキシコに出兵した。
- ④ ハワイを併合した。

4 1～2の文章と図版に関連して、問1～問4に答えよ。

1 生徒と先生が、資料を見ながら会話している。

先生：『海外新聞』は、ジョセフ＝ヒコによって、初めて日本語で定期刊行された新聞です。

生徒：ジョセフ＝ヒコとはどんな人ですか。また、なぜ新聞を発行したのですか。


先生：ヒコは、幕末の漂流民で、アメリカ合衆国で教育を受けて市民権を取得し、開港直後の横浜にアメリカ領事館の通訳として帰国した人物です。外国の話聞かせてほしいと訪ねてくる人々の要望に応えようと、新聞発行を思いついたといわれています。

生徒：資料中の記事では、**A** 暗殺の場面が詳しく書かれていますが、新聞のニュース素材は、どのようにして手に入れたのですか。

先生：横浜に入港する船から外国新聞を入手し、^(a)翻訳すべき記事を選んで載せるという手法をとりました。なお、『海外新聞』は、2年余りで廃刊となりましたが、ヒコは **A** と握手を交わした唯一の日本人となりました。

生徒：ヒコは、アメリカ合衆国の民主主義を日本の人々に伝えたかったのですね。

資料 『海外新聞』(表紙と記事の一部)



アメリカ国の部

4月6日、南北戦争ありて南部大いに敗北し、…同9日…ついに降伏なせしとかや。…同14日の夜、北部大頭領(大統領) **A** は、ワシントンの芝居を見物に行きしに、11時とおぼしきころ、たちまち一人の狼藉ものありて…、にわかにはげ敷にかけ上がり、大頭領のうしろより袖銃を以て一発に打倒し、…裏口よりにげ去りける。

(注) 『海外新聞』は、創刊時は『新聞誌』と題したが、ほどなく改題された。

問1 **A** に当てはまる人物と、その人物に最も関わりの深い言葉との組合せとして正しいものを、次の①～④のうちから一つ選べ。解答番号は **16**。

	A	言葉
①	リンカン	代表なくして課税なし
②	リンカン	人民の、人民による、人民のための政治
③	モンロー	代表なくして課税なし
④	モンロー	人民の、人民による、人民のための政治

問 2 下線部分翻訳すべき記事を選んで載せるとあるが、次の地図は、『海外新聞』に、当時のヨーロッパ諸国の情勢を伝える記事とともに掲載されたものである。生徒と先生の会話文や地図中の国名を参考にして、この地図が作成された時期を、下の表中の①～④のうちから一つ選べ。解答番号は 17。



(注) 一部の国名については、現在の一般的な表記を括弧内に記した。

ローマ帝国が東西に分裂する。	↑↓	①
ビザンツ帝国が滅亡する。	↑↓	②
ピューリタン革命がおこる。	↑↓	③
サライエヴォ事件がおこる。	↑↓	④
東西ドイツが統合する。		

2 高校生の谷本さんは、夏休みの自由研究で、ジョセフ＝ヒコの『海外新聞』にならって、次の『世界史新聞』を作成した。

世界史新聞 **アヘン戦争終結 清国敗れる** 1842年発行

アヘンの密輸問題をきっかけに始まったイギリスと清国との戦争がついに終結した。イギリス艦隊は、広州から沿岸部を北上し、さらに長江をさかのぼって南京を攻めた。このたび、和平交渉がまとまり、南京条約が結ばれた。



攻撃される清のジャンク船



南京条約の調印

南京条約の主な内容

- ・ 5港の開港と領事の駐在
- ・ イギリスに **B** を割譲
- ・ 公行の廃止
- ・ 賠償金の支払い

この他にも、通商上の規定が追加される見込みで、不平等な内容が予想される。

C 失脚，新疆へ左遷

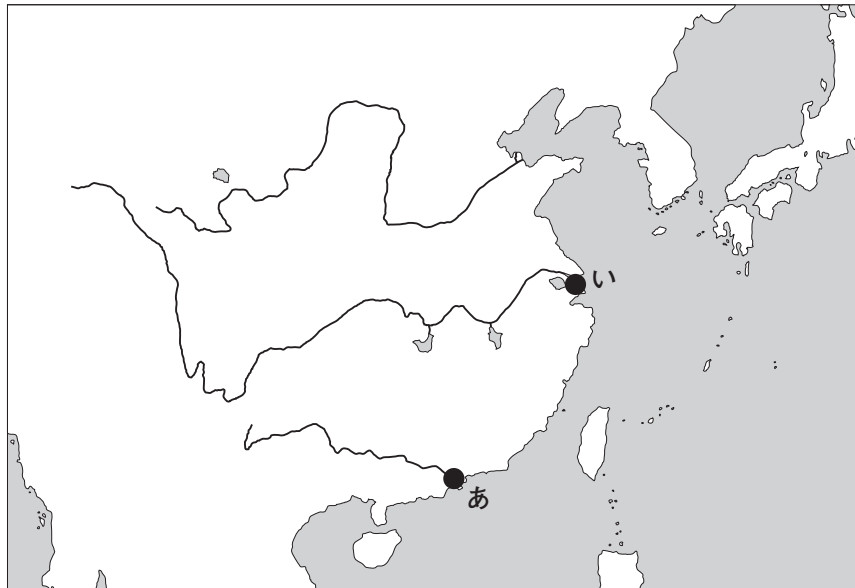
広州で密輸されたアヘンを厳しく取り締まっていた **C** は、開戦の責任を取らされて欽差大臣を解任された。新疆へ左遷になったという情報が伝わっている。

幕府に衝撃走る

アヘン戦争の結果は、我が国の政府である幕府にも衝撃となって伝えられた。今までの方策を転換して、新たな法令を打ち出すもようだ。

問 3 **B** に当てはまる語句と， **B** の略地図中のおよその位置との組合せとして正しいものを，下の①～④のうちから一つ選べ。解答番号は **18** 。

B



	B	位 置
①	香港島	あ
②	香港島	い
③	上 海	あ
④	上 海	い

問 4 谷本さんの作成した『世界史新聞』から読み取れることと， **C** に当てはまる人物との組合せとして正しいものを，次の①～④のうちから一つ選べ。解答番号は **19** 。

	読み取れること	C
①	イギリス・フランス連合軍が，北京を攻めた。	毛沢東
②	イギリス・フランス連合軍が，北京を攻めた。	林則徐
③	アヘン戦争の結果は，日本にも伝えられた。	毛沢東
④	アヘン戦争の結果は，日本にも伝えられた。	林則徐

5 1～2の文章と図版に関連して、問1～問6に答えよ。

1 第一次世界大戦は連合国の勝利に終わり、民族自決や植民地問題の公正な解決などが提唱された。しかし、敗戦国であるドイツには、^(a)多額の賠償金の支払いが課された。

フランスは、ドイツに対し円滑な賠償金の支払いを求め、1923年に **A** を占領した。その後、ドイツの経済は混乱を極めた。このような状況の中でドイツの首相となったのが、**図1**のシュトレゼマンである。シュトレゼマンは、新紙幣の発行によって通貨を安定させるとともに、アメリカ合衆国の協力による賠償金支払いの緩和と資本導入に成功して、ドイツ経済の立て直しを図った。さらに、1925年には **B** を締結し、ヨーロッパの緊張緩和に貢献した。その結果、ドイツの^(b)国際連盟への加盟が実現した。



図1

問1 下線部分^(a)民族自決の実現を求めた出来事として適切なものを、次の①～④のうちから一つ選べ。解答番号は **20** 。

- ① 黄巾の乱
- ② 三・一独立運動
- ③ ラダイト運動(機械打ちこわし運動)
- ④ ボストン茶会事件

問 2 **A** に当てはまる語句と、その後のドイツの経済状況について述べた文との組合せとして正しいものを、次の①～④のうちから一つ選べ。解答番号は **21**。

	A	ドイツの経済状況
①	アフガニスタン	石油危機(オイル=ショック)がおこった。
②	アフガニスタン	激しいインフレーションが進んだ。
③	ルール	石油危機(オイル=ショック)がおこった。
④	ルール	激しいインフレーションが進んだ。

問 3 **B** に当てはまる語句として適切なものを、次の①～④のうちから一つ選べ。解答番号は **22**。

- ① パレスチナ暫定自治協定 ② 下関条約
③ 日独伊防共協定 ④ ロカルノ条約

問 4 下線部分^(b)国際連盟について述べた文として適切なものを、次の①～④のうちから一つ選べ。解答番号は **23**。

- ① アメリカ合衆国は加盟しなかった。
② ウィーン体制の維持を目的とした。
③ 旧ソ連内の 11 の共和国で形成された。
④ 排他的なブロック経済圏をつくることを目的とした。

2 図2は、ミュンヘン会談からの帰国後、ロンドンの飛行場で、ヒトラーとの合意書を見せているイギリスの首相ネヴィル=チェンバレンである。彼は、首相官邸前にて、次のようにコメントした。

「親愛なる皆さん、…名誉ある平和をたずさえてドイツから戻ってきました。…皆さん、心から感謝します。ですから、皆さんに申し上げます。どうぞ、帰宅されてゆっくりお休みください。」

ネヴィル=チェンバレンは、戦争を回避するために、ドイツの領土要求を認める をとった。しかし、その後もドイツの東方への拡大は進み、1939年9月1日にドイツがポーランドへの侵攻を開始すると、イギリス・フランスがドイツに宣戦して第二次世界大戦が始まった。^(c)



図2

問5 に当てはまる語句として適切なものを、次の①～④のうちから一つ選べ。

解答番号は 。

- | | |
|---------------|--------|
| ① カリブ海政策 | ② 鉄血政策 |
| ③ ニューフロンティア政策 | ④ 宥和政策 |

問 6 下線部分^(c)第二次世界大戦中の出来事について述べた文として適切なものを、次の①～④のうちから一つ選べ。解答番号は 。

- ① アナーニ事件がおこった。
- ② ソロンの改革が行われた。
- ③ ミッドウェー海戦がおこった。
- ④ 第1回原水爆禁止世界大会が開かれた。

B

6 1～2の文章と図版に関連して、問1～問5に答えよ。

1 生徒と先生が、夏季オリンピックについて、資料1～資料3を見ながら会話している。

生徒：先生、資料1のXの時期に参加選手数が減少し、Yの時期は参加国・地域数も減少していることが気になります。

先生：1956年のメルボルン大会では、エジプト・レバノン・イラクが不参加を表明しました。これは同年に、**A** をきっかけに発生した第2次中東戦争への抗議の結果です。このようにオリンピックでは、政治的な事情で参加をボイコットする国や地域がありました。

生徒：Yの時期においても、ボイコットが発生したのでしょうか。

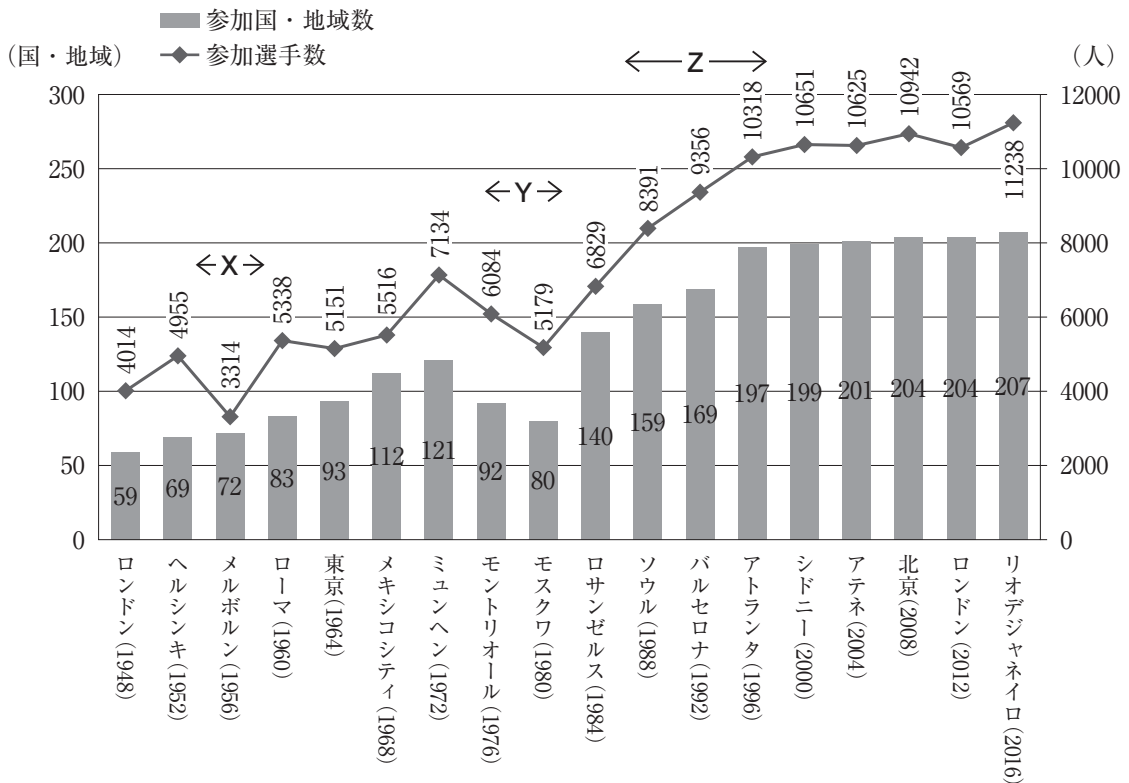
先生：それについては、資料2と資料3で考えてみましょう。新たにわかることはありますか。

生徒：モントリオール大会では、アフリカの国が多くボイコットしていますが、これはなぜですか。

先生：それは、当時南アフリカで実施されていた**B** に対する抗議の結果でした。

生徒：一方モスクワ大会は、**C** がボイコットしているように見えます。この時期ならば東西冷戦が影響していると思うのですが、どうでしょうか。

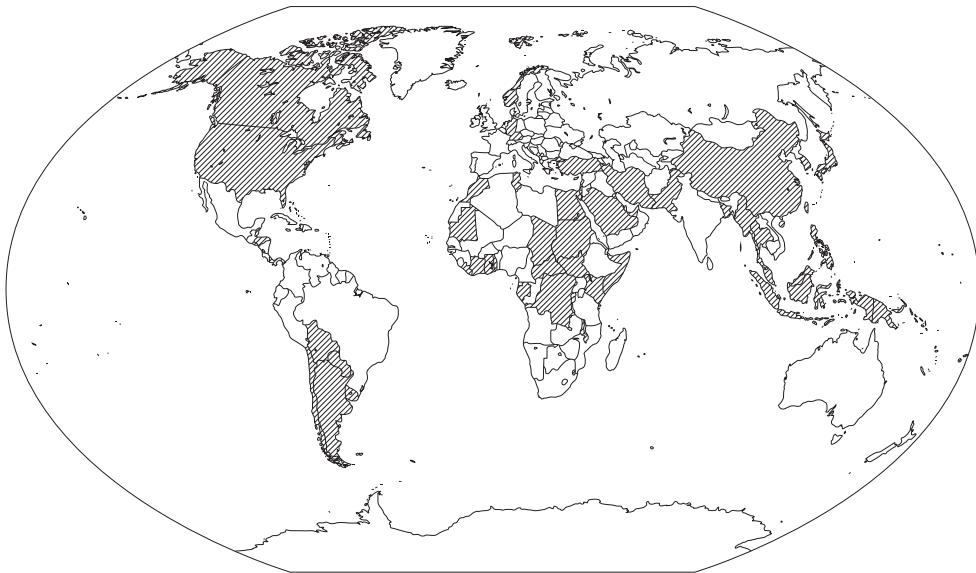
先生：概ねその通りです。ただし、例えばイギリスは同じ陣営ですが参加しました。また、中国は**C** ではないですが、開催国との関係が悪化してボイコットしました。



資料1 夏季オリンピックの参加国・地域数及び参加選手数の推移



資料2 モントリオール大会をボイコットした国・地域(網掛け部分)



資料3 モスクワ大会をボイコットした国・地域(斜線部分)

問1 に当てはまる語句として適切なものを、次の①～④のうちから一つ選べ。解答番号は 。

- ① シュレジエンの領有
- ② スエズ運河の国有化
- ③ ヨーロッパ連合(EU)の結成
- ④ 十四カ条の平和原則の発表

問 2 B と C に当てはまる語句の組合せとして正しいものを、次の①～④のうちから一つ選べ。解答番号は 27 。

	B	C
①	アパルトヘイト	アメリカ合衆国を中心とする西側諸国
②	アパルトヘイト	ソ連を中心とする東側諸国
③	ニューディール	アメリカ合衆国を中心とする西側諸国
④	ニューディール	ソ連を中心とする東側諸国

問 3 下線部分東西冷戦(a)に関連して、資料 1 の Z の時期において参加数が増加した理由の一つとして、東西冷戦の解消があげられる。東西冷戦の解消について述べた文として適切なものを、次の①～④のうちから一つ選べ。解答番号は 28 。

- ① ムッソリーニが、「ローマ進軍」を行った。
- ② チャーチルが、「鉄のカーテン」演説を行った。
- ③ ワシントン海軍軍縮条約が締結された。
- ④ マルタ会談が開催された。

2 障害者スポーツの祭典である、パラリンピックの起源となる大会は、イギリスにあるストーク＝マンデビル病院で始まった。^(b)

病院に勤務していた医師のルートヴィヒ＝グットマンは、第二次世界大戦で負傷した兵士のリハビリテーションにスポーツが有効であると考え、障害者のスポーツ大会の必要性を提唱した。そして、1948年のロンドンオリンピックの開会式と同日に、車椅子の入院患者でアーチェリーの大会を行った。この大会は、1952年にオランダの選手が参加したことがきっかけで国際大会に発展した。これが「第1回国際ストーク＝マンデビル競技会」である。その後も参加国が増加し、1960年のローマオリンピック後に行われた第9回大会が、後に第1回パラリンピックとみなされるようになった。なお、パラリンピックという呼称に統一され、オリンピックと同都市開催が定着したのは、1988年に韓国で開催されたソウル大会以降のことである。^(c)

パラリンピックは当初、肢体不自由者向けの大会であったが、現在ではそのほかの障害者も参加できるようになり、世界中の障害者アスリートたちの大きな目標となっている。



ルートヴィヒ＝グットマン




ストーク＝マンデビル病院

問 4 下線部分イギリスから独立を達成し、ガーナの初代大統領となった人物を、次の①～④のうちから一つ選べ。解答番号は 。



エンクルマ(ンクルマ)



アデナウアー



ルイ＝フィリップ




マンサ＝ムーサ

問 5 下線部分韓国^(c)の 20 世紀後半のようすについて述べた文として適切なものを、次の①～④のうちから一つ選べ。解答番号は 。

- ① 聖像禁止令が発布された。
- ② 日韓基本条約が締結された。
- ③ 王安石が、新法を実施した。
- ④ 世宗が、訓民正音を作成した。

7 次の文章と図版に関連して、問1～問2に答えよ。

イギリスの経済学者マルサス(1766～1834年)は、その主著『人口の原理(人口論)』(初版1798年)において、「人口は幾何級数的に増加するのに対し、食糧の増加は算術級数的にしか増加しない」と述べ、**A** ということを示し、不断の人口制限が必要であると主張した。マルサスは、食糧分配の不均衡から **B** が生じると考えていたためである。しかし、現在の観点から見ると、マルサスのこの予言は外れたといっただろう。それは、20世紀初頭に、科学的に窒素化合物を大量に作り出すことができるようになり、農作物に必要な養分を土壌に加えることが可能になったためである。しかし同時に、この窒素を合成する技術は、火薬の原料となる硝酸を大量に作ることを可能にした。そのため、この技術が開発された後の最初の大きな戦争となった第一次世界大戦は未曾有の被害を生むこととなった。
(a)



マルサス(左)と『人口の原理』初版の表紙(右)

問1 **A** に当てはまる文と **B** に当てはまる語句との組合せとして正しいものを、次の①～④のうちから一つ選べ。解答番号は **31** 。

	A	B
①	食糧増産の速度が人口増加の速度を上回る	貧 困
②	食糧増産の速度が人口増加の速度を上回る	地球温暖化
③	人口増加の速度が食糧増産の速度を上回る	貧 困
④	人口増加の速度が食糧増産の速度を上回る	地球温暖化

問 2 下線部分^(a)第一次世界大戦について述べた文として適切なものを、次の①～④のうちから一つ選べ。解答番号は 。

- ① ローマがカルタゴを破り、地中海の覇者となった。
- ② イギリスとフランスが戦い、イギリスは大陸の領地をほとんど喪失した。
- ③ 戦争終結の際の条約によって、ヨーロッパの主権国家体制が確立した。
- ④ 国家が国力を総動員して戦う総力戦となった。

B

