

## 令和3年度 現代社会 (50分)

## 注意事項

- 1 試験開始の合図があるまで、この問題冊子の中を見てはいけない。
- 2 この問題冊子は40ページである。  
試験中に問題冊子の印刷不鮮明、ページの落丁・乱丁及び汚れ等に気付いた場合は、手を挙げて監督者に知らせること。
- 3 試験開始の合図前に、監督者の指示に従って、解答用紙の該当欄に以下の内容をそれぞれ正しく記入し、マークすること。
  - ・①氏名欄  
氏名を記入すること。
  - ・②受験番号、③生年月日、④受験地欄  
受験番号、生年月日を記入し、さらにマーク欄に受験番号(数字)、生年月日(年号・数字)、受験地をマークすること。
- 4 受験番号、生年月日、受験地が正しくマークされていない場合は、採点できないことがある。
- 5 解答は、解答用紙の解答欄にマークすること。例えば、



と表示のある解答番号に対して②と解答する場合は、次の(例)のように解答番号10の解答欄の②にマークすること。

(例)

解答番号	解 答 欄
10	① ② ③ ④

- 6 問題冊子の余白等は適宜利用してよいが、どのページも切り離してはいけない。
- 7 試験終了後、問題冊子は持ち帰ってよい。

## 現代社会

(解答番号  ~ )

**1** 次の会話文を読んで、問1～問3に答えよ。

香 織：今日の授業で先生が、様々な野生生物が絶滅の危機にあると話をしていましたね。

宏 樹：私たちの身近に生息しているメダカも、絶滅の危機にあると聞いて驚きました。

智 之：動物園で人気のジャイアントパンダやアジアゾウなども絶滅の危機にあるらしいですね。

美由紀：どうすれば、絶滅の危機にある野生生物を守っていくことができるのでしょうか。

智 之：こうした絶滅の恐れのある野生動植物とその製品の国際取引は  によって禁止されていると、先生が授業で説明していました。

香 織：その他にも、野生動植物の保護のうえで特に重要な湿地を保護するための  や、各国に生物多様性の維持に努めるよう求める生物多様性条約を定めるなど、国際社会では様々な方策が実施されています。

宏 樹：2010年には生物多様性条約に関する締約国会議が日本で開催され、 が採択されました。日本は、国際社会の中で重要な役割を果たしているのですね。

智 之：そういえば、マツタケも絶滅危惧種に指定されているそうですね。

美由紀：絶滅危惧種については、国際的な自然保護団体である国際自然保護連合(IUCN)が、絶滅の恐れのある野生生物種について調査しレッドリストを作成していて、そのリストにマツタケが登録されています。

宏 樹：<sup>(a)</sup>ウナギも指定されているそうです。

香 織：登録されているのはニホンウナギですね。

智 之：ニホンウナギは、2014年に絶滅のリスクが2番目に高い絶滅危惧ⅠB類に登録され、2020年にはマツタケが、絶滅のリスクが3番目に高い絶滅危惧Ⅱ類に登録されたそうです。

美由紀：絶滅危惧種に指定されると、食べられなくなるのでしょうか。

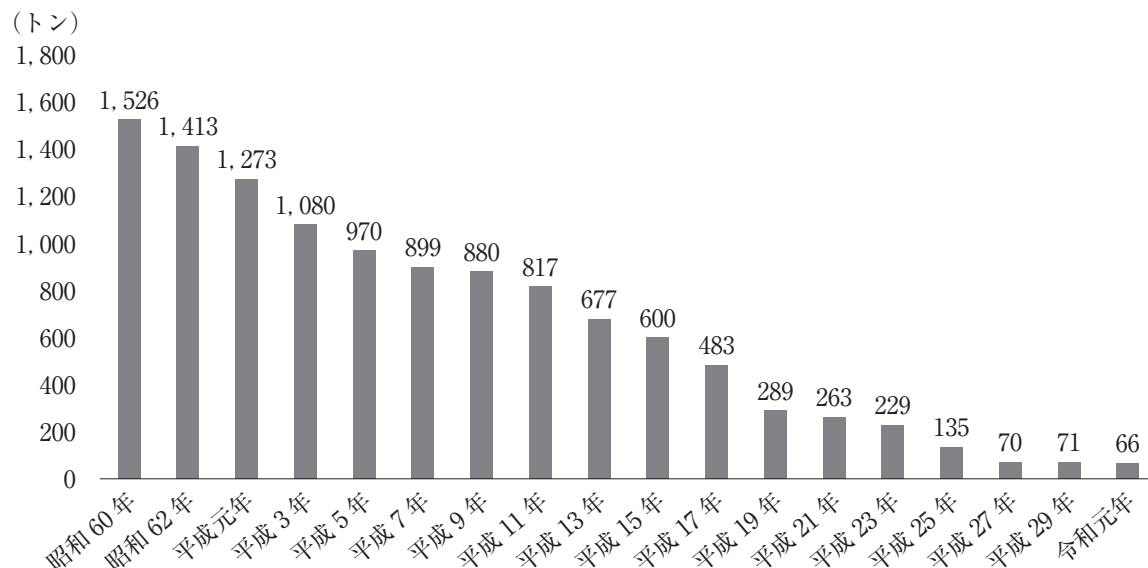
宏 樹：すぐに食べられなくなるようなことはないようだけれど、私たち一人一人が、自分たちの生活をもう一度ふりかえり、<sup>(b)</sup>生物多様性の保全や野生生物種の保護について真剣に考えていく必要があるのではないのでしょうか。

問 1 会話文中の **A** , **B** , **C** にあてはまる語句の組合せとして適切なものを、次の①～④のうちから一つ選べ。解答番号は **1** 。

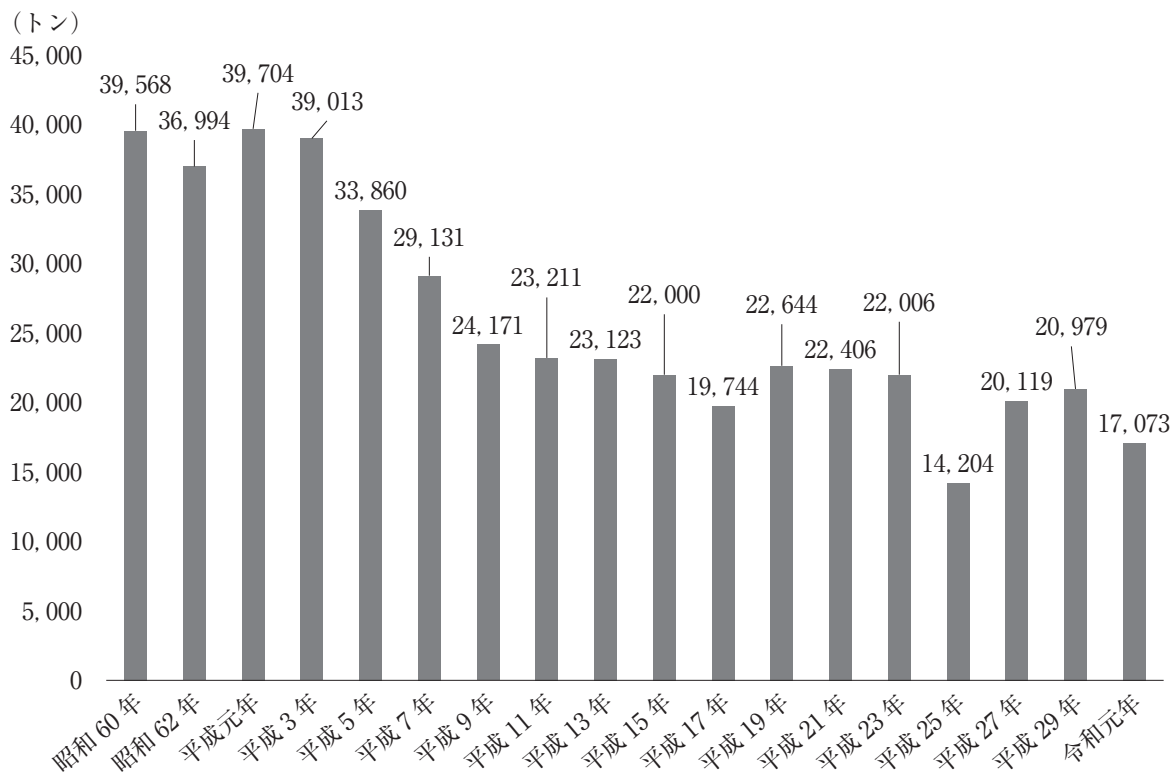
- | <b>A</b>    | <b>B</b> | <b>C</b> |
|-------------|----------|----------|
| ① アムステルダム条約 | バーゼル条約   | 名古屋議定書   |
| ② アムステルダム条約 | ラムサール条約  | 京都議定書    |
| ③ ワシントン条約   | バーゼル条約   | 京都議定書    |
| ④ ワシントン条約   | ラムサール条約  | 名古屋議定書   |

問 2 下線部分<sup>(a)</sup>ウナギに関連して、日本国内のウナギの漁業生産量と養殖生産量、輸入量に関する次のグラフ 1、グラフ 2、グラフ 3 から読み取れる内容として適切なものを、次のページの①～④のうちから一つ選べ。解答番号は 2。

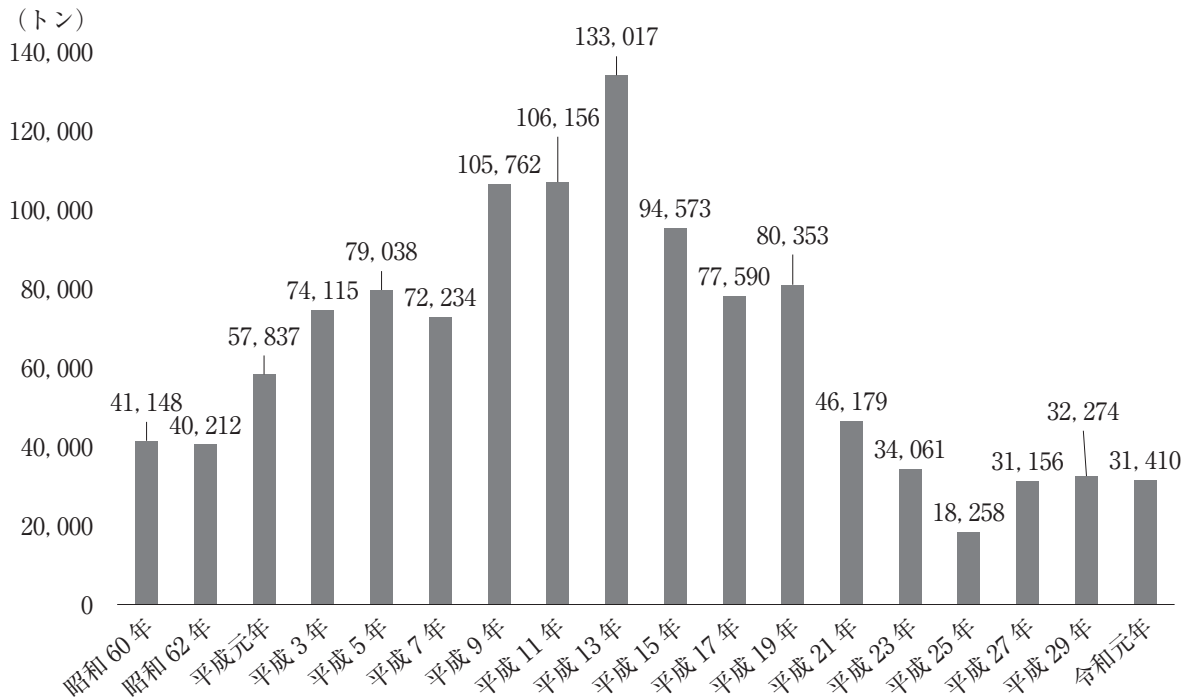
グラフ 1 漁業生産量



グラフ 2 養殖生産量



グラフ3 輸入量

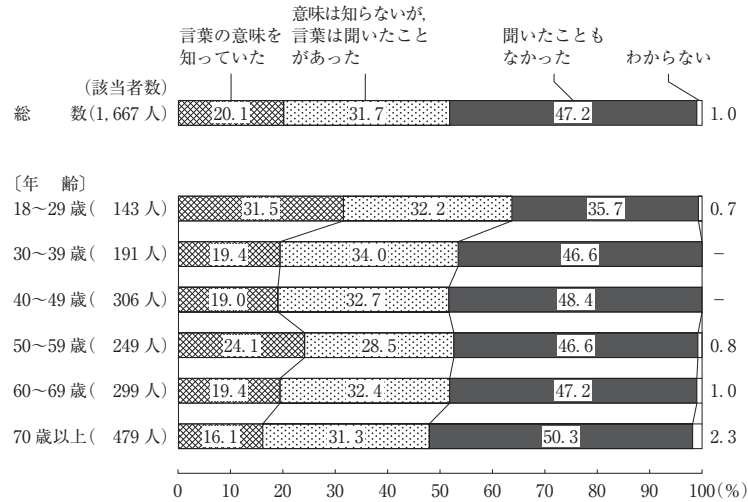


(水産庁ホームページにより作成)

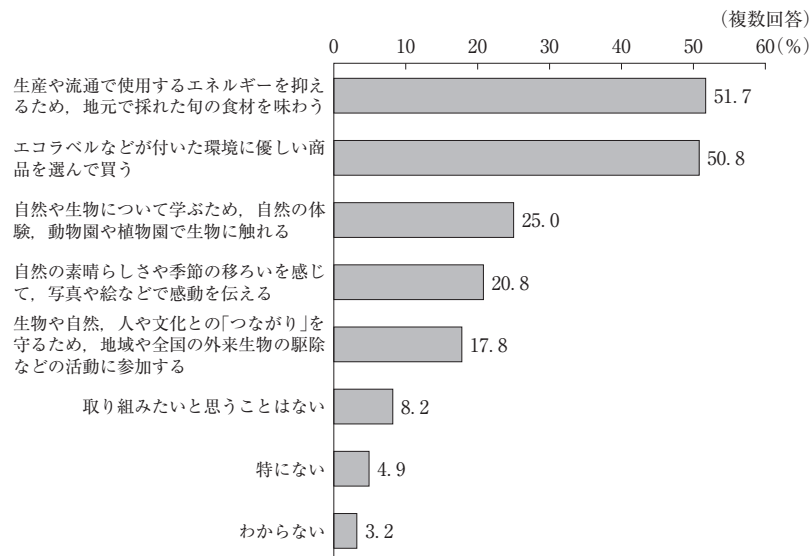
- ① グラフ1の漁業生産量は、昭和60年以降平成27年まで減少が続き、平成29年に僅かに増えたものの、令和元年には66トンまで減少している。グラフ1の漁業生産量とグラフ2の養殖生産量を合わせた値であるウナギの国内生産量が、一番少ないのは平成25年で、二番目に少ないのが令和元年となっている。
- ② グラフ1の漁業生産量、グラフ2の養殖生産量はどちらも、平成元年が最も多くなっている。グラフ1の漁業生産量とグラフ2の養殖生産量を合わせた値であるウナギの国内生産量も、平成元年が最も多くなっている。
- ③ グラフ2の養殖生産量は、平成元年が最も多くなっている。グラフ1の漁業生産量とグラフ2の養殖生産量、グラフ3の輸入量を合わせた値であるウナギの国内供給量も、平成元年が最も多くなっている。
- ④ グラフ3の輸入量は、平成13年が最も多く10万トンを超える値となっている。輸入量が10万トンを超えたのは、平成13年だけである。平成13年の輸入量は、グラフ1の漁業生産量とグラフ2の養殖生産量を合わせた値であるウナギの国内生産量の、10倍以上となっている。

問 3 下線部分<sub>(b)</sub>生物多様性の保全に関連して、次のグラフ 4、グラフ 5 について述べた次のページの 4 人の発言のうち、適切なものの組合せを次のページの①～④のうちから一つ選べ。解答番号は 3。

グラフ 4 生物多様性の言葉の認知度



グラフ 5 生物多様性保全の取組みについて、既に取り組んでいるまたは今後取り組んでみたいと思う取組み



(内閣府「環境に関する世論調査(令和元年 8 月調査)」より)

香 織：グラフ4については、総数をみると、「言葉の意味を知っていた」人は約2割となっており、「聞いたこともなかった」人が5割弱で、「聞いたこともなかった」人の方が、3倍以上高い割合となっている。年齢別にみると、「聞いたこともなかった」人の割合は、18～29歳が最も高く、70歳以上が最も低くなっている。

美由紀：グラフ4については、総数をみると、「言葉の意味を知っていた」人は約2割となっており、「意味は知らないが、言葉を聞いたことがあった」人は約3割となっている。年齢別にみると、「言葉の意味を知っていた」人の割合は、18～29歳が最も高く、70歳以上が最も低くなっている。

宏 樹：グラフ5を見ると、既に取り組んでいるまたは今後取り組んでみたいと思う取組みとして、「生産や流通で使用するエネルギーを抑えるため、地元で採れた旬の食材を味わう」や「エコラベルなどが付いた環境に優しい商品を選んで買う」は、5割以上の人が既に取り組んでいるまたは今後取り組んでみたいと回答している。

智 之：グラフ5を見ると、既に取り組んでいるまたは今後取り組んでみたいと思う取組みとして、「自然や生物について学ぶため、自然の体験、動物園や植物園で生物に触れる」は、5割以上の人が既に取り組んでいるまたは今後取り組んでみたいと回答している。しかし、「取り組みたいと思うことはない」という人も2割弱いる。

- ① 香 織 と 宏 樹
- ② 香 織 と 智 之
- ③ 美由紀 と 宏 樹
- ④ 美由紀 と 智 之

2 次の文章を読んで、問1～問3に答えよ。

2019年9月、Twitter(注1)上に突如「<sup>がき</sup>餓鬼」が出現した。

「丁寧な暮らしをする餓鬼」というユーザー名で、骨と皮だけのやせ細った手足に、ぽっこり突き出たお腹、ぎょろりとした目つきの餓鬼、愛称・ガッキーが、梅干しを干したり、(a)七草がゆを食べて万病予防を願ったりする。ユーザー名の通り、彼の暮らしは丁寧だ。食べ物や住まいを大切にする彼からの学びは多い。それも飢えに苦しんだ経験のある餓鬼ゆえのことだろう。

そもそも「餓鬼」とは、仏教の教えに登場する、生前の悪業の報いで餓鬼道に落ちた亡者のこと。本来餓鬼は食べ物を食べられないが、ガッキーは日々善行を積んでいるので、好きなものを食べられるようだ。

作者の塵芥居士(ちりあくた・こじ)さんは、「ガッキーは『餓鬼草紙(餓鬼道世界を主題とした平安時代末期～鎌倉初期に描かれた日本の絵巻)』に登場する餓鬼をモデルにしています。ちょうど(b)お彼岸シーズンにツイートを始めると、お坊さん方が供養のために真言を引用リツイート(注2)して唱えてくるようになりました。」と話している。



ガッキーは丁寧に暮らしながら、たびたびトレンドに乗った生活をみせる。人気コーヒー店の行列に並んでみたり、ラーメンやスイーツの実物写真を載せることもある。もしかしたら彼は、食べ物に飢えている餓鬼ではなく、現代人が潜在的に持つ(c)自己顕示欲を渴望している餓鬼なのかもしれない。そんな彼の夢は「トモダチガ……ホシイ……」。今後

彼の自己顕示欲が満たされ、真の(d)友達ができるのか。見守りつつ、これからの暮らしぶりを楽しみにしたい。

(注1) Twitter: ツイッター。ユーザーが「ツイート(つぶやき)」と呼ばれる短い記事を書き込み、ほかのユーザーがそれを読んで「いいね」という評価をしたり、返信をすることでコミュニケーションが生まれるインターネット上のサービス。

(注2) 引用リツイート: Twitterにおいて、他者のツイートにコメントを付けて共用する機能のこと。

- ・ORICON NEWS 2019年11月8日掲載「1カ月でフォロワー4万人越えのガッキー? 丁寧に暮らす「餓鬼」の日常」より
- ・朝日新聞 2020年7月5日掲載「『丁寧に暮らしをする餓鬼』塵芥居士さんインタビュー」より 承諾番号22-3155  
※朝日新聞社に無断で転載することを禁じる。
- ・「丁寧に暮らしをする餓鬼 (@gaki\_teinei)」より





問 1 下線部分(a)七草と(b)お彼岸に関連して、次の文章中の **A** , **B** , **C** にあてはまる語句の組合せとして適切なものを、下の①～④のうちから一つ選べ。

解答番号は **4** 。

私たちの暮らしはお正月や七草、五節供ごせつくのような **A** に彩られています。**A** には貴族や武家の儀式からきているものや、節分やお彼岸のように暮らしに深くかかわるものなどがあります。これらを行う日を「**B**」(非日常)と呼び「**C**」(日常)と区別しますが、「**B**」の日を過ごすことで心身に潤いを与えて、明日への活力にしてきましたのです。

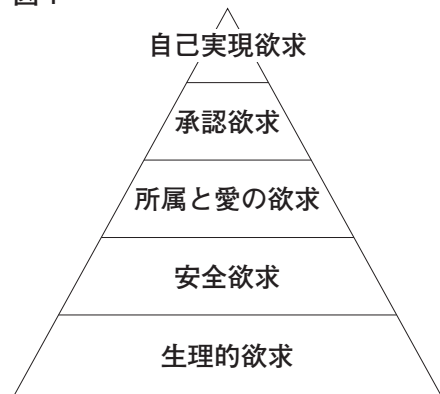
	<b>A</b>	<b>B</b>	<b>C</b>
①	冠婚葬祭	ハレ	ケ
②	冠婚葬祭	ケ	ハレ
③	年中行事	ケ	ハレ
④	年中行事	ハレ	ケ

問 2 下線部分(c)自己顕示欲に関連して、次の文章を読み、マズローの欲求階層説における承認欲求を表現する具体例として適切なものを、下の①～④のうちから一つ選べ。

解答番号は **5** 。

「自己顕示欲」は、「承認欲求」の一種です。承認欲求とは、他者から自分を価値ある存在として認められたいとする欲求です。アメリカの心理学者マズローは、人間は自己実現に向かって成長すると仮定し、成長に伴って変化する人間の基本的欲求を5段階で示しました(図1)。最高位の欲求が自己実現欲求で、その一つ下の4段階目が承認欲求です。承認欲求は、他者から尊敬されたり、名声や注目を得ることで満たされます。それが表面に現れるのが自己顕示欲です。

図 1

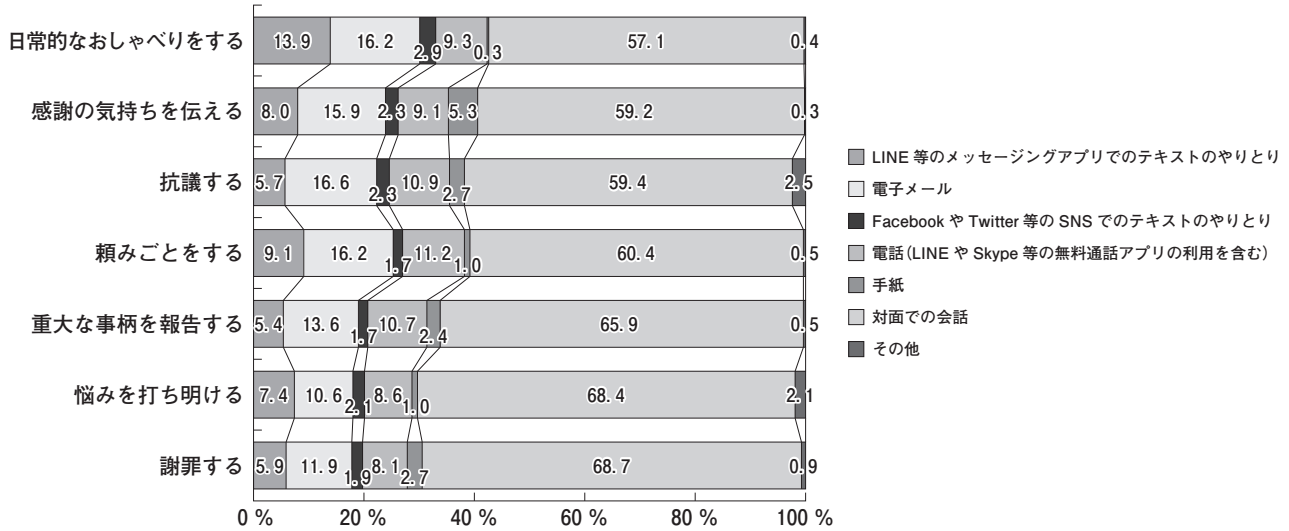


(TRANS. Biz ホームページにより作成)

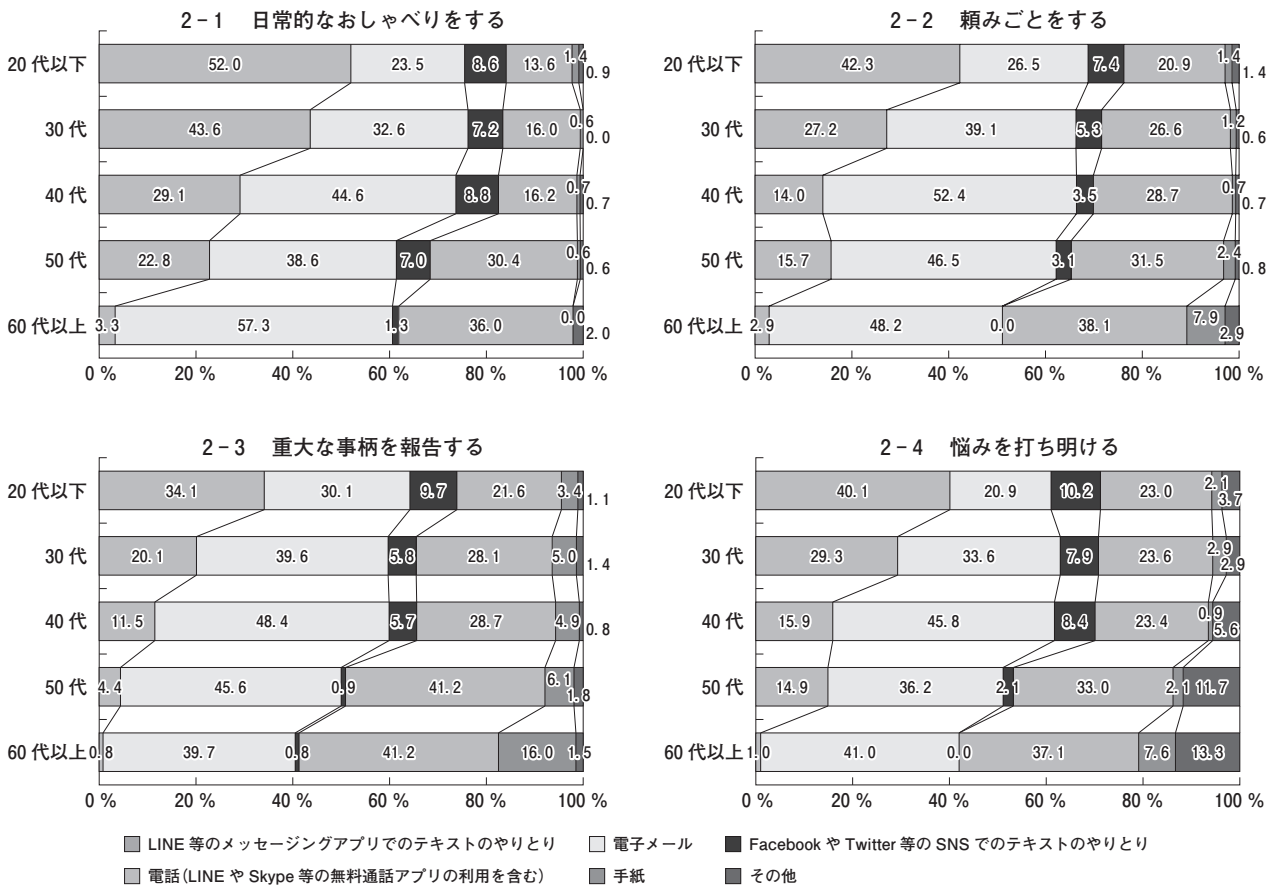
- ① 今日は忙しくて昼食がとれず空腹なので、早く何か食べたい。
- ② Twitter でたくさん「いいね」という評価をもらいたい。
- ③ 好きな人と結婚して、幸せな家庭をつくりたい。
- ④ 旅先で野宿をするのは怖いので、ちゃんとした宿に泊まりたい。

問 3 下線部分<sup>(d)</sup>友達に関連して、次のグラフ 1、グラフ 2 は「身近な友人や知人とのコミュニケーション手段」に関する質問への回答をまとめたものである。これらから読み取れる内容として適切なものを、次のページの①～④のうちから一つ選べ。解答番号は 6。

グラフ 1 身近な友人や知人とのコミュニケーション手段(目的別)



グラフ 2 身近な友人や知人との、対面での会話を除いたコミュニケーション手段(年代別)



(総務省「社会課題解決のための新たな ICT サービス・技術への人々の意識に関する調査研究」(平成 27 年)により作成)

- ① グラフ1を見ると、いずれの場面についても最も多かったコミュニケーション手段は「電子メール」であり、グラフ2を見ると「対面での会話」を除いた場合の「日常のおしゃべりをする」手段も、全年代とも「電子メール」が最も多い。
- ② グラフ1を見ると、いずれの場面についても最も多かったコミュニケーション手段は「電子メール」だが、グラフ2を見ると「対面での会話」を除いた場合の「頼みごとをする」手段は、60代以上では「手紙」が最も多い。
- ③ グラフ1を見ると、いずれの場面についても最も多かったコミュニケーション手段は「対面での会話」だが、グラフ2を見ると「対面での会話」を除いた場合の「重大な事柄を報告する」手段は、全年代とも「電話(LINE や Skype 等の無料通話アプリの利用を含む)」が最も多い。
- ④ グラフ1を見ると、いずれの場面についても最も多かったコミュニケーション手段は「対面での会話」だが、グラフ2を見ると「対面での会話」を除いた場合の「悩みを打ち明ける」手段は、20代以下では「LINE 等のメッセージングアプリでのテキストのやりとり」が最も多い。

3 次の会話文を読んで、問1～問3に答えよ。

駿祐：昨日見た夢に、「現代社会」の授業で学習した17～18世紀に社会契約説を主張して活躍した3人の人たちが出てきて、会話をしていたんだ。目が覚めた後に授業の復習をしながら夢の内容を思い出して、メモに書いてみたんだ。

メモ

**A**：仮に、政府や王といった国家権力がない状態であつたら、本来自由で平等な人々は、自分の欲求を追求しあってぶつかり合い戦争状態になるだろう。そうすると、自分の命や財産の確保も難しくなるだろう。だから政府や王が必要なのだ。その政府や王に、自分の自由や平等といった権利を全面的に譲渡し、その支配に服すべきなのだ。そうすれば、戦争状態の悲惨から逃れられるからだ。

**B**：そうだろうか。私はそのような考えには反対だ。なぜなら、人間は平和に共存できるからだ。人々が国家を必要とするのは、自分の生命・自由・財産の維持を確実にするために、個人力だけでは足りない部分を国家に補ってもらうよう信託する契約をして統治してもらうためだ。国家に信託するということは、<sup>(a)</sup>選挙で自分たちの代表を選び、選ばれた代表者が政府となって自分たちの代わりに国家権力を用いて統治するということだ。

**C**：もし **B** の意見に従えば、人々は選挙の間は自由だが、いったん選挙が終わればその自由が終わるということになる。なぜなら、自分の主権は代表も分割もできないものだからだ。そのため、自分が政治に直接参加し自分たちの政治について決定するという力を行使すべきだ。人々は集合体(社会)に自分の自由や平等といった権利を譲り渡し、そのかわりに集合体の運営に参加する権利を持つのである。

由美：夢に出てきた17～18世紀のこの人たちは、より良い社会をつくるしくみについてそれぞれの考えを主張していたんだね。彼らの考えに表れた、「人間は誰もが生まれつき自由で平等な存在であり、国家はそれを守るための契約のもとに成立している」ということは、21世紀においても社会をつくる基盤となるものだね。

駿祐：そうだね。その考え方は現在の日本にも引き継がれ、<sup>(b)</sup>人種や性別等の違いを超えた普遍的なものになっているね。

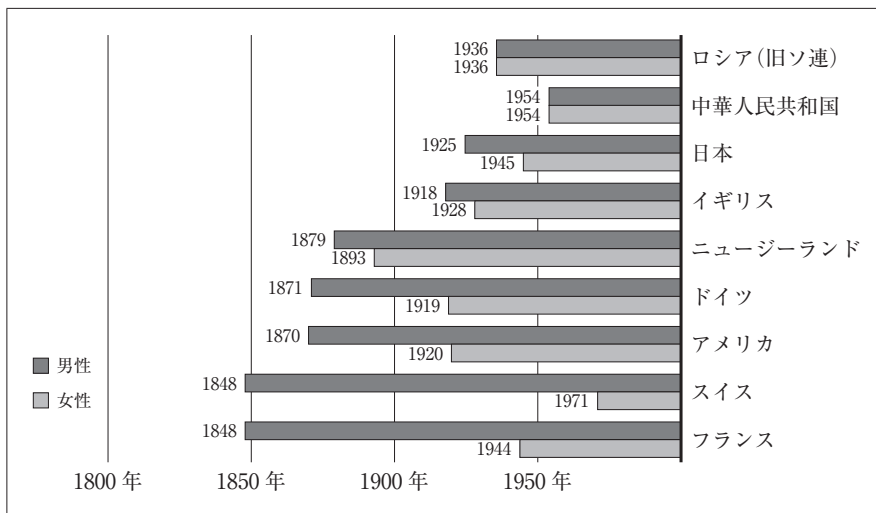
問 1 メモの文中の  ,  ,  にあてはまる人物の組合せとして適切なものを、次の①～④のうちから一つ選べ。解答番号は  。

- |   | <input type="text" value="A"/> | <input type="text" value="B"/> | <input type="text" value="C"/> |
|---|--------------------------------|--------------------------------|--------------------------------|
| ① | ロック                            | ホップズ                           | ルソー                            |
| ② | ホップズ                           | ルソー                            | ロック                            |
| ③ | ルソー                            | ロック                            | ホップズ                           |
| ④ | ホップズ                           | ロック                            | ルソー                            |

問 2 下線部分(a)選挙に関連して、次の会話文を読み、会話文中の **D** , **E** , **F** にあてはまる国名の組合せとして適切なものを、下の①～④のうちから一つ選べ。  
 解答番号は **8** 。

愛花：普通選挙の実現の歴史について調べ、グラフ1にまとめてみました。作成したグラフ1を見てください。普通選挙の実現の時期は国によって様々ですね。

グラフ1 各国の普通選挙の実現の歴史について



颯太：**D** とスイスは男性普通選挙の実現は同年ですが、女性普通選挙の実現は**D**の方が早いです。

真央：**E** は**D**よりも早く市民革命を達成したけれど、男性普通選挙の実現は**D**よりも遅いのですね。また、**E** はドイツよりも1年早く男性普通選挙を実現させたのに、女性普通選挙の実現はドイツよりも1年遅いです。

大地：イギリスはグラフ1中の国々の中でもかなり早い段階で議会制度を整えましたが、普通選挙の実現は男女とも20世紀に入ってからなので決して早くはありませんでした。

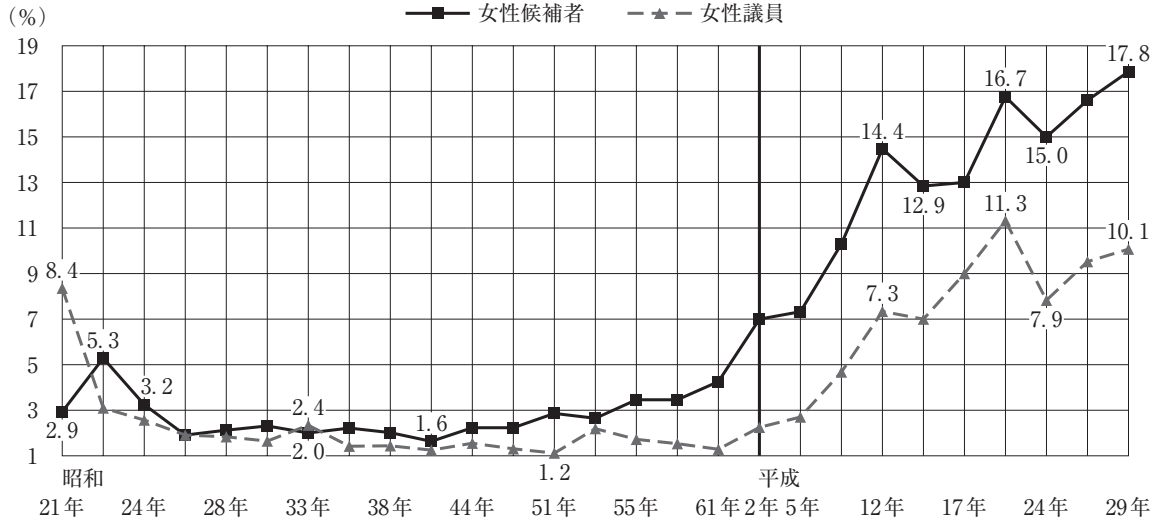
愛花：グラフ1中の国々の中で19世紀中に男女の普通選挙を実現させたのは**F**だけです。

大地：時期は様々ですが、各国が普通選挙実現に向けて歩を進めてきたことがわかりました。次は日本の様子を見てみようと思います。

- |          |          |          |
|----------|----------|----------|
| <b>D</b> | <b>E</b> | <b>F</b> |
| ① アメリカ   | フランス     | ニュージーランド |
| ② アメリカ   | ニュージーランド | フランス     |
| ③ フランス   | ニュージーランド | アメリカ     |
| ④ フランス   | アメリカ     | ニュージーランド |

問 3 下線部分<sup>(b)</sup>人種や性別等の違いを超えた普遍的なものに関連して、次のグラフ 2 から読み取れる内容として適切なものを、下の①～④のうちから一つ選べ。解答番号は 9。

グラフ 2 衆議院議員総選挙における候補者、当選者に占める女性の割合の推移



(注) 女性普通選挙権が実現されて最初の選挙は昭和 21 年の選挙である。  
(総務省「衆議院議員総選挙・最高裁判所裁判官国民審査結果調」により作成)

- ① 女性普通選挙が実現して以来、女性議員の割合は一貫して増加している。
- ② 昭和のときには女性議員の割合は一度も 10 % に達していないが、平成に入ってから、二度 10 % に達した。
- ③ 女性候補者割合は、女性普通選挙が実現して最初の選挙のときが最も高い。
- ④ 前回の総選挙と比べて女性候補者割合が増えたときは、女性議員割合も必ず増えている。





4 次の文章を読んで、問1～問3に答えよ。

現代の社会では、法に基づいて秩序が維持されています。法について分類すると、まず法は **A** と実定法に分けることができます。 **A** とは、人間の理性に基づいた、時代や場所を越えて存在する普遍の法のことです。それに対して実定法とは、人間によってつくられた法のことです。実定法は、文章化されているか否かによって成文法と不文法に分けることができます。また実定法は、国家間の関係を規律する国際法と、国内で効力をもつ国内法に分けることができますが、国内法のうち、国家の基本構造を定めた法が憲法です。

憲法の役割は国家権力を制限することであり、国民の<sup>(a)</sup>基本的人権を守るために、憲法に基づいて政治を行い国家権力の専横を防ぐという考え方を立憲主義といいます。したがって、立憲主義に基づく憲法には、「人権としてどのような権利を保障するのか」ということと、「どのようにして国家権力を抑制するのか」ということが示される必要があり、保障される人権を定めておくことと、国家権力をその機能と組織に応じて分割し配分することを定めておくことが求められます。フランス人権宣言第16条の「 **B** 」という言葉は、このことを表しています。

近代以降、このような立憲主義に基づく憲法が各国で制定されました。一方、近代化が比較的遅かった国では、プロイセン憲法や<sup>(b)</sup>大日本帝国憲法など、君主権が強く、国家権力の制限が徹底されていない憲法もつくられました。これらの憲法には基本的人権は盛り込まれず、君主が国民に対して、恩恵として権利を与えるという形式がとられ、人権保障としては不十分なものでした。基本的人権の保障が確保されるためには、国家権力を制限する立憲主義の考え方はとても重要なものなのです。

問 1 文章中の  ,  にあてはまるものの組合せとして適切なものを, 下の①~④のうちから一つ選べ。解答番号は  。

にあてはまる選択肢

- ア 判例法
- イ 自然法

にあてはまる選択肢

- ウ すべて権力は人民に存し, したがって人民に由来するものである
- エ 権利の保障が確保されず, 権力の分立が規定されないすべての社会は, 憲法をもつものではない

	<input type="text" value="A"/>	<input type="text" value="B"/>
①	ア	ウ
②	ア	エ
③	イ	ウ
④	イ	エ

- 問 2 下線部分<sup>(a)</sup>基本的人権に関連して、次の生徒のレポート中の **C** , **D** , **E** にあてはまる語句の組合せとして適切なものを、下の①～④のうちから一つ選べ。  
 解答番号は **11** 。

## 生徒のレポート

日本国憲法は第 20 条で信教の自由を保障しています。また、「国及びその機関は、宗教教育その他いかなる宗教的活動もしてはならない」として、 **C** の原則を定めています。この原則をめぐっては、これまでに裁判も起こされています。

**C** にかかわる裁判について、最高裁判所は、判断基準として目的効果基準という考え方を採用しました。目的効果基準では、その行為が宗教的な目的をもち、特定の宗教に対する援助や圧迫になるかどうか、憲法の禁じる宗教的活動にあたるか否かの判断基準とされました。

例えば、津地鎮祭<sup>じちんさい</sup>訴訟では、津市が市立体育館の建設にあたって神道式の地鎮祭を行ったことが、宗教的活動にあたるかどうか争われました。この訴訟で、最高裁判所は目的効果基準に基づいて、地鎮祭は一般的に行われている世俗的な慣習であって宗教的意義はなく、また特定の宗教を援助したり圧力を加えたりするものではないので、津市が地鎮祭を行ったことは **D** であると判断しました。

また、愛媛玉串料<sup>たまぐしりょう</sup>訴訟では、愛媛県が靖国神社の例大祭などに「玉串料」などとして公金を支出したことが、宗教的活動にあたるかどうか争われました。最高裁判所は、目的効果基準によって、靖国神社の例大祭などは宗教的意義をもち、県がその儀式に公金を支出することは特定の宗教的儀式とかかわることになるため、 **E** であると判断しました。

- |   | <b>C</b> | <b>D</b> | <b>E</b> |
|---|----------|----------|----------|
| ① | 政教一致     | 合憲       | 違憲       |
| ② | 政教一致     | 違憲       | 合憲       |
| ③ | 政教分離     | 合憲       | 違憲       |
| ④ | 政教分離     | 違憲       | 合憲       |

問 3 下線部分<sup>(b)</sup>大日本帝国憲法に関連して、次の会話文中の **F** , **G** , **H** , **I** にあてはまるものの組合せとして適切なものを、次のページの①～④のうちから一つ選べ。解答番号は **12** 。

会話文

理子：大日本帝国憲法は、外見的立憲主義の憲法だといわれます。外見的立憲主義とはどういうことですか。

先生：外見的立憲主義とは、表向きは立憲主義の形態をとっているが、実際には立憲主義になっていないということです。資料1は大日本帝国憲法の章の構成を示しています。この章立てを見て、大日本帝国憲法は立憲主義の憲法になっているといえるのでしょうか。

伸也：資料1を見ると、第2章が「臣民権利義務」となっており、臣民の権利の規定があります。また、第3章の「帝国議会」、第4章の「国务大臣及枢密顧問」、第5章の「司法」で三権分立が定められており、権力の分立もとられているので立憲主義の憲法になっているとすることができますのではないのでしょうか。

資料1

- 第1章 天皇
- 第2章 臣民権利義務
- 第3章 帝国議会
- 第4章 国务大臣及枢密顧問
- 第5章 司法
- 第6章 会計
- 第7章 補則

先生：そうですね。章の構成は立憲主義の形をとっています。では、もう少し詳しく見ていきましょう。資料2は大日本帝国憲法の条文を抜粋したものです。大日本帝国憲法では、どのような臣民の権利が保障されているのでしょうか。

資料2

- 第1章
  - 第3条 天皇ハ神聖ニシテ<sup>おか</sup>侵スヘカラス
  - 第4条 天皇ハ国ノ元首ニシテ<sup>そうらん</sup>統治権ヲ<sup>こ</sup>総攬シ此ノ憲法ノ条規ニ依リ之ヲ行フ
  - 第5条 天皇ハ帝国議会ノ協賛<sup>もつ</sup>ヲ以テ立法権ヲ行フ
- 第2章
  - 第22条 日本臣民ハ法律ノ範囲内ニ於テ<sup>おい</sup>居住及移転ノ自由ヲ有ス
  - 第23条 日本臣民ハ法律ニ依ルニ<sup>よ</sup>非スシテ<sup>あら</sup>逮捕監禁審問処罰ヲ受クルコトナシ
  - 第25条 日本臣民ハ法律ニ定メタル場合ヲ除ク外<sup>ほか</sup>其ノ<sup>きょだく</sup>許諾ナクシテ住所ニ侵入セラレ及搜索セラルルコトナシ
  - 第26条 日本臣民ハ法律ニ定メタル場合ヲ除ク外<sup>ほか</sup>信書ノ<sup>おか</sup>秘密ヲ侵サルルコトナシ
  - 第27条① 日本臣民ハ其ノ<sup>そ</sup>所有権ヲ侵サルルコトナシ
  - 第28条 日本臣民ハ<sup>また</sup>安寧秩序ヲ妨ケス及臣民タルノ義務ニ<sup>そむ</sup>背カサル限ニ於テ<sup>かぎり</sup>信教ノ<sup>おい</sup>自由ヲ有ス
  - 第29条 日本臣民ハ法律ノ範囲内ニ於テ<sup>おい</sup>言論著作印行集会及結社ノ自由ヲ有ス
- 第3章
  - 第37条 <sup>すべ</sup>凡テ法律ハ帝国議会ノ協賛<sup>ふ</sup>ヲ経ルヲ要ス
- 第4章
  - 第55条① 国务各大臣ハ天皇ヲ<sup>ほひつ</sup>輔弼シ其ノ責ニ任ス
- 第5章
  - 第57条① 司法権ハ天皇ノ名ニ於テ<sup>おい</sup>法律ニ依リ<sup>よ</sup>裁判所<sup>これ</sup>之ヲ行フ

信介：資料2の臣民の権利についての条文を見ると、**F**の規定があることがわかります。

先生：そうですね。しかしこれらの権利は、臣民の権利として法律の範囲内でしか保障されず、人権の保障としては不十分であったといえます。では、権力の分立についてはどうでしょうか。帝国議会についてはどのように規定されていますか。

真美：第5条と第37条にはともに「帝国議会ノ**G**」という文言があります。これはどういうことですか。

先生：**G**とは「同意の意思表示をすること」で、帝国議会は天皇が立法権を行使する上で必要な意思表示をする**G**機関だったのです。次に、行政についてはどうですか。

理子：第55条を見ると、「國務各大臣ハ天皇ヲ**H**シ」とあります。**H**とは、「助言をして助けること」ですね。

先生：そのとおりです。國務各大臣は天皇が政治を行うのを助ける**H**機関でした。司法についてはどうですか。

伸也：司法権にも天皇の影響が見られますね。第57条には、司法権は「天皇ノ名ニ於テ」裁判所が行うと定められています。

信介：第3条を見ると、天皇は「神聖ニシテ侵スヘカラス」と規定されています。また第4条を見ると、天皇は「統治権ヲ総攬シ」となっています。総攬とは「一手に握ること」という意味ですね。これらは、日本国憲法の第4条が、天皇は「**I**のみを行ひ」と規定しているのと対比的であるように思えます。

先生：そうですね。日本国憲法とは異なり、大日本帝国憲法は、構成上は三権分立をとっていましたが、統治権は最終的に天皇に属するものだったのです。

真美：国の政治のあり方を最終的に決める力は天皇が持っていたということですね。大日本帝国憲法は、外見上は立憲主義の形をとっているけれど、実際には人権の保障と権力の分立が不徹底で君主権が強いことから、外見的立憲主義といわれるのですね。

	<b>F</b>	<b>G</b>	<b>H</b>	<b>I</b>
①	自由権	輔弼	協賛	軍の統帥
②	自由権	協賛	輔弼	国事に関する行為
③	自由権と社会権	輔弼	協賛	国事に関する行為
④	自由権と社会権	協賛	輔弼	軍の統帥

5 次の文章を読んで、問1～問5に答えよ。

モノを売ったり買ったりするとき、職業を選ぶとき、お金を稼ぐとき、または<sup>(a)</sup>お金を蓄えるときなど、私たちが経済活動を営む際に何を選択するかは基本的に自由である。資本主義経済は自由を基本とする経済体制であり、私有財産制、利潤追求の自由、契約の自由などがその基本原理とされている。

18世紀後半のイギリスで成立した資本主義経済は、アダム＝スミスによってその特徴が理論的に明らかにされた。彼は人々が経済活動を営む際、それぞれの利己心に基づいて自由な市場で行動すれば、「見えざる手」に導かれるように商品の過不足が調整され、結果的に社会の富が増えると考え、自由放任主義を唱えたのである。

19世紀、産業革命を経た資本主義経済は、フランスやドイツ、アメリカにも広がった。これらの国々では、工業化の急速な進展と生産力の飛躍的な拡大がみられ、<sup>(b)</sup>産業の中心は農業から工業へ、その担い手は農民から資本家・労働者へと転換した。そのような中、資本主義経済のマイナス面がはっきりとあらわれるようになってきた。生産規模の拡大とともに景気変動が激しくなり、その結果深刻な不況がたびたび起こって多くの失業者が発生した。また、少数の大企業が市場を支配する **A** があらわれ、価格調整のしくみが十分に機能しなくなってきた。

20世紀に入ると資本主義経済はさらに拡大したが、景気変動はより激しさを増し、1929年にアメリカで起こった大恐慌はその後各国に波及し、大量の失業者を出した。そこでアメリカの大統領ルーズベルトは、ニューディール政策によって景気回復を試みた。政府が積極的に市場に介入して財政支出を増やすことなどで、有効需要が拡大して景気回復と完全雇用が実現されることを理論で裏付けたのは、イギリスの経済学者ケインズである。このように20世紀には、自由放任主義にかわって政府が市場介入して問題を解決する修正資本主義が成立した。

第二次世界大戦後の資本主義諸国は、裁量的な財政金融政策や<sup>(c)</sup>社会保障支出等によって景気の波をコントロールしながら、高度経済成長を達成した。しかし、1970年代の石油危機によって各国は不況とインフレーションの併存に苦しめられ、またその後の度重なる財政政策の発動や、社会保障支出の増大によって財政赤字が増大する国もあった。アメリカの経済学者フリードマンは、ケインズの理論を批判し、政府による経済への介入は必要最小限にするべきだと主張した。さらに1980年代にはイギリスのサッチャー政権のように、規制緩和や **B**、社会保障支出の削減を通じて国家の役割を縮小する新自由主義が世界的潮流となった。<sup>(d)</sup>市場の役割を重視する新自由主義によって経済活動は活性化されたが、一方で貧富の差の拡大や貧困率の上昇などの弊害をもたらしたと指摘されている。それらの対策を行う政府の役割をどう見直すべきか、市場と政府の関係についての模索が続いている。

問 1 文章中の **A** , **B** にあてはまる語句の組合せとして適切なものを, 次の①~④のうちから一つ選べ。解答番号は **13** 。

- | <b>A</b> | <b>B</b> |
|----------|----------|
| ① 完全競争市場 | 民営化      |
| ② 寡占市場   | 民営化      |
| ③ 完全競争市場 | 国営化      |
| ④ 寡占市場   | 国営化      |



問 2 下線部分(a)お金を蓄えるに関連して、ある生徒が作成した次のレポートを読んで、下の図1、図2中の **C** , **D** , **E** , **F** にあてはまる語句の組合せとして適切なものを、下の①~④のうちから一つ選べ。解答番号は **14**。

レポート

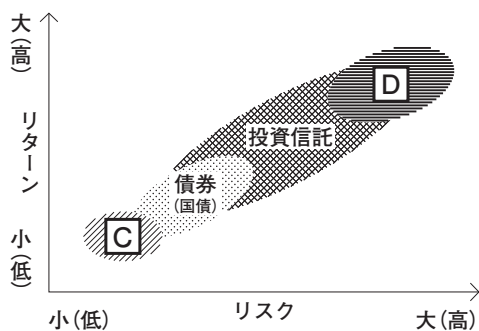
私はこのレポートで、金融資産についてまとめました。

金融資産とは、将来に備えるなどの理由で蓄えているお金などのことをいいます。金融資産には、貯めることを重視した「貯蓄」と増やすことを重視した「投資」があり、「貯蓄」の具体的なものには預金・貯金、「投資」の具体的なものには株式、債券、投資信託などがあります。これらについて調べていたら、次のようなことがわかりました。

まず金融資産のリターンとリスクについてです。リターンとは金融資産が運用されることによって得られる利益のことです。一方、リスクとはリターンがどうなるか不確実であることを指し、「損をする可能性」ともいえます。このリスクとリターンは密接に関わっており、一般に、リスクを小さくしようとすればリターンは小さくなり(ローリスク・ローリターン)、大きなリターンを得ようとすればリスクは大きくなる(ハイリスク・ハイリターン)という関係にあります。図1は、一般的な金融資産のリスクとリターンの関係を示したのですが、この図によれば、株式がハイリスク・ハイリターンで、逆に預金・貯金がローリスク・ローリターンだといえます。

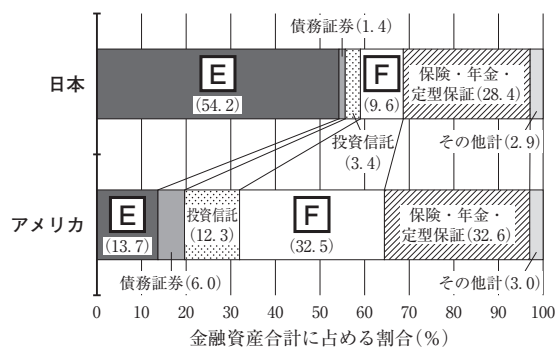
次に、日米の家計の金融資産構成を調べてみました。すると、国によってその割合が違うことがわかりました。図2をみると、日本では現金・預金の割合が半数を超えているのに対して、アメリカでは20%にも満たないことがわかります。一方、アメリカでは株式等の割合が最も高いのに対して、日本では10%であることがわかります。

図1 リスクとリターンの関係



(日本証券業協会「資産運用と証券投資・スタートブック」により作成)

図2 家計の金融資産構成



(注) 「その他計」は、金融資産合計から、「現金・預金」、「債券証券」、「投資信託」、「株式等」、「保険・年金・定型保証」を控除した残差。

(日本銀行調査統計局「資金循環の日米欧比較」2020年8月により作成)

- |          |          |          |          |
|----------|----------|----------|----------|
| <b>C</b> | <b>D</b> | <b>E</b> | <b>F</b> |
| ① 預金・貯金  | 株式       | 現金・預金    | 株式等      |
| ② 預金・貯金  | 株式       | 株式等      | 現金・預金    |
| ③ 株式     | 預金・貯金    | 現金・預金    | 株式等      |
| ④ 株式     | 預金・貯金    | 株式等      | 現金・預金    |



問 3 下線部分<sup>(b)</sup>産業の中心は農業から工業へに関連して、次の表 1、グラフ 1、グラフ 2、グラフ 3 から読み取れる内容として適切なものを、下の①～④のうちから一つ選べ。

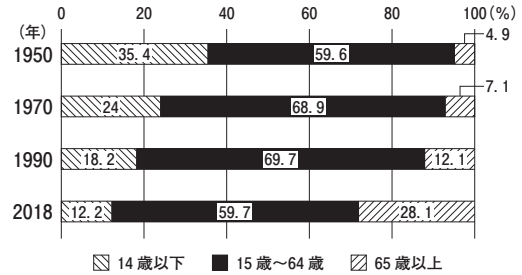
解答番号は 15。

表 1 日本の経済指標 3 項目の推移

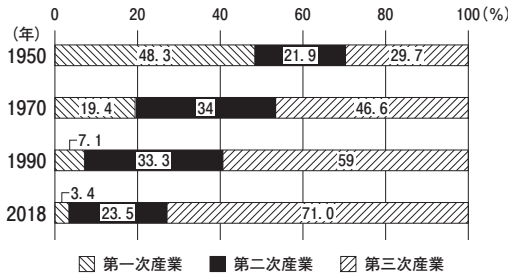
項目	年	1950	1970	1990	2018
国内総生産(兆円)		4.0	73.2	424.5	547.1
総人口(千人)		83,200	103,720	123,611	126,443
就業者人口(千人)		35,720	52,042	62,490	66,640

(注 1) 1950 年と 1970 年の国内総生産は国民総生産を表す。

グラフ 1 年齢別人口構成比

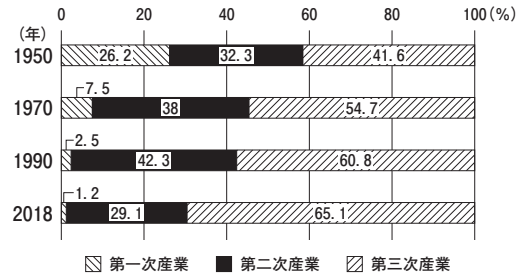


グラフ 2 経済活動別就業者人口の構成比



(注 2) 就業者人口とは、労働力人口のうち就業している者の人口のことである。

グラフ 3 経済活動別国内総生産の構成比



(注 3) 統計上の不突合を含む。

(『読売年鑑』、『日本国勢図会』などにより作成)

- ① 表 1 中の総人口と就業者人口をみると、1950 年から 2018 年まで一貫して増加しており、2018 年の総人口と就業者人口は、いずれも 1950 年の総人口と就業者人口の 2 倍を超えていることがわかる。
- ② 表 1 中の国内総生産をみると、1950 年から 2018 年まで一貫して拡大しており、グラフ 3 における第二次産業の構成比も、1950 年から 2018 年まで一貫して拡大していることがわかる。
- ③ グラフ 1 の 1950 年と 2018 年を比較すると、15 歳～64 歳が全体に占める割合は 59.6 % と 59.7 % であるが、14 歳以下が全体に占める割合は 5 倍以上に拡大し、65 歳以上が全体に占める割合は半分以下に縮小していることがわかる。
- ④ グラフ 2 とグラフ 3 の第一次産業を同じ年どうしで比較してみると、いずれの年においても、グラフ 2 の就業者人口に占める第一次産業の構成比の方が、グラフ 3 の国内総生産に占める第一次産業の構成比よりも大きいことがわかる。

問 4 下線部分(c)社会保障に関連して、次の表 2 は、ある高校生が日本の社会保障制度のうち社会保険と公的扶助についてまとめたものであるが、表 2 中の **G** , **H** , **I** , **J** にあてはまる**選択肢**の組合せとして適切なものを、下の①～④のうちから一つ選べ。解答番号は **16** 。

表 2

社会保険	
将来の危険性に備えてあらかじめ加入し、その条件が発生したときに給付を受ける制度である。原則として国民一般または特定の業種の人たちが強制加入する。現在、次の 5 種類がある。	
<b>G</b>	病気・けが・出産などで必要となる支出や損失分に対して一定の給付を行うもの。
<b>H</b>	高齢になったり障がいをもったりしたときに、その生活を保障するもの。
<b>I</b>	失業したときに、以前の賃金の一定割合を支給することなどを目的とするもの。
介護保険	寝たきりや認知症などで要介護認定や要支援認定を受けた人への介護支援サービスを目的とするもの。
労災保険	労働者の業務上の傷病や死亡に対して保障給付をするもの。

公的扶助	
生活困窮者に対して、一定水準の生活を保障するものである。費用は <b>J</b> で負担する。その中心となるのが、生活保護である。	

選択肢

- ア 雇用保険
- イ 医療保険
- ウ 年金保険
- エ 全額を国と地方公共団体の租税
- オ 満 20 歳から支払っている保険料と国と地方公共団体の租税

	<b>G</b>	<b>H</b>	<b>I</b>	<b>J</b>
①	ア	イ	ウ	エ
②	イ	ウ	ア	エ
③	ア	イ	ウ	オ
④	イ	ウ	ア	オ

問 5 下線部分<sup>(d)</sup>市場の役割に関連して、次のレポート中の **K** , **L** にあてはまるものを下のア、イ、ウ、エから選び、その組合せとして適切なものを、次のページの①～④のうちから一つ選べ。解答番号は **17**。

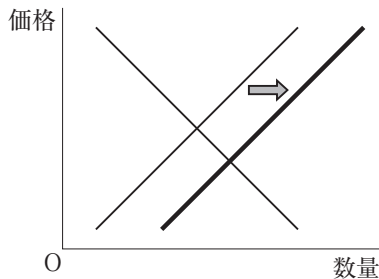
レポート

市場で取引される財やサービスの価格は、需要と供給の数量が一致したところで決定すると考えられています。もし需要と供給が一致しないときは、価格が上昇または下落して両者を一致させます。このしくみを価格の自動調整作用といいます。そしてこのように決定された価格のことを均衡価格といい、それが導き出される過程は需要曲線または供給曲線のシフト(移動)によって表すことができます。

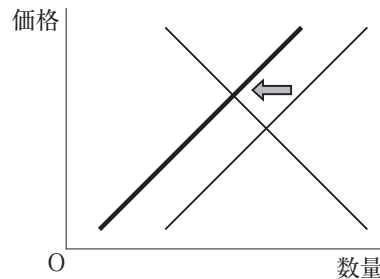
例として、日本の原油輸入先の国が政治情勢不安定になり、原油輸入量が減少して日本における石油関連商品の価格が上昇したときのことを考えてみましょう。これを図示(説明)すると、**K** のパターンとなります。

もう一つの例として、ある野菜が健康に良いという情報が消費者の間に広がり、その野菜の販売量が増加して価格が上昇したときのことを考えてみましょう。これを図示(説明)すると、**L** のパターンになります。

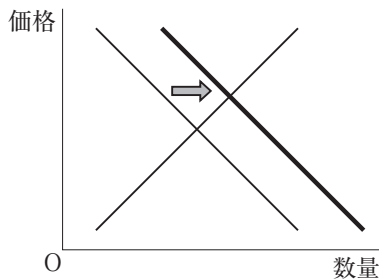
ア 供給曲線が右にシフト(移動)する



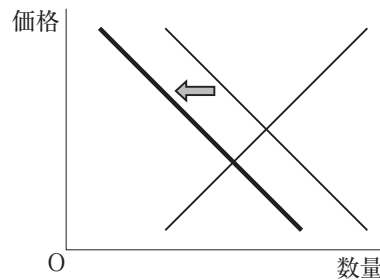
イ 供給曲線が左にシフト(移動)する



ウ 需要曲線が右にシフト(移動)する



エ 需要曲線が左にシフト(移動)する




	K	L
①	ア	ウ
②	ア	エ
③	イ	ウ
④	イ	エ



6 次の生徒が書いたレポート1を読んで、問1～問5に答えよ。

レポート1



(ザイール(現コンゴ)東部の町ブカブにある難民キャンプで、ルワンダ難民の歓迎を受ける緒方貞子国連難民高等弁務官。)

私は上の写真のみて、左側の女性がなぜ多くの人に慕われているのかを調べてみようと思いました。

女性の名前は緒方貞子さんです。彼女は大学で<sup>(a)</sup>政治学を教えていましたが、1975年の国際女性年(国際婦人年)に日本ではじめての女性の国連公使として国際連合に派遣されました。

その後、国連児童基金(UNICEF)、国連人権委員会日本政府代表を経て、日本人としても、女性としてもはじめての国連難民高等弁務官に1991年に就任しました。弁務官は難民の地位に関する条約等に基づいて難民などの保護や諸問題の解決を任務にしています。その弁務官を補佐する組織が国連難民高等弁務官事務所(UNHCR)です。

彼女が弁務官になった年に起きたのが湾岸戦争です。この時に発生したイラク北部のクルド人の避難民は、イラクの隣国トルコに入国を拒否されたため、イラク国内にとどまることになりました。それまでの国連難民高等弁務官事務所は、住んでいた国から国境を越えて逃げた避難民のみを難民として支援していましたが、彼女は国内避難民も支援対象にする決断を下し、クルド人避難民に支援を開始します。

彼女が弁務官を務めた<sup>(b)</sup>1991年から2000年は、東西対立の時代が終了し、<sup>(c)</sup>EUが発足するなど国際社会が大きく変化した時代でした。同時に宗教や民族などを原因とする<sup>(d)</sup>戦争や地域紛争が多発するようになった時代でもありました。

彼女はルワンダの大量虐殺にはじまる第一次コンゴ戦争や、旧ユーゴスラビアのコソボ紛争などの現場を飛び回ることになります。「いろいろ違いがあっても、社会に<sup>(e)</sup>不平等さえなければ人はなんとかやっていくのではないか」と言って問題に取り組んだ緒方さんの姿勢には胸が熱くなりました。

問 1 下線部分<sup>(a)</sup>政治に関連して、次の文章中の **A** , **B** , **C** にあてはまる語句の組合せとして適切なものを、下の①～④のうちから一つ選べ。解答番号は **18** 。

国の政治のあり方を最終的に決める力を **A** という。それを持つ国に対する内政干渉はゆるされない。しかし、国際化が進行する現代の社会では各国が協力して問題に取り組むことが必要である。そのため条約などを結び、それをまもるために自ら国の法律や政治を変えることがある。このようにして国際社会は各国の **A** を尊重しながら国際協調を進めている。

例えば1975年の国際女性年や同年に開かれた第1回世界女性会議などをきっかけに **B** が1979年に国連で採択され、1981年に発効した。この条約は、法的な平等だけでなく、経済的・社会的・文化的にも性による優位性が発生しないようにすることを加盟国に求めている。

この条約に署名した日本は、1985年に男女雇用機会均等法を制定し、女性の社会進出が加速した。日本でも女性の社会進出や権利獲得のための運動は脈々と続けられてきたが、この条約が後押しをしたのである。

しかし国連で決まった条約であっても、条約に参加しない国が存在する場合がある。例えば1996年に採択された、宇宙を含むすべての空間での核爆発の実験を禁止する **C** は、発効の条件とされる核保有国等が条約に署名していないため、現在でも発効していない。

	A	B	C
①	立法権	女子差別撤廃条約	第二次戦略兵器削減条約(START II)
②	立法権	国際労働条約	包括的核実験禁止条約(CTBT)
③	主権	女子差別撤廃条約	包括的核実験禁止条約(CTBT)
④	主権	国際労働条約	第二次戦略兵器削減条約(START II)

問 2 下線部分<sup>(b)</sup>1991年から2000年に関連して、次の年表は生徒がこの間に起こった国際的な出来事をまとめたものである。年表内の出来事についての説明として適切な文章を下の①～④のうちから一つ選べ。解答番号は 19。

年表

1991年	○湾岸戦争 ○南アフリカでアパルトヘイト撤廃 ○ソビエト連邦解体
1992年	○ユーゴスラビア連邦分裂 ○カンボジア PKO に自衛隊派遣
1993年	○EU 発足
1995年	○WTO 設立
1997年	○ <sup>ほんこん</sup> 香港が中国に返還
1999年	○NATO 軍によるユーゴ空爆

- ① ソビエト連邦の解体をきっかけに社会主義の東側諸国で民主化運動が起こり、ドイツではベルリンの壁が破壊され、東西ドイツは一つに統合された。
- ② 南アフリカでアパルトヘイト(人種隔離政策)が撤廃されたことをきっかけにアジア・アフリカ会議が開かれ、南アフリカのネルソン＝マンデラ大統領の唱えた平和十原則が決定された。
- ③ 多角的貿易交渉である GATT ウルグアイ・ラウンドが終結したことを受けて翌年 WTO(世界貿易機関)が設立され、GATT の役割を引き継ぐことになった。
- ④ <sup>ほんこん</sup>香港が中国に返還された。第二次世界大戦まで香港はイギリスの植民地であったが、これを引き継いでいたアメリカから中国に香港が返還され、これをきっかけにアジア通貨危機が起こった。



- 問 3 下線部分(c)EU について述べた次の生徒が書いたレポート 2 中の **D** , **E** , **F** にあてはまる語句の組合せとして適切なものを, 下の①~④のうちから一つ選べ。  
解答番号は **20** 。

## レポート 2

2020 年, イギリスが EU を離脱しました。イギリスは EU 共通通貨の **D** ではなく, ポンドを自国通貨として使用しています。そのため, 中央銀行が国債などの有価証券を売り買いする公開市場操作のような **E** を一国独自で行えます。その一方で EU の巨大な市場に自由に参加できたのです。

しかし EU がすすめる難民や移民の受け入れにより, 人々の仕事がなくなる, 治安が悪化する, などの声がイギリスや他の EU 加盟国の中で大きくなってきました。

このような状況の下, イギリスでは 2016 年に行った **F** で離脱賛成が過半数を上回り, EU 離脱に向けて動き始めました。投票前の予測では, EU 残留派が勝つと思われていましたが, 離脱派のキャンペーンが, EU 残留のメリットを見失わせてしまったのです。

- |   | <b>D</b> | <b>E</b> | <b>F</b> |
|---|----------|----------|----------|
| ① | ユーロ      | 金融政策     | 国民投票     |
| ② | ユーロ      | 財政政策     | 総選挙      |
| ③ | SDR      | 財政政策     | 総選挙      |
| ④ | SDR      | 金融政策     | 国民投票     |

問 4 下線部分<sup>(d)</sup>戦争や地域紛争に関連して、次の生徒が書いたレポート 3 を読んで文章中の **G** , **H** , **I** にあてはまる語句の組合せとして適切なものを、次のページの ①～④のうちから一つ選べ。解答番号は **21** 。

レポート 3

第一次世界大戦後、ドイツの独裁者となったヒトラーは、支配地域の **G** 人の財産を没収し、写真 1 にあるようなゲットーとよばれる狭い地域に押し込め、やがてアウシュヴィッツをはじめとする強制収容所で大量虐殺を行いました。

第二次世界大戦後、**G** 人は中東にイスラエルを建国し、移住を開始します。しかし以前からその地域に住んでいたムスリム(イスラーム教徒)の **H** 人を圧迫したために、周辺のアラブ諸国と四次にわたる中東戦争を引き起こしました。その後、イスラエルは **H** 人が住む自治区を囲むように写真 2 のような壁を建設します。現在でも **H** 側によるテロと、イスラエルによる報復攻撃が続き、双方に子どもを含む多くの死者が出ています。



写真 1  
ゲットーに建設された壁を内側から撮影したもの。

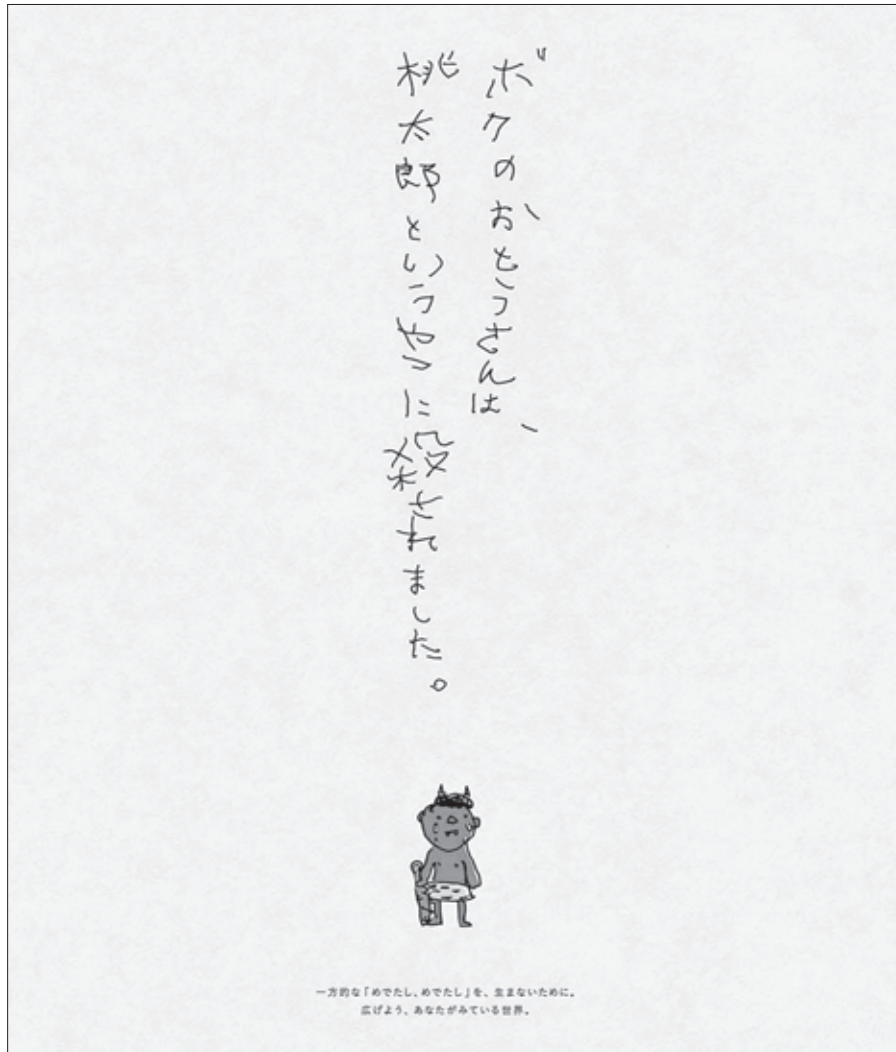


写真 2  
イスラエルが建設した壁を外側から撮影したもの。

私は、この問題を考える時に、桃太郎を題材にした下の新聞広告がヒントになると思いました。桃太郎は日本のおとぎ話の一つで、イヌ・サル・キジと鬼ヶ島まで悪い鬼を退治に行きます。桃太郎は、鬼に勝利し英雄となり、鬼は残酷でひどい人たちにされます。

しかし負けた鬼の側では下の新聞広告のようなことが起こっているかもしれません。

だから私たちは世界の戦争や紛争に関するニュースを見るときに  I  考えてみなければいけないのだと思いました。



(日本新聞協会 新聞広告クリエイティブコンテスト「めでたし、めでたし？」より)

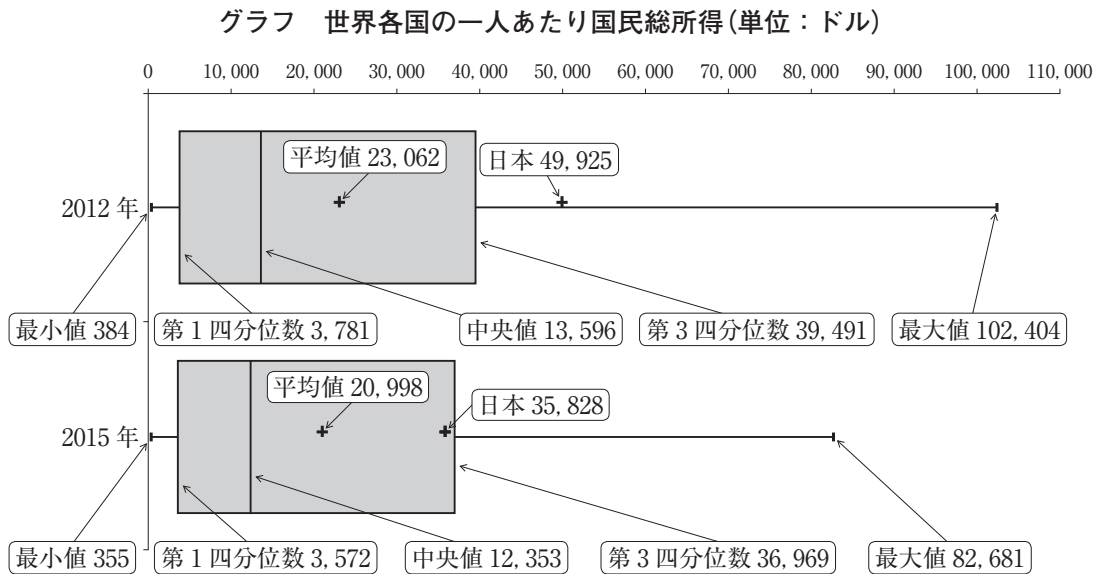
G

H

I

- |         |       |            |
|---------|-------|------------|
| ① ユダヤ   | パレスチナ | 両者の立場に立って  |
| ② ユダヤ   | チェチェン | いずれか一方の立場で |
| ③ チェチェン | ユダヤ   | 両者の立場に立って  |
| ④ チェチェン | パレスチナ | いずれか一方の立場で |

問 5 下線部分(e)不平等に関連して、次のグラフとグラフの説明について述べた文章として適切なものを、下の①～④のうちから一つ選べ。解答番号は 22。



(注) 79の国や地域のドル建て一人あたり国民総所得から作成した。

(統計局ホームページにより作成)

**グラフの説明**

上の太線で描かれた図は「箱ひげ図」とよばれる**グラフ**である。一人あたり国民総所得の最も低い国から(最小値、左側の直線の端)から最も高い国(最大値、右側の直線の端)までを順番にならべ、それをデータの中央値(第2四分位数、長方形の中ほど)で2分割し、さらにそれぞれのブロックを第1四分位数、第3四分位数でそれぞれ2分割(長方形のそれぞれ左側と右側)したものである。これらの各数値の間に挟まれる国の数はほぼ同数であり、この**グラフ**では一人あたり国民総所得の分布が把握できる。

なお**グラフ**内に平均値を示したが、所得の高い国の影響を受けて中央値より大きくなっている。また各年の日本の数値も示してある。

- ① **グラフ**の2012年・2015年のいずれの年も一人当たり国民総所得の平均値は、常に最小値の100倍以上の値になっている。また一人あたり国民総所得の第1四分位数は3,000ドルを超えていない。
- ② **グラフ**の2012年と2015年を比較すると、一人当たり国民総所得の最大値と第3四分位数の差は拡大したことがわかる。そのため、中央値と平均値も2015年の方が増加している。
- ③ 日本の一人当たり国民総所得は、**グラフ**の2012年・2015年のいずれの年も第3四分位数を超えている。またいずれの年も最大値は日本の数値の2倍を超えている。
- ④ **グラフ**の2012年と2015年のいずれの年も日本の一人当たり国民総所得は、中央値の2倍以上である。またいずれの年も最小値は平均値よりも二桁小さい。

7 次の会話文を読んで、問1～問2に答えよ。

先生：“100年後の皆さんへ”という手紙を書くという課題が出ていました。書けましたか。

まり：はい。私の書いた手紙を紹介してもいいですか。

先生：どのような手紙を書いたのかが楽しみです。発表してください。

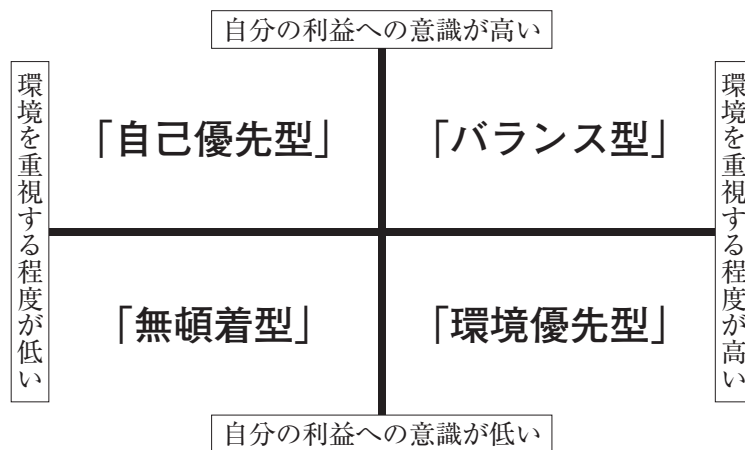
まり：はい。私の書いた手紙を読み上げます。

## 手紙

### 100年後の皆さんへ

100年後の皆さん、はじめまして。私は2021年の世界にいます。100年後の社会はどのようになっているのでしょうか。自動車が自動運転になったり、もしかしたら空を飛ぶバスや電車が行ったり来たりしているのでしょうか。よりよい社会になっているところもあるだろうし、問題点も出てきていそうですね。私がいる2021年の社会には様々な課題があります。その中でも注目すべきは環境の問題だと思っています。2019年度に消費者意識基本調査が行われました。この調査から「環境を重視する程度が高い」人と「環境を重視する程度が低い」人に分けることができました。また一方で「自分の利益への意識が高い」人と「自分の利益への意識が低い」人に分けることができました。次の資料1は、それらの結果を消費者の意識と行動の面から4類型に分けたものです。

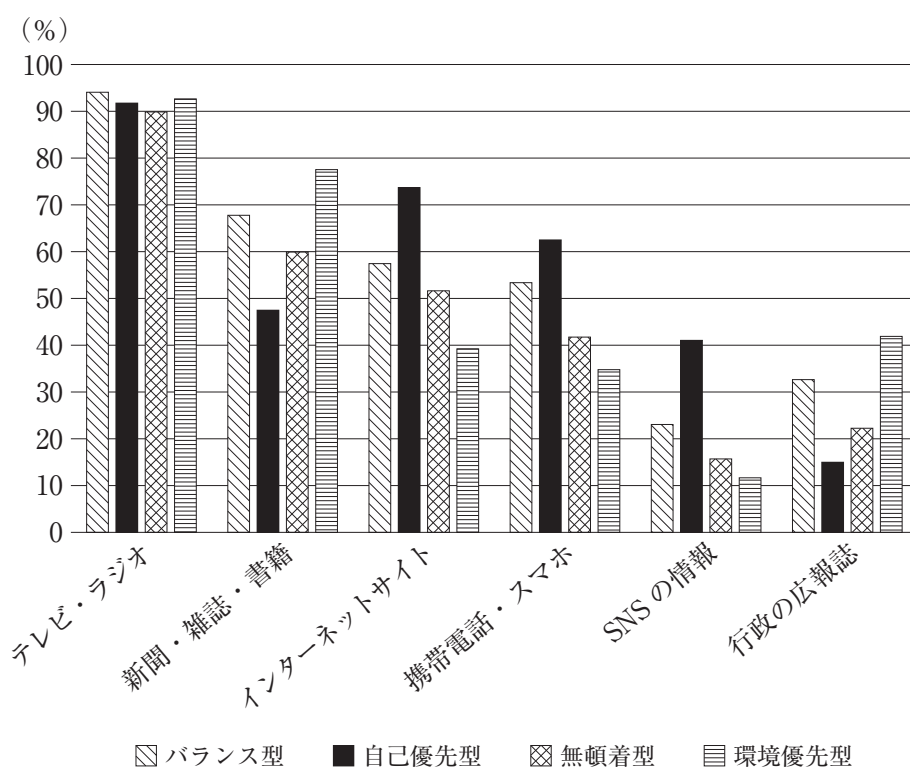
### 資料1 消費者の4類型とその特徴



(消費者庁資料により作成)

この4類型の人々はそれぞれどのような日常生活を送っているのでしょうか。次のページの資料2は「メディアへの接触状況」です。4類型の人々がそれぞれどのようなメディアに接触しているのかをデータをもとにして示しています。

資料2 メディアへの接触状況



(消費者庁資料により作成)

この資料2から、すべての類型の人が共通してテレビ・ラジオと高い比率で接触していることが読み取れます。このことから、持続可能な社会を形成するためには、テレビやラジオを通してメッセージを発信することが有効だと思いました。その上で、さらに効果的なメッセージの発信方法があるのではないかと考えました。それは持続可能な社会を形成するためには「環境を重視する程度が低い」人に向けての対策がより必要になると思うからです。そこで資料1の「環境を重視する程度が低い」かつ「自分の利益への意識が高い」という「**A**型」の人々の傾向を資料2で見ると、「テレビ・ラジオ」をのぞくと**B**ことが読み取れます。「環境を重視する程度が低い」人のうち「自分の利益への意識が低い」「**C**型」の人々は、資料2では「テレビ・ラジオ」への接触状況が最も高く、**D**が高くなっています。このように消費者意識を細かく分析することで、どのようなメディアで持続可能な社会の形成に向けたメッセージを発信していけばよいのかというヒントを得られると思うのです。(a)人の意識は複雑ですが、適切にデータを分析して発信方法を工夫するといった小さな積み重ねを100年続けることで、よりよい社会が形成されていくと思うのです。2121年に生きている皆さんがこの手紙を見てどのような感想をもつのか興味があります。

先生：環境問題と消費者とを関連させた資料をもとに興味深い手紙をつくりましたね。100年後の未来がよりよい社会となるにはどのような工夫が必要なのかを考えていきましょう。



問 1 手紙の中にある **A** , **B** , **C** , **D** にあてはまるものの組合せとして適切なものを, 下の①~④のうちから一つ選べ。解答番号は **23** 。

**A** にあてはまる選択肢

- ア 自己優先
- イ バランス

**B** にあてはまる選択肢

- ウ 「インターネットサイト」, 「携帯電話・スマホ」, 「SNS の情報」に接触する割合が他の2つよりも高い
- エ 「新聞・雑誌・書籍」や「行政の広報誌」といった紙による情報に接触する割合が他の3つよりも高い

**C** にあてはまる選択肢

- オ 環境優先
- カ 無頓着

**D** にあてはまる選択肢

- キ 二番目は「新聞・雑誌・書籍」, 三番目は「インターネットサイト」に接触する割合
- ク 二番目は「インターネットサイト」, 三番目は「携帯電話・スマホ」に接触する割合

	<b>A</b>	<b>B</b>	<b>C</b>	<b>D</b>
①	ア	ウ	カ	キ
②	イ	ウ	オ	キ
③	ア	エ	オ	ク
④	イ	エ	カ	ク

問 2 下線部分<sup>(a)</sup>人の意識に関連して, 次の生徒の会話文中の **E** , **F** にあてはまるものの組合せとして適切なものを, 40 ページの①~④のうちから一つ選べ。  
解答番号は **24** 。

#### 生徒の会話文

吾郎：地球環境問題が話題になっていましたね。

直美：とても大切な問題なのですが, なかなか解決しませんね。

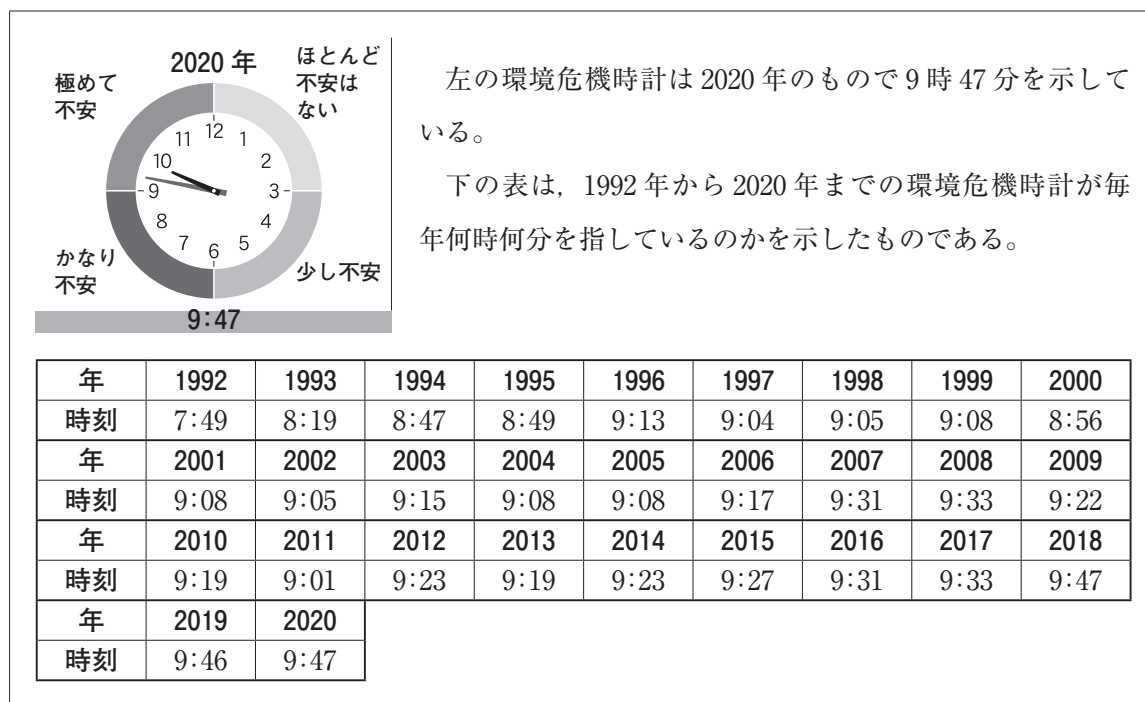
弘司：日常生活で危機感を持ち続けることが難しいということが原因の一つだと思うのですが。

照子：私は次の授業で発表するのですが、扱うテーマが地球環境問題に関する危機感なんです。

吾郎：危機感をどのように扱うのですか？

照子：次の資料3を見てください。これは「環境危機時計」といわれているものです。

資料3 世界の政府関係者や研究者による環境危機時計



(出典：公益財団法人旭硝子財団)

直美：何を表しているのですか？

照子：地球環境の悪化による人類存続への危機感を時計の針で表したもののなのです。世界の政府関係者や研究者にアンケートに答えてもらった結果です。具体的には危機感の程度を0時01分から12時の範囲で答えてもらったものです。

弘司：どのように読み取るのですか。

照子：0時01分から3時が「ほとんど不安はない」、3時01分から6時が「少し不安」、6時01分から9時が「かなり不安」、9時01分から12時が「極めて不安」を表しているのです。

吾郎：12時に近づくほど危機感が強いということなのですね。

直美：世界の政府関係者や研究者の回答は「**E**」という結果でした。

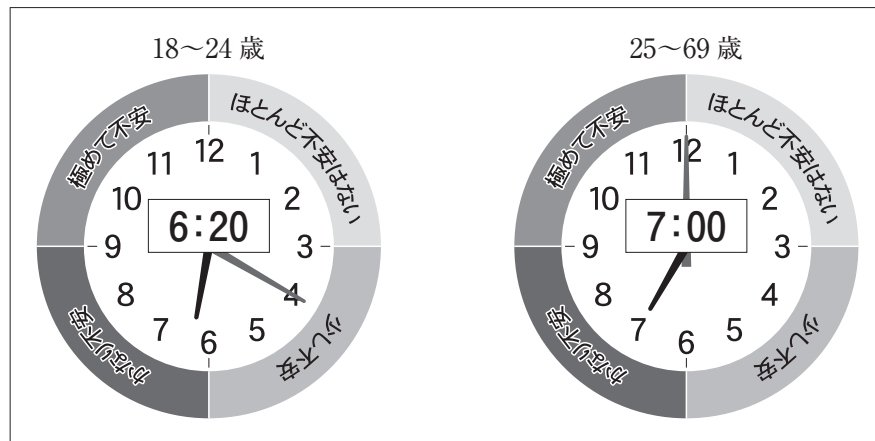
照子：そうなのです。このような中、2020年にはじめて日本国内の一般生活者が感じている環境危機時計の時刻も調べたのです。

弘司：どのような結果になったのですか？

照子：結果は資料4のとおりです。



資料4 日本国内の一般生活者による環境危機時計(2020年)



(出典:公益財団法人旭硝子財団)

吾郎:資料3と資料4を見ると2020年では **F** ということが読み取れますね。

直美:どうしてこのような違いがでてくるのかを調べてみたいですね。この違いを調べる中で持続可能な社会を形成するためのヒントが見つかりそうな気がします。

**E** にあてはまる選択肢

- ケ 2001年から2020年まで連続で極めて不安
- コ 1992年から2020年まで連続で極めて不安

**F** にあてはまる選択肢

- サ 世界の政府関係者や研究者よりも日本国内の一般生活者の方が危機意識が低い。さらに一般生活者の中でも25~69歳世代よりも18~24歳世代の方が危機意識が低い
- シ 世界の政府関係者や研究者よりも日本国内の一般生活者の方が危機意識が高い。さらに一般生活者の中でも25~69歳世代よりも18~24歳世代の方が危機意識が高い

- |   | <b>E</b> | <b>F</b> |
|---|----------|----------|
| ① | ケ        | サ        |
| ② | ケ        | シ        |
| ③ | コ        | サ        |
| ④ | コ        | シ        |

