

## 令和3年度 日本史A・日本史B (50分)

## 注 意 事 項

- 1 試験開始の合図があるまで、この問題冊子の中を見てはいけない。
- 2 出題科目、ページ及び選択方法は、下表のとおりである。

| 出題科目 | ページ   | 選 択 方 法                   |
|------|-------|---------------------------|
| 日本史A | 1～14  | 左の2科目のうちから1科目を選択し、解答しなさい。 |
| 日本史B | 15～32 |                           |

- 3 試験中に問題冊子の印刷不鮮明、ページの落丁・乱丁及び汚れ等に気付いた場合は、手を挙げて監督者に知らせること。
- 4 試験開始の合図前に、監督者の指示に従って、解答用紙の該当欄に以下の内容をそれぞれ正しく記入し、マークすること。

## ・①氏名欄

氏名を記入すること。

## ・②受験番号、③生年月日、④受験地欄

受験番号、生年月日を記入し、さらにマーク欄に受験番号(数字)、生年月日(年号・数字)、受験地をマークすること。

## ・⑤解答科目欄

解答する科目名を○で囲み、さらにその下のマーク欄にマークすること。

- 5 受験番号、生年月日、受験地が正しくマークされていない場合は、採点できないことがある。
- 6 解答科目が正しくマークされていない場合は採点できないので、必ず正しくマークすること。
- 7 解答は、解答用紙の解答欄にマークすること。例えば、解答番号が 10 である問いに対して②と解答する場合は、次の(例)のように解答番号10の解答欄の②にマークすること。

(例)

| 解答番号 | 解 答 欄 |   |   |   |
|------|-------|---|---|---|
| 10   | ①     | ② | ③ | ④ |

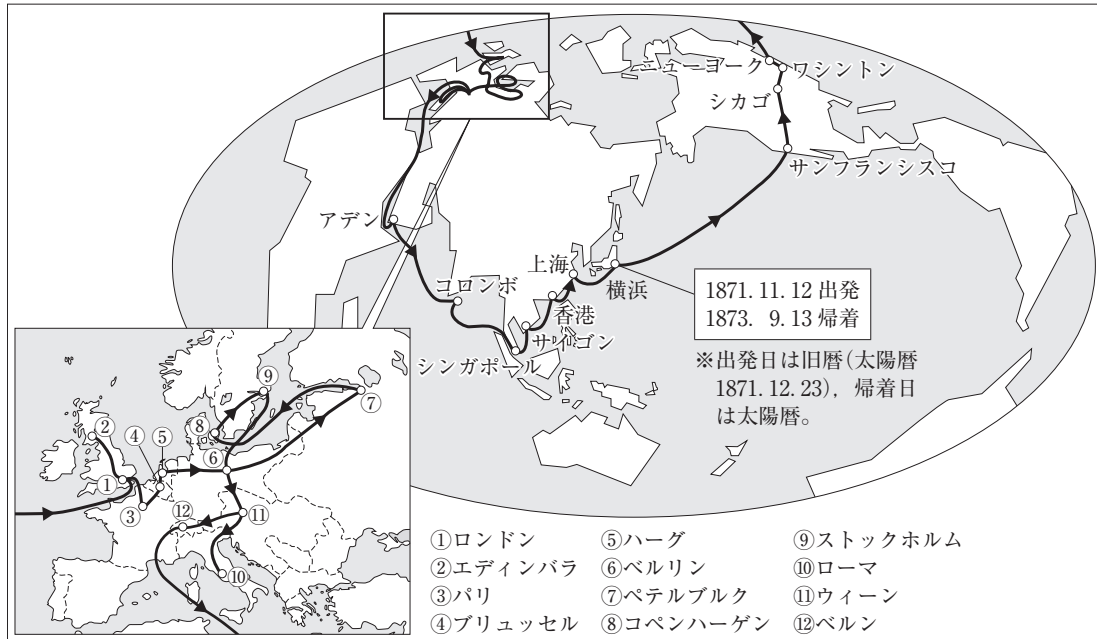
- 8 問題冊子の余白等は適宜利用してよいが、どのページも切り離してはいけない。
- 9 試験終了後、問題冊子は持ち帰ってよい。

日 本 史 A

( 解答番号  ~  )

1 次の地図と会話文について、後にある問1～問4に答えよ。

地 図



会話文

先生：地図は、1871年に明治政府が欧米に派遣した、 を全権大使とする使節団の航路です。この地図からどのようなことが読み取れますか。

生徒：使節団が、欧米諸国を中心に訪問していることが読み取れます。訪問した地域が偏っているのはなぜなのでしょう。

先生：19世紀半ば、幕府は日米修好通商条約<sup>(a)</sup>などを結び、欧米諸国と安政の五カ国条約を結びました。これらの条約の中には、日本にとって不利にはたらく項目もあったため、使節団は、それらの項目の改正に向けた予備交渉等を目的として、欧米諸国を中心に訪問したのです。また、使節団と行動をともにした人びとの中には、新島襄や津田梅子<sup>(b)</sup>がおり、その後の日本の教育に大きな影響を与えました。

生徒：そうなのですか。使節団が帰国した後、明治政府はどのような動きを見せたのですか。

先生：参議の大久保利通らは、使節団に同行した経験をふまえ、国内制度の整備が優先であると主張しました。一方で、使節団が渡航している間に日本国内の政治を主導した参議の西郷隆盛らは、 としました。このように政府首脳の見解が対立する中で、西郷らは政府を去ることになりました。

問 1   に当てはまる語句の組合せとして正しいものを、次の①～④のうちから一つ選べ。解答番号は  。

- ① A—伊藤博文      B—朝鮮を武力で開国させよう
- ② A—伊藤博文      B—官有物を安く払い下げよう
- ③ A—岩倉具視      B—朝鮮を武力で開国させよう
- ④ A—岩倉具視      B—官有物を安く払い下げよう

問 2 地図と会話文から読み取れることを説明した文として最も適切なものを、次の①～④のうちから一つ選べ。解答番号は  。

- ① 使節団は、アフリカ大陸の南端を経由せず、ヨーロッパからアジアへ移動した。
- ② 使節団は、陸路のみでヨーロッパからアジアへ移動した。
- ③ 使節団は、条約改正を達成した。
- ④ 使節団は、欧米諸国の植民地を訪問することはなかった。

問 3 下線部分<sup>(a)</sup>日米修好通商条約について述べた文として最も適切なものを、次の①～④のうちから一つ選べ。解答番号は  。

- ① アメリカ合衆国は、中国における日本の特殊権益を認めた。
- ② 日本は、アメリカ合衆国に対して領事裁判権を認めた。
- ③ 日本は、アメリカ合衆国に対して下田と箱館の2港を開いた。
- ④ アメリカ合衆国は、自国の軍隊を日本に駐留させることができるようになった。

問 4 下線部分<sup>(b)</sup>新島襄や津田梅子について述べた文の正誤の組合せとして適切なものを、下の①～④のうちから一つ選べ。解答番号は  。

- ア 新島襄は、帰国した後に同志社英学校を設立した。
- イ 津田梅子は、帰国した後に女子英学塾を設立した。

- ① ア—正      イ—正                      ② ア—正      イ—誤
- ③ ア—誤      イ—正                      ④ ア—誤      イ—誤

2 次の年表と会話文について、後にある問1～問4に答えよ。

年 表

| 年    | できごと                                  |
|------|---------------------------------------|
| 1840 | 現在の埼玉県深谷市に豪農の長男として生まれる。               |
| 1867 | 江戸幕府の一員として <u>ヨーロッパ</u> を視察する。<br>(a) |
| 1869 | 明治政府に仕える。                             |
| 1873 | 第一国立銀行を開業する。                          |
| 1882 | <u>大阪紡績会社</u> を創立する。<br>(b)           |
| 1890 | 貴族院議員に任じられる。                          |
| 1931 | 死去。                                   |

会話文

先生：年表は、渋沢栄一の生涯をまとめたものです。

生徒：渋沢が開業した第一国立銀行は、現在のみずほ銀行につながる銀行ですよね。ところで、渋沢の肖像画が、新しく1万円札として使用されますよね。年表で示された時期には、どのような通貨の単位が使用されていたのですか。

先生：渋沢が明治政府に仕えた後に **A** が制定され、通貨の単位は「円・銭・厘」に統一されました。これらの単位は、現在の通貨の単位につながっています。

生徒：そうだったのですね。年表の **X** の時期に銀行や株式会社の制度が始まり、その後の日本の経済に影響を与えていくような気がします。

先生：その通りです。これらの制度によって、企業をおこすのに必要なまとまった資金を調達しやすくなりました。

生徒：このような動きを背景に経済活動が活発になる中で、日本では **B** が19世紀末に始まりました。

問 1   に当てはまる語句の組合せとして正しいものを、次の①～④のうちから一つ選べ。解答番号は  。

- ① A—新貨条例                      B—公定価格を無視した闇市  
 ② A—新貨条例                      B—軽工業の部門で産業革命  
 ③ A—国立銀行条例                B—公定価格を無視した闇市  
 ④ A—国立銀行条例                B—軽工業の部門で産業革命

問 2 年表中  の時期におこったできごとについて述べた次のア～ウを、年代の古い順に正しく並べたものを、下の①～④のうちから一つ選べ。解答番号は  。

- ア 元老院や大審院が設けられ、徐々に立憲政治を実現する方針が示された。  
 イ 公議世論の尊重をはじめとする、新政府の政治方針が示された。  
 ウ 第1回衆議院議員総選挙が行われた。

- ① ア→イ→ウ            ② ア→ウ→イ            ③ イ→ア→ウ            ④ イ→ウ→ア

問 3 下線部分<sup>(a)</sup>ヨーロッパに関連して、年表中  の時期の日本とヨーロッパの文化について述べた文の正誤の組合せとして適切なものを、下の①～④のうちから一つ選べ。解答番号は  。

- ア 西ヨーロッパでは、浮世絵など日本の美術工芸品への関心が高まった。  
 イ 日本では、人文科学や社会科学の分野で、マルクス主義思想の影響が大きくなった。

- ① ア—正    イ—正                      ② ア—正    イ—誤  
 ③ ア—誤    イ—正                      ④ ア—誤    イ—誤

問 4 下線部分<sup>(b)</sup>大阪紡績会社に関連して、1880～90年代の日本の経済や産業について述べた文として適切でないものを、次の①～④のうちから一つ選べ。解答番号は  。

- ① 日本郵船会社を中心となり、海外への定期航路が開設された。  
 ② 華族の公債を資金にして、日本鉄道会社が設立された。  
 ③ 兌換紙幣が発行され、銀本位制が確立された。  
 ④ 軍需の拡大を背景に、日産をはじめとする新興財閥が急速に成長した。

3 次のⅠ～Ⅲについて、後にある問1～問8に答えよ。

Ⅰ

19世紀末から20世紀初頭にかけて、東アジアでは国際的な緊張が高まった。ロシアは、1891年に  鉄道を着工し、日清戦争後には旅順・大連を租借地として獲得した。また、ロシアは  事件に際して中国東北部を占領した。

問1   に当てはまる語句の組合せとして正しいものを、次の①～④のうちから一つ選べ。解答番号は  。

- ① A—南満州 B—義和団      ② A—南満州 B—張作霖爆殺  
③ A—シベリア B—義和団      ④ A—シベリア B—張作霖爆殺

問2 Ⅰで示された国際情勢をふまえ、20世紀初頭に日本が締結した国際的な取り決めの名称として最も適切なものを、次の①～④のうちから一つ選べ。解答番号は  。

- ① 日露和親条約      ② 日清修好条規      ③ パリ不戦条約      ④ 日英同盟協約

## II

行財政改革に取り組んでいた第2次西園寺内閣は、陸軍による2個師団の増設の要求を閣議で否決した。その後陸軍は、陸軍大臣を辞任させてその後任を出さなかったことから、内閣は総辞職に追い込まれたが、政党の勢力が伸張したことを背景にこの要求はいったん見送られた。第一次世界大戦が始まると、第2次大隈重信内閣のもとで2個師団は増設された。

問3 下線部分陸軍は、陸軍大臣を辞任させてその後任を出さなかったことから、内閣は総辞職に追い込まれたに関連して、この状況をもたらした背景にあると考えられる法令または制度の名称として最も適切なものを、次の①～④のうちから一つ選べ。解答番号は 11。

- |         |                            |
|---------|----------------------------|
| ① 治安維持法 | ② 軍部大臣現役武官制                |
| ③ 文官任用令 | ④ <small>ごんぼりつ</small> 讒謗律 |

問4 下線部分政党の勢力が伸張したことを示す当時のできごとについて述べた文として最も適切なものを、次の①～④のうちから一つ選べ。解答番号は 12。

- ① 立憲国民党と立憲政友会が「閥族打破・憲政擁護」をとなえ、内閣の打倒をめざした。
- ② 憲政会などの護憲三派が衆議院議員総選挙で勝利し、連立内閣を組織した。
- ③ 自由党と進歩党が合同して憲政党を結成し、政府が提出した地租増徴案を否決した。
- ④ 社会大衆党を先頭に諸政党が次々に新体制運動に参加し、大政翼賛会が発足した。

Ⅲ

表

|  |
|--|
| 第一次世界大戦が始まった。  |
| 五・四運動がおこった。  |
| 関東大震災がおこった。-----   |
| (a) <span style="border: 1px solid black; padding: 2px;">X</span> <span style="font-size: 2em;">↑</span> |
| 満州事変が始まった。-----  |

資料



問 5 下線部分<sup>(a)</sup>関東大震災による混乱の中でおこったできごとについて述べた文の正誤の組合せとして最も適切なものを、下の①～④のうちから一つ選べ。解答番号は 13。

- ア 住民が組織した自警団などにより、朝鮮人や中国人が殺害された。  
 イ 社会主義者や労働運動家が、軍人や警察官により殺害される事件がおこった。

- ① アー正 イー正                      ② アー正 イー誤  
 ③ アー誤 イー正                      ④ アー誤 イー誤

問 6 資料は、表中のある時期の社会のようすを風刺したものである。資料が風刺した時期に最も近い時期におこったできごとについて述べた文として最も適切なものを、次の①～④のうちから一つ選べ。解答番号は 14。

- ① デフレ政策の影響で農村の不況が深まり、自由民権運動が激化した。  
 ② 綿糸の生産額が増加し、綿糸の輸出量が輸入量をはじめて上回った。  
 ③ 産業が飛躍的な発展をとげ、生産額は工業が農業を上回った。  
 ④ 第四次中東戦争の影響を受けて、石油製品の価格が大きく上昇した。



問 7 表中 **X** の時期における日本の経済に関するできごととその時期の日本のようすの組合せとして正しいものを、下の①～④のうちから一つ選べ。解答番号は **15**。

- |        |   |                            |
|--------|---|----------------------------|
| できごと   | ア | 国立銀行が不換紙幣を増発した。            |
|        | イ | 金輸出解禁(金解禁)が実施された。          |
| 日本のようす | ウ | 激しいインフレーションがおき、政府の財政が悪化した。 |
|        | エ | 企業では人員整理が行われ、多くの失業者が出た。    |

- ① アーウ                      ② アーエ                      ③ イーウ                      ④ イーエ

問 8 表中の時期における日本の学問について述べた文として最も適切なものを、次の①～④のうちから一つ選べ。解答番号は **16**。

- ① 中江兆民が、人はみな自由と権利をもつという考え方を広めた。
- ② 野口英世が、アフリカで流行した黄熱病について研究した。
- ③ 美濃部達吉の天皇機関説が、政府が発した国体明徴声明によって否認された。
- ④ 理論物理学者の湯川秀樹が、日本人ではじめてノーベル賞を受賞した。

4 柳条湖事件に関する次の資料1・2(意識してある)を読み、後にある問1～問4に答えよ。

資料1 1931年9月19日 <sup>はやしきゅうじろう</sup>林久治郎奉天総領事の幣原喜重郎外務大臣への報告

第630号(至急極秘)参謀本部<sup>たてかわ</sup>建川部長は18日午後1時の列車にて当地に入ったとの報告があった。この件を軍は秘密にしているが、真実であると思われる。また、満鉄木村理事の内報によれば、中国側に破壊されたと伝えられる鉄道の修理のため、満鉄より線路保修作業員を派遣したが、軍は現場に近寄らせないとのことであり、今回の事件は全く軍部の計画的行動によりおきたものと想像される。

資料2 リットン調査団が国際連盟に提出した報告書

9月18日午後10時より10時30分の間に鉄道線路上もしくはその付近において爆発があったことは疑いが無いが、鉄道の損傷はもしあったとしても、長春からの南行列車の定刻到着を妨げなかったものであり、それだけでは軍事行動を正当とするには十分ではない。同夜の日本軍の軍事行動は合法なる自衛の措置と認めることはできない。

「政府」および公共事務に関しては、たとえ各部局の名義上の長官は満州在住の中国人であるといえども、主たる政治的および行政的権力は日本人の官吏および顧問の掌中にある。…(中略)…私は「満州国政府」は地方の中国人により日本の手先とみなされており、中国の人びとに支持されていないとの結論に到達した。

問1 柳条湖事件がおきた場所とその当時の日本の首相の組合せとして正しいものを、下の①～④のうちから一つ選べ。解答番号は 17。

場 所



首 相

- ウ 近衛文麿
- エ 若槻礼次郎

- ① アーウ      ② アーエ      ③ イーウ      ④ イーエ

問 2 資料 1 から読み取れる、当時の林奉天総領事の事件に対する見方と、彼がそう考えた根拠の組合せとして適切なものを、下の①～④のうちから一つ選べ。解答番号は 18。

見 方

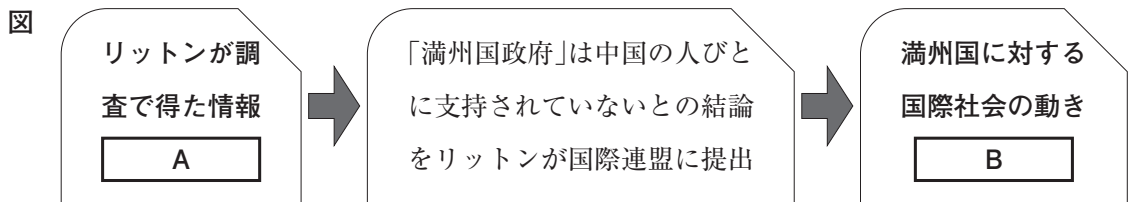
- ア 事件は、軍部の計画的行動によるものである。
- イ 事件は、中国側の破壊によるものである。

根 拠

- ウ 軍は、満鉄が派遣した作業員が破壊された鉄道の修理をすることを拒んでいるから。
- エ 軍から参謀本部の建川部長が現地に移動したと報告があったから。

- ① アーウ                      ② アーエ                      ③ イーウ                      ④ イーエ

問 3 下線部分中国の人びとに支持されていないとの結論に関連して、次の図はリットンが柳条湖事件に関する調査を行った後の流れを示したものである。図の A B に当てはまる文の組合せとして適切なものを、下の①～④のうちから一つ選べ。解答番号は 19。



- A ア 「満州国政府」の各部局長官は日本人である。
- イ 「満州国政府」の主たる権力は日本人が握っている。
- B ウ 満州国承認に向けた動きが広まった。
- エ 満州国を承認できないという声が強まった。

- ① アーウ                      ② アーエ                      ③ イーウ                      ④ イーエ

問 4 柳条湖事件後の日本のできごとについて述べた次のア～ウを年代の古い順に正しく並べたものを、下の①～④のうちから一つ選べ。解答番号は 20。

- ア 日独伊三国同盟が結ばれた。
- イ 国家総動員法が成立した。
- ウ アメリカ合衆国に対して宣戦布告した。

- ① ア→イ→ウ                      ② イ→ア→ウ                      ③ ウ→ア→イ                      ④ ウ→イ→ア

5 次の文章を読み、後にある問1～問4に答えよ。

1930年代以降、政府が軍拡を進めたこともあり、産業の **A** 化が進行した。軍需の優先は民需を圧迫し、特に太平洋戦争下の人びとの生活に大きな影響を与えた。

降伏後の日本を占領したGHQは当初経済機構の民主化をめざし、 **B** などの政策を進めたが、1948年ごろにアメリカ合衆国の占領政策が変化したことを受け、日本でも本格的な経済復興へのあゆみが始まった。戦後の改革の影響もあり、人びとの生活や価値観はしだいに<sup>(a)</sup>変容していった。<sup>(b)</sup><sup>(c)</sup>

問1 **A** **B** に当てはまる語句の組合せとして適切なものを、次の①～④のうちから一つ選べ。解答番号は **21** 。

- ① A—空洞                      B—不在地主の土地を強制的に買い上げ、自作農を増やす
- ② A—空洞                      B—重要産業について、カルテルを促進して国際競争力を強める
- ③ A—重化学工業              B—不在地主の土地を強制的に買い上げ、自作農を増やす
- ④ A—重化学工業              B—重要産業について、カルテルを促進して国際競争力を強める

問2 下線部分<sup>(a)</sup>太平洋戦争下の人びとの生活について述べた文の正誤の組合せとして適切なものを、下の①～④のうちから一つ選べ。解答番号は **22** 。

ア 「欲しがりません勝つまでは」などの標語のもと、生活物資の消費が切りつめられた。  
 イ 生糸の輸出が増えて品不足になり、物価が高騰したため、経済や人びとの生活は混乱した。

- ① ア—正      イ—正                      ② ア—正      イ—誤
- ③ ア—誤      イ—正                      ④ ア—誤      イ—誤

問3 下線部分<sup>(b)</sup>戦後の改革について述べた文として適切でないものを、次の①～④のうちから一つ選べ。解答番号は **23** 。

- ① 労働組合法が制定され、労働者の団結権・団体交渉権・争議権が保障された。
- ② 義務教育の期間が9年となり、民主主義を実現するための教育がめざされるようになった。
- ③ 地方自治法が制定され、地方公共団体の首長は住民の選挙により選ばれるようになった。
- ④ 衆議院議員選挙法が改正され、25歳以上の男子に選挙権が与えられた。

問 4 下線部分<sup>(c)</sup>人びとの生活や価値観はしだいに変容していったに関連して、次の表1・2から読み取れることとその背景の組合せとして最も適切なものを、下の①～④のうちから一つ選べ。解答番号は 24。

表1 男性の年齢階級別労働力率(注)の推移 (単位：%)

| 年齢階級  | 1960年 | 1970年 | 1980年 | 1990年 | 2000年 | 2010年 |
|-------|-------|-------|-------|-------|-------|-------|
| 15～19 | 51.6  | 36.6  | 20.3  | 19.9  | 17.4  | 15.0  |
| 20～24 | 87.9  | 83.6  | 74.7  | 75.4  | 70.2  | 65.6  |
| 25～29 | 96.9  | 98.2  | 97.6  | 96.7  | 92.1  | 86.1  |
| 30～34 | 97.8  | 98.6  | 98.6  | 98.1  | 94.5  | 89.3  |
| 35～39 | 97.7  | 98.5  | 98.7  | 98.1  | 95.5  | 90.5  |
| 40～44 | 97.7  | 98.3  | 98.4  | 98.1  | 95.9  | 90.7  |
| 45～49 | 97.1  | 98.1  | 98.0  | 97.9  | 95.5  | 91.5  |

表2 女性の年齢階級別労働力率(注)の推移 (単位：%)

| 年齢階級  | 1960年 | 1970年 | 1980年 | 1990年 | 2000年 | 2010年 |
|-------|-------|-------|-------|-------|-------|-------|
| 15～19 | 49.7  | 35.9  | 18.8  | 17.4  | 15.4  | 14.9  |
| 20～24 | 69.4  | 70.8  | 71.1  | 75.5  | 70.5  | 66.0  |
| 25～29 | 50.1  | 44.9  | 49.4  | 61.2  | 69.6  | 72.4  |
| 30～34 | 51.3  | 47.1  | 46.5  | 50.7  | 57.0  | 64.7  |
| 35～39 | 55.1  | 56.3  | 55.5  | 59.4  | 60.0  | 64.0  |
| 40～44 | 56.7  | 63.6  | 61.8  | 66.7  | 68.2  | 68.4  |
| 45～49 | 56.8  | 64.7  | 62.3  | 68.3  | 70.3  | 72.2  |

(注) 年齢階級ごとの人口の総数に占める、労働力人口(就業者数と完全失業者数の合計)の割合

#### 読み取れること

- ア 1960年以降の15～19歳の労働力率は、男女ともに一貫して低下している。
- イ 1960年以降の30～34歳の労働力率は、男女ともに一貫して上昇している。

#### 背景

- ウ 高度経済成長を機に、高等学校や大学への進学率が上昇した。
- エ 男女雇用機会均等法が制定され、女性の就業率が上昇した。

- ① アーウ                      ② アーエ                      ③ イーウ                      ④ イーエ

6 次のレポートを読み、後にある問1～問4に答えよ。

レポート

経済に興味をもった私は、近現代の財政や金融に関する政府の動向について、年代の古い順に並べて次の表にまとめました。

表

| 近現代の財政や金融に関する政府の動向  |   |
|---|---|
| 政府は、廃藩置県を経て諸藩の債務を引き継いだ。(甲)                                      |   |
| イギリスなどで外債を募集し、 <input type="text" value="A"/> との戦争に必要な費用が調達された。 | <div style="display: flex; align-items: center; justify-content: center;"> <div style="border: 1px solid black; padding: 2px 5px; margin-right: 5px;">X</div> <div style="border-left: 1px dashed black; border-right: 1px dashed black; height: 100px; margin: 0 5px;"></div> <div style="border-top: 1px dashed black; border-bottom: 1px dashed black; width: 100%;"></div> </div> |
| 政府は、預金の払戻しや手形の決済を3週間猶予する命令を発した。(乙)                              |   |
| GHQの <input type="text" value="B"/> 統治のもとで、預金の引き出しをとめ、新円を発行した。  |   |
| 政府が出資する国鉄(日本国有 <u>鉄道</u> )の事業として、東海道新幹線が開業した。                   |   |
| 政府開発援助(ODA)の供与額が、アメリカ合衆国を抜いて世界第1位になった。                          |   |

私は、表中の下線部分鉄道に着目して、次の問いを立てました。

問い 政治の動向は、鉄道の整備にどのような影響を与えたのだろうか。

問1   に当てはまる語句の組合せとして正しいものを、次の①～④のうちから一つ選べ。解答番号は  。

- |         |      |         |      |
|---------|------|---------|------|
| ① A—清   | B—直接 | ② A—清   | B—間接 |
| ③ A—ロシア | B—直接 | ④ A—ロシア | B—間接 |

問 2 表中の時期の日本と外国との関わりについて述べた次のア～ウを年代の古い順に正しく並べたものを、下の①～④のうちから一つ選べ。解答番号は 26。

- ア 日本政府は、イギリスで、海軍の補助艦の保有量の制限を取り決める条約に調印した。  
 イ 日本政府は、天津条約を結び、日清両国軍の朝鮮半島からの撤兵などを取り決めた。  
 ウ 日本政府は、為替市場に介入しドル高を是正することについて、アメリカ合衆国などと合意した。

- ① イ→ア→ウ      ② イ→ウ→ア      ③ ウ→ア→イ      ④ ウ→イ→ア

問 3 表中甲・乙について述べた文の組合せとして正しいものを、下の①～④のうちから一つ選べ。解答番号は 27。

- ア 甲が行われた背景には、中央集権体制を確立しようとする政府のねらいがあった。  
 イ 甲が行われたのち、知藩事が地方の政治を担うことになった。  
 ウ 乙の政策のねらいは、欧米先進国の技術革新の成果を取り入れて企業の設備投資を刺激することであった。  
 エ 乙の政策とともに行われた、日本銀行からの非常貸出しによって、恐慌が鎮静化した。

- ① アーウ      ② アーエ      ③ イーウ      ④ イーエ

問 4 レポート中の問いについて考察するために、表中 X の時期を対象とした調査を行った。このような調査について説明した文の正誤の組合せとして最も適切なものを、下の①～④のうちから一つ選べ。解答番号は 28。

- ア 国鉄が民営化された後、JRグループの収支がどのように変化したかについて調査する。  
 イ 鉄道国有法が制定された後、国鉄の営業キロ数がどれだけ増加したかについて調査する。

- ① アー正    イー正                      ② アー正    イー誤  
 ③ アー誤    イー正                      ④ アー誤    イー誤

(これで日本史Aの問題は終わりです。)

## 日本史 B

(解答番号  ~ )**1** 古代・中世の奴隷に関して述べた次の I・II について、後にある問 1～問 8 に答えよ。

I

日本における奴隷の起源は明らかではないが、次の資料 1 で示したように、古代の中国の史書には「倭」の奴隷についての記述がある。

資料 1 (意識してある)

魏の皇帝が倭の女王に使わした手紙は、「帯方郡の長官があなたの派遣した使いを連れてくるとともに、あなたの献上した男の奴隷 4 人、女の奴隷 6 人、木綿の布 2 匹 4 丈を持ってきた。…(中略)…今あなたを親魏倭王とし、金印を授ける。…(中略)…」というものだった。

ヤマト政権の形成がすすむ中で、各地の豪族たちは私有民である  のほか、家に隷属する奴隷を所有していた。ヤマト政権はこのような人びとを把握しようとした。例えば、中大兄皇子は  翌年に九州に水城を築いたり、西日本に朝鮮式山城を築いたりするとともに、私有民や隷属民の確認を豪族ごとに行っている。

8 世紀初頭に大宝律令が定められると、人びとは良民と賤民にわけられた。賤民には、官有の陵戸・官戸・公奴婢りょうこ、私有の家人・私奴婢くぬひの五種類があり、陵戸以外は奴隷であった。資料 2 は賤民に関する律令の規定の一部である。

資料 2 (意識してある)

- 官戸・公奴婢の口分田は、良民と同じ広さとする。家人・私奴婢の口分田は、良民の 3 分の 1 の広さとする。
- 陵戸・官戸・家人・公奴婢・私奴婢は、皆同じ身分同士で婚姻すること。
- 調・庸・雑徭が免除される者は、皇親、八位以上の官人、…(中略)…家人、奴婢とする。
- 公奴婢のうち、66 歳以上及び障がいを持った者、戸を為すことを認められた者は、いずれも官戸とすること。また、76 歳となった場合は、良民の身分となることとする。
- 奴婢を売却するときは、本籍地の郡司に申請して保証人をたてて売却証文を作成し、代金を受け取ること。

資料 2 からは、 など、賤民がさまざまな制限や差別的な待遇を受けていたことが分かる。その後、律令にもとづく政治がいきづまる中で、良民が自らの身分を奴



婢や家人と偽ることがあった。資料2の内容から推測すると、これは  ためであったと考えられる。

また、戦争で捕らえられ奴隷となることもあった。資料3はそのことを示す例である。

資料3 (意識してある)

大宰府からの使者が朝廷に到来した。刀伊国の賊徒らが船50余艘で壱岐島を襲い、国司を殺害して島民たちを捕らえた。刀伊は次に筑前国怡土郡に襲来してきたということだ。

問1   に当てはまる語句の組合せとして最も適切なものを、次の①～④のうちから一つ選べ。解答番号は  。

- ① A一部 曲      B一朝鮮半島で倭国軍が唐・新羅連合軍に敗れた  
 ② A一部 曲      B一クーデタにより蘇我蝦夷・入鹿父子を滅ぼした  
 ③ A一郎 党      B一朝鮮半島で倭国軍が唐・新羅連合軍に敗れた  
 ④ A一郎 党      B一クーデタにより蘇我蝦夷・入鹿父子を滅ぼした

問2   に当てはまる語句の組合せとして最も適切なものを、次の①～④のうちから一つ選べ。解答番号は  。

- ① C一賤民と良民との婚姻は認められていない      D一より多くの口分田を得る  
 ② C一賤民と良民との婚姻は認められていない      D一税の負担を逃れる  
 ③ C一賤民身分の者は良民にはなれない      D一より多くの口分田を得る  
 ④ C一賤民身分の者は良民にはなれない      D一税の負担を逃れる

問3 資料1から読み取れることと、その時代の日本の社会のようすの組合せとして最も適切なものを、下の①～④のうちから一つ選べ。解答番号は  。

読み取れること

ア 倭国は、中国から金印とともに奴隷を与えられた。

イ 倭国は、中国に奴隷などを献上し、王としての地位を認められた。

社会のようす

ウ 稲作が広まり、灌漑や排水の設備を備えた乾田が営まれるようになった。

エ 朝鮮半島から、硬質で灰色の土器である須恵器の技術が伝わった。

- ① アーウ      ② アーエ      ③ イーウ      ④ イーエ

問 4 資料 3 に記述されたできごとがおこった時期を次の①～④のうちから一つ選べ。

解答番号は  。

小野妹子が隋に派遣される。

↕ ①

大宝律令が完成する。

↕ ②

平安京への遷都が行われる。

↕ ③

菅原道真の建議によって遣唐使の派遣が中止される。

↕ ④

後三条天皇が即位する。

## II

中世になると、百姓が奴隷として売買されることがあった。資料4は、奴隷の売買について鎌倉幕府が13世紀前半に出した法令を示したものである。

## 資料4 (意識してある)

幕府はこれまで百姓を奴隷として売買することを固く禁じていた。しかし、寛喜<sup>かんき</sup>の飢饉<sup>(注)</sup>の際、飢えた者が、妻子を売ったり、豊かな家に奴隷として自分自身を売ったりして飢えをしのぐことがみられた。飢饉であったので幕府はそれを認めてきたが、飢饉がおさまった近年では、その時の売買が問題となり、裁判がひんぱんに行われている。…(中略)…そこで、裁判の両当事者が朝廷の支配下にある者であれば、幕府は裁判に関わらないこととする。御家人と、朝廷の支配下にある者との裁判であれば、幕府が定めた法によって裁判を行う。そして、今後は一切、百姓を奴隷として売買することは禁止する。

(注) 1230～1231年におこった、鎌倉時代最大の飢饉。

室町時代の文学作品には、人買いのようすが描かれている。『婆相天』<sup>ばそうてん</sup>では、の「とい(問丸)」による奴隷の売却証文が登場する。『信太』<sup>しんた</sup>では、主人公が、近江国の大津や越前国の敦賀などを転々と売られており、このことから、が奴隷の売買の場として描かれていたことが分かる。

また、戦国時代には、足軽にさらわれた人が奴隷になることがあった。

問5   に当てはまる語句の組合せとして最も適切なものを、次の①～④のうちから一つ選べ。解答番号は  。

- |          |                  |
|----------|------------------|
| ① E—運送業者 | F—一向宗寺院を中心とする寺内町 |
| ② E—運送業者 | F—水運や流通の要地       |
| ③ E—高利貸  | F—一向宗寺院を中心とする寺内町 |
| ④ E—高利貸  | F—水運や流通の要地       |

問6 資料4の内容について説明した文の正誤の組合せとして適切なものを、下の①～④から一つ選べ。解答番号は  。

ア 幕府は、飢饉の影響が広がる中、百姓が奴隷となることを認めなかった。

イ 幕府は、御家人が当事者として関わる裁判にのみ関与する姿勢を示している。

- |       |     |       |     |
|-------|-----|-------|-----|
| ① ア—正 | イ—正 | ② ア—正 | イ—誤 |
| ③ ア—誤 | イ—正 | ④ ア—誤 | イ—誤 |

問 7 下線部分足軽が戦闘の中心となる時代に至るまでの戦乱について述べた次のア～ウを年代の古い順に正しく並べたものを、下の①～④のうちから一つ選べ。解答番号は  。

- ア 将軍の後継争いに有力守護大名同士の対立などが加わり、11年に及ぶ戦乱が続いた。
- イ 北朝と南朝が分立し、約60年にわたる全国的な内乱が展開した。
- ウ 幕府に敵対した鎌倉公方足利持氏が、将軍足利義教に討伐され滅ぼされた。

- ① ア→イ→ウ      ② ア→ウ→イ      ③ イ→ア→ウ      ④ イ→ウ→ア

問 8 古代・中世の奴隷について、I・IIの内容にもとづいて考えられることを説明した文として適切でないものを、次の①～④のうちから一つ選べ。解答番号は  。

- ① 律令の規定では、奴隷の売買が禁止されていた。
- ② 農民などが、生存のために自ら奴隷になることがあった。
- ③ 九州北部に襲来した人びとにさらわれ、奴隷になることがあった。
- ④ 中世においては、奴隷の売買を行う人びとが存在していた。



2 次の年表と資料1・2について、後にある問1～問4に答えよ。

年 表

| 年    | 二宮尊徳についてのできごと                         | これまでの学習で学んだこと   |
|------|---------------------------------------|-----------------|
| 1782 | -----                                 | 天明の飢饉がおこる。      |
| 1787 | 相模国で生まれ、 <sup>きんじろう</sup> 金治郎と名づけられる。 | 寛政の改革が始まる。----- |
| 1821 | 下野国で、 <u>荒廃していた地域の再建</u> に関わる。        | X               |
| 1833 | -----                                 | 天保の飢饉がおこる。----- |
| 1856 | 死去。                                   |                 |

資料1 二宮尊徳が説いた教え(意識してある)

<sup>しせい</sup>至誠(注1)、<sup>ぶんど</sup>勤勞、<sup>ぶんど</sup>分度(注2)、<sup>すいじょう</sup>推讓(注3)の確実な実行を、人生観として忘れてはいけ  
ない。

(注1) 誠実であること。

(注2) 自分の経済力に応じて生活の限度を決めること。

(注3) 後世へ譲り渡すこと。

資料2 下線部分荒廃していた地域の再建のために、二宮尊徳が主に取り組んだこと

- 人口を増加させるために、他の村からの移住や婚姻を推進した。
- 借金をした者に対してその返済に努めさせるとともに、完済した者には褒美を与えた。
- 荒廃した土地を開墾し、田畑とした。
- 飢饉や凶作に備え、食糧を確保した。
- よく働く百姓を表彰した。

問 1 次の文章は、年表中 **X** の時期における関東近郊の農村について、ある生徒が調べた内容をまとめたものである。文章中の **A** **B** に当てはまる語句の組合せとして正しいものを、下の①～④のうちから一つ選べ。解答番号は **9**。

下野国の人口は、18世紀前半と比較して大きく減少した。寛政の改革を行った **A** は、荒廃した地域について、「しだいに村には名主だけとなり、その他の百姓は **B** に出て行ってしまふような有様である。」と記している。

- ① A—水野忠邦      B—江戸      ② A—水野忠邦      B—陸奥  
 ③ A—松平定信      B—江戸      ④ A—松平定信      B—陸奥

問 2 年表中の時期のできごとについて述べた文の組合せとして適切なものを、下の①～④のうちから一つ選べ。解答番号は **10**。

- ア 徳川吉宗は、年貢率の引き上げをはかり年貢の増徴をめざした。  
 イ 浅間山の噴火や冷害などによって、全国的に大飢饉となった。  
 ウ 「世直し」を期待した民衆による「ええじゃないか」の集団乱舞が発生した。  
 エ 大塩平八郎が大坂で武装蜂起したが、鎮圧された。

- ① ア—ウ      ② ア—エ      ③ イ—ウ      ④ イ—エ

問 3 年表中の時期に幕府が出した法令の内容として適切なものを、次の①～④のうちから一つ選べ。解答番号は **11**。

- ① 正業をもたない者に資金を与えて、農村に帰ることを奨励する。  
 ② 地租は、豊凶に関わらず一律に貨幣で納めることとする。  
 ③ 売主は、御家人以外の武士や庶民が買い取った土地を取り戻すことができる。  
 ④ 開墾した土地は期間を問わず私有することができる。

問 4 資料 1・2 の内容をふまえ、二宮尊徳の考え方について述べた文として最も適切なものを、次の①～④のうちから一つ選べ。解答番号は **12**。

- ① 身分秩序を否定して、万人が生産活動に従事する社会が理想である。  
 ② 勤勉に働くとともに、自らの収入の範囲内で生活すべきである。  
 ③ 都市の膨張をおさえ、武士の帰農、土着が必要である。  
 ④ 財政を立て直すため、藩は専売制を行うべきである。

3 次の年表と会話文について、後にある問1～問4に答えよ。

## 年表

| 年    | できごと                                  |
|------|---------------------------------------|
| 1840 | 現在の埼玉県深谷市に豪農の長男として生まれる。               |
| 1867 | 江戸幕府の一員として <u>ヨーロッパ</u> を視察する。<br>(a) |
| 1869 | 明治政府に仕える。                             |
| 1873 | 第一国立銀行を開業する。                          |
| 1882 | <u>大阪紡績会社</u> を創立する。<br>(b)           |
| 1890 | 貴族院議員に任じられる。                          |
| 1931 | 死去。                                   |

## 会話文

先生：年表は、渋沢栄一の生涯をまとめたものです。

生徒：渋沢が開業した第一国立銀行は、現在のみずほ銀行につながる銀行ですね。ところで、渋沢の肖像画が、新しく1万円札として使用されますよね。年表で示された時期には、どのような通貨の単位が使用されていたのですか。

先生：渋沢が明治政府に仕えた後に **A** が制定され、通貨の単位は「円・銭・厘」に統一されました。これらの単位は、現在の通貨の単位につながっています。

生徒：そうだったのですね。年表の **X** の時期に銀行や株式会社の制度が始まり、その後の日本の経済に影響を与えていくような気がします。

先生：その通りです。これらの制度によって、企業をおこすのに必要なまとまった資金を調達しやすくなりました。

生徒：このような動きを背景に経済活動が活発になる中で、日本では **B** が19世紀末に始まりました。



問 1   に当てはまる語句の組合せとして正しいものを、次の①～④のうちから一つ選べ。解答番号は  。

- ① A—新貨条例                      B—公定価格を無視した闇市  
 ② A—新貨条例                      B—軽工業の部門で産業革命  
 ③ A—国立銀行条例                B—公定価格を無視した闇市  
 ④ A—国立銀行条例                B—軽工業の部門で産業革命

問 2 年表中  の時期におこったできごとについて述べた次のア～ウを、年代の古い順に正しく並べたものを、下の①～④のうちから一つ選べ。解答番号は  。

- ア 元老院や大審院が設けられ、徐々に立憲政治を実現する方針が示された。  
 イ 公議世論の尊重をはじめとする、新政府の政治方針が示された。  
 ウ 第1回衆議院議員総選挙が行われた。

- ① ア→イ→ウ            ② ア→ウ→イ            ③ イ→ア→ウ            ④ イ→ウ→ア

問 3 下線部分<sup>(a)</sup>ヨーロッパに関連して、年表中  の時期の日本とヨーロッパの文化について述べた文の正誤の組合せとして適切なものを、下の①～④のうちから一つ選べ。解答番号は  。

- ア 西ヨーロッパでは、浮世絵など日本の美術工芸品への関心が高まった。  
 イ 日本では、人文科学や社会科学の分野で、マルクス主義思想の影響が大きくなった。

- ① ア—正    イ—正                      ② ア—正    イ—誤  
 ③ ア—誤    イ—正                      ④ ア—誤    イ—誤

問 4 下線部分<sup>(b)</sup>大阪紡績会社に関連して、1880～90年代の日本の経済や産業について述べた文として適切でないものを、次の①～④のうちから一つ選べ。解答番号は  。

- ① 日本郵船会社为中心となり、海外への定期航路が開設された。  
 ② 華族の公債を資金にして、日本鉄道会社が設立された。  
 ③ 兌換紙幣が発行され、銀本位制が確立された。  
 ④ 軍需の拡大を背景に、日産をはじめとする新興財閥が急速に成長した。

4 次のⅠ～Ⅲについて、後にある問1～問4に答えよ。

Ⅰ

19世紀末から20世紀初頭にかけて、東アジアでは国際的な緊張が高まった。ロシアは、1891年に **A** 鉄道を着工し、日清戦争後には旅順・大連を租借地として獲得した。また、ロシアは **B** 事件に際して中国東北部を占領した。

問1 **A** **B** に当てはまる語句の組合せとして正しいものを、次の①～④のうちから一つ選べ。解答番号は **17**。

- ① A—南満州      B—義和団      ② A—南満州      B—張作霖爆殺
- ③ A—シベリア      B—義和団      ④ A—シベリア      B—張作霖爆殺

Ⅱ

行財政改革に取り組んでいた第2次西園寺内閣は、陸軍による2個師団の増設の要求を閣議で否決した。その後陸軍は、陸軍大臣を辞任させてその後任を出さなかったことから、内閣は総辞職に追い込まれたが、政党の勢力が伸張したことを背景にこの要求はいったん見送られた。第一次世界大戦が始まると、第2次大隈重信内閣のもとで2個師団は増設された。

問2 下線部分政党の勢力が伸張したことを示す当時のできごとについて述べた文として最も適切なものを、次の①～④のうちから一つ選べ。解答番号は **18**。

- ① 立憲国民党と立憲政友会が「閥族打破・憲政擁護」をとなえ、内閣の打倒をめざした。
- ② 憲政会などの護憲三派が衆議院議員総選挙で勝利し、連立内閣を組織した。
- ③ 自由党と進歩党が合同して憲政党を結成し、政府が提出した地租増徴案を否決した。
- ④ 社会大衆党を先頭に諸政党が次々に新体制運動に参加し、大政翼賛会が発足した。

Ⅲ

表

|               |  |
|---------------|--|
| 第一次世界大戦が始まった。 |  |
| 五・四運動がおこった。   |  |
| 関東大震災がおこった。   |  |
| 満州事変が始まった。    | <div style="border: 1px solid black; padding: 2px; display: inline-block;">X</div> |

資料



B

問 3 資料は、表中のある時期の社会のようすを風刺したものである。資料が風刺した時期に最も近い時期におこったできごとについて述べた文として最も適切なものを、次の①～④のうちから一つ選べ。解答番号は 19。

- ① デフレ政策の影響で農村の不況が深まり、自由民権運動が激化した。
- ② 綿糸の生産額が増加し、綿糸の輸出量が輸入量をはじめて上回った。
- ③ 産業が飛躍的な発展をとげ、生産額は工業が農業を上回った。
- ④ 第四次中東戦争の影響を受けて、石油製品の価格が大きく上昇した。

問 4 表中 X の時期における日本の経済に関するできごととその時期の日本のようすの組合せとして正しいものを、下の①～④のうちから一つ選べ。解答番号は 20。

- |        |                              |
|--------|------------------------------|
| できごと   | ア 国立銀行が不換紙幣を増発した。            |
|        | イ 金輸出解禁(金解禁)が実施された。          |
| 日本のようす | ウ 激しいインフレーションがおき、政府の財政が悪化した。 |
|        | エ 企業では人員整理が行われ、多くの失業者が出た。    |

- ① アーウ                      ② アーエ                      ③ イーウ                      ④ イーエ

5 柳条湖事件に関する次の資料(意識してある)を読み、後にある問1～問2に答えよ。

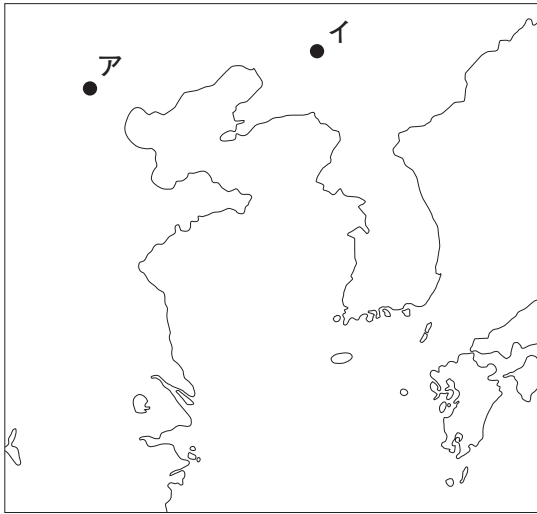
資料 リットン調査団が国際連盟に提出した報告書

9月18日午後10時より10時30分間に鉄道線路上もしくはその付近において爆発があったことは疑いが無いが、鉄道の損傷はもしあったとしても、長春からの南行列車の定刻到着を妨げなかったものであり、それだけでは軍事行動を正当とするには十分ではない。同夜の日本軍の軍事行動は合法なる自衛の措置と認めることはできない。

「政府」および公共事務に関しては、たとえ各部局の名義上の長官は満州在住の中国人であるといえども、主たる政治的および行政的権力は日本人の官吏および顧問の掌中にある。…(中略)…私は「満州国政府」は地方の中国人により日本の手先とみなされており、中国の人びとに支持されていないとの結論に到達した。

問1 柳条湖事件がおきた場所とその当時の日本の首相の組合せとして正しいものを、下の①～④のうちから一つ選べ。解答番号は 21。

場 所



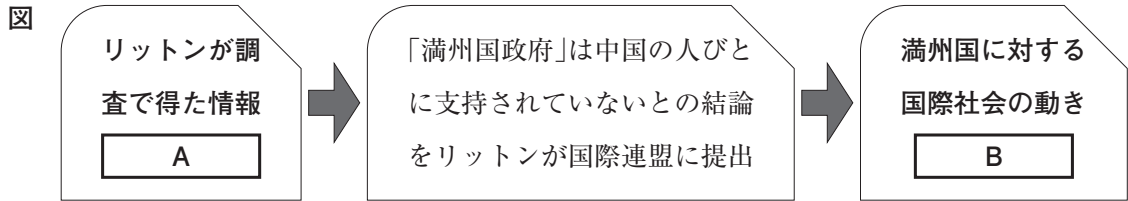
首 相

- ウ 近衛文麿
- エ 若槻礼次郎

- ① アーウ      ② アーエ      ③ イーウ      ④ イーエ

問 2 下線部分中国の人びとに支持されていないとの結論に関連して、次の図はリットンが柳条湖事件に関する調査を行った後の流れを示したものである。図の   に当てはまる文の組合せとして適切なものを、下の①～④のうちから一つ選べ。解答番号は  。

Ⓑ



- A ア 「満州国政府」の各部局の長官は日本人である。  
 イ 「満州国政府」の主たる権力は日本人が握っている。  
 B ウ 満州国承認に向けた動きが広まった。  
 エ 満州国を承認できないという声が強まった。

- ① アーウ                      ② アーエ                      ③ イーウ                      ④ イーエ

6 次の文章を読み、後にある問1～問2に答えよ。

1930年代以降、政府が軍拡を進めたこともあり、産業の **A** 化が進行した。軍需の優先は民需を圧迫し、特に太平洋戦争下の人びとの生活に大きな影響を与えた。

降伏後の日本を占領したGHQは当初経済機構の民主化をめざし、 **B** などの政策を進めたが、1948年ごろにアメリカ合衆国の占領政策が変化したことを受け、日本でも本格的な経済復興へのあゆみが始まった。戦後の改革の影響もあり、人びとの生活や価値観はしだいに変容していった。

問1 **A** **B** に当てはまる語句の組合せとして適切なものを、次の①～④のうちから一つ選べ。解答番号は **23**。

- ① A—空洞 B—不在地主の土地を強制的に買い上げ、自作農を増やす
- ② A—空洞 B—重要産業について、カルテルを促進して国際競争力を強める
- ③ A—重化学工業 B—不在地主の土地を強制的に買い上げ、自作農を増やす
- ④ A—重化学工業 B—重要産業について、カルテルを促進して国際競争力を強める

問2 下線部分戦後の改革について述べた文として適切でないものを、次の①～④のうちから一つ選べ。解答番号は **24**。

- ① 労働組合法が制定され、労働者の団結権・団体交渉権・争議権が保障された。
- ② 義務教育の期間が9年となり、民主主義を実現するための教育がめざされるようになった。
- ③ 地方自治法が制定され、地方公共団体の首長は住民の選挙により選ばれるようになった。
- ④ 衆議院議員選挙法が改正され、25歳以上の男子に選挙権が与えられた。



7 次の会話文を読み、後にある問1～問4に答えよ。

会話文

先生：現存する世界最古の木造建築とされる法隆寺<sup>(a)</sup>について、知っていることはありますか。

生徒：奈良県にある法隆寺は7世紀初めに創建されたと言われていますが、伽藍<sup>がらん</sup>の再建・非再建をめぐる論争がありました。『日本書紀』には、670年に法隆寺が焼失したと記されています。

先生：1939年に、南北に並んだ塔と金堂<sup>(b)</sup>の跡が発掘されたことから、現在の金堂や五重塔は再建されたことが分かりました。

生徒：なるほど。ところで、先日私は東京国立博物館に行き、法隆寺の宝物を目にしました。法隆寺の宝物が東京で展示されているなんて知りませんでした。

先生：法隆寺の宝物の多くは、1878年、皇室に献納され東京国立博物館に伝えられました。

生徒：その時期の仏教は、を背景として、大きな打撃を受けていました。

先生：法隆寺の文化財については、この<sup>(c)</sup>絵画を学習しましたね。和辻哲郎は、この絵画を「東洋絵画の絶頂である。」と評しました。

生徒：この絵画は、火災で失われてしまいました。貴重な文化財が今後失われることがないように、私も関心を払っていきたいと思います。

絵画



問1 に当てはまる語句として正しいものを、次の①～④のうちから一つ選べ。

解答番号は 。

- ① 寺院法度による統制
- ② 仏像や仏具を破壊する動き
- ③ 仏と神は本来同一であるとする考え方
- ④ 比叡山延暦寺の焼打ち

問2 下線部分法隆寺<sup>(a)</sup>に関連するできごとについて、年代の古い順に正しく並べたものを、下の

①～④のうちから一つ選べ。解答番号は 。

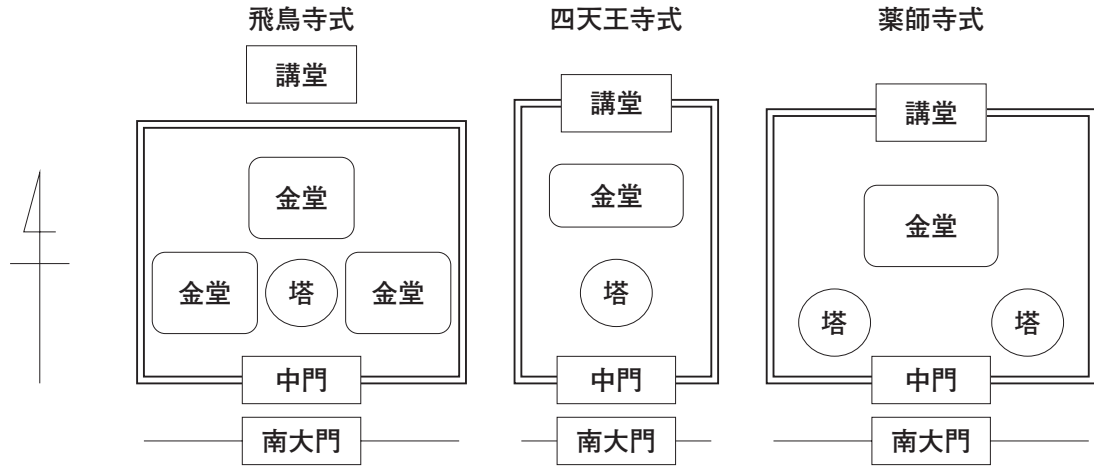
- ア 訪れた正岡子規が、「柿くへば鐘が鳴るなり法隆寺」の句を詠んだ。
- イ 豊臣秀頼によって、伽藍の修造が行われた。
- ウ 死者を弔い鎮護国家を祈念するため、百万塔陀羅尼が納められた。

- ① ア→イ→ウ
- ② ア→ウ→イ
- ③ ウ→ア→イ
- ④ ウ→イ→ア



問 3 次の図を参考にしながら、下線部分<sup>(b)</sup>塔と金堂について述べた文の組合せとして適切なものを、下の①～④のうちから一つ選べ。解答番号は 27。

図



- ア 当初は金堂が寺院の中心であったが、しだいに塔が重視されていったと考えられる。
- イ 当初は塔が寺院の中心であったが、しだいに金堂が重視されていったと考えられる。
- ウ 焼失する前の法隆寺の伽藍は、四天王寺式と同じ様式であると考えられる。
- エ 焼失する前の法隆寺の伽藍は、薬師寺式と同じ様式であると考えられる。

- ① アーウ      ② アーエ      ③ イーウ      ④ イーエ

問 4 下線部分<sup>(c)</sup>この絵画について説明した文の正誤の組合せとして適切なものを、下の①～④のうちから一つ選べ。解答番号は 28。

- ア インドや西域の影響を受けた、白鳳文化を代表する作品である。
- イ この絵画の焼損をきっかけに、文化財保護法が制定された。

- ① アー正    イー正      ② アー正    イー誤  
 ③ アー誤    イー正      ④ アー誤    イー誤

