

令和2年度 日本史A・日本史B (50分)

注 意 事 項

- 1 試験開始の合図があるまで、この問題冊子の中を見てはいけない。
- 2 出題科目、ページ及び選択方法は、下表のとおりである。

出題科目	ページ	選 択 方 法
日本史A	1～18	左の2科目のうちから1科目を選択し、解答しなさい。
日本史B	19～42	

- 3 試験中に問題冊子の印刷不鮮明、ページの落丁・乱丁及び汚れ等に気付いた場合は、手を挙げて監督者に知らせること。
- 4 試験開始の合図前に、監督者の指示に従って、解答用紙の該当欄に以下の内容をそれぞれ正しく記入し、マークすること。

・①氏名欄

氏名を記入すること。

・②受験番号、③生年月日、④受験地欄

受験番号、生年月日を記入し、さらにマーク欄に受験番号(数字)、生年月日(年号・数字)、受験地をマークすること。

・⑤解答科目欄

解答する科目名を○で囲み、さらにその下のマーク欄にマークすること。

- 5 受験番号、生年月日、受験地が正しくマークされていない場合は、採点できないことがある。
- 6 解答科目が正しくマークされていない場合は採点できないので、必ず正しくマークすること。
- 7 解答は、解答用紙の解答欄にマークすること。例えば、解答番号が 10 である問いに対して②と解答する場合は、次の(例)のように解答番号10の解答欄の②にマークすること。

(例)

解答 番号	解 答 欄			
10	①	②	③	④

- 8 問題冊子の余白等は適宜利用してよいが、どのページも切り離してはいけない。
- 9 試験終了後、問題冊子は持ち帰ってよい。

日本史 A

(解答番号 ～)**1** 次の会話文と資料を読み、後にある問 1～問 4 に答えよ。

会話文

先生：この資料は 19 世紀後半に作成された遷都^{せん と}に関する意見書です。

生徒：8 世紀末の遷都以来、天皇は基本的に京都で生活していたのですね。

先生：そうですね。幕府の法令で天皇は政治に関わらないことになっていましたが、この時期は孝明天皇の意志が政局を左右するようになっていました。

生徒：日本がアメリカとの貿易を進めるために新潟港^(a)などの開港を約束した の締結後も ^(b) がすぐに開港されなかったのは、京都に近いからでしたね。

資料(意識してある)

「前島密の建白書」

将来政府が蝦夷地を開拓することを考えると、大阪より江戸の方が日本の中心となり都合がよいと思われます。大阪は大型船が停泊できる港を建設することが難しく、艦船を修理するにも不便な土地です。江戸であればすでに建造されている砲台を利用し、安全な港を建設することができるうえ、横須賀港も近いため、艦船の修理も簡単にできそうです。さらに、江戸は無血開城によって様々な建物や施設が無事に残っているので再利用すれば経費削減にもなります。

(『鴻爪痕』により作成)

問 1 に当てはまる語の組合せとして正しいものを、次の①～④のうちから一つ選べ。解答番号は 。

- ① A—日米和親条約 B—兵庫 ② A—日米和親条約 B—長崎
③ A—日米修好通商条約 B—兵庫 ④ A—日米修好通商条約 B—長崎

問 2 資料から読み取れることを説明した文の組合せとして最も適切なものを、下の①～④のうちから一つ選べ。解答番号は 。

- ア この時期は、まだ政府による北海道の開拓は進んでいなかった。
 イ 江戸の街並みは火災の被害を受けて焼け野原となっていた。
 ウ 江戸は施設が充実しているため、艦船の整備が比較的簡単であった。
 エ 大阪は、大型船の修理をする工場などが立ち並ぶ港町であった。

- ① アーウ ② アーエ ③ イーウ ④ イーエ

問 3 下線部分^(a)孝明天皇の在位中のできごととして適切でないものを、次の①～④のうちから一つ選べ。解答番号は 。

- ① 井伊直弼が朝廷の許可なく貿易に関する条約を結んだ。
 ② 公武合体政策により和宮降嫁が行われた。
 ③ 朝廷の意向を受けた幕府が攘夷を命じ、長州藩がそれを決行した。
 ④ 将軍徳川慶喜が朝廷に大政奉還の上表文を提出した。

問 4 下線部分^(b)新潟港について、次の文章の に当てはまる語の組合せとして適切なものを、下の①～④のうちから一つ選べ。解答番号は 。

新潟港は開港まで幕末の動乱に^{ほんろう}翻弄された。当初、開港は慶応 4 (1868) 年 3 月 9 日と決められていたが、 が行われ、さらに新政府と旧幕府の間で戦争が始まったため、政府は開港延期を申し入れた。しかし、その延期措置を無視したプロイセンなどが新潟港を通じて、会津藩を支援する に洋式兵器を売却し、戦局に影響を与えた。

- ① C—王政復古 D—薩長同盟 ② C—王政復古 D—奥羽越列藩同盟
 ③ C—廃藩置県 D—薩長同盟 ④ C—廃藩置県 D—奥羽越列藩同盟

2 次のⅠ・Ⅱについて、後にある問1～問4に答えよ。

Ⅰ

資料(現代仮名遣いで表記してある)

権利幸福きらいな人に自由湯(注1)をばのましたい
 オッペケペ オッペケペッポーペッポーポー
 堅い上下(注2)角とれて マンテルズボンに人力車 意気な束髪ボンネット(注3)
 貴女に紳士のいでたちで 外部のかざりはよけれども 政治の思想が欠乏だ
 天地の真理が解らない 心に自由の種をまけ オッペケペ オッペケペッポ ペッポーポー
 (注1) 自由湯:「自由党」という政党名と掛けた言葉になっている。
 (注2) 上下: ^{かみしも}袴^{かど}を表し、武士の正装のことを示している。
 (注3) マンテルズボン, 人力車, 束髪ボンネット: 文明開化による民衆の生活の変化を象徴している。

会話文

先生: この資料は、川上音二郎という自由党壮士だった青年が時事を風刺して作った歌です。
 生徒: リズム良く歌われていて耳に残りますね。

「権利幸福きらいな人」とは A に反対する人を指しているのですか。

先生: そうですね。4行目は具体的な政策を批判している ^(a)ようにも読み取れますね。

問1 A に当てはまる語として正しいものを、次の①～④のうちから一つ選べ。解答番号は 5。

- ① 原水爆禁止運動 ② 自由民権運動 ③ 新体制運動 ④ 地方改良運動

問2 下線部分具体的な政策を批判している ^(a)について、次の B C に当てはまる語句の組合せとして最も適切なものを、下の①～④のうちから一つ選べ。解答番号は 6。

この具体的な政策とは B を指している。この時期、
C が適用されたノルマントン号事件をきっかけに、日本国民の間に不平等条約への不満が高まっていった。

- ① B—急速に西洋の生活や文化を取り入れようとする極端な欧化政策 C—領事裁判権
 ② B—急速に西洋の生活や文化を取り入れようとする極端な欧化政策 C—関税自主権
 ③ B—民衆暴動の鎮圧を目的に朝鮮半島に出兵するという積極的な外交政策 C—領事裁判権
 ④ B—民衆暴動の鎮圧を目的に朝鮮半島に出兵するという積極的な外交政策 C—関税自主権

Ⅱ



説明文

この風刺画は日露戦争における国際関係を描いたものである。D は、中国の利権を奪われることを恐れて日本^(b)の背中を強く押している。一方、遠くから眺めているように見えるE は、講和条約締結の仲介を行うなど日本に協力的な態度を示した。

問 3 D E に当てはまる語の組合せとして正しいものを、次の①～④のうちから一つ選べ。解答番号は 7。

- | | | | |
|----------|--------|----------|--------|
| ① D—ドイツ | E—フランス | ② D—ドイツ | E—アメリカ |
| ③ D—イギリス | E—フランス | ④ D—イギリス | E—アメリカ |

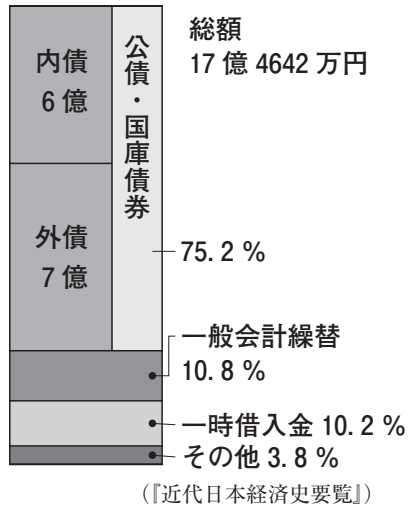
問 4 下線部分日露戦争^(b)がおきた時期として適切なものを、次の①～④のうちから一つ選べ。解答番号は 8。

- 江華島事件
↓ ①
甲午農民戦争
↓ ②
義和団事件
↓ ③
ハーグ密使事件
↓ ④
三・一独立運動

3 次のⅠ～Ⅲについて、後にある問1～問8に答えよ。

Ⅰ

図 「日露戦争の戦費調達」



資料1 夏目漱石『それから』(小説)

日本ほど借金をこしらえて、貧乏震いしている国はありやしない。この借金が君、いつになったら返せると思うか。…(中略)…日本は西洋から借金でもしなければ、到底立ちゆかない国だ。それでいて、一等国をもって任じている。……

生徒のまとめ文

図や資料1から分かるように、日本は、戦費の **A** を借金でまかなっていました。なかでもイギリスやアメリカなどに対して発行した **B** が、「公債・国庫債券」の半分以上を占めました。

借金返済などで国家財政が悪化したことから、**C** 内閣は、財政整理をすすめました。一方で陸軍は、^(a)朝鮮半島の国家を併合したことを理由に軍備 **D** を要求しました。

問1 図をもとに **A** **B** に当てはまる語の組合せとして適切なものを、次の

①～④のうちから一つ選べ。解答番号は **9**。

- ① A—約半分 B—外債 ② A—約半分 B—内債
③ A—4分の3以上 B—外債 ④ A—4分の3以上 B—内債

問2 **C** **D** に当てはまる語句の組合せとして最も適切なものを、次の①～

④のうちから一つ選べ。解答番号は **10**。

- ① C—西園寺公望 D—縮小 ② C—西園寺公望 D—拡大
③ C—山県有朋 D—縮小 ④ C—山県有朋 D—拡大

問 3 下線部分朝鮮半島の国家を併合するまでの日本政府の対応ア～ウを、年代の古い順に正しく並べたものを、下の①～④のうちから一つ選べ。解答番号は 11。

ア 日本政府は、日本人の外交顧問を韓国政府に推せんできるようになった。

イ 日本政府は、伊藤博文を統監に任命した。

ウ 日本政府は、朝鮮が「独立自主の国」であることを清に認めさせた。

① ア→イ→ウ ② ア→ウ→イ ③ ウ→ア→イ ④ ウ→イ→ア

問 4 資料 1 と同時代の作品とその特徴の組合せとして最も適切なものを、下の①～④のうちから一つ選べ。解答番号は 12。

作 品

ア



イ



特 徴

ウ 従軍体験にもとづいた作品で、戦争記録文学のベストセラーとなった。

エ 人間社会のありのままを見つめ、日本の社会的差別を描いた。

① アーウ ② アーエ ③ イーウ ④ イーエ

Ⅱ

資料2 「尾崎行雄の演説」(一部意識してある)

彼ら閥族政治家は、何かにつけ忠愛を口にし、「忠君愛国」は自分たちの一手専売であるかのように語るが、実際のやり方は、いつも天皇の陰にかくれ政敵を狙撃するというような卑劣さである。彼らこそ、天皇を弾よけにし、天皇の言葉を弾丸のかわりに連発して政敵を倒すのに利用している不忠者ではないか。こんなことから、桂太郎氏も内大臣(兼侍従長)に就任したばかりで、何事かをなす間もなく、世情騒然としてなかなか静まらないのだ。…(中略)…また、首相になった後に立憲同志会の政党組織に着手するなどという卑怯なやり方からも、彼らが、いかに憲法を軽視し、その精神を理解していないかということが分かる。

問5 下線部分桂太郎が首相在任期間に実施した外交政策として最も適切なものを、次の①～④のうちから一つ選べ。解答番号は 13。

- ① ロシアとの間で、樺太全島はロシア領、千島全島は日本領とする条約を結んだ。
- ② 中国大陸における影響力拡大を目的に、段祺瑞に多額の資金を貸し付けた。
- ③ アメリカと中国の領土保全・門戸開放を確認する協定を結んだ。
- ④ 小村寿太郎外務大臣の下で、関税自主権を回復し不平等条約が改正された。

問6 資料2について述べた文の正誤の組合せとして適切なものを、下の①～④のうちから一つ選べ。解答番号は 14。

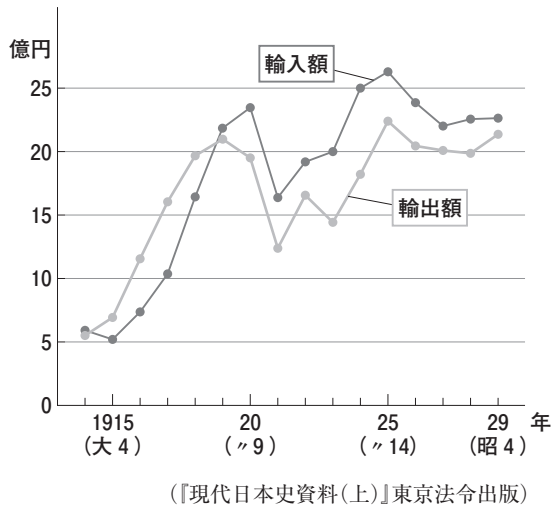
ア 尾崎行雄は、憲法の重要性を理解していない閥族政治家を批判している。

イ 尾崎行雄は、閥族政治家が天皇の力を借りて政治を動かそうとしていることを批判している。

- | | |
|--------------|--------------|
| ① アー正 イー正 | ② アー正 イー誤 |
| ③ アー誤 イー正 | ④ アー誤 イー誤 |

Ⅲ

資料3 「日本の貿易額の推移」



資料4 「企業の資本金増加比」

業種	1914(大3) (A)(万円)	1919(大8) (B)(万円)	$\frac{B}{A}$ (倍)
海運業	1930	1億9550	10.1
鉱業	1670	2億8940	17.3
化学工業	1460	2億4930	17.1
造船業	20	2240	112.0
金属工業	130	4470	34.4
紡績業	170	2億6020	153.1
織布業	320	2億1390	66.8
銀行業	5200	6億4260	12.4
鉄道業	3120	2億1710	7.0
電力業	3100	4億6100	14.9

生徒：資料3を見ると，1915～1918年の間は，**E** を上回っていたんですね。

先生：戦争がおこったことと関係があるのでしょうか。

生徒：戦争の主戦場となった **F** から手を引いたことが日本に好景気をもたらしたんですね。特に，紡績業の成長が著しかったことが，資料4から分かります。

先生：そうです。**G** 業も1914年から5年間で，資本金が100倍以上に増加しました。

問7 **E** **F** に当てはまる語句の組合せとして最も適切なものを，次の①～④のうちから一つ選べ。解答番号は **15**。

- ① E—輸出額が輸入額 F—ヨーロッパ諸国が，アジア市場
 ② E—輸出額が輸入額 F—アジア諸国が，ヨーロッパ市場
 ③ E—輸入額が輸出額 F—ヨーロッパ諸国が，アジア市場
 ④ E—輸入額が輸出額 F—アジア諸国が，ヨーロッパ市場

問8 **G** に当てはまる語として最も適切なものを，次の①～④のうちから一つ選べ。
 解答番号は **16**。

- ① 造船 ② 銀行 ③ 鉱 ④ 電力

4 次のレポートは、茨城県に住むある高校生が日本史Aの地域学習における課題として書いたものである。これを読み、後にある問1～問4に答えよ。

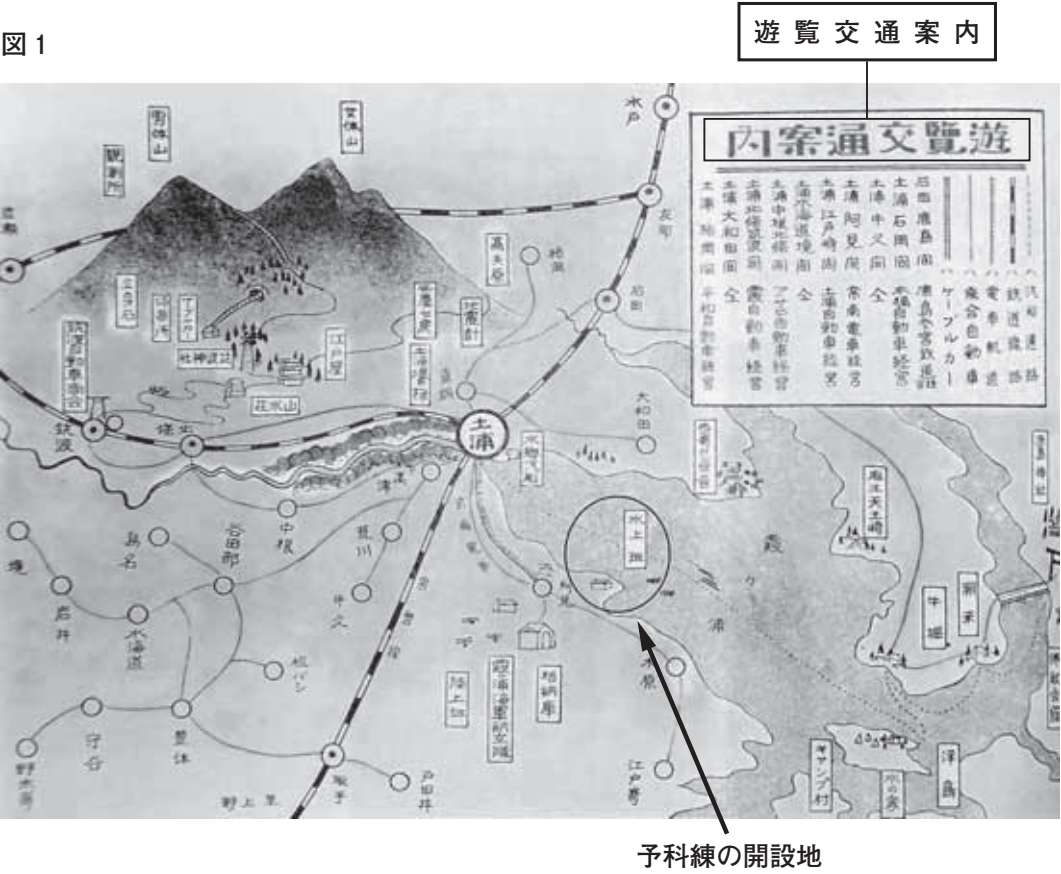
レポート

私の住む土浦市は、今年(2020年)で、市制の施行から80年をむかえます。市制施行の同年、海軍の少年飛行兵の養成機関として、市の隣町に予科練(土浦海軍航空隊)が開設されました。この予科練との関わりの中で、土浦では道路の整備や市街地の形成がすすみ、今日につながる発展の基礎がつけられました。

予科練の前身は、第一次世界大戦の終了から4年後に開設された、霞ヶ浦海軍航空隊にさかのぼります。次第に軍国主義の傾向が強まりをみせるなか、出身者の一部には「A」改造」を主張し、急進的な運動に身を投じる者もいたといいます。

航空隊の開設から18年後、飛行兵の養成部門を分離・独立させ、図1に「水上班」と見える地に開設されたのが予科練です。その背景には、B」するなか、多くの飛行兵の育成を必要とする、時代の要請がありました。予科練には、大空を自由に飛び交うことを夢見る、私たちと同世代の若者たちが全国から志願したようです。

図1



右の図2は、予科練発足の年に発売された絵葉書(包紙)です。表題の「**C**」の文字は、当時の土浦の軍事都市としての性格を伝えており、「**D**」の文字が添えられていることや図1の内容などから、**E**による経済効果も期待されていたことが分かります。

戦時色が強まる中、市内は予科練生や海軍関係者でにぎわったといえます。その一方、時局の影響は衣食住や教育など、市民生活のあらゆる分野におよびました。

第二次世界大戦の末期、日本の敗色が濃くなるなかで予科練における教育活動は凍結され、終戦となりました。その後、予科練から霞ヶ浦海軍航空隊におよぶ広大な海軍の用地はさまざまな変遷をへて、今日にいたっています。

図2



問1 **A** **B** に当てはまる語句の組合せとして最も適切なものを、次の①～④のうちから一つ選べ。解答番号は **17**。

- ① A—国 家 B—本土空襲が本格化 ② A—国 家 B—日中戦争が長期化
③ A—日本列島 B—本土空襲が本格化 ④ A—日本列島 B—日中戦争が長期化

問2 **C** **D** **E** に当てはまる語の組合せとして最も適切なものを、次の①～④のうちから一つ選べ。解答番号は **18**。

- ① C—水 郷 D—空 都 E—農 業
② C—水 郷 D—空 都 E—観 光
③ C—空 都 D—水 郷 E—農 業
④ C—空 都 D—水 郷 E—観 光

問 3 下線部分時局の影響について、次の資料(表記等を一部改めてある)は、その一例を示す当
時の汽船会社の広告である。これについて述べたア・イの各文を読み、その正誤の組合せと
して最も適切なものを、下の①～④のうちから一つ選べ。解答番号は 19。

資 料

今年こそは！ 敵である米英と戦い抜き、勝ち抜く決戦の年であります。…(中略)…
来たる四月一日より、左のとおり「日帰り参拝船」の申し込みを歓迎致します。
奮ってご利用願います。

記

発 船 地	四百人迄(さつき丸)	二百五十人迄(あやめ丸)	百五十人迄(鹿島丸)
江戸崎・入古渡より両神宮間往復	六〇〇円	三七五円	二二五円
銚子方面より	六四〇円	四〇〇円	二四〇円
其他霞ヶ浦沿岸地方より	六〇〇円	三七五円	二二五円

一、右の表は、国民学校団体の料金を示しました。
一、右の表の基準人員に満たない場合でも、表のとおり料金を申し受けます。
…(後略)…

(注) 鹿島・香取両神宮…鹿島神宮と香取神宮。ともに武神・軍神をまつる神社として知られている。

- ア この広告は、日ソ中立条約の締結より後の時期につくられたものである。

イ この広告では、現在の小学生に当たる年齢層の人びとを対象に神社参拝をよびかけている。
- ① アー正 イー正

② アー正 イー誤

③ アー誤 イー正

④ アー誤 イー誤

問 4 下線部分さまざまな変遷の内容を具体的に述べた次の①～④のうち、最も新しい時期のできごとについて述べたものを一つ選べ。解答番号は 20。

- ① マッカーサーの来日から3週間後、占領軍が土浦に進駐し、用地内における軍用機・機械類などの兵器の摂取や解体作業が着手された。
- ② 六・三・三・四の新学制が施行され、航空隊の跡地や兵舎などの建物を活用して、同年中に公立の新制中学校が次々と新設された。
- ③ 東京に置かれていた警察予備隊の武器学校が予科練の跡地に移設され、翌月には保安隊の発足にともない、その管理下にうつった。
- ④ 第二次農地改革により茨城県農地部が発足し、農地として解放されていた航空隊内の広大な飛行場の跡地の開拓事業を担当することになった。

- 5 次の資料は、日本の佐藤栄作首相とアメリカのニクソン大統領との間で交わされ、1969年11月に発表された日米共同声明の抜粋である。これを読み、後にある問1～問4に答えよ。

資 料

6. (佐藤)総理大臣と(ニクソン)大統領は、…(中略)…現在のような **A** 情勢の下において、^(a) 沖縄にある米軍が重要な役割を果たしていることを認めた。討議の結果、両者は、…(中略)… **A** の安全をそこなうことなく沖縄の日本への早期復帰を達成するための具体的な取決めに関し、両国政府が直ちに協議に入ることに合意した。さらに、両者は、…(中略)…1972年中に沖縄の復帰を達成するよう、この協議を促進すべきことに合意した。

12. 総理大臣と大統領は、…(中略)…貿易及び国際収支の大幅な不均衡の現状に照らしても、^(b) (両国が)国際貿易及び国際通貨の制度の維持と強化についてそれぞれ重要な責任を負っていることを認めた。

- 問1 資料について述べた次の文中の **A** **B** に当てはまる語句の組合せとして最も適切なものを、下の①～④のうちから一つ選べ。なお、**A** には資料中の **A** と同じ語が入る。解答番号は **21**。

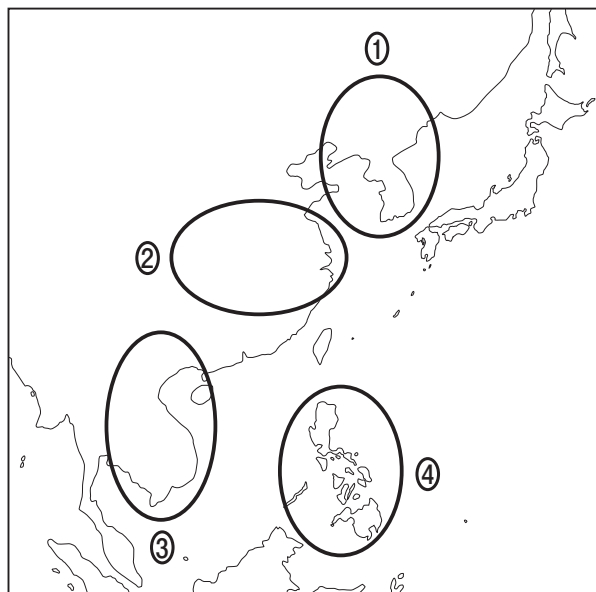
冷戦が激化の様相をみせるなか、日本を **A** における共産主義への防壁にする方針に転じたアメリカのもとで、日本の再軍備がすすめられた。だが、資料発表の前年には、**B** ことに反対する運動がおこっていた。このように、沖縄返還交渉は、反戦・核兵器反対運動の高まりのなかで行われた。

- A ア 極 東
イ 大東亜
B ウ アメリカ軍への後方支援として、政府が海上自衛隊をインド洋に派遣した
エ 革新政党・地元住民などにより、アメリカ軍の原子力空母が長崎県に入港する

- ① アーウ ② アーエ ③ イーウ ④ イーエ

- 問 2 下線部分^(a)沖繩にある米軍について、資料の時期の沖繩の米軍(アメリカ軍)基地は、ある戦争にアメリカが軍事介入したため拡張され、その事実上の前線基地となっていた。この戦争の主戦場を含む地域を、次の地図中の①～④のうちから一つ選べ。解答番号は **22**。

地 図



- 問 3 下線部分^(b)貿易及び国際収支の大幅な不均衡の現状について述べた次の文中の **C**
D に当てはまる語句の組合せとして最も適切なものを、下の①～④のうちから一つ選べ。解答番号は **23**。

アメリカは、悪化した国際収支の改善などを目的に、資料の共同声明から2年後、基軸通貨であるドルと金の交換を **C** 新しい経済政策を発表した。

こののち、国際通貨基金(IMF)を中心としてきた世界経済の枠組みは崩壊に向かい、これまで実質的な **D** のもとで輸出産業に支えられ、経済成長をとげてきた日本経済は、大きな曲がり角をむかえた。

- | | | | |
|-----------|-------|-----------|-------|
| ① C—可能とする | D—円 高 | ② C—可能とする | D—円 安 |
| ③ C—停止する | D—円 高 | ④ C—停止する | D—円 安 |

- 問 4 資料の共同声明発表と最も近い時期のできごとについて述べたものを、次の①～④のうちから一つ選べ。解答番号は **24**。

- ① 黒澤明監督の映画『羅生門』が公開され、国際映画祭で受賞した。
- ② 宝塚少女歌劇団が結成され、兵庫県を根拠地に公演を始めた。
- ③ 「太陽の塔」をシンボルに日本万国博覧会が大阪府で開催された。
- ④ ジャズをはじめとする、欧米の楽曲約 1000 種の演奏が禁止された。

- 6** 次のⅠ・Ⅱは生徒が「我々はなぜ時間を意識するようになったのか」というテーマでまとめたレポートである。これらを読み、後にある問1～問4に答えよ。

Ⅰ

●テーマ設定の理由

先日、忘れ物をしてしまい、学校に遅刻してしまった。先生に注意をされたが、その時ふと、なぜ私たちは時間を気にしながら生活するようになったのだろうと思ったから。

●自分の予想・仮説

明治時代以降、海外と貿易が始まり、時計が輸入されるようになったため。

●調べて分かったこと

資料1

当時は一般の人びとは時計を持たなかったし、また時間の厳守ということはなかったのである。2時に招かれたとしても1時に行くこともあり、3時になることもあり、もっと遅く出かける場合もある。

資料2

この国(日本)ではものごとがすぐには運んでいかないのである。1時間そこいらは問題にならない。辞書で「すぐに」という意味の「ただいま」は、かなり長い時間を意味することもある。

明治初期の人びとの時間に対する意識を調べたところ、外国人の記録に日本人の時間意識が記されていることが多かった。資料1・2は、幕末から明治初期にかけて日本を訪れた外国人の日記等の一部である。彼らから見れば日本人は時間に対して **A** であったようだ。

資料3

乗車するものは、遅くとも表示の時刻より15分前に駅に来て、切符を購入したり、その他の用事を済ませておくように。

発車時刻を守るために、時刻の5分前には駅の入口を閉めておくように。

それでも資料3に見られるように、明治初期の **B** の開通などは人びとの時間意識に大きな影響をもたらした。その他、文部省が出した「小学生徒心得」には「毎日登校は授業時間の10分前であること」などという項目があった。また、規律ある集団行動が求められる軍隊での経験や、工場での労働などが人びとの時間への意識を少しずつ変えていったようである。

問 1 A B に当てはまる語の組合せとして最も適切なものを、次の①～④のうちから一つ選べ。解答番号は 25。

- ① A—おおざっぱ B—鉄 道 ② A—おおざっぱ B—路線バス
 ③ A—几帳面 B—鉄 道 ④ A—几帳面 B—路線バス

問 2 下線部分時計について、次の表から読み取れることと、表の期間中に普及率が上がった背景の組合せとして最も適切なものを、下の①～④のうちから一つ選べ。解答番号は 26。

表 明治期の日本における時計の数と保有率推計

西 暦	累積輸入(単位：千個)		累積国産(単位：千個)		保有率	
	腕時計	置時計	腕時計	置時計	腕時計	置時計
1877 年	108	265	0	0	0.2 %	3.2 %
1887 年	364	695	0	0	0.8 %	8.0 %
1897 年	2008	2125	0	750	4.2 %	31.5 %
1907 年	5171	3448	250	5535	10.0 %	72.3 %

※腕時計は当時の総人口における保有率であり、置時計は一般世帯における保有率である。

(内田星美「明治時代における時計の普及」『遅刻の誕生』により作成)

読み取れること

- ア 置時計の普及率は、腕時計の普及率を超えることはなかった。
 イ 腕時計の国産化は、置時計の国産化よりも遅れた。

普及率が上がった背景

- ウ 工業化の進展により、工業生産額が農業生産額を上回った。
 エ 産業革命の進展により、工場労働者が増加した。


- ① アーウ ② アーエ ③ イーウ ④ イーエ

Ⅱ

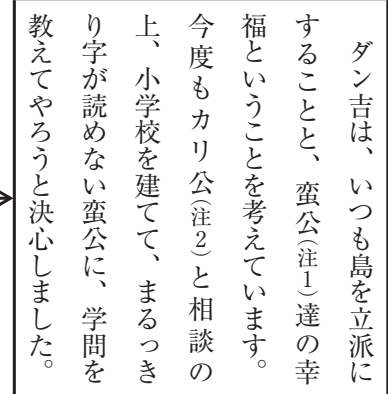
昭和時代のことを調べるためにある書物を読んでいると、資料4の漫画が紹介されていた。この「少年ダン吉」は、少年向け雑誌『少年倶楽部』に1933年から1939年のあいだ連載された漫画である。南の島に漂着した日本人少年ダン吉が、冒険をともしないながら島を文明化していく話である。この回は島に学校を建設するという話であり、資料4でダン吉は C として描かれている。この漫画は D という日本の状況の中で人気が出たようだ。

この書物でもダン吉が常に腕時計をしていることに注目している。時計を持ったダン吉が学校の校長となり、通学する島民を管理しているといえる。

資料4



学校といつても野蛮島のことですから、ヤシの葉で造った屋根があるだけの校舎です。授業を知らせる鐘はヤシの実のからに石つころのはいったのが、ぶら下がっています。何しろ一度遅刻すると、通信簿が乙になる(注3)という規則ですから愉快です。



学校といつても、野蛮島のことですから、椰子の葉で造った校舎があるだけの校舎です。授業を知らせる鐘は、椰子の葉の殻におつころのはいったのが、ぶら下がっています。何しろ一度遅刻すると、通信簿が乙になるという規則ですから愉快です。

(注1) 蜜公：島民を指した表現(資料原文のまま掲載)

(注2) カリ公：絵中のネズミのキャラクター

(注3) 乙になる：成績が下がること

(島田啓三『少年ダン吉(復刻版)』により作成)

問 3 C D に当てはまる語句の組合せとして最も適切なものを、次の①～④のうちから一つ選べ。解答番号は 27。

- ① C—島民に知識を与えるすぐれた人物
D—ワシントン体制の枠組みの中で、協調的な外交を行う
- ② C—島民に知識を与えるすぐれた人物
D—経済的不振を打開するために、対外進出を図る
- ③ C—島民とともに学ぶ対等な人物
D—ワシントン体制の枠組みの中で、協調的な外交を行う
- ④ C—島民とともに学ぶ対等な人物
D—経済的不振を打開するために、対外進出を図る

問 4 I・IIをふまえて、人びとの時間意識に関する文の正誤の組合せとして最も適切なものを、下の①～④のうちから一つ選べ。解答番号は 28。

ア 日本では明治時代のはじめから時間の概念が重視されていたため、時計が普及した。

イ 近代化の過程で様々な制度が整っていく中で、日本人の時間意識は高まっていった。

- | | |
|--------------|--------------|
| ① ア—正 イ—正 | ② ア—正 イ—誤 |
| ③ ア—誤 イ—正 | ④ ア—誤 イ—誤 |

(これで日本史Aの問題は終わりです。)

日 本 史 B

(解答番号 ～)**1** 次のⅠ・Ⅱについて、後にある問1～問4に答えよ。

Ⅰ

説明文

『 』が成立して、2020年で1300年になる。舎人親王らを中心に編纂され、漢文の編年体を用いて書かれた日本の正史である。我が国の歴史を知るうえで非常に重要な史料であるが、記述されなかった事実があることも指摘されている。例えば、600年に遣隋使が派遣され、 ことが、資料1の『隋書』倭国伝の記述からわかるが、『 』には記述されていない。倭国は、この600年以降に国家組織を整備したうえで、607年に遣隋使を派遣している。
(a)

資料1 (意識してある)

開皇二十年(600年)、倭王の使者が、隋の都までやってきた。その使者は、「倭王は天を兄として、太陽を弟としている。太陽が出る前に政務を聞き、太陽が出るとやめて弟に任せるのだと言います。」と言う。皇帝は、「それはまったく筋が通らないことである。」と言い、改めるよう伝えた。

大業三年(607年)、倭王が使者を送ってきた。…(中略)…その国書には「太陽の昇るところの天子が、書を太陽が沈むところの天子に届けます。いかがお過ごしでしょうか。」と書かれる。皇帝はこれを見て不機嫌になり、役人に「この倭人の国書は無礼である。また無礼な国書が来たら持ってくるな。」と言った。翌年、皇帝は、^{はいせいせい}裴世清を使者として倭国に派遣した。

問 1

A

B

 に当てはまる語句の組合せとして最も適切なものを、次の

①～④のうちから一つ選べ。解答番号は

1

。

- ① A—日本書紀 B—倭国の政務について、隋の皇帝は理解を示した
 ② A—日本書紀 B—倭国の政務について、隋の皇帝から批判を受けた
 ③ A—古事記 B—倭国の政務について、隋の皇帝は理解を示した
 ④ A—古事記 B—倭国の政務について、隋の皇帝から批判を受けた

問 2 下線部分^(a)国家組織を整備について、600年から607年の間に実施された政策と、資料1から読み取ることができる607年に派遣された遣隋使への隋の皇帝の対応について、正しいものの組合せを、下の①～④のうちから一つ選べ。解答番号は

2

。

政 策

- ア 大宝律令を施行した。
 イ 憲法十七条を定めた。

皇帝の対応

- ウ 国書が無礼であったため、二度と倭国と関係を持つことはなかった。
 エ 国書が無礼であったが、返礼の使者を倭国へ送った。

- ① アーウ ② アーエ ③ イーウ ④ イーエ

Ⅱ

説明文

六国史の2番目にあたる『続日本紀』は、平安時代初期に、菅野真道らによって編纂された。文武天皇から桓武天皇の時代について書かれ、奈良時代を知るための重要な史料となっている。資料2は、朝廷に銅が献上されたことについての、『続日本紀』の記述である。

資料2 (意識してある)

和銅元年正月十一日

武蔵国秩父郡から良質の銅が献上された。「これは、天と地の神が、ともに政治を祝福して現れた宝であるから、元号を改める。」という天皇のお言葉があった。

これによって、慶雲五年を改めて和銅元年として元号を定める。

和銅元年七月

近江国で銅銭を^{ちゅうぞう}鑄造した。

和銅元年八月

初めて銅銭を使用させた。

和銅四年十月二十三日

天皇は職種や役職による給与の支給規定を定めた。そもそも銭は、余ったものや足りないものを交換するために使うものである。ところが、今の人びとは、これまでの習慣にとられて、このことを理解できないでいる。わずかに売買はしているが、銭を蓄えるほどの者がいない。

問3 資料2から読み取ることができる内容として適切でないものを、次の①～④のうちから一つ選べ。解答番号は 3。

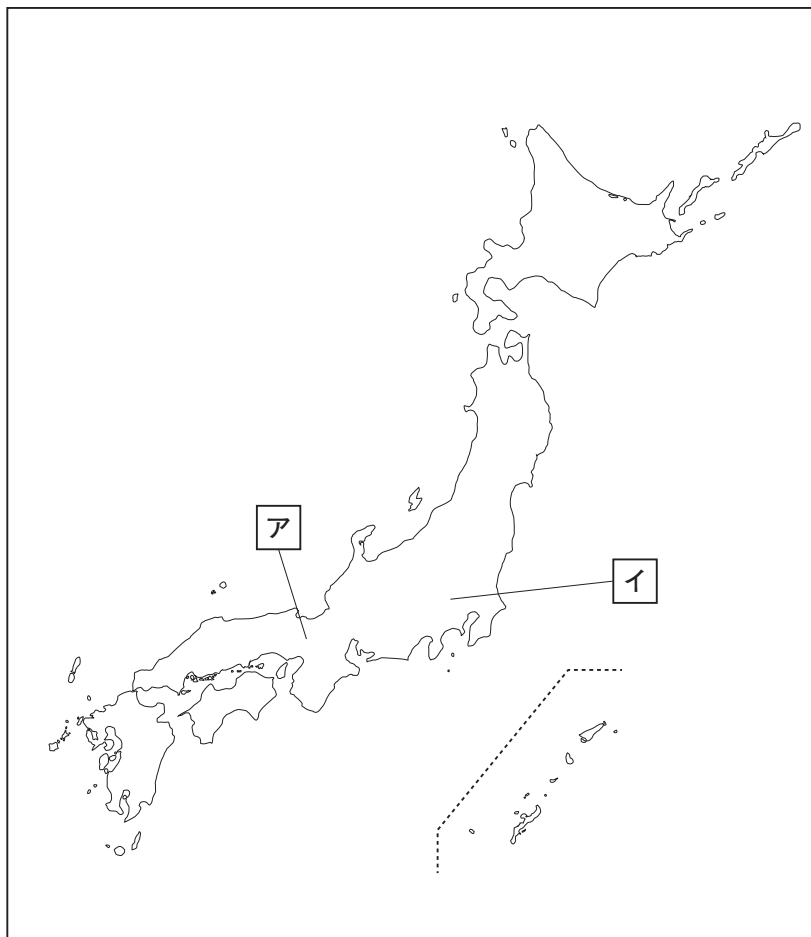
- ① 良質の銅が献上されたその年に、貨幣の鑄造がおこなわれた。
- ② 人びとに、貨幣を使用する習慣が定着していなかった。
- ③ 政府は、必要なものは、物々交換をするべきだと考えている。
- ④ 朝廷に献上品があったことを、喜ばしいことだとして改元がおこなわれた。

問 4 下線部分銅が献上された^(b)について、この時、銅が産出された国の場所と、銅が献上されたことによって鑄造した貨幣の組合せとして正しいものを、下の①～④のうちから一つ選べ。

解答番号は 4。

B

場 所



貨 幣

ウ



エ



① アーウ

② アーエ

③ イーウ

④ イーエ

2 次の会話文を読み、後にある問1～問4に答えよ。

会話文

生徒：絵巻物には、色々な作品がありますね。 **A** 描いた資料1は、博物館などで展示されるといつも人気ですね。いつの時代のものですか。

先生：この絵巻物は、院政期のものです。院政期は、絵巻物が発展した時代で、保元の乱の後、院政を開始した **B** 上皇も絵巻物を愛し、『年中行事絵巻』などを描かせています。資料2も院政期の作品です。

生徒：仏像を前に祈る人物のようすが描かれていますが、どのような作品でしょうか。

先生：命蓮^{みょうれん}という僧の伝説を描いた『信貴山縁起絵巻』です。この場面は、命蓮を訪ねてその姉が旅をする途中、大和国である有名な仏像を拝んでいるようすです。

生徒：ここに描かれた仏像は、鎮護国家の考えにもとづき聖武天皇の命を受けて造立されたものですね。修学旅行で目にする機会がありました。

先生：この仏像は戦乱で焼失してしまい、現在のものは修復されたものです。

生徒：焼失してしまう前の貴重な姿が描かれているのですね。

先生：鎌倉時代になると絵巻物は、新しい時代を生きる人びとのようすを描くようになります。資料3の『一遍上人絵伝』から、どのような人が暮らしているかわかりますか。

生徒：堀や板塀によって防御され、馬などが飼育されていることから、 **C** の生活が描かれていることがわかります。鎌倉幕府の将軍に従った **C** は御家人と呼ばれ、合戦に参加したり、 **D** したりすることなどによって所領の支配を保証されていたんですね。

先生：そうです。蒙古襲来の際に、合戦に参加した御家人も絵巻物を描かせています。

資料1



資料 2



B

資料 3



問 1

A

B

 に当てはまる語句の組合せとして最も適切なものを、次の

①～④のうちから一つ選べ。解答番号は

5

。

- ① A—自然に生きる動物たちの姿を写實的に B—鳥 羽
- ② A—自然に生きる動物たちの姿を写實的に B—後白河
- ③ A—動物たちを擬人化して社会を風刺して B—鳥 羽
- ④ A—動物たちを擬人化して社会を風刺して B—後白河

問 2

C

D

 に当てはまる語句の組合せとして最も適切なものを、次の

①～④のうちから一つ選べ。解答番号は

6

。

- ① C—貴 族 D—天皇や将軍の御所を警護
- ② C—貴 族 D—神仏の權威を背景に強訴
- ③ C—武 士 D—天皇や将軍の御所を警護
- ④ C—武 士 D—神仏の權威を背景に強訴

問 3 資料 2 で描かれた仏像と、その仏像が安置されている寺院の組合せとして正しいものを、

下の①～④のうちから一つ選べ。解答番号は

7

。

仏 像	ア 阿弥陀仏	イ 盧舎那仏	
寺 院	ウ 東大寺	エ 平等院	

- ① アーウ ② アーエ ③ イーウ ④ イーエ

問 4 下線部分蒙古襲来について述べた文として適切でないものを，次の①～④のうちから一つ
選べ。解答番号は 8。

- ① 集団戦法を用いる元軍に対して一騎打ちで戦う御家人は苦戦した。
- ② 1 度目の襲来の後，博多湾沿いに防塁が築かれた。
- ③ 合戦後，御家人の竹崎季長が『蒙古襲来絵詞』を描かせた。
- ④ 種子島に伝来した鉄砲が本格的に使用された。

B

3 次の文を読み、後にある問1～問4に答えよ。

飼い慣らした鷹を使用して山野で鳥や小動物などを捕獲する鷹狩^{たかがり}は、古代以来武芸の一つとして盛んに行われた。

江戸時代においても鷹狩は家康の時代から将軍や諸大名によって盛んに行われ、鷹狩で得た獲物を贈答する慣行も生まれた。表からは、同じ徳川一門でも **A** に対して多くの獲物が将軍より下されていたことがわかる。一方で、将軍は鷹狩で得た鶴を **B** から武家伝奏を通じて天皇に進上した。鷹狩にともなう贈答は大名家の序列の明示や、朝幕関係の構築に利用されたのである。

将軍や諸大名は自領内や幕府から認められた江戸近郊の農村内に鷹狩を行う場所である鷹場を設定したが、その地域の民衆はさまざま^(a)な影響をうけた。

鷹狩のあり方に変化が生じるのが5代将軍綱吉の時代である。**C** ことをめざした綱吉は鷹狩を縮小・廃止させた。

その後、**D** 8代将軍吉宗は、家康が愛好した武芸である鷹狩を復興させた。次の歌はこのような吉宗の鷹狩好きを庶民が風刺したものである。

表 1644年に将軍家光から徳川一門の藩に下された獲物(鳥)の数

藩	石高	下された鳥の数
尾張藩	62万石	50羽
紀州藩	55万石	50羽
水戸藩	28万石	50羽
加賀藩(注)	80万石	30羽
福井藩	52万石	30羽

(注) 加賀藩は当主の前田光高が将軍家光の養女を妻に迎えており、徳川一門に準じた扱いを受けている。

歌

かみ　お　す　き　　た　か　の　　なん　ぎ
上の御数寄な物、御鷹野と下の難儀^(b)
(将軍吉宗の好きな物は、鷹狩りと庶民の苦労である。)

(『享保世話』により作成)

問1 **A** **B** に当てはまる語句の組合せとして最も適切なものを、次の①～④のうちから一つ選べ。解答番号は **9** 。

- ① A—より石高が大きい藩

B—京都所司代
- ② A—より格の高い家柄とされた藩

B—京都所司代
- ③ A—より石高が大きい藩

B—六波羅探題
- ④ A—より格の高い家柄とされた藩

B—六波羅探題

問 2 C D に当てはまる語句の組合せとして最も適切なものを、下の①～④のうちから一つ選べ。解答番号は 10。

- C ア 緊縮財政によって幕府財政を再建する
 イ 仏教や儒教思想を重視し、殺伐とした社会の風潮をあらためる
 D ウ 強い將軍像を示すことで幕府権力の立て直しをめざした
 エ ぜいたくな生活を好み、財政支出を増大させた

- ① アーウ ② アーエ ③ イーウ ④ イーエ

問 3 下線部分その地域の民衆はさまざまな影響をうけた^(a)に関連して、次の資料(意識・抜粋してある)の内容について説明したア・イの正誤の組合せとして正しいものを、下の①～④のうちから一つ選べ。解答番号は 11。

資料 尾張藩が鷹場とした村に対して出した法令

- 一、大名が鷹狩を行う場合は、村の道筋は言うまでもなく、脇道・細道にいたるまで邪魔になるいばらや柵は設置してはならない。また、道・橋等は念入りに整備すること。
 一、鹿・イノシシを許可なく追い払ってはならない。許可なくかかしを立ててはならない。
 一、鷹の餌となる鳥を許可なく追い払ったり、鳥を飼育したりしてはならない。
 一、もし鉄砲を撃つ者がいたら、住所や名を聞き出し、役人に報告すること。
 一、神事や祭礼など大勢の人が集まる行事を行う際は必ず事前に役人に申し出るように。

- ア 農業や狩猟などの生業や村の行事などが制約を受けた。
 イ 不審な人物への警戒や道路整備などの負担が課された。

- ① アー正 イー正 ② アー正 イー誤
 ③ アー誤 イー正 ④ アー誤 イー誤

問 4 下線部分下^(b)の難儀について、このように風刺される原因となった吉宗の政策として最も適切なものを、次の①～④のうちから一つ選べ。解答番号は 12。

- ① 米の売却をおこなう商人である札差に対する旗本・御家人の借金を帳消しとした。
 ② 百姓の都市への出稼ぎを禁じて、江戸に流入した貧民を強制的に農村に返した。
 ③ 幕領における年貢徴収法を検見法から定免法に改めた。
 ④ 都市の町人が負担していた町費を節約させ、そのうちの七割を積み立てさせた。

4 次のⅠ・Ⅱについて、後にある問1～問4に答えよ。

Ⅰ

資料(現代仮名遣いで表記してある)

権利幸福きらいな人に自由湯(注1)をばのましたい

オッペケペ オッペケペッポーペッポーポー

堅い上下(注2)角とれて マンテルズボンに人力車 意気な束髪ボンネット(注3)

貴女に紳士のいでたちで 外部のかざりはよけれども 政治の思想が欠乏だ

天地の真理が解らない 心に自由の種をまけ オッペケペ オッペケペッポ ペッポーポー

(注1) 自由湯:「自由党」という政党名と掛けた言葉になっている。

(注2) 上下: ^{かみしも}袴 を表し、武士の正装のことを示している。

(注3) マンテルズボン, 人力車, 束髪ボンネット: 文明開化による民衆の生活の変化を象徴している。

会話文

先生: この資料は、川上音二郎という自由党壮士だった青年が時事を風刺して作った歌です。

生徒: リズム良く歌われていて耳に残りますね。

「権利幸福きらいな人」とは A に反対する人を指しているのですか。

先生: そうですね。4行目は具体的な政策を批判している ^(a) ようにも読み取れますね。

問1 A に当てはまる語として適切なものを、次の①～④のうちから一つ選べ。解答番号は 13 。

- ① 原水爆禁止運動 ② 自由民権運動 ③ 新体制運動 ④ 地方改良運動

問2 下線部分具体的な政策を批判している ^(a) について、次の B C に当てはまる語句の組合せとして最も適切なものを、下の①～④のうちから一つ選べ。解答番号は 14 。

この具体的な政策とは B を指している。この時期、
C が適用されたノルマントン号事件をきっかけに、日本国民の間に不平等条約への不満が高まっていった。

- ① B—急速に西洋の生活や文化を取り入れようとする極端な欧化政策 C—領事裁判権
② B—急速に西洋の生活や文化を取り入れようとする極端な欧化政策 C—関税自主権
③ B—民衆暴動の鎮圧を目的に朝鮮半島に出兵するという積極的な外交政策 C—領事裁判権
④ B—民衆暴動の鎮圧を目的に朝鮮半島に出兵するという積極的な外交政策 C—関税自主権

Ⅱ



説明文

この風刺画は日露戦争における国際関係を描いたものである。Dは、中国の利権を奪われることを恐れて日本^(b)の背中を強く押している。一方、遠くから眺めているように見えるEは、講和条約締結の仲介を行うなど日本に協力的な態度を示した。

問 3 D E に当てはまる語の組合せとして最も適切なものを、次の①～④のうちから一つ選べ。解答番号は 15。

- | | | | |
|----------|--------|----------|--------|
| ① D—ドイツ | E—フランス | ② D—ドイツ | E—アメリカ |
| ③ D—イギリス | E—フランス | ④ D—イギリス | E—アメリカ |

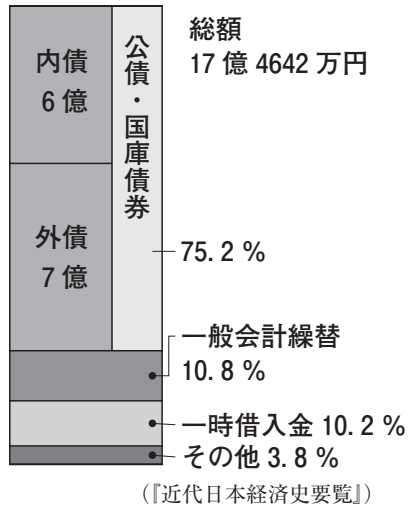
問 4 下線部分日露戦争^(b)がおきた時期として適切なものを、次の①～④のうちから一つ選べ。解答番号は 16。

- 江華島事件
↓ ①
甲午農民戦争
↓ ②
義和団事件
↓ ③
ハーグ密使事件
↓ ④
三・一独立運動

5 次のⅠ・Ⅱについて、後にある問1～問4に答えよ。

Ⅰ

図 「日露戦争の戦費調達」



資料1 夏目漱石『それから』(小説)

日本ほど借金をこしらえて、貧乏震いしている国はありやしない。この借金が君、いつになったら返せると思うか。…(中略)…日本は西洋から借金でもしなければ、到底立ちゆかない国だ。それでいて、一等国をもって任じている。……

生徒のまとめ文

図や資料1から分かるように、日本は、戦費の **A** を借金でまかなっていました。なかでもイギリスやアメリカなどに対して発行した **B** が、「公債・国庫債券」の半分以上を占めました。

借金返済などで国家財政が悪化したことから、 **C** 内閣は、財政整理をすすめました。一方で陸軍は、朝鮮半島の国家を併合したことを理由に軍備 **D** を要求しました。

問1 図をもとに **A** **B** に当てはまる語の組合せとして適切なものを、次の

①～④のうちから一つ選べ。解答番号は **17**。

- ① A—約半分 B—外債 ② A—約半分 B—内債
③ A—4分の3以上 B—外債 ④ A—4分の3以上 B—内債

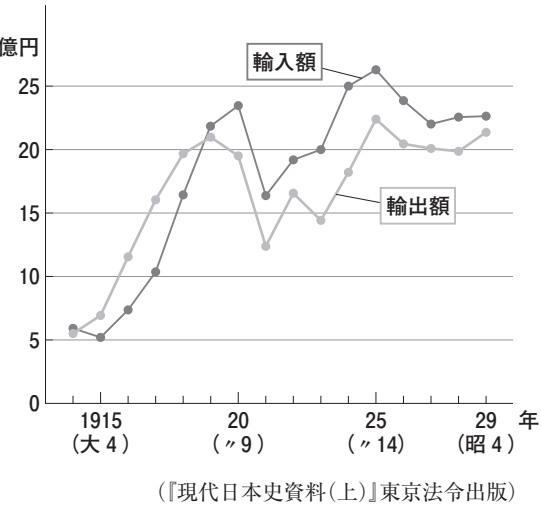
問2 **C** **D** に当てはまる語句の組合せとして最も適切なものを、次の①～

④のうちから一つ選べ。解答番号は **18**。

- ① C—西園寺公望 D—縮小 ② C—西園寺公望 D—拡大
③ C—山県有朋 D—縮小 ④ C—山県有朋 D—拡大

Ⅱ

資料2 「日本の貿易額の推移」



資料3 「企業の資本金増加比」

業種	1914(大3) (A)(万円)	1919(大8) (B)(万円)	$\frac{B}{A}$ (倍)
海 運 業	1930	1 億 9550	10. 1
鋁 業	1670	2 億 8940	17. 3
化学工業	1460	2 億 4930	17. 1
造 船 業	20	2240	112. 0
金属工業	130	4470	34. 4
紡 績 業	170	2 億 6020	153. 1
織 布 業	320	2 億 1390	66. 8
銀 行 業	5200	6 億 4260	12. 4
鉄 道 業	3120	2 億 1710	7. 0
電 力 業	3100	4 億 6100	14. 9

生徒：資料2を見ると、1915～1918年の間は、**E**を上回っていたんですね。

先生：戦争がおこったことと関係があるのでしょうか。

生徒：戦争の主戦場となった**F**から手を引いたことが日本に好景気をもたらしたんですね。特に、紡績業の成長が著しかったことが、資料3から分かります。

先生：そうです。**G**業も1914年から5年間で、資本金が100倍以上に増加しました。

- 問3 **E** **F** に当てはまる語句の組合せとして最も適切なものを、次の①～④のうちから一つ選べ。解答番号は **19**。
- ① E—輸出額が輸入額 F—ヨーロッパ諸国が、アジア市場
 - ② E—輸出額が輸入額 F—アジア諸国が、ヨーロッパ市場
 - ③ E—輸入額が輸出額 F—ヨーロッパ諸国が、アジア市場
 - ④ E—輸入額が輸出額 F—アジア諸国が、ヨーロッパ市場

- 問4 **G** に当てはまる語として最も適切なものを、次の①～④のうちから一つ選べ。解答番号は **20**。
- ① 造 船 ② 銀 行 ③ 鋁 ④ 電 力

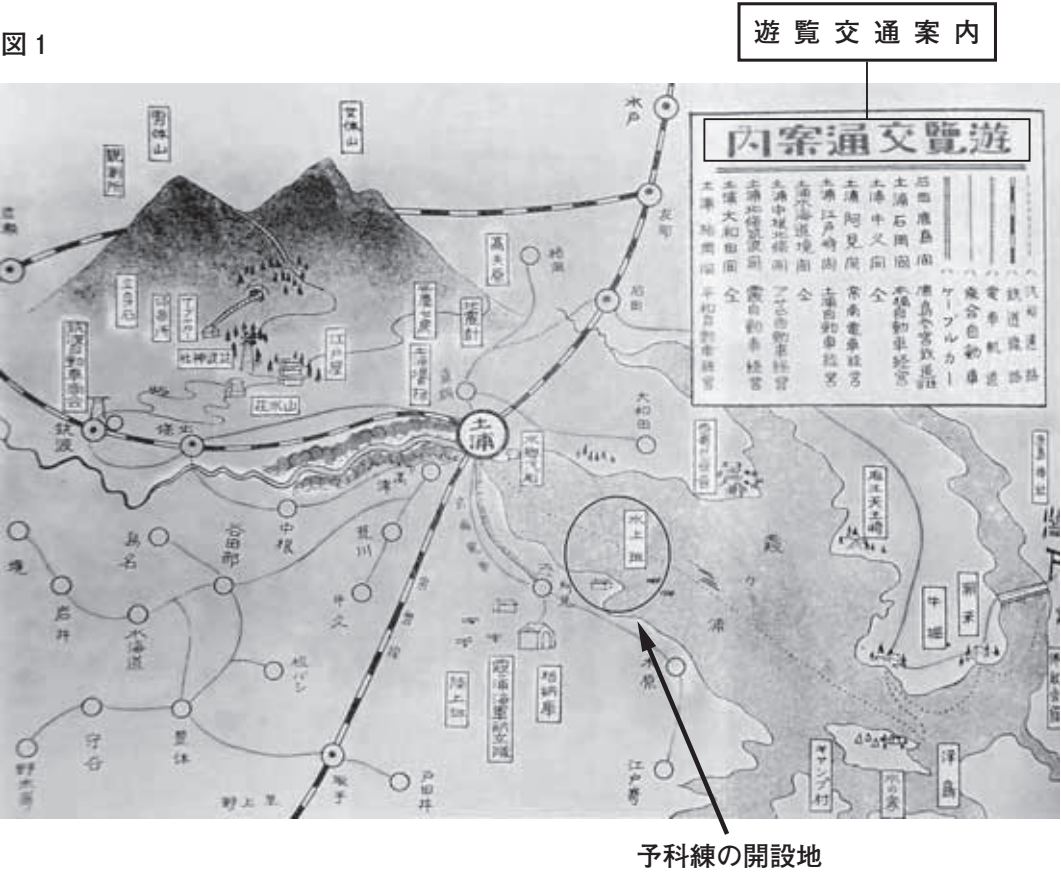
6 次のレポートは、茨城県に住むある高校生が日本史Bの地域学習における課題として書いたものである。これを読み、後にある問1・問2に答えよ。

レポート

私の住む土浦市は、今年(2020年)で、市制の施行から80年をむかえます。市制施行の同年、海軍の少年飛行兵の養成機関として、市の隣町に予科練(土浦海軍航空隊)が開設されました。この予科練との関わりの中で、土浦では道路の整備や市街地の形成がすすみ、今日につながる発展の基礎がつけられました。

予科練の前身は、第一次世界大戦の終了から4年後に開設された、霞ヶ浦海軍航空隊にさかのぼります。航空隊の開設から18年後、飛行兵の養成部門を分離・独立させ、図1に「水上班」と見える地に開設されたのが予科練です。その背景には、多くの飛行兵の育成を必要とする、時代の要請がありました。予科練には、大空を自由に飛び交うことを夢見る、私たちと同世代の若者たちが全国から志願したようです。

図1



右の図2は、予科練発足の年に発売された絵葉書(包紙)です。表題の「**A**」の文字は、当時の土浦の軍事都市としての性格を伝えており、「**B**」の文字が添えられていることや図1の内容などから、**C**による経済効果も期待されていたことが分かります。

戦時色が強まる中、市内は予科練生や海軍関係者でにぎわったといえます。その一方、時局の影響は衣食住や教育など、市民生活のあらゆる分野におよびました。

第二次世界大戦の末期、日本の敗色が濃くなるなかで予科練における教育活動は凍結され、終戦となりました。その後、予科練から霞ヶ浦海軍航空隊におよぶ広大な海軍の用地はさまざまな変遷をへて、今日にいたっています。

図2



問1 **A** **B** **C** に当てはまる語の組合せとして最も適切なものを、次の

①～④のうちから一つ選べ。解答番号は **21**。

- ① A—水郷 B—空都 C—農業
- ② A—水郷 B—空都 C—観光
- ③ A—空都 B—水郷 C—農業
- ④ A—空都 B—水郷 C—観光

問 2 下線部分時局の影響について、次の資料(表記等を一部改めてある)は、その一例を示す当時の汽船会社の広告である。これについて述べたア・イの各文を読み、その正誤の組合せとして最も適切なものを、下の①～④のうちから一つ選べ。解答番号は 22。

資 料

記

米英撃滅・必勝祈願 鹿島^(注)・香取両神宮参拝

今年こそは！敵である米英と戦い抜き、勝ち抜く決戦の年であります。…(中略)…
来たる四月一日より、左のとおり「日帰り参拝船」の申し込みを歓迎致します。
奮ってご利用願います。

発 船 地	四百人迄(さつき丸)	二百五十人迄(あやめ丸)	百五十人迄(鹿島丸)
江戸崎・入古渡より両神宮間往復	六〇〇円	三七五円	二二五円
銚子方面より	六四〇円	四〇〇円	二四〇円
其他霞ヶ浦沿岸地方より	六〇〇円	三七五円	二二五円

一、右の表は、国民学校団体の料金を示しました。
一、右の表の基準人員に満たない場合でも、表のとおり料金を申し受けます。
…(後略)…

(注) 鹿島・香取両神宮…鹿島神宮と香取神宮。ともに武神・軍神をまつる神社として知られている。

- ア この広告は、日ソ中立条約の締結より後の時期につくられたものである。

イ この広告では、現在の小学生に当たる年齢層の人びとを対象に神社参拝をよびかけている。

① アー正 イー正

② アー正 イー誤

③ アー誤 イー正

④ アー誤 イー誤



- 7 次の資料は、日本の佐藤栄作首相とアメリカのニクソン大統領との間で交わされ、1969年11月に発表された日米共同声明の抜粋である。これを読み、後にある問1・問2に答えよ。

資料

6. (佐藤)総理大臣と(ニクソン)大統領は、…(中略)…現在のような **A** 情勢の下において、沖縄にある米軍が重要な役割を果たしていることを認めた。討議の結果、両者は、…(中略)… **A** の安全をそこなうことなく沖縄の日本への早期復帰を達成するための具体的な取決めに關し、両国政府が直ちに協議に入ることに合意した。さらに、両者は、…(中略)…1972年中に沖縄の復帰を達成するよう、この協議を促進すべきことに合意した。

12. 総理大臣と大統領は、…(中略)…貿易及び国際収支の大幅な不均衡の現状に照らしても、(両国が)国際貿易及び国際通貨の制度の維持と強化についてそれぞれ重要な責任を負っていることを認めた。

- 問1 資料について述べた次の文中の **A** **B** に当てはまる語句の組合せとして最も適切なものを、下の①～④のうちから一つ選べ。なお、**A** には資料中の **A** と同じ語が入る。解答番号は **23**。

冷戦が激化の様相をみせるなか、日本を **A** における共産主義への防壁にする方針に転じたアメリカのもとで、日本の再軍備がすすめられた。だが、資料発表の前年には、**B** ことに反対する運動がおこっていた。このように、沖縄返還交渉は、反戦・核兵器反対運動の高まりのなかで行われた。

- A ア 極 東
イ 大東亜
B ウ アメリカ軍への後方支援として、政府が海上自衛隊をインド洋に派遣した
エ 革新政党・地元住民などにより、アメリカ軍の原子力空母が長崎県に入港する

- ① アーウ ② アーエ ③ イーウ ④ イーエ

- 問 2 下線部分貿易及び国際収支の大幅な不均衡の現状について述べた次の文中の C
- D に当てはまる語句の組合せとして最も適切なものを、下の①～④のうちから一つ
 選べ。解答番号は 24。

B

アメリカは、悪化した国際収支の改善などを目的に、資料の共同声明から2年後、基
 軸通貨であるドルと金の交換を C 新しい経済政策を発表した。

こののち、国際通貨基金(IMF)を中心としてきた世界経済の枠組みは崩壊に向かい、
 これまで実質的な D のもとで輸出産業に支えられ、経済成長をとげてきた日本
 経済は、大きな曲がり角をむかえた。

- | | | | |
|-----------|-------|-----------|-------|
| ① C—可能とする | D—円 高 | ② C—可能とする | D—円 安 |
| ③ C—停止する | D—円 高 | ④ C—停止する | D—円 安 |


8 トイレやし尿処理の歴史に関する次の会話文Ⅰ～Ⅲを読み、後にある問1～問4に答えよ。

会話文Ⅰ

生徒：先生、昔の人はどのようなトイレを使っていたのですか。

先生：図1は縄文時代の遺跡である福井県の鳥浜貝塚から見つかった糞石^{ふんせき}です。糞石とは人間の排泄物^{はいせつ}が化石となったものです。この場所から糞石が見つかったことから、縄文人が **A** をトイレのように利用する場合があったことがわかります。また、糞石の内容物からは、縄文時代が **B** を中心とする社会であったことがあらためて確認できます。

図1



〔内容物〕 獣肉の繊維，魚のウロコ・骨，山ゴボウの繊維，ネマガリダケ（野生のタケノコ）の先端部

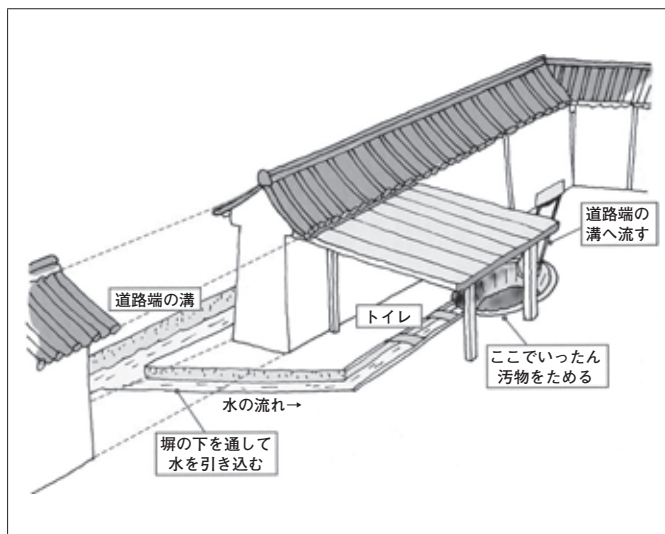
生徒：明確にトイレとみなせるような遺構が見つかるのはいつの時代からですか。

先生：飛鳥時代の遺跡からは掘った穴に排泄したとみられる遺構が見つかっています。注目されるのは奈良時代の平城京跡から見つかったトイレ遺構です。図2はその想像図です。宅地の外側を流れる道路の側溝^{そっこう}から水を敷地内に引き込み，それによってできた水路を利用して排泄する，いわば「水洗トイレ」ということになります。

生徒：すごい構造ですね。問題はなかったのでしょうか。

先生：平安京にも同じ構造のトイレがありましたが、資料1からは **C** ことがわかります。

図2



資料1 815年に出された法令


…(前略)…平安京内にある役所や家が垣根に穴を開けて水を家の敷地内に引くために側溝を塞いで道路を水で浸してしまう。管理する役所に命じて修理させること。また、水を敷地内に引くことはよいが、汚物を外に流すことがないようにすべきである。…(後略)…

(『類聚三代格』により作成)

生徒：古代～中世の庶民の排泄を描いた絵としては『^{がきぞうし}餓鬼草紙』(注)も有名ですね。

先生：図3で示した場面には老若男女の排便を食べる餓鬼の姿が描かれています。注目されるのはこの場面に描かれている庶民のようすです。 D ことが読み取れることから、都の「共同トイレ」を描いた場面であるという説があります。

図3



(注) 仏教思想の六道輪廻^{りんね}のうち、生前の悪業により飲食の飢えと苦しみを満たされない餓鬼道に堕ちた者を描いた絵巻。

問1 A B に当てはまる語句の組合せとして最も適切なものを、次の①～④のうちから一つ選べ。解答番号は 25。

- | | |
|--------------------|------------|
| ① A—不要となったものを投棄する場 | B—狩猟・漁労や採取 |
| ② A—不要となったものを投棄する場 | B—水稻耕作 |
| ③ A—外敵から集落を守る設備 | B—狩猟・漁労や採取 |
| ④ A—外敵から集落を守る設備 | B—水稻耕作 |

問2 C D に当てはまる語句の組合せとして最も適切なものを、下の①～④のうちから一つ選べ。解答番号は 26。

- C ア 側溝を利用するトイレの築造により、都市環境の悪化が問題となっていた
 イ 側溝を利用するトイレの築造が奨励され、都市環境は良好な状態に保たれていた
- D ウ 壁で区切られた個室で人びとが排泄している
 エ 複数の人びとがあつまって路上に排泄している

- ① アーウ ② アーエ ③ イーウ ④ イーエ

会話文Ⅱ

先生：中世になると、人間のし尿を原料とした肥料である下肥が利用されるようになったことで、し尿を壺や甕などにためる汲み取り式のトイレが登場します。そして、江戸時代になると人口が集中する都市で出たし尿を周辺農村で下肥として利用するしくみができあがります。

生徒：江戸時代は循環型の社会だったんですね。

先生：次の資料2は、江戸時代の京都のようすについて1837年に書かれた文献の一部です。

資料2（意識してある）

桶と野菜を盛った籠^{かご}をかつぎ、「野菜と小便」などと言ってまわる業者がいる。道沿いの家の住人が「入って小便を汲みなさい」とその業者に伝える。業者は桶に汲み終わると「大根何本分」「ナス何個分」と報告し、家の住人は小便と野菜を交換する。…(中略)…大便を集める業者も同様である。…(中略)…借^{しゃくや}家の場合、(大家が)し尿を全て一人の業者に汲み取らせる契約をしており、住人たちはし尿を自由に扱うことはできない。…(中略)…京都を巡回すると、し尿は相当な量となった。山城国の農業はおおむねこの下肥によるものである。伏見の村などは京都から遠いため、運搬には高瀬川が利用された。数十桶を満載した船が悪臭を漂わせながら川を下っていった。…(後略)…

(『都繁昌記』により作成)

問3 資料2の内容について説明した文として適切なものを、次の①～④のうちから一つ選べ。

解答番号は 27。

- ① 都市の住民たちはし尿の処理費用として業者に野菜を渡していた。
- ② し尿は悪臭を放ったため運搬に水運を利用することは許されなかった。
- ③ 借家から出たし尿からあがる利益は大家のものとなった。
- ④ 京都周辺の農村では下肥はほとんど普及していなかった。

会話文Ⅲ

生徒：近代以降はどうなっていったのですか。

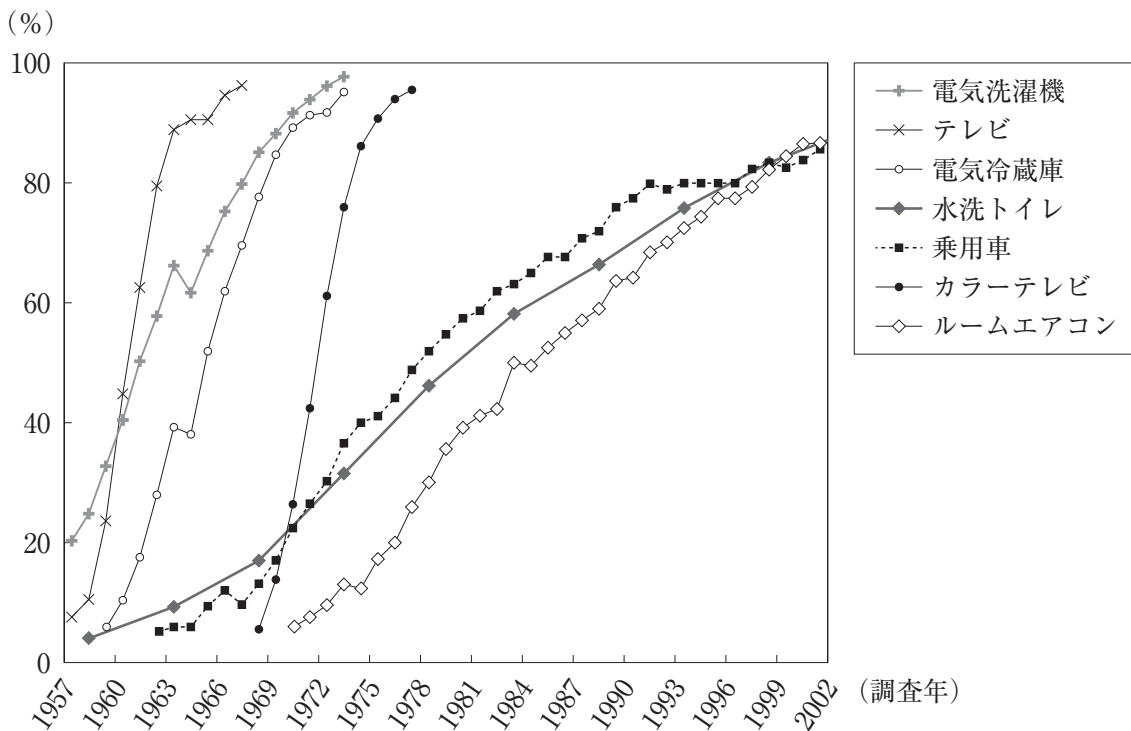
先生：明治時代になると、欧米の文化が日本に流入してきます。明治の中頃には水洗式の便器も輸入されますが、庶民の住宅は依然として汲み取り式のトイレでした。

生徒：水洗トイレは現在までにどのように普及していったのですか。

先生：日本で下水道が本格的に整備されるようになったのは、第二次世界大戦後のことです。

次のグラフは戦後における水洗トイレを含めた耐久消費財の普及率を示すものです。

グラフ



問 4 グラフについて述べたア・イの正誤の組合せとして正しいものを、下の①～④のうちから一つ選べ。解答番号は 28。

ア 高度経済成長期において、水洗トイレは当時「三種の神器」と呼ばれた耐久消費財の普及率を上回っていた。

イ バブル景気と呼ばれる時期までに水洗トイレの普及率は 80 % に達した。

① アー正 イー正

② アー正 イー誤

③ アー誤 イー正

④ アー誤 イー誤

