

令和2年度 世界史A・世界史B (50分)

注 意 事 項

- 1 試験開始の合図があるまで、この問題冊子の中を見てはいけない。
- 2 出題科目、ページ及び選択方法は、下表のとおりである。

出題科目	ページ	選 択 方 法
世界史A	1～26	左の2科目のうちから1科目を選択し、解答しなさい。
世界史B	27～52	

- 3 試験中に問題冊子の印刷不鮮明、ページの落丁・乱丁及び汚れ等に気付いた場合は、手を挙げて監督者に知らせること。
- 4 試験開始の合図前に、監督者の指示に従って、解答用紙の該当欄に以下の内容をそれぞれ正しく記入し、マークすること。

・①氏名欄

氏名を記入すること。

・②受験番号、③生年月日、④受験地欄

受験番号、生年月日を記入し、さらにマーク欄に受験番号(数字)、生年月日(年号・数字)、受験地をマークすること。

・⑤解答科目欄

解答する科目名を○で囲み、さらにその下のマーク欄にマークすること。

- 5 受験番号、生年月日、受験地が正しくマークされていない場合は、採点できないことがある。
- 6 解答科目が正しくマークされていない場合は採点できないので、必ず正しくマークすること。
- 7 解答は、解答用紙の解答欄にマークすること。例えば、

10

と表示のある解答番号に対して②と解答する場合は、次の(例)のように解答番号10の解答欄の②にマークすること。

(例)

解答番号	解 答 欄
10	① ② ③ ④

- 8 問題冊子の余白等は適宜利用してよいが、どのページも切り離してはいけない。
- 9 試験終了後、問題冊子は持ち帰ってよい。

世界史 A

(解答番号 ~)

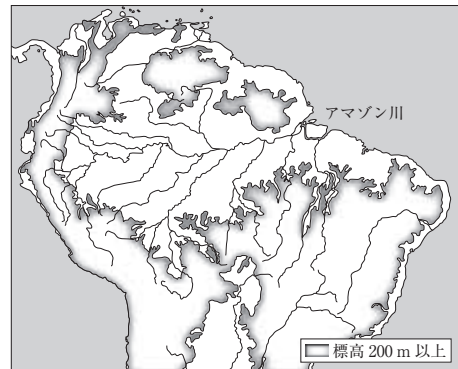
1 次の文章と図版に関連して、問1～問2に答えよ。

高校生の山本さんは、アマゾンの環境保護について関心を持ち、調べた結果を2枚のパネルにまとめて授業で発表した。

パネル1

ブラジルのアマゾン地域

- ・ブラジルは、ラテンアメリカ最大の面積・人口を持つ国である。19世紀に から独立し、現在も 語が主に話されている。
- ・ブラジルのアマゾン地域では、パラゴムノキから採取する天然ゴムが特産である。



パネル2

天然ゴムとアマゾン

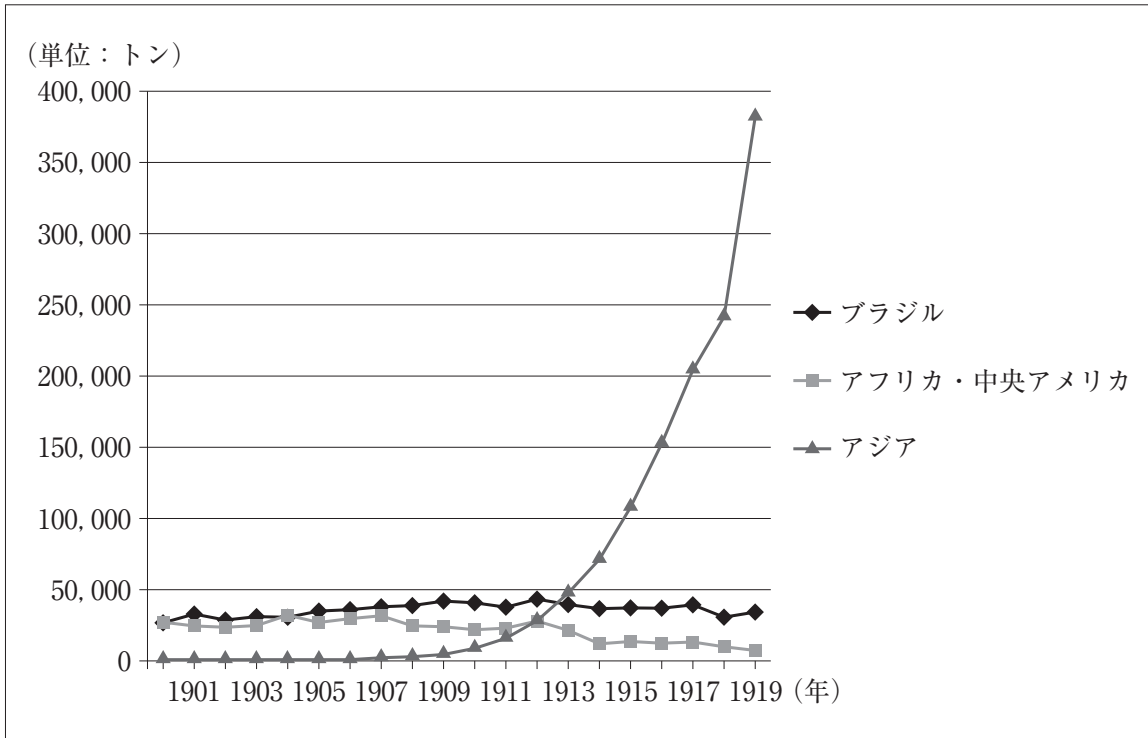
- ・パラゴムノキは熱帯のアマゾン川流域原産の高木で、幹を傷つけたところから流れ出る乳液から天然ゴムが得られる。
- ・ブラジルの天然ゴム産業は、19世紀末から20世紀初めにかけて繁栄したが、^(a)ほどなくアジアに追い越された。^{はがれ}葉枯病による病害や、労働力の不足が原因とされている。
- ・天然ゴムの採取活動は、森林の生態系を破壊することなく行われることから、近年、エコロジーの側面から注目されるようになり、アマゾン各地に採取保護区が設けられている。



問1 に当てはまる語句を、次の①～④のうちから一つ選べ。解答番号は 。

- ① イタリア
- ② フランス
- ③ ポルトガル
- ④ 日本

問 2 下線部分 19 世紀末から 20 世紀初めにかけて繁栄したが、ほどなくアジアに追い越された^(a)とあるが、それは、主にイギリスが熱帯の植民地で栽培・生産したためであった。次のグラフから読み取れる、20 世紀初めの世界のゴム生産量の推移の説明として適切なものと、イギリスがゴムの生産を行った植民地との組合せとして正しいものを、下の①～④のうちから一つ選べ。解答番号は 2。



グラフ 世界のゴム生産量

	ゴム生産量の推移の説明	イギリスがゴムの生産を行った植民地
①	アジアのゴム生産量は、第一次世界大戦が始まったときには首位に立っていた。	マレー(マラヤ)
②	アジアのゴム生産量は、第一次世界大戦が始まったときには首位に立っていた。	カナダ
③	ブラジルのゴム生産量は、グラフに示した20年間を通して、年5万トンを下回ることはなかった。	マレー(マラヤ)
④	ブラジルのゴム生産量は、グラフに示した20年間を通して、年5万トンを下回ることはなかった。	カナダ

2 次の文章と図版に関連して、問1～問4に答えよ。

生徒が印章について調べ、資料1～資料4を見ながら、先生と会話をしている。

生徒： 最初に興味を持ったのは、資料1の円筒印章です。左側の円筒状の印を粘土板の上に転がすと、右側のような模様が浮かび上がります。紀元前2600年頃、^(a)メソポタミアで使用されたもののようです。

先生： 転がす印章とはユニークなものを見つけましたね。ところで、資料2は、後漢の初代皇帝である **A** が、倭の小国に与えた「漢委奴国王」の金印に似ていますね。

生徒： はい。資料2は、前漢の武帝が、中国の西南部にあった滇^{てん}国の王に与えた金印です。「漢委奴国王」の金印に、大きさも、蛇をかたどったつまみも、そっくりなのです。

先生： どちらも、漢が周辺の国と君臣関係を結ぶという **B** を行った際に与えたものです。では、資料2の右側の印影を見て、印章のつくり注目してみましょう。私たちが現在よく使う印章は、印面の文字を残して、周りが彫られており、隋・唐代から主流になったタイプです。一方、資料2は、印面の文字の部分が彫り込まれています。なぜ、前漢の時代には、資料2のタイプが使われていたのでしょうか。その背景を、資料3をもとに考えてごらん。

生徒： **C** が背景にあると思います。

先生： よく分かりましたね。最後に、資料4はどんな印章ですか。


生徒： ^(b)神聖ローマ皇帝のカール4世が発布した「金印勅書」に付けられていた金印です。ヨーロッパの印章は、東アジアのものとは形もデザインもずいぶん違います。

資料 1



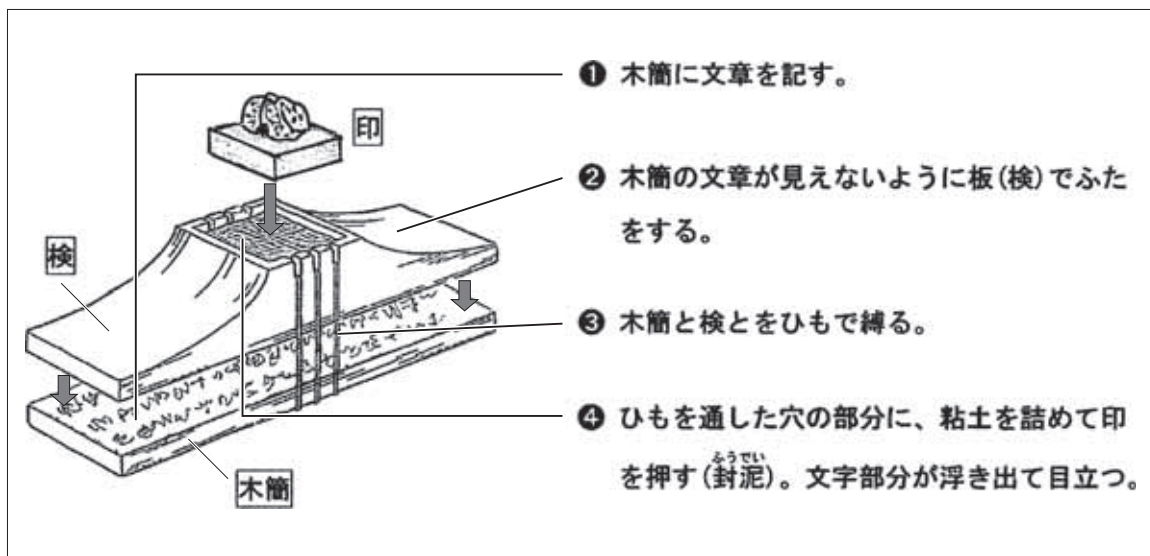
円筒印章(左)と、粘土板に押された印影(右)

資料 2



「漢王^{てんおうのいん}之印」(左)とその印影(右)

資料 3



漢の時代における文書に封をする仕方

資料 4



「金印勅書」(1356 年)に付けられていた金印

問 1 下線部分^(a)メソポタミアで栄えた古代文明において、粘土板に刻んで使用された文字を、次の①～④のうちから一つ選べ。解答番号は 。

- ① 楔形文字
- ② 甲骨文字
- ③ 神聖文字(ヒエログリフ)
- ④ 訓民正音(ハングル)

問 2 に当てはまる人物を、次の①～④のうちから一つ選べ。解答番号は 。

- ① 始皇帝
- ② 光武帝
- ③ 冒頓単于
- ④ ヌルハチ

問 3 に当てはまる語句と、 に当てはまる文との組合せとして正しいものを、次の①～④のうちから一つ選べ。解答番号は 。

	<input type="text" value="B"/>	<input type="text" value="C"/>
①	囲い込み	活版印刷術が改良され、紙の文書の大量印刷が可能になったこと
②	囲い込み	製紙法が改良されておらず、紙が普及していなかったこと
③	冊 封	活版印刷術が改良され、紙の文書の大量印刷が可能になったこと
④	冊 封	製紙法が改良されておらず、紙が普及していなかったこと

問 4 下線部分^(b)神聖ローマ皇帝について述べた文として適切なものを、次の①～④のうちから一つ選べ。解答番号は 。

- ① イヴァン 3 世が、ツァーリの称号を名乗った。
- ② コンスタンティヌス帝が、キリスト教を公認した。
- ③ ローマ教皇との間に、聖職叙任権をめぐる闘争をおこした。
- ④ マムルークとよばれる奴隷兵を重用した。

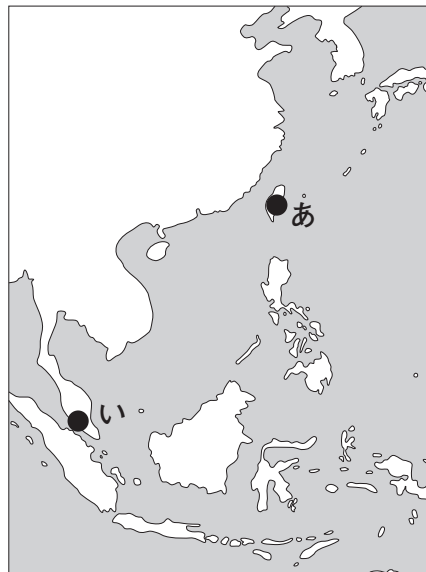
3 1～2の文章と図版に関連して、問1～問5に答えよ。

1 トメ＝ピレスは、ポルトガルが初めて中国に派遣した大使で、1511年にリスボンを出発した。1512年にはマラッカ^(a)、1517年には広州に到着し、上陸を許されて、北京へ向かった。しかし、明の皇帝への謁見は実現できなかった。彼がマラッカ滞在中に書いたと思われる『東方諸国記』^(b)には、マラッカや琉球など、各地のようすが記されている。次の資料1は、その一節である。

資料1

レケオ(琉球)人はゴーレスとよばれる。…彼らはシナ(中国)に渡航して、マラカ(マラッカ)からシナにきた商品を持ち帰る。彼らはジャンポン(日本)へ赴^{おもむ}く。…彼らはそこで、この島にある黄金と銅とを商品と交換に買い入れる。…

問1 下線部分マラッカ^(a)の略地図中のおよその位置と、資料1から読み取ることができる内容との組合せとして正しいものを、下の①～④のうちから一つ選べ。解答番号は 7。



	位置	内容
①	あ	琉球では、黄金と銅が産出されていた。
②	あ	琉球人は、中継貿易を行っていた。
③	い	琉球では、黄金と銅が産出されていた。
④	い	琉球人は、中継貿易を行っていた。

問 2 下線部分明^(b)に関して、次の資料 2 に記された政策として適切なものを、下の①～④のうちから一つ選べ。解答番号は 。

資料 2

洪武 14 年、…。百十戸を一里として、成人男子数と納税額の多いもの十戸を推薦して長として、残りの百戸を十の甲(グループ)に分けた。

- ① 第 1 次国共合作を行った。
- ② 里甲制を実施した。
- ③ 審査法を制定した。
- ④ 全権委任法を制定した。

2 生徒と先生が、図を見ながら会話している。

先生： この絵画は、1530年頃にイラン地方で製作された『王書(シャー＝ナーメ)』の挿し絵です。この時期のイラン地方について、どんなことを学習したか覚えていますか。

生徒： 挿し絵はミニアチュールといって、中国の技法の影響を受けているんですよね。1530年頃のイラン地方といたら、**A** を国教としたサファヴィー朝の時代です。

先生： よく勉強していますね。サファヴィー朝は **B** の時に最盛期を迎え、オスマン帝国から領土を奪還し、^(c)17世紀にはホルムズ島からポルトガルを追放するなどしました。

生徒： 都はイスファハーンにおかれ、「世界の半分」といわれたとも学習しました。「世界の半分」とはどのようなことなんでしょうか。

先生： 王宮やバザール(市場)、モスクなどが建ち並び、栄華を誇ったようすを示している言葉です。カスピ海の南岸地域の特産物の絹を求めて、オスマン帝国やオランダなどから多くの商人が集まったようですよ。^(d)



図 『王書(シャー＝ナーメ)』の挿し絵

問 3 と に当てはまる語句の組合せとして正しいものを、次の①～④のうちから一つ選べ。解答番号は 。

	<input type="text" value="A"/>	<input type="text" value="B"/>
①	カルヴァン派	アッパーズ 1 世
②	カルヴァン派	ケネディ
③	シーア派	アッパーズ 1 世
④	シーア派	ケネディ

問 4 下線部分 17 世紀 の世界のようすについて述べた文として適切なものを、次の①～④のうちから一つ選べ。解答番号は 。

- ① ネルチンスク条約が、ロシアと清との間で結ばれた。
- ② 趙匡胤が、北宋を建てた。
- ③ ウマイヤ朝が、ダマスカスを都として成立した。
- ④ アレクサンドロス大王が、東方遠征を行った。

問 5 下線部分 オランダ について述べた文として適切なものを、次の①～④のうちから一つ選べ。解答番号は 。

- ① バラ戦争がおこった。
- ② インカ帝国を滅ぼした。
- ③ 啓蒙専制君主が統治した。
- ④ ウェストファリア条約で独立が認められた。

4 1～2の文章と図版に関連して、問1～問6に答えよ。

1 生徒と先生が、次の資料を見ながら会話している。

資料

余(フェルディナント1世)…は、いまや、余の忠実なる諸民族の願望を実現するために余が必要と認めた諸指令を下した。出版の自由は、検閲を廃止する余の布告によって…認可された。…余の決定した祖国の憲法(制定)を目的として、…必要な措置をとった。

先生： これはオーストリア皇帝フェルディナント1世が、1848年のウィーン三月革命の時に出した文書です。これをみたウィーンの民衆は熱狂したようです。^(a)

生徒： この資料を読むと、民衆が望んでいた **A** が約束されたように感じます。

先生： この資料からは、そう読み取れますね。しかし実際には、皇帝は議会を召集しませんでした。また、発布された選挙法でも労働者には選挙権が認められませんでした。

生徒： 労働者は反発しませんでしたか。^(b)

先生： 労働者や学生の大規模なデモがおこり、一時は皇帝が逃亡を余儀なくされました。しかし最終的には、皇帝はウィーンに戻り、革命勢力は弾圧されました。



ウィーン三月革命で皇帝が出した文書

問 1 下線部分^(a)ウィーン三月革命によって亡命したオーストリア宰相と、A に当てはめた時に適切な内容となる語句との組合せとして正しいものを、次の①～④のうちから一つ選べ。解答番号は 12。

	宰 相	A
①	ソクラテス	憲法の制定
②	ソクラテス	国際連盟への参加
③	メッテルニヒ	憲法の制定
④	メッテルニヒ	国際連盟への参加

問 2 下線部分^(b)労働者が中心になっておこした 19 世紀の出来事について述べた文として適切なものを、次の①～④のうちから一つ選べ。解答番号は 13。

- ① イベリア半島で、レコンキスタ(国土回復運動)が行われた。
- ② 中国で、典札問題がおこった。
- ③ イタリアで、ローマ進軍が行われた。
- ④ イギリスで、チャーティスト運動がおこった。

2 松田さんは「解放」をテーマに調べ学習を行い、カード1～カード3にまとめた。

カード1


18世紀末にフランス革命がおこると、自由・平等が唱えられた。ナポレオンは革命の理念を伝える解放者として振る舞ったが、同時にヨーロッパに支配を広げた。その支配に対して、各地で反発がみられた。

カード2

19世紀半ばの中国で太平天国が建てられ、女性の足を縛りつけて小さくする纏足などの悪習の廃止、土地の均分などの政策が打ち出された。

カード3

19世紀半ばのロシアでは、農奴は貢租を納めるだけでなく、移住や結婚の自由も認められていなかった。クリミア戦争の敗北後、**B** は1861年に農奴解放令を出して、農奴の人格的自由を認めた。



清の騎馬軍と戦う太平天国軍

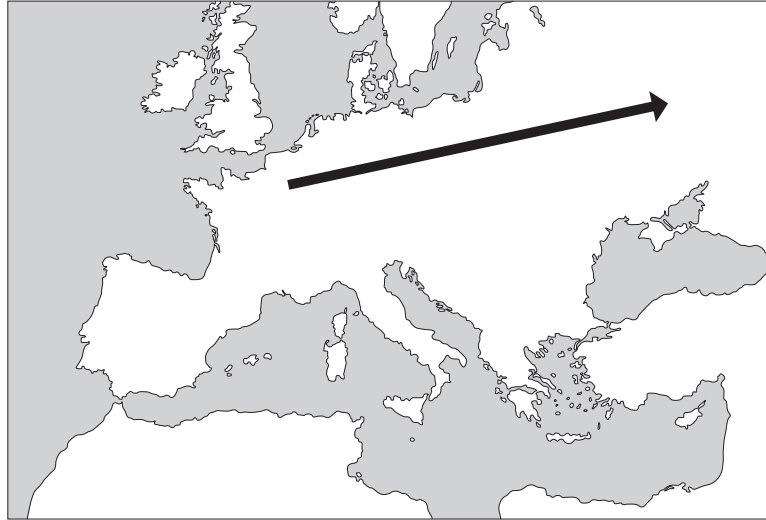
問 3 下線部分^(c)フランス革命に関連して、フランス革命前の社会を表した次の風刺画も参考にして、フランス革命前の社会の呼称と、その説明との組合せとして正しいものを、下の①～④のうちから一つ選べ。解答番号は 14。



フランス革命前の社会の風刺画

	呼 称	説 明
①	ルネサンス	身分制の社会であった。
②	ルネサンス	直接民主政治が行われた。
③	旧制度(アンシャン=レジーム)	身分制の社会であった。
④	旧制度(アンシャン=レジーム)	直接民主政治が行われた。

問 4 下線部分ナポレオン(d)に関連して、次の略地図中の矢印は、ナポレオンが行った遠征の一つを大まかに示したものである。この遠征の対象とその結果との組合せとして正しいものを、下の①～④のうちから一つ選べ。解答番号は 15。



	遠征の対象	遠征の結果
①	ロシア	遠征は成功して、イェルサレム王国が建国された。
②	ロシア	遠征の失敗をきっかけに、支配下の諸国民が解放戦争に立ち上がった。
③	スペイン	遠征は成功して、イェルサレム王国が建国された。
④	スペイン	遠征の失敗をきっかけに、支配下の諸国民が解放戦争に立ち上がった。

問 5 下線部分太平天国(e)について述べた文として適切なものを、次の①～④のうちから一つ選べ。解答番号は 16。

- ① 三・一独立運動が行われた。
- ② 「滅満興漢」が唱えられた。
- ③ 両税法が施行された。
- ④ 鉄血政策が進められた。

問 6 B に当てはまる人物を，次の①～④のうちから一つ選べ。解答番号は 17 。

①



アギナルド

②



ルイ 14 世

③



アレクサンドル 2 世

④



ショパン

5 1～2の文章と図版に関連して、問1～問7に答えよ。

1 生徒と先生が、資料1・資料2を見ながら会話している。

先生： 19世紀後半に入ると、第2次産業革命(a)がおり、資本主義経済が発展しました。アメリカ合衆国は労働力不足を補うため、多くの海外移民を受け入れました。資料1からはその流入量のピークなどが読み取れます。では、資料2からどんなことが読み取れますか。

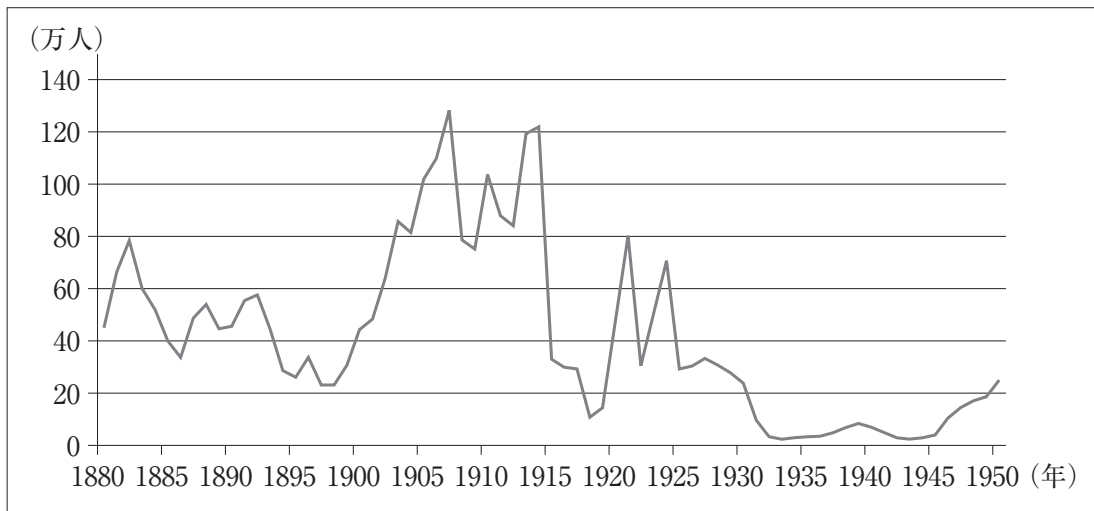
生徒： 資料2で、1891～1900年の10年間と、移民流入のピークを含む1901～10年の10年間を比べると、**A** ことがわかります。

先生： では1931～40年の10年間で、移民の流入総数が大きく減少していますが、その原因として考えられることは何でしょうか。

生徒： 1929年の株価大暴落をきっかけに**B**が発生したことにより、失業者数が増加したと習いました。1931～40年の移民流入数の減少は、移民を受け入れる余裕がなかったことが原因ではないでしょうか。

先生： なるほど。そもそも移民数の増減に関する原因にはどのようなものがあるでしょうか。

生徒： うーん、この資料だけではわからないので、補う資料を探してみます。
(b)



資料1 アメリカ合衆国への移民の推移

	1881～90年	1891～1900年	1901～10年	1911～20年	1921～30年	1931～40年	1941～50年
ヨーロッパ	4,735,484	3,555,352	8,056,040	4,321,887	2,463,194	347,566	621,147
アジア	69,942	74,862	323,543	247,236	112,059	16,595	37,028
米州	426,967	38,972	361,888	1,142,671	1,516,716	160,037	354,804

資料2 ヨーロッパ・アジア・米州(アメリカ合衆国を除く南北アメリカ大陸)からのアメリカ合衆国への移民の推移(単位：人)

問 1 下線部分^(a)第2次産業革命について、中心となった産業と、その主な動力源との組合せとして正しいものを、次の①～④のうちから一つ選べ。解答番号は **18**。

	中心となった産業	主な動力源
①	重化学工業	石油と電力
②	重化学工業	原子力
③	軽工業	石油と電力
④	軽工業	原子力

問 2 **A** に当てはまる文として適切なものを、次の①～④のうちから一つ選べ。解答番号は **19**。

- ① ヨーロッパからの移民数だけが、増加している
- ② アジアからの移民数だけが、増加している
- ③ 米州からの移民の流入数が、10倍以上になっている
- ④ どの地域からも、移民の流入数が増加している

問 3 **B** に当てはまる語句を、次の①～④のうちから一つ選べ。解答番号は **20**。

- ① キューバ危機
- ② キリスト教会の東西分裂
- ③ 世界恐慌
- ④ 9.11 同時多発テロ


問 4 下線部分^(b)補う資料について、資料1・資料2に示されているような変化がおきた原因を考察するために役立つ資料として適切でないものを、次の①～④のうちから一つ選べ。解答番号は **21**。

- ① イギリスが中国に密輸したアヘンの流入量を示したグラフ
- ② アメリカ合衆国の、景気の変動を示したグラフ
- ③ ヨーロッパ・アジア・米州ごとの、歴史的な出来事をまとめた年表
- ④ アメリカ合衆国政府の、移民に関する法令の条文

2 19世紀後半になると、交通網の整備に伴い、海外旅行が娯楽の一つとして確立されるようになった。1871年に世界最初の旅行代理店が、イギリスのトマス＝クックにより設立された。この会社が1872年に手がけた世界一周団体旅行では、8人の旅行者が222日間の日程で、リヴァプールを出発し、アメリカ合衆国、^(c)日本・中国・シンガポール・インドを經由し、イギリスに戻った。このような旅行ができるようになったのは、すでに開設されていた大西洋航路に加え、1867年に太平洋航路が開設され、1869年にはアメリカ大陸横断鉄道が完成し、C ことで、世界一周がさらに容易になったからであった。この会社は、1908年に行われた日本初の世界一周旅行も手がけている。この旅行は、横浜を出発し、アメリカ合衆国やイギリス・フランス・ドイツ・^(d)ロシアなどを、96日間かけて巡るものとなった。



海外旅行の広告



日本初世界一周旅行の名簿の表紙

問 5 下線部分日本について、1872年に旅行者が訪れた当時の日本の状況として適切なものを、次の①～④のうちから一つ選べ。解答番号は 。

- ① 倭寇とよばれる集団が、海上で活動していた。
- ② 明治維新がおこり、近代化が進行していた。
- ③ 太平洋戦争が始まっていた。
- ④ 豊臣秀吉による朝鮮出兵が行われていた。

問 6 に当てはまる文として適切なものを、次の①～④のうちから一つ選べ。

解答番号は 。

- ① アポロ計画で、人類が月面に到達した
- ② エジプトで、スエズ運河が開通した
- ③ マゼラン一行が、世界周航を達成した
- ④ ジャムチとよばれる駅伝制が整備された

問 7 下線部分ロシアの20世紀前半のようすについて述べた文として適切なものを、次の①～④のうちから一つ選べ。解答番号は 。

- ① 血の日曜日事件がおこった。
- ② ピカソが「ゲルニカ」を描いた。
- ③ 第1回三頭政治が実施された。
- ④ 南北戦争が勃発した。

6 1～2の文章と図版に関連して、問1～問6に答えよ。

1 サミットは、1975年に、主要先進諸国が協調して国際的課題に取り組む必要性が共有されて、初めて開かれた。この第1回サミットが開催された後、参加国が持ち回りで議長国となつて、毎年世界各地で行われるようになった。次の写真は、2000年に日本で行われた九州・沖縄サミットの時のものである。左から4番目の人物は、アメリカ合衆国のクリントン大統領で、在任期間8年間の最後の年に出席した時のようすである。また、左から3番目のプーチン大統領は、冷戦終結後にサミット参加国となった **A** の首脳である。 **A** が2014年にクリミア併合を行うと、参加資格が停止された。



各国首脳による記念写真(2000年7月)

問1 下線部分主要先進諸国が協調して国際的課題に取り組む必要性に関連して、第1回サミットが開催されることになった背景として適切なものを、次の①～④のうちから一つ選べ。

解答番号は **25** 。

- ① アジア通貨危機がおこった。
- ② ポエニ戦争がおこった。
- ③ 黒死病(ペスト)が流行した。
- ④ 第1次石油危機がおこった。

問 2 下線部分クリントンの仲介によって、イスラエルと暫定自治協定を結んだPLO(パレスチナ解放機構)^(b)の議長を、次の①～④のうちから一つ選べ。解答番号は 26。




オバマ



アラファト



トマス＝アキナス




カヴァール

問 3 A に当てはまる国を、次の①～④のうちから一つ選べ。解答番号は 27。

- | | |
|-----------|--------|
| ① ベトナム | ② ロシア |
| ③ 中華人民共和国 | ④ メキシコ |


2 高校生の松島さんは、歴史の学習で気になった人物について調べ、次のカード1・カード2を作成した。

カード1



ド＝ゴールは、アルジェリアで独立運動が激化する中、1959年にフランス大統領に就任した。彼はアルジェリアの独立を認めるなど、アフリカの植民地の独立を容認する方針をとった。また、西ドイツとともに **B** を主導する一方、アメリカ合衆国に追随しないフランス独自の外交路線を進めた。

カード2



ウィルソンは、1964～70年に労働党党首としてイギリス首相を務めた。その間、彼は、植民地独立やカシミール紛争への対応をめぐって、野党から攻撃を受けた。また1967年に **B** へ加盟申請を行ったが、ド＝ゴールに反対され、実現はしなかった。

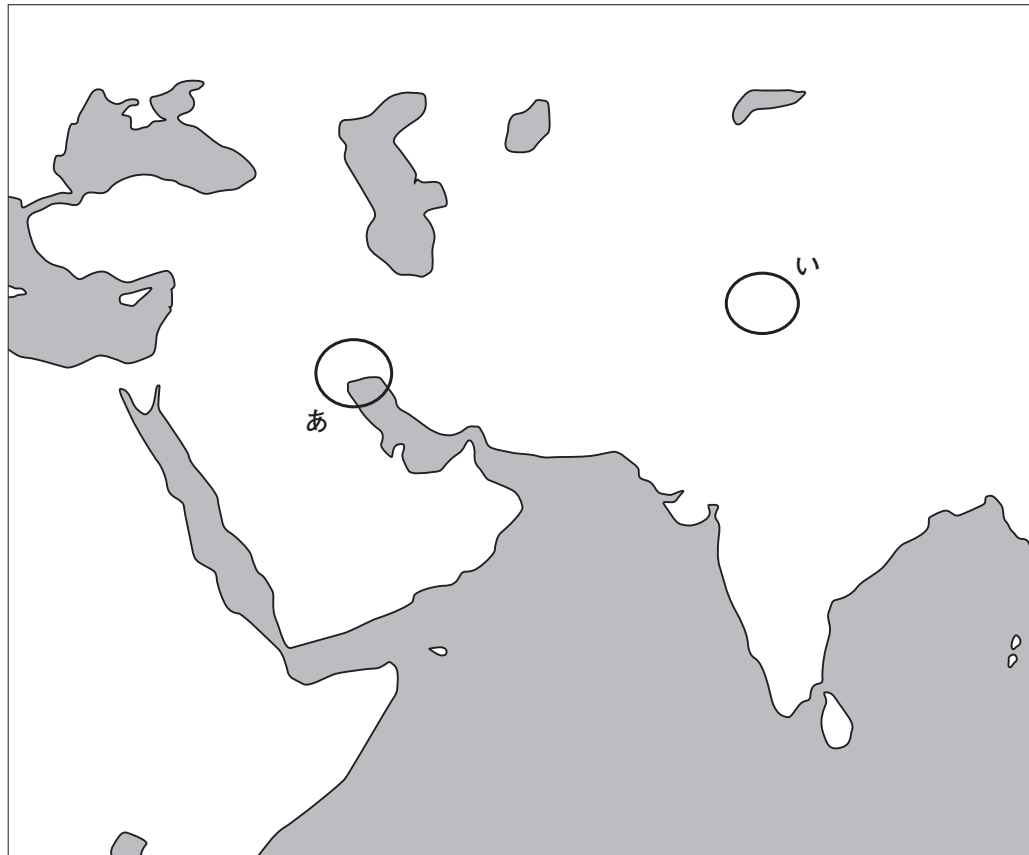
問4 下線部分アフリカに関して、20世紀後半のアフリカのようすについて述べた文として適切なものを、次の①～④のうちから一つ選べ。解答番号は **28** 。

- ① マンデラが、南アフリカ共和国大統領に選ばれた。
- ② 改革開放政策が進められた。
- ③ ドンズー(東遊)運動が展開された。
- ④ マリ王国が栄えた。

問5 **B** に当てはまる語句を、次の①～④のうちから一つ選べ。解答番号は **29** 。

- ① EEC(ヨーロッパ経済共同体)
- ② COMECON(経済相互援助会議)
- ③ NATO(北大西洋条約機構)
- ④ NAFTA(北米自由貿易協定)

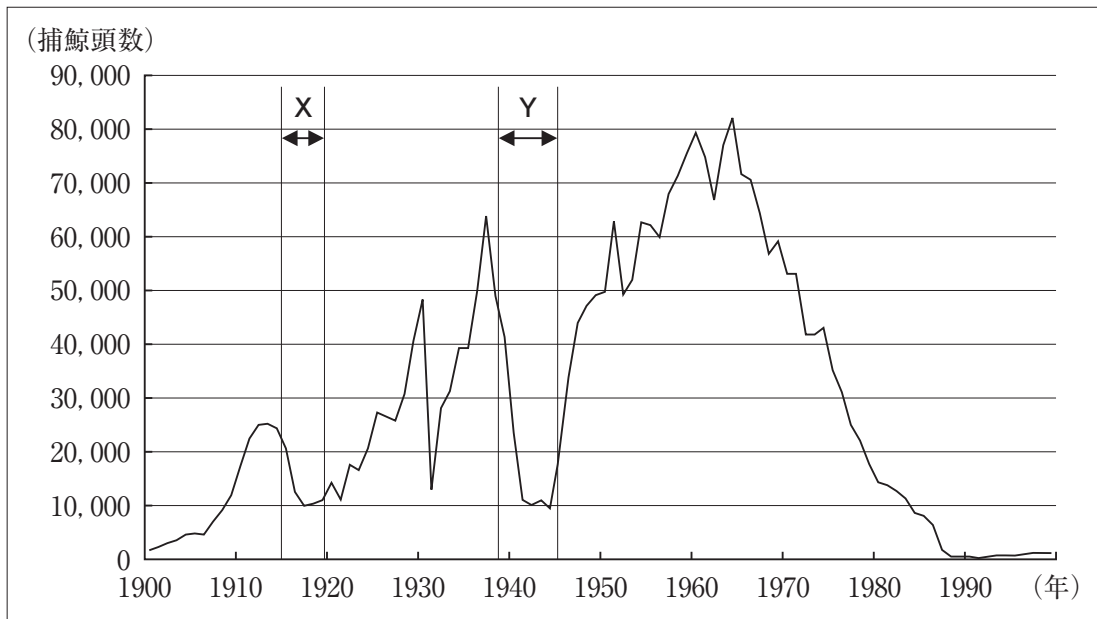
問 6 下線部分カシミール紛争に関する説明と、カシミールの略地図中のおよその位置との組合せとして正しいものを、下の①～④のうちから一つ選べ。解答番号は 30。



	説 明	位 置
①	イランとイラクの間に、武力衝突がおこった	あ
②	イランとイラクの間に、武力衝突がおこった	い
③	インドとパキスタンの間に、武力衝突がおこった	あ
④	インドとパキスタンの間に、武力衝突がおこった	い

7 次の文章と図版に関連して、問1～問2に答えよ。

捕鯨は、鯨肉や鯨油を求めて、先史時代から世界各地で行われてきた。18世紀にはアメリカ合衆国が太平洋での捕鯨を行うようになり、19世紀には太平洋全域に進出した。しかし、当時の蒸気船では十分な燃料や食料を積み込むことができなかった。そのため、ペリーが日本と締結した **A** は、このような捕鯨船への燃料・食料・水の供給を日本が行うことを目的の一つとしていた。19世紀以降は捕鯨技術の革新により、捕鯨頭数は増え続けた。20世紀に入っても、^(a) 数度の落ち込みはあったものの1960年代半ばまで捕鯨頭数は伸び続けたため、クジラの数が増え減少した。このような状況を受けて、1948年に国際捕鯨委員会(IWC)が捕鯨規制のために設置され、日本も1951年に加入した。日本は、1988年以来、科学的調査である調査捕鯨のみを行っていたが、2019年にIWCを脱退し、商業捕鯨を再開した。日本が今後も水産資源を保持し、持続的に捕鯨を行うことができるように考えていくことは重要な課題である。



グラフ 20世紀の世界の捕鯨頭数の推移

問1 **A** に当てはまる語句を、次の①～④のうちから一つ選べ。解答番号は **31**。

- ① ポーツマス条約
- ② 下関条約
- ③ 九カ国条約
- ④ 日米和親条約

問 2 下線部分 20 世紀に入っても、数度の落ち込みはあったものの 1960 年代半ばまで捕鯨頭数は伸び続けたとあるが、^(a) グラフ中の X と Y の時期の捕鯨頭数の落ち込みとその要因と考えられる世界の情勢について述べた次の(ア)・(イ)の正誤を判断し、その組合せとして正しいものを、下の①～④のうちから一つ選べ。解答番号は 32。

(ア) X の時期の捕鯨頭数の落ち込みは、ビキニ環礁での水爆実験が要因と考えられる。

(イ) Y の時期の捕鯨頭数の落ち込みは、第二次世界大戦が要因と考えられる。

① (ア)―正 (イ)―正

② (ア)―正 (イ)―誤

③ (ア)―誤 (イ)―正

④ (ア)―誤 (イ)―誤

(これで世界史 A の問題は終わりです。)