

令和元年度 政治・経済 (50分)

注 意 事 項

- 1 試験開始の合図があるまで、この問題冊子の中を見てはいけない。
- 2 この問題冊子は40ページである。
試験中に問題冊子の印刷不鮮明、ページの落丁・乱丁及び汚れ等に気付いた場合は、手を挙げて監督者に知らせること。
- 3 試験開始の合図前に、監督者の指示に従って、解答用紙の該当欄に以下の内容をそれぞれ正しく記入し、マークすること。
 - ・①氏名欄
氏名を記入すること。
 - ・②受験番号、③生年月日、④受験地欄
受験番号、生年月日を記入し、さらにマーク欄に受験番号(数字)、生年月日(年号・数字)、受験地をマークすること。
- 4 受験番号、生年月日、受験地が正しくマークされていない場合は、採点できないことがある。
- 5 解答は、解答用紙の解答欄にマークすること。例えば、

10

と表示のある解答番号に対して②と解答する場合は、次の(例)のように解答番号10の解答欄の②にマークすること。

(例)

解答番号	解 答 欄
10	① ② ③ ④

- 6 問題冊子の余白等は適宜利用してよいが、どのページも切り離してはいけない。
- 7 試験終了後、問題冊子は持ち帰ってよい。

注意事項は裏表紙に続きます。この問題冊子を裏返して必ず読むこと。

ただし、問題冊子を開かないこと。

政治・経済

(解答番号 ~)

【共通問題】

 次の文章を読んで、問1～問6に答えよ。

日本において人口減少が始まってから久しく、団塊の世代は70歳代に到達している。過疎が全国に広がることで、行政サービスの非効率化が懸念されるようになった。超高齢社会に突入したものの、これを支えるヒトとカネは限られているという事実がある。旧来からの行政^(a)を主導とした地方自治^(b)だけでは、行政サービスの非効率化を改善するのが難しいと指摘される中、新しい自治の形を模索し、転換する必要性が説かれている。総務省の有識者研究会は高齢者人口がピークを迎える2040年頃までに、地方だけでなく都市も含めて転換するべきと警鐘を鳴らしている。

これまでの地方自治は、一言でいうと、個別最適を追求してきたと言えよう。それぞれの市町村が病院や体育館を建設し、地域住民が健康で文化的な生活^(c)が営めるようサービスの維持、向上に努めてきた。しかし、これは非効率的な行政サービス運営になりかねず、再編を進める動きも活発化した。例えば現在、住宅を集約するコンパクトシティの形成を打ち出している。市営住宅の入居率が落ち込んでも、1棟の中に一人でも入居者がいれば、。そのため、特定の棟に住民を集約することとした。しかし、住民の反発を生むこともあり、一筋縄ではいかないことも少なくない。

これからの日本は、「縮小ニッポン」と揶揄^{やゆ}されることもあるが、それを生き抜くため、若者世代の英知の結集と行動が求められている。国会^(d)が議員立法で18歳選挙権^(e)を実現したのは、若者に政治の世界に飛び込んでもらうためでもあるという。政治の世界は縁遠いと感じるかもしれないが、有権者としての自覚を失いたくないものである。

問 1 文章中の **A** にあてはまる文として適切なものを、次の①～④のうちから一つ選べ。

解答番号は **1**。

- ① 公園の利用者が増える
- ② 水道の維持管理コストがかかる
- ③ ガスを都市ガスにする必要がある
- ④ 電気の供給を遮断^{しやだん}する必要がある

問 2 下線部分^(a)行政について述べた文として適切なものを、次の①～④のうちから一つ選べ。

解答番号は **2**。

- ① 政治改革が進められ政治主導を目的に、政務次官に代わり副大臣と大臣政務官が任命されることになった。
- ② 現行憲法下では内閣総理大臣の地位を内閣における同輩中の首席とすることで、他の国務大臣と同等の立場にして内閣の統一性を図っている。
- ③ タテ割り行政とは、それぞれの中央省庁の自律性が強く政府全体の統一性が欠如することを表しているが、この弊害で消費者庁の設置が見送られ問題化した。
- ④ 国民や住民の立場から行政などの監察を行うオンブズマン制度が整えられ、国政では総務省にオンブズマンを配置することが決まった。

問 3 下線部分^(b)地方自治について述べた文として適切なものを、次の①～④のうちから一つ選べ。

解答番号は **3**。

- ① ふるさと納税の制度では、自分の生まれ故郷だけでなく、お世話になった地域や応援したい地域に対しても寄付をすることができる。
- ② 明治憲法下では地方自治の規定がなかったので、府県や市町村が置かれることのない中央集権体制が敷かれていた。
- ③ 広域的な行政によって課題を解決しようとする試みから、都道府県の枠組みを見直して道州制を導入することが決まっている。
- ④ 本来は国が行うべき事務ではあるが、地方公共団体の首長などの機関に委任される事務を機関委任事務といい、地方を下請け化するとの批判もあるが、現在も存続している。

- 問 4 下線部分^(c)健康で文化的な生活に関して、次のレポートはある生徒が生存権について記したものである。レポート中の下線部分プログラム規定説について述べた文として適切なものを、次の①～④のうちから一つ選べ。解答番号は

4

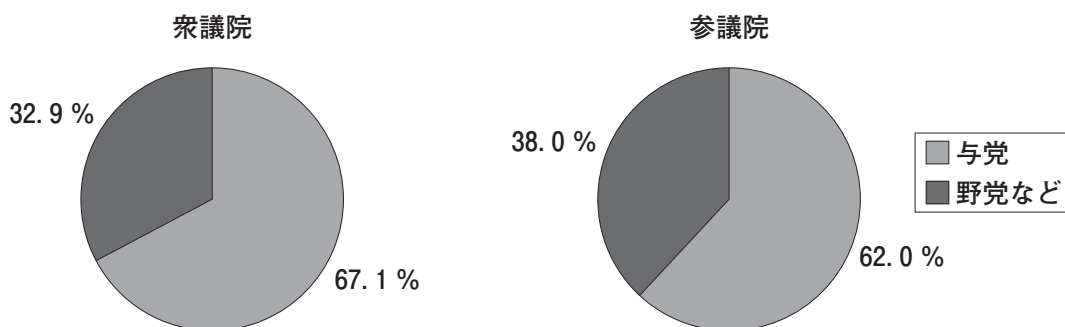
。

レポート

「人間裁判」とも呼ばれる朝日訴訟は、半世紀以上前に争われたものである。国の生活保護基準が憲法第 25 条の理念と生活保護法に反するとして、朝日茂氏によって起こされたものである。第一審は、原告の勝訴。第二審は敗訴。第三審は原告の死亡により訴訟は終了している。この訴訟において裁判所は、生存権の法的性格をプログラム規定説という考え方を援用しながら示した。

- ① 権利は濫用してはならず、公共の福祉のために利用する責任を負っている。
- ② 個々の国民に具体的な権利を認めている。
- ③ 国に対して政策の方針や目標を示したものである。
- ④ 侵すことのできない永久の権利として、現在及び将来の国民に与えられる。

問 5 下線部分^(d)国会に関連して、次の円グラフは衆議院と参議院それぞれにおける与党、野党の所属議員数の割合を示したものである。すべての国会議員が所属政党の決定に従うとして、この状態での国会の意思決定について述べた文として最も適切なものを、下の①～④のうちから一つ選べ。解答番号は 5。



注：平成 29 年 11 月 30 日現在

(総務省ホームページにより作成)

- ① 衆議院で与党が総議員の 3 分の 2 以上を占めているので、与党の賛成のみで国民に対して憲法改正の発議ができる。
- ② 参議院で与党が総議員の過半数を占めているので、与党の賛成のみで国民に対して憲法改正の発議ができる。
- ③ 衆議院と参議院それぞれで与党が総議員の過半数を占めているので、与党の賛成のみで国民に対して憲法改正の発議ができる。
- ④ 衆議院と参議院の両院で与党が総議員の 3 分の 2 以上を占めていないので、与党の賛成のみで国民に対して憲法改正の発議はできない。

問 6 下線部分^(e)18 歳選挙権に関連して、公職選挙法に定められている選挙期間中に可能な選挙活動として適切なものを、次の①～④のうちから一つ選べ。解答番号は 6。

- ① 候補者が選挙区内で有権者のいる家庭に行き、自分に投票するようにと訴える。
- ② 候補者が高級メロンを有権者である知人に贈り、自分に投票するようにと訴える。
- ③ 候補者が昼に駅前では拡声器を使い、自分に投票するようにと訴える。
- ④ 候補者が投票日当日にも投票所前に立ち、自分に投票するようにと訴える。

【共通問題】

2 次の会話文を読んで、問1～問5に答えよ。

先生：課題は順調に進んでいるかな。

楽譜

徳美：はい。私は、サッカーワールドカップ、ロシア大会でのフランス優勝が忘れられません。その時の国歌の演奏に強く胸を打たれたのです。そこで、フランスの国歌について調べていたら、このような楽譜を発見しました。

楽譜

先生：ラ・マルセイエーズだね。歌詞も調べたのかな。

徳美：会場全体が地鳴りのするような歌に興味を覚えたので、辞書を使って必死に訳してみました。

さあ、祖国の民達よ／今、栄光の日がきた／

血に染まった暴君の旗がひるがえる／暴虐な兵士達の叫び声が荒野に響き渡る／

彼らは我々の子供や妻の命を奪おうと迫ってきている／武器を取れ、市民達よ、進め、進め…

先生：国歌としては、ずいぶん勇ましい感じですよ。由来や理由も調べましたか。

徳美：フランス革命期に、オーストリアと戦うために、革命政府が祖国の全土に危機を訴え、各地の義勇軍がバりに集結。出征する部隊を鼓舞するため、勇壮な行進曲がつくられ、マルセイユから集結した義勇兵達によってこの行進曲が歌い広められたのでこの名がついたようです。

先生：そうなんだよ。革命が始まった時、拡大を恐れた **A** のもとにあった他の諸国は干渉したんだ。それに対し当時の彼らは、自分達の革命の成果を自分達自身で守るため、強い意志が必要となり、このような内容の歌詞となったんだね。

徳美：それで、この革命以降、国民国家が誕生した、と言われるのですね。

得夫：納得しました。この歌詞には **B** 国を守る、という意味が込められています。私は、国際社会の中での国家の成立や、国際社会の動向について調べようと考えていますが、うまくまとまりません。^(a)

先生：国際連合(国連)などを調べてみると、何か見えてくるものがあるかもしれないね。^(b)

得夫：ありがとうございます。第2次世界大戦後の国際政治の変遷もまとめる必要がありますか。^(c)

先生：少し論点が広がりすぎるかもしれないね。しかしながら、多様な視点で物事を見ることは大切だよ。世界はますます複雑さを増している。国際社会も様々な取り組みを行っているが、その中で、日本の果たすべき役割も考えてもらいたいな。^(d)

二人：はい、先生。頑張ってみます。

問 1 会話文中の **A** , **B** にあてはまる語句の組合せとして適切なものを, 次の①～④のうちから一つ選べ。解答番号は **7** 。

- | A | B |
|----------|----------|
| ① 民族自決 | 自らの手で自らの |
| ② 民族自決 | 他者に依存して |
| ③ 絶対王政 | 自らの手で自らの |
| ④ 絶対王政 | 他者に依存して |

問 2 下線部分^(a)国際社会の動向に関連して, 国際社会の出来事の文として適切でないものを, 次の①～④のうちから一つ選べ。解答番号は **8** 。

- ① 紛争などで大量の難民が各地で発生しており, 国際的な人道援助活動が行われているが, 難民条約の保護の対象外である国内避難民も問題となっている。
- ② 米口間で戦略核兵器の削減を目指し, 戦略核弾頭と運搬手段の配備数の上限を定めた新STARTが発効した。
- ③ 多発する国際紛争に介入するために, 安全保障理事会において, 国際司法裁判所に自動的に裁判が開始される権限を与える決議が採択された。
- ④ 近年, イスラーム諸国の不安定化が国際社会で問題視されており, シリアやイラクでは, 宗派の違いなどが内戦を激化させている一因となっている。

問 3 下線部分^(b)国際連合に関連して、次の国連憲章の条文について述べた生徒の意見の中で、適切なものを下の①～④のうちから一つ選べ。解答番号は 9。

国連憲章

6 章

第 33 条

いかなる紛争でも継続が国際の平和及び安全の維持を危うくする虞^{おそれ}のあるものについては、その当事者は、まず第一に、交渉、審査、仲介、調停、仲裁裁判、司法的解決、地域の機関又は地域の取極^{とりきめ}の利用その他当事者が選ぶ平和的手段による解決を求めなければならない。

7 章

第 41 条

安全保障理事会は、その決定を実施するために、兵力の使用を伴わないいかなる措置を使用すべきかを決定することができ、^か且つ、この措置を適用するように国際連合加盟国に要請することができる。この措置は、経済関係及び鉄道、航海、航空、郵便、電信、無線通信その他の運輸通信の手段の全部又は一部の中絶並びに外交関係の断絶を含むことができる。

第 42 条

安全保障理事会は、第 41 条に定める措置では不十分であろうと認め、又は不十分なことが判明したと認めるときは、国際の平和及び安全の維持又は回復に必要な空軍、海軍または陸軍の行動をとることができる。この行動は、国際連合加盟国の空軍、海軍又は陸軍による示威、封鎖その他の行動を含むことができる。

(国際連合広報センターホームページにより作成)

生徒イ：国連では、対立状況が発生した場合、第一に、平和的解決を目指しているんだね。

生徒ロ：PKO はこれらの条文に明記されているので、「6 章半の活動」と言われるんだね。

生徒ハ：国連は軍事行動による集団安全保障を最優先させていることがわかったよ。

生徒ニ：国連による問題解決は、平和的解決以外に、経済制裁しかできないとわかったよ。

① 生徒イ

② 生徒ロ

③ 生徒ハ

④ 生徒ニ

問 4 下線部分第2次世界大戦後の国際政治の変遷に関連して、冷戦構造の変遷を生徒が図にまとめた。次の図中の **C** , **D** , **E** に該当するものの組合せとして適切なものを、次のページの①~④のうちから一つ選べ。解答番号は **10** 。

図1 1945年～1950年半ばの東西対立が先鋭化している時代

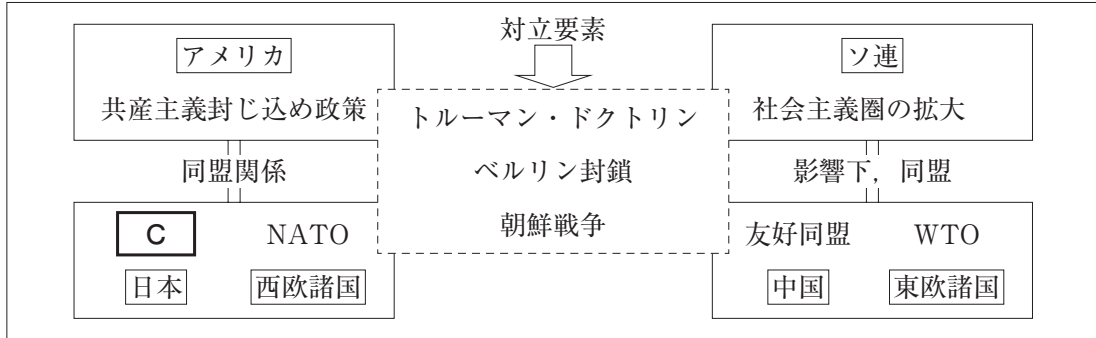


図2 1950年半ば～1970年代のデタントや **D** が進んだ時期

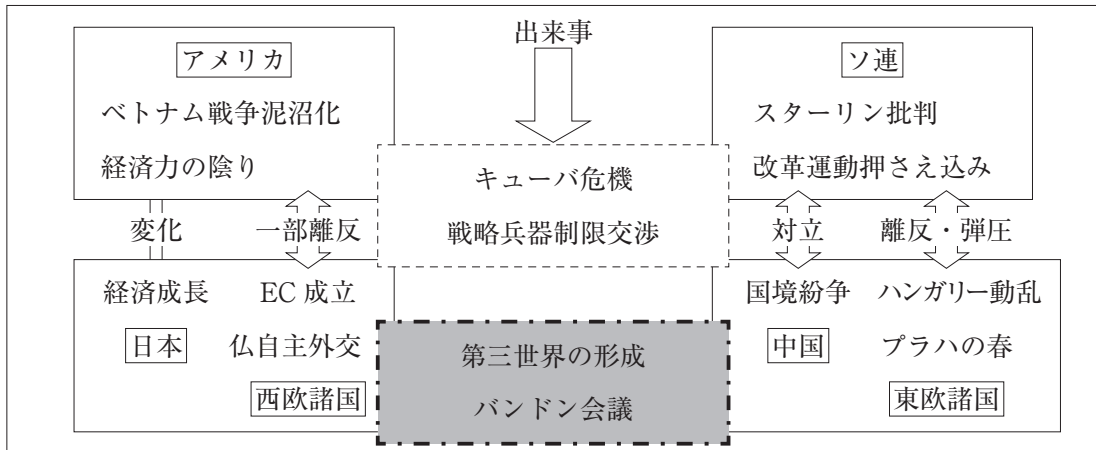
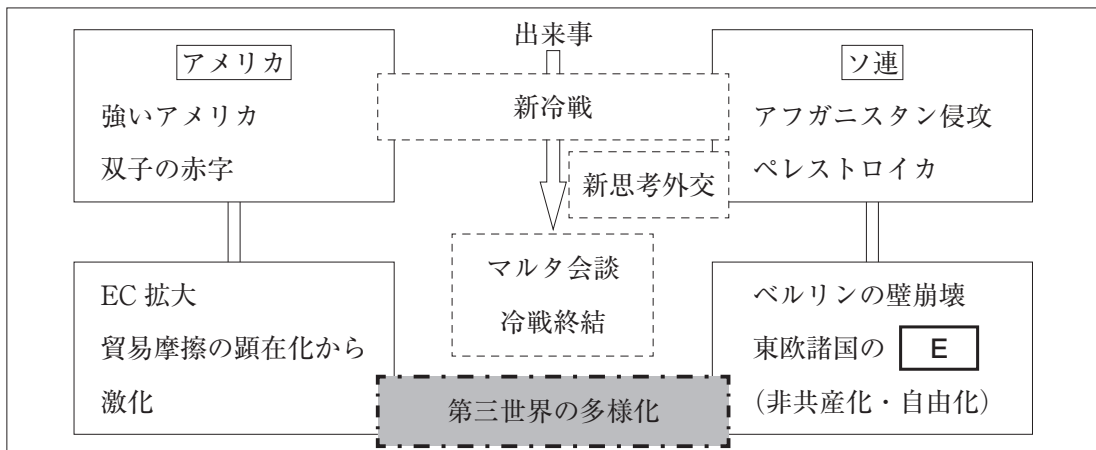


図3 1970年代～1989年、新たな冷戦局面と冷戦の終結



	C	D	E
① 日ソ共同宣言		多極化	孤立化
② 日米安全保障条約		一極集中	孤立化
③ 日ソ共同宣言		一極集中	民主化
④ 日米安全保障条約		多極化	民主化

問 5 下線部分^(d)日本の果たすべき役割に関連して、日本の戦後外交を説明する内容として適切なものを、次の①～④のうちから一つ選べ。解答番号は 。

- ① アジアとの関係を最重要視するため、日本は ASEAN に加盟することにより、アジアの一員としての立場をより一層明確化し、連携を強めている。
- ② 日本は、多額の国連分担金をおさめ、安全保障理事会の非常任理事国を最も多くつとめるなど、国際社会に対する責務を果たしている。
- ③ 中国と国境付近で緊張が高まった際に、偶発的な衝突を避けるため日中間にホットラインを設置し、両国の首脳が直接対話のできる環境を整備した。
- ④ 世界的な政情不安の高まりから、信頼醸成措置が重要となる中、日本はアジアの難民の受け入れを特に積極的に行う政策を実施し、評価されている。

【共通問題】

3 次の文章を読んで、問1～問6に答えよ。

日本には、「長く働くこと、忙しいことはよいことであり、^{ひま たいだ}暇は怠惰の証拠である」といった考え方がないだろうか。もし、そうであったとしたら、このような考え方が長時間労働を助長し、男性の家事・育児の参加を困難にさせ、女性の社会進出を阻んでいるともとらえられよう。さらに、日本では、「**A**」という性別役割分業意識が根強く残っているという指摘さえある。

昨今の少子高齢化の影響によって、労働力が不足し、今後労働市場における^(a)需要と供給のバランスが大きく崩れることが予想される。このような人口減少は日本の^(b)経済成長にとって制約要因となるという見方がある。一方、高齢者の増加は医療や介護をはじめとする^(c)社会保障支出を増加させることが予想され、日本の持続可能性に大きなリスクを生じさせかねない。このような課題を克服していかなければ、社会保障制度の^{はたん}破綻などによって、私たちの生活水準の低下は必至と言えよう。

このような中、^(d)政府は取り組むべき課題の一つとして働き方改革を挙げ、2018年6月に、働き方改革を推進するための関係法律の整備に関する法律(働き方改革関連法)を成立させた。働き方改革を行い、多様で柔軟な働き方を導入することで、女性や高齢者などの労働参加率を高め、労働生産性を向上させていこうとしている。長時間労働を見直し、仕事だけでなく、家庭生活や余暇に時間を使うことによって、働く人の^(e)**B**が推進され、少子化対策や消費の回復といった好循環を生み出すねらいがある。明るい未来を実現するためには、働き方改革による^(e)日本経済の持続的な成長、技術革新や労働生産性の向上などに結びつけながら、これまでの考え方を転換していかなければならないであろう。

問 1 文章中の **A** , **B** にあてはまるものの組合せとして適切なものを, 次の①~④のうちから一つ選べ。解答番号は **12** 。

A

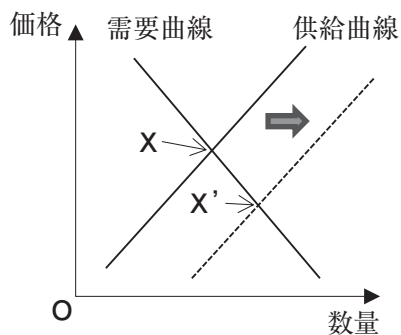
- ① 男女が対等な立場で家事や育児をおこなう
- ② 男は仕事, 女は家事や育児をおこなう
- ③ 男女が対等な立場で家事や育児をおこなう
- ④ 男は仕事, 女は家事や育児をおこなう

B

- ポジティブ・アクション
- ポジティブ・アクション
- ワーク・ライフ・バランス
- ワーク・ライフ・バランス

問 2 下線部分需要と供給に関連して、生徒たちが次のグラフを見て話し合った。均衡点がXからX'へと変化する要因についての発言として適切なものを、下の①～④のうちから一つ選べ。解答番号は 13。

グラフ



発言C

この商品の生産に関する新たな技術が開発され、生産性が大きく向上することによって、より多くの商品を作ることができるからです。

発言D

この商品がテレビで取り上げられたことによって、若者の間で大流行し、人気が大きく高まるからです。

発言E

発展途上国の経済発展によって、この商品の生産に必要な原材料の価格が高騰してしまうからです。

発言F

新しい機能が搭載された新商品が登場することによって、この商品の魅力が下がってしまうからです。

① 発言C

② 発言D

③ 発言E

④ 発言F

問 3 下線部分経済成長について、次の説明は実質経済成長率の求め方を表したものである。次の説明を参考にしながら、下の表のような数値の場合の実質経済成長率として適切なものを、下の①～④のうちから一つ選べ。解答番号は 14。

説明

経済成長率は、ある年の国内総生産(GDP)の前年に対する増加率である。今年の経済成長率を求めるには、今年の名目 GDP から前年の名目 GDP を差し引いたものを前年の名目 GDP で割り、その数値に 100 をかけることで算出できる。これが名目経済成長率である。

この名目経済成長率は、物価水準の変動を考慮していないため、次に実質 GDP を求める必要がある。実質 GDP は、名目 GDP を GDP デフレーター(一国全体の物価動向を総合的に示す指数)で割り、その数値に 100 をかけることで求められる。

以上のように、名目経済成長率の計算式に、実質 GDP を用いることで、実質経済成長率を求めることができるのである。

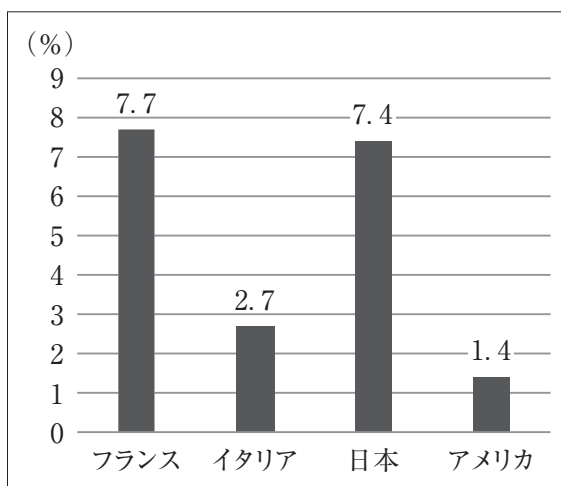
表

	前年	今年
名目 GDP	500 兆円	505 兆円
GDP デフレーター	100	101

- ① -1% ② 0% ③ 1% ④ 2%

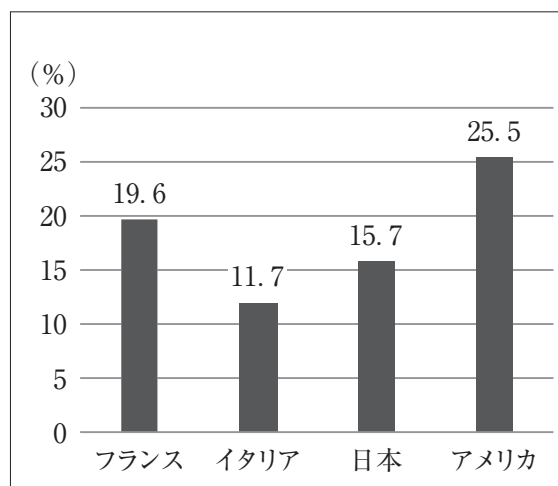
問 4 下線部分^(c)社会保障支出に関連して、次の資料 1、資料 2 は税・社会保険料負担や社会保障給付に占める低所得層の割合を示している。資料を読み取った発言として適切なものを、次のページの①～④のうちから一つ選べ。解答番号は 15。

資料 1 負担全体に占める低所得層の負担割合(2000 年前後)



注 1：低所得層とは、所得の下位 20% 層のことをさす。
 注 2：税・社会保険料負担全体に占める下位 20% 層の負担額の割合を示す。
 注 3：間接税は含まない。

資料 2 給付全体に占める低所得層への給付割合(2000 年前後)



注 1：低所得層とは、所得の下位 20% 層のことをさす。
 注 2：公的移転給付全体に占める下位 20% 層への給付額の割合を示す。
 注 3：現物給付は含まない。

(資料 1、資料 2 ともに内閣府ホームページ、OECD ホームページにより作成)

発言ア

日本は、「負担全体に占める低所得層の負担割合」が小さく、「給付全体に占める低所得層への給付割合」も小さいことがわかります。

発言イ

日本は、「負担全体に占める低所得層の負担割合」が大きく、「給付全体に占める低所得層への給付割合」も大きいことがわかります。

発言ウ

アメリカは、「負担全体に占める低所得層の負担割合」が大きく、「給付全体に占める低所得層への給付割合」が小さいことがわかります。

発言エ

アメリカは、「負担全体に占める低所得層の負担割合」が小さく、「給付全体に占める低所得層への給付割合」が大きいことがわかります。

① 発言ア

② 発言イ

③ 発言ウ

④ 発言エ

問 5 下線部分^(d)政府に関連して、生徒たちが班に分かれて、公平な税の納め方について議論し、意見をまとめた。これらのうち、現行の所得税納税の考え方と同じものとして適切なものを、下の①～④のうちから一つ選べ。解答番号は 16。

1 班
同じ金額を納めることが公平だ。

	課税される所得金額	納税額
Gさん	1,000万円	70万円
Hさん	600万円	70万円
Iさん	300万円	70万円
Jさん	100万円	70万円

2 班
負担できる能力に応じて納めることが公平だ。

	課税される所得金額	納税額
Gさん	1,000万円	177万円
Hさん	600万円	77万円
Iさん	300万円	21万円
Jさん	100万円	5万円

3 班
同じ率(定率)で納めることが公平だ。

	課税される所得金額	納税額
Gさん	1,000万円	140万円
Hさん	600万円	84万円
Iさん	300万円	42万円
Jさん	100万円	14万円

4 班
特定の対象者が納めることが公平だ。

	課税される所得金額	納税額
Gさん	1,000万円	280万円
Hさん	600万円	0円
Iさん	300万円	0円
Jさん	100万円	0円

① 1班

② 2班

③ 3班

④ 4班

問 6 下線部分^(e)日本経済に関連して、2010年以降におこった日本経済における出来事として適切なものを、次の①～④のうちから一つ選べ。解答番号は 17。

- ① 経済の活性化を図るために、「改革なくして成長なし」をスローガンに、規制緩和や自由化など市場原理を重視した構造改革を実施し、郵政民営化や三位一体の改革、特殊法人改革などが行われた。
- ② 三公社(日本国有鉄道・日本電信電話公社・日本専売公社)の肥大化・非効率性が問題視される中、新自由主義的な経済システム改革をすすめ、それらの民営化を行い、それぞれJR, NTT, JTとなった。
- ③ 企業などへの貸し出しを増加させることで、デフレから脱却することを目指して、金融機関が保有する日銀当座預金の一部にマイナス金利を適用するという金融緩和政策が導入された。
- ④ 「フリー・フェア・グローバル」を原則として、自由・公正で世界的な競争力をもつ市場を目指し、金融に対する規制を緩和して、金融の自由化・国際化をすすめていく日本版金融ビッグバンが行われた。

【共通問題】

4 次の会話文を読んで、問1～問5に答えよ。

生徒X：先生，ある新聞記事が目にとまりました。ベネズエラでインフレーション(インフレ)が進行して年率で100万%に達すると，ある機関が発表したようです。そこでベネズエラ政府がデノミネーション(デノミ)を行ったとありますが，これは为什么呢？

先生：デノミとは，通貨呼称単位を変えることですよ。だれか，説明できますか。

生徒Y：激しいインフレによる多額の紙幣での支払いや，計算，記帳の手続きが煩雑にならないようにすることだと聞いたことがあります。

先生：そうですね。でも，デノミによって問題解決となればよいのですが。インフレ抑制には，経済の安定が不可欠でしょうね。皆さんは，どう考えますか。

生徒X：ベネズエラの産業に着目すると，石油生産を回復させて輸出により外貨を獲得できれば，自国の通貨価値を維持できるのではないのでしょうか。

先生：なるほど。貿易に注目したんですね。

生徒X：はい，世界経済への影響を考えてしまいます。授業では，各国相互での貿易が発展して，近年では，地域的経済統合が深まっていることを学びました。しかし，イギリスが国民投票によって，EUから離脱することを決めたことや，アメリカが太平洋を囲む大規模な経済連携協定であるTPPからの離脱を表明したことは，個人的に気になっています。

先生：保護主義の傾向が強まっていることに，懸念を抱いているんですね。

生徒Y：僕も気になりました。例えば，イギリスです。国民の総意で決めたことでしょうか，国民投票後，為替相場が変動し，通貨ポンドが下落しました。

生徒X：イギリスもアメリカも国益を重視した行動なのでしょうね。ただし，国益を優先するだけでよいのでしょうか。

先生：国が存在する以上，すべての国が自らの国益を重視するのでしょう。自国の繁栄を常に考えているはずですが，世界経済全体を成長させるような人類益をも重視するような視点も大切なのでしょうね。これからは，両方の視点から国際経済を分析していきたいですね。

問 1 下線部分^(a)ある機関にあてはまる、国際通貨問題に関する協議及び協力機関を、次の①～④のうちから一つ選べ。解答番号は 。

- ① FAO
- ② IMF
- ③ ICJ
- ④ ILO

問 2 下線部分^(b)激しいインフレに関連して、次の新聞記事中にある , にあてはまるものの組合せとして適切なものを、下の①～④のうちから一つ選べ。
解答番号は 。

新聞記事 年 100 万% のインフレ対策 10 万分の 1 デノミ

経済危機が深刻化する南米ベネズエラの反米左派マドゥロ政権が 2018 年 8 月 20 日、通貨の単位を 10 万分の 1 に デノミネーション(通貨呼称単位の変更)を実施した。年間 100 万% と見込まれる を抑えるのがねらいだが、効果は疑問視される。政権は通貨単位を「ボリバル・フェルテ」から、0 を五つ減らした「ボリバル・ソベラノ」に変更した。2018 年 6 月に 1,000 分の 1 に 予定をしていたが、準備不足で延期していた。ベネズエラでは、石油生産の大幅な減少で外貨獲得がままならず、財政運営の失策やアメリカによる経済制裁によりインフレーションが進んでいる。

(毎日新聞 平成 30 年 8 月 21 日により作成)

- | <input type="text" value="A"/> | <input type="text" value="B"/> |
|--------------------------------|--------------------------------|
| ① 切り上げる | クリーピング・インフレーション |
| ② 切り上げる | ハイパー・インフレーション |
| ③ 切り下げる | クリーピング・インフレーション |
| ④ 切り下げる | ハイパー・インフレーション |

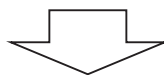
問 3 下線部分貿易に関連して、次のレポートと図は生徒がまとめたものである。レポート中の **C** , **D** , **E** にあてはまるものの組合せとして適切なものを、下の①～④のうちから一つ選べ。解答番号は **20** 。

レポート

私は、前回の授業で学んだ比較生産費説について復習しました。それを図を用いて説明します。イギリスは、ポルトガルに比べてワインも毛織物も生産性が劣ります。このため、貿易をしても不利になると思っていました。しかし、イギリス国内でワインと毛織物を比べれば、**C**の方が生産性に優位があります。そこで、**C**に特化します。特化とは、国内で比較優位にある部門に生産を集中することです。同様に、ポルトガルは国内で生産性に優位な**D**に特化します。これにより、イギリスで毛織物が2.2単位、ポルトガルでワインが2.125単位それぞれ生産されます。このように、特化することで全体の生産量が増え、貿易を行うことで互いの国が利益を得られるので、**E**の拡大につながると理解しました。

図

		ワイン1単位の 生産に要する労働者	毛織物1単位の 生産に要する労働者
特 化 前	イギリス	120人	100人
	ポルトガル	80人	90人



		ワインの生産	毛織物の生産
特 化 後	イギリス		220人の労働者で 2.2単位
	ポルトガル	170人の労働者で 2.125単位	

- | | | |
|----------|----------|----------|
| C | D | E |
| ① ワイン | 毛織物 | 保護貿易 |
| ② ワイン | 毛織物 | 自由貿易 |
| ③ 毛織物 | ワイン | 保護貿易 |
| ④ 毛織物 | ワイン | 自由貿易 |

問 4 下線部分^(d)地域の経済統合に関連して、貿易に関するア～エが示す事柄を年代の古い順に並べたものとして適切なものを、下の①～④のうちから一つ選べ。解答番号は 21。

ア

日本はシンガポールとの EPA に署名し、貿易・投資のみならず、金融、情報通信技術、人材養成といった分野を含む包括的な経済連携を目指している。

イ

日本は EU との EPA に署名し、両域内は人口が 6 億 4,000 万人、世界の GDP の約 3 割、貿易額では約 4 割を占める大規模なものになった。

ウ

日本の貿易収支が赤字になった場合に、国際収支上の理由で輸入数量制限ができない GATT 11 条国に移行した。

エ

日本の米について、国内消費量の一定割合を輸入するミニマム・アクセスを段階的に拡大することが義務づけられた。

- ① ウ → エ → ア → イ
- ② ウ → エ → イ → ア
- ③ エ → ウ → ア → イ
- ④ エ → ウ → イ → ア

問 5 下線部分^(e)為替相場に関連して、国際金融における合意や協定の文として適切なものを、次の①～④のうちから一つ選べ。解答番号は 22。

- ① ブレトンウッズ協定では、銀とドルの交換を前提にし、ドルと各国の通貨とが固定相場制で結びつけられた。
- ② キングストン合意では、変動相場制が正式に承認され、SDR(特別引出権)の役割を拡大することが取り決められた。
- ③ プラザ合意では、アメリカへの資本流入によるドル安を背景に、為替相場をドル高となるように誘導した。
- ④ ルーブル合意では、G7においてドル高に歯止めをかけるために、為替相場をドル安となるように誘導した。

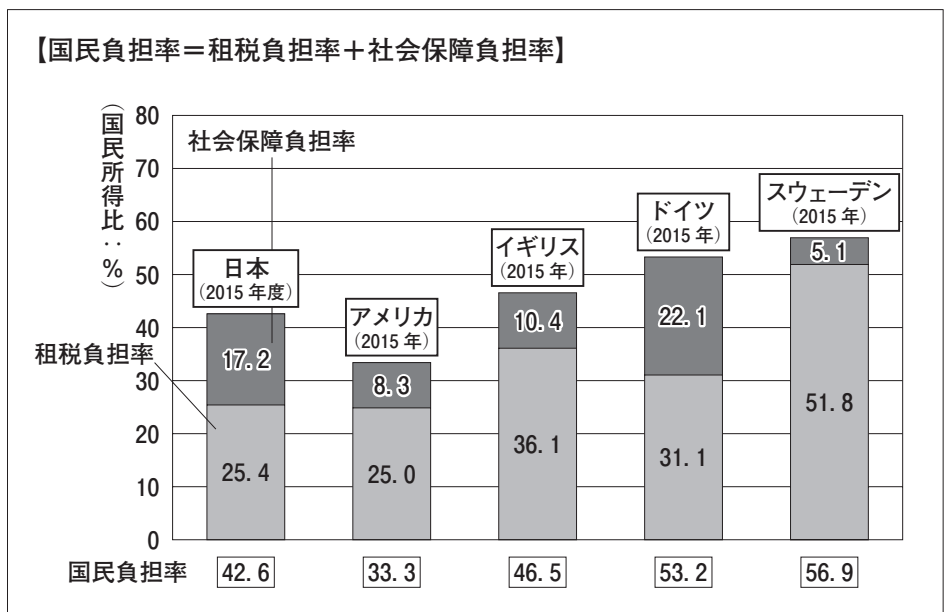
【選択問題 1】

- 5 次のレポートと資料を見て、社会保障制度についてXさんとYさんとZさんが会話をしている。会話文中の **A** , **B** にあてはまるものの組合せとして適切なものを、次のページの①～④のうちから一つ選べ。解答番号は **23** 。

レポート

政府が消費増税を決めたことを評価する人が51%に達したという新聞記事を見つけた。そのことを踏まえて、社会保障制度をどう維持していくべきだろうか、という視点でレポートを書いてみたい。どの国でも、子どもやお年寄りの面倒をみたり、病気を治療したりといったサービスは、何らかの形で確保されており、異なるのは、そのニーズをどのように満たしているかということであった。日本は伝統的に家族、特に女性の無償労働に頼るところが大きく、社会進出を妨げてきた。その代わり税などの国民負担率は比較的安く抑えられてきた側面がある。それに対し、スウェーデンなど北欧の国々では、政府の役割が大きく、貧富にかかわらず誰もが比較的平等に福祉サービスが受けられる。ただし、国民負担は重い。国民負担率が低いアメリカは、市場への依存度が高いのが特徴だ。お金持ちだと「超豪華」なサービスを受けられるものの、貧しいと何も利用できないことがある。政府の役割を削って税金を抑えれば、家庭や市場の役割が大きくなる。つまり、社会保障制度をどのように設計するかは、私たちがどのような社会をつくっていくのかと同じことなのである。

資料 国民負担率の国際比較



(財務省ホームページにより作成)

先生：今日は、配布したレポートと資料をもとに、社会保障制度について話し合ってみましょう。

Xさん：私は、これからの日本が参考にすべき国はスウェーデンだと思います。このレポートにも書かれていますが、日本は国民負担が抑えられてきた代わりに、女性の社会進出が妨げられてきました。このことは大きな問題です。政府の役割を **A** して誰でも安心できる社会にすべきです。

Yさん：いや、それでは労働意欲が失われてしまい、結果的に経済成長に悪影響を及ぼしてしまうと思います。 **B** 社会が望ましいと私は考えるので、国民負担率が最も低い、アメリカをモデルにすべきだと思います。

Zさん：私はドイツをモデルにすべきだと思います。年金はあくまで社会保険です。保険料を納めていない人は恩恵を受けられません。イギリスの社会保障制度は、資料からわかるように租税中心です。

先生：日本の国民負担率は42.6%と低く、その裏には多額の財政赤字が存在します。より充実した社会保障制度を採り入れるなら負担増が避けられないでしょう。

Xさん：日本の国民負担率は北欧世界と比較して低いのが特徴ですが、その負担を家庭が補っているということを私たちはもっと自覚すべきです。国民負担率をスウェーデンほどでなくても引き上げ、政府の役割を **A** することは正しい政策だと思います。

Yさん：それではますます財政赤字が増えてしまいます。社会保障のニーズをもっと市場に委ね、国民が選択できるような社会が望ましいと思います。

先生：この点を含めて、もう少し議論しましょう。

A

B

- | | |
|-------|----------------------|
| ① 大きく | 貧富の差をできる限り小さくするような |
| ② 大きく | 努力した成果に見合う所得を得られるような |
| ③ 小さく | 貧富の差をできる限り小さくするような |
| ④ 小さく | 努力した成果に見合う所得を得られるような |

【選択問題 1】

- 6 次の資料を読んで、下の生徒の主張と同じ立場の意見として適切なものを、次のページの①～④のうちから一つ選べ。解答番号は 23 。

資料

国立社会保障・人口問題研究所が公表した将来推計人口によると、山形県東根市^{ひがしね}の人口は2030年でも2015年の国勢調査時を上回るとの見通しが示された。多くの自治体で人口減に歯止めがかからない状況が続くが、東根市は異彩を放っている。

国勢調査による東根市の人口は1975年調査で増加に転じて以降、右肩上がりで増えている。1980年40,000人台に持ち直すと、2005年には45,000人を突破した。1970年から2015年までの45年間で8,655人も増加した。

人口増の要因として、大森工業団地といった就労の場の確保や土地区画整理事業、大型店誘致などが挙げられる。市長は「利便性の高いコンパクトなまちづくりや子育て支援などの先駆的な取り組みが、若い世代を呼び込む力となり、人口規模の土台になっている」とみている。近年では市中心部に県内初の併設型中高一貫校が開校し、図書館や美術館などが入る公益文化施設もオープンした。市外からの転入世帯が対象の定住促進事業助成金制度の利用状況からも人口増の一端がうかがえる。制度が始まった2012年度からの6か年で525件の利用があり、転入者は1,557人を数える。周辺自治体だけでなく、仙台圏など県外からの転入も目立っている。

(山形新聞 平成30年4月27日より作成)

主張

私はこの資料を読んで「東根市は今後の地方都市再生のモデルになる」と感じました。それゆえ、今後は中央省庁が統一した方針を示すような画一的なやり方を改めて、その地域の良さや課題をしっかりと見つめ直し、その地域独自の強みを伸ばしていくことが最も必要です。その地域の発展のためには、その地域のことを一番よく理解している自治体や住民の人々が中心となって、自主的な財源確保も含めた施策を進めていくべきだと考えます。

ア

多くの自治体がさまざまな施策を行っているにもかかわらず、十分な成果を出すことができていない。東根市もこのやり方では、いずれ人口減少の問題が押し寄せてくると考えられ、市は一日も早く、人口が増加している大都市をモデルに政策転換すべきである。

イ

中高一貫校や図書館、美術館などが入る公益文化施設がオープンし、市に活気が戻りつつある。大型の公共施設を建設することは、市の経済復興に対して、最も効果的な方法であるため、政府に対して請願・陳情を行うよう努力すべきである。

ウ

地方の発展のためには、工業団地や大型店を誘致し、働ける環境の確保や地元経済活性化を推進する政策を行う必要がある。そのために、特区を申請するなど、その地域の特徴に合わせた政策が実施できるよう積極的に規制緩和を進めていくべきである。

エ

住民への行政サービスを充実させることが、一番の人口減少対策である。特に高齢者と子育て支援への行政サービスは、早急に行う必要がある。これらの政策には多額の財源が必要となるため、政府との連携を深め、多くの補助金がもらえるように努力すべきである。

- ① ア
- ② イ
- ③ ウ
- ④ エ

【選択問題 1】

7 次の資料 1，資料 2，資料 3，資料 4 を見て，労働問題について木村さんと清水さんと先生が会話をしている。会話文中の **A**，**B**，**C** にあてはまるものの組合せとして適切なものを，次のページの①～④のうちから一つ選べ。解答番号は **23**。

資料 1 雇用形態別所定内給与額(2015年)

単位：千円

	男		女	
	正社員	正社員以外	正社員	正社員以外
高校卒平均	301.1	211.5	225.0	170.0
大学・大学院卒平均	411.5	280.5	297.9	218.7

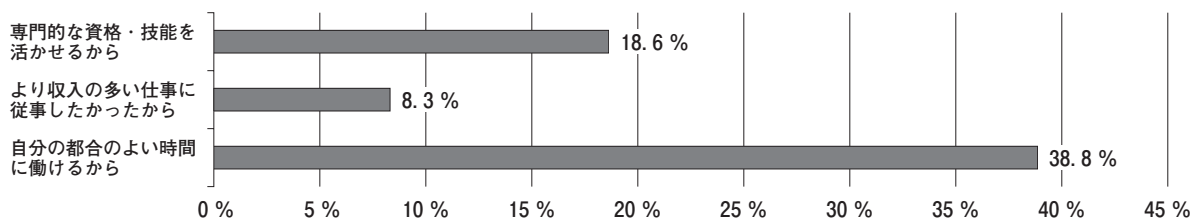
資料 2 雇用形態別雇用者数の推移

単位：万人

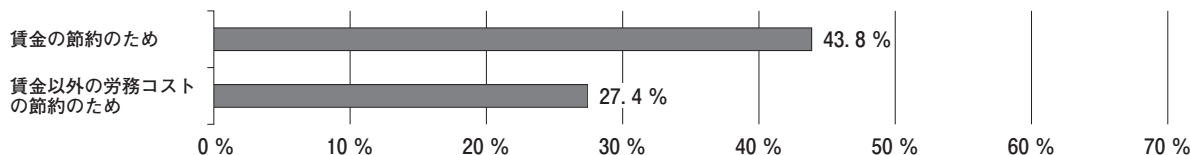
	2000年	2010年	2017年
正規の職員	3,630	3,374	3,423
非正規の職員	1,273	1,763	2,036

(資料 1，資料 2 とともに『日本国勢図会 2018/19』により作成)

資料 3 非正規雇用の労働者を選んだ理由(2010年)



資料 4 非正規雇用の労働者の活用に関する企業の意識(2010年)



(資料 3，資料 4 とともに厚生労働省ホームページにより作成)

先生：今日は、これからの働き方について議論していきましょう。

木村さん：日本の若者の多くが終身雇用制を望んでいると言われています。私も大学を卒業したら、正社員になり、定年までその会社で働き続けたいと考えています。

清水さん：グローバル化した現代において、終身雇用制を維持するのは難しいと思います。専門的な資格や技能を活かしたり、より収入の多い仕事につきたいという声も高まってきている現代では、成果に見合う収入が得られる社会に変えていく必要があると思います。

木村さん：**A** を見てください。まだまだ日本では正社員と非正規雇用者の間での賃金格差が大きく開いています。労働環境が整っていないから、終身雇用制を望んでいる若者が多いのかもしれませんが。労働者の立場から考えると、将来設計がしやすいメリットなどがありますし、企業側にしても長い期間をかけて人材育成を行えるなどの利点があります。

清水さん：たしかに日本では、安定を求める傾向がありますからね。しかし、**B** を見てください。「自分の都合のよい時間に働けるから」という回答をした非正規雇用者の割合が一番高いことがわかります。仕事以外に生きがいを求める人も多くいます。ですから就業形態の多様化を認め、それとともに**C** に基づく賃金体系を推し進める必要があると思います。

先生：二人の視点はとても重要ですね。これからの社会では仕事と生活の調和を考えていく必要があります。これから、そのことを意識してレポートをまとめていってください。

A	B	C
① 資料 1	資料 3	成果主義
② 資料 2	資料 3	年功序列型賃金
③ 資料 1	資料 4	成果主義
④ 資料 2	資料 4	年功序列型賃金

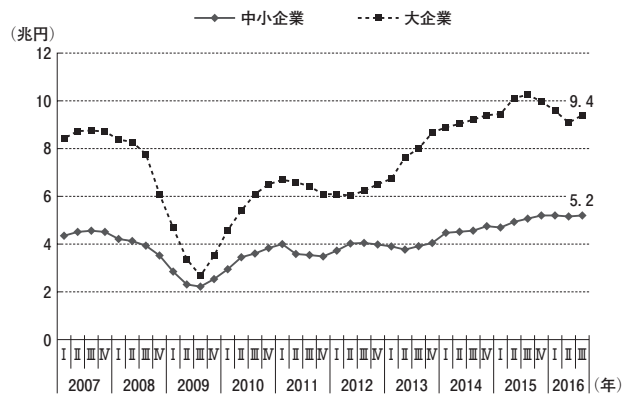
【選択問題 1】

- 8 次の資料 1，資料 2，資料 3 を見て，次のページの会話文中の **A**，**B**，**C** にあてはまるものの組合せとして適切なものを，次のページの①～④のうちから一つ選べ。
解答番号は **23**。

資料 1 日本の企業数と従業者数

	企業数	従業者数
大企業	1.1 万社	1,433 万人
中小企業	380.9 万社	3,361 万人
うち小規模事業者	325.2 万社	1,127 万人

資料 2 経常利益の推移



注：I，II，III，IVは，1 年を四等分したもの。

資料 3

北海道帯広市の T バス株式会社（従業員 250 名，資本金 5,000 万円）は，1926 年創業の十勝管内 1 市 13 町村にてバス事業を運営する事業者である。同社は「一生涯利用していただける企業」を目指し，バス事業に加え，近年では高齢者向けの介護事業や学童保育事業にも展開している。自家用車の保有台数増加を背景に，十勝管内のバス利用者数は，1969 年の約 2,300 万人から，2010 年までに約 400 万人に減少した。同社は利用客数の減少に危機感を覚え，2008 年頃より一般住民向けの戸別訪問による営業活動を開始し，その際にバスを利用しない理由も調査した。すると，「バスでの移動が不便だから」ではなく，「バス停の場所や乗り方，運賃，どこを走っているのかなどが分からず不安だから」といった利用方法の分かりづらさが，利用しない大きな理由であることが分かった。そこで，バス利用上の不安を解消するため，外部の IT ベンダーと共同で路線バスのルート検索アプリ「もくいく」を開発した。同アプリを利用すれば，目的地を入力するだけで最寄りの停留所や経路，所要時間に関する情報が提供され，利用者は停留所名が分からなくてもバスで目的地まで行くことができる。また，十勝の冬は寒く，バスを極力外で待ちたくないという利用者からの意見を基に，IoT 技術を応用したバスロケーションアプリ「バスロケ」を導入した。各バスに GPS 情報を発信するスマートフォンを搭載し，バスの位置情報をアプリ上で提供。これにより，利用者はバスの到着時刻を予測することができ，より一層の利便性の向上を図ることができた。さらに今後は，経験則に頼ってきた停留所ごとの乗降客数の把握を，カメラセンサーを用いて計測することで，ダイヤ改正等に活かす方針である。

注：IT ベンダーとは，IT のソフトウェアやサービス，システム，製品などを販売する企業のこと。

（資料 1，資料 2，資料 3 ともに『2017 年版中小企業白書』により作成）

先 生：資料を見て、中小企業問題について気づいたことは何かな。

生徒X：資料1を見ると、中小企業の従業者数は日本の企業従業者数の **A** ですから、雇用を増やし日本経済を活性化するには中小企業の力が不可欠だと思います。規制を撤廃すれば、ベンチャー企業などはどんどん成長していくと思います。

生徒Y：資料2から2009年Ⅲ期とそれ以降を比べると、大企業、中小企業ともに経常利益は改善していますが、大企業と中小企業の経常利益には **B** と言えます。これを解決するには、政府が主導していくべきです。

生徒X：資料3を見ると、自力で介護や学童保育などの新たな事業にチャレンジしたり、なぜバスを利用しないのか戸別に調査し対策を講じることで事業の継続や発展があるはずで **C** と思います。

生徒Y：でも、路線バスのルート検索アプリ「もくいく」やIoT技術を応用したバスロケーションアプリ「バスロケ」の導入などは1つの中小企業だけではなかなか思いつかないアイデアだと思います。この技術を活用するためには、新たにヒト、モノ、カネが必要だから、1つの企業だけの力では難しいです。

先 生：中小企業を活性化するには、それぞれの企業の自助努力と政府や地方公共団体などの公的機関の支援のどちらも必要ですね。

	A	B	C
①	約70%	差がある	中小企業の自助努力が発揮できるようにすればよい
②	約99%	差がある	政府や公的機関が中小企業を積極的に支援すればよい
③	約99%	差がない	中小企業の自助努力が発揮できるようにすればよい
④	約70%	差がない	政府や公的機関が中小企業を積極的に支援すればよい

【選択問題 1】

- 9 次の資料 1，資料 2，資料 3 を見て，次のページの会話文中の **A**，**B**，**C** にあてはまる語句の組合せとして適切なものを，次のページの①～④のうちから一つ選べ。
解答番号は **23**。

資料 1

記事より作成した資料

資料 2 一般法人(企業)の農業参入の動向

	平成 23 年	24 年	25 年	26 年	27 年	28 年
法人数	1,052	1,426	1,734	2,029	2,344	2,676

資料 3 日本の国内総生産(名目)の推移

単位：億円

	平成 23 年	24 年	25 年	26 年	27 年	28 年
国内総生産(GDP)	4,914,085	4,949,572	5,031,756	5,138,760	5,319,858	5,384,458
うち農業	43,995	47,829	47,086	45,065	48,988	52,399

(資料 2，資料 3 ともに農林水産省ホームページにより作成)

先生：今日は資料を参考に農産物貿易の自由化について話し合ってみよう。

ゆうた：資料1を見て、海外への商品輸出や東南アジアなどでの観光農園の運営事業を視野に入れるN航空社のような企業がこれからも増え続けると思うな。

さくら：でもそれって、国際空港や高速道路に近く、農業で利益が上がりそうな優良農地だけにいえることだよ。日本のほとんどの農地は、優良農地とはいえないから、自由化してしまえば安い農産物が外国から入ってきて農業は衰退してしまうよ。

ゆうた：いや、安い輸入農産物が手に入れば消費者は喜ぶよ。だから、農産物貿易の自由化を **A** すべきだよ。それに資料2を見ると、農業参入企業がずっと増え続けているよ。利益がでなければ企業は参入しようと思わないよ。利益を追求する企業が、輸出用の農産物の生産に取り組むようになって、農業が活性化するはずだよ。

さくら：資料3を見て、平成23年から28年までの6年間、どの年も農業はGDP比約 **B** だよ。農業参入企業が増えたからといって、農業生産額の増加に結びついているとはいえないよ。慎重に見るべきだよ。

ゆうた：これまでに日本は政府の保護政策が強かったと思うよ。けれど何も変わらなかったよ。貿易自由化で企業の農産物市場への参入が進めば、質の高いPB商品などが増え、輸入以上に輸出が増え農産物の生産も増えると思うよ。

さくら：たしかに日本のブランド米やさくらんぼなどが、海外で人気があると聞いたことがあるよ。でも、自由化では、食の安全面で不安が広がらないかな。だから、政府が農産物の輸入を **C** すべきだよ。

先生：よい議論ができましたね。これらの事例をもとに日本の農業の在り方について話し合っていく必要がありますね。

	A	B	C
①	規制	9～10%	推進
②	規制	0.9～1%	推進
③	推進	9～10%	規制
④	推進	0.9～1%	規制

【選択問題 2】

10 次の資料を見て，次のページの会話文中の **A** ， **B** ， **C** にあてはまる語句の組合せとして適切なものを，次のページの①～④のうちから一つ選べ。解答番号は **24** 。

資料

記事より作成した資料



先生：今日は、資料を見て、モルディブのごみ問題について考えてみましょう。

生徒X：モルディブは、約1,200の島があり、世界中から多くの観光客がやってくるんですね。でも開発に伴ってごみ問題が発生しているんですね。未開の楽園のほうが魅力的だと思うな。

生徒Y：開発を進めていけば、経済が活性化していいことばかりだよ。観光や漁業以外の産業で働く人も増えてくるだろうし。

生徒X：でも、資料のように「ごみの島」になってしまっているの。 **A** のほうがいいよ。

生徒Y：政府は、分別や回収の仕組みづくりを急いでいるよ。ごみの処分にはそれなりのお金が必要だから、自分たちで働いて、まかなえる仕組みが必要だよ。 **B** だよ。

生徒X：けれども、Yさんの言うように経済発展を優先して、ごみ問題の対策を後回しにすると、マングローブや貴重なダイビングスポットが失われてしまうよ。島の自然を守るべきだよ。

生徒Y：人工島の開発は、ほかの島から海面上昇のため移住してくる人のための温暖化対策にも役立っているよ。また、開発を優先することで雇用も増え、中国からの援助も得られているしね。

生徒X：開発を優先させれば、雇用も海外からの投資も増え、経済的に豊かになると思うけど、自然の循環の中では始末できないごみが増え、ごみから出る汚染物質で海洋汚染が広がると思うよ。

先生：ごみ問題の解決に取り組み、海洋資源の持続的な利用により開発・発展させることが大切ですよ。

生徒Y：それって、国連が目標として掲げているものの中にあったような気がします。

先生：国連は、すべての加盟国が2030年までに格差の拡大や環境などの問題に取り組み、持続的な開発を目指す17の目標として **C** を定めていますね。

生徒X：17の目標を調べてみたら、廃棄物の発生を防ぎ、減らす「ゴール12(つくる責任つかう責任)」や海洋資源を保全し持続的に利用する「ゴール14(海の豊かさを守ろう)」があるとわかりました。

先生：発展途上国と先進国が協力して、海や自然を守りながら経済発展していく道を探っていく必要がありますね。

A	B	C
① 不便でも美しい島	島の環境保全が第一	MDGs
② 便利で開発がすすんだ島	島の環境保全が第一	SDGs
③ 便利で開発がすすんだ島	地元の雇用が最優先	MDGs
④ 不便でも美しい島	地元の雇用が最優先	SDGs

【選択問題 2】

11 次の会話文と、次のページの資料 1、資料 2 を見て、会話文中の **A**、**B**、**C** にあてはまる語句の組合せとして適切なものを、次のページの①～④のうちから一つ選べ。
解答番号は **24**。

先生：今日は、発展途上国への援助の是非について考えていきます。まずは、資料 1 を見てみましょう。2015 年を見ると、1 日 1.90 ドル未満で生活する人の割合(貧困率)は、約 **A** となっています。人間として最低限の生活を維持することが困難な状態にある人が世界ではこれだけいるということがわかります。

生徒 X：1 日 1.90 ドル未満の生活では、住む家や食べ物を手に入れることが難しいですね。人間として最低限の生活を維持することが難しい状態ですので、いま以上の援助をしたほうがいいと思います。

生徒 Y：私は X さんとは少し違う意見です。資料 1 をよく見ると、貧困率も貧困者数も減っています。いま以上の援助が必要なのか疑問です。

先生：なるほど。グラフの読み方の解釈に違いがありますね。X さん、具体的にどのような援助をしたらよいと思いますか。

生徒 X：はい、私たちができることを調べてみました。ユニセフのホームページでは、702 円でマラリアを運ぶ蚊などに対する殺虫剤処理を施した蚊帳 3 張、204 円で 10 リットルの水を運搬・貯水することができる折りたたみ式の貯水容器 1 つを提供することができると記されています。数百円で、発展途上国で苦しんでいる人を救えるのなら、私は援助をしていきたいと思います。

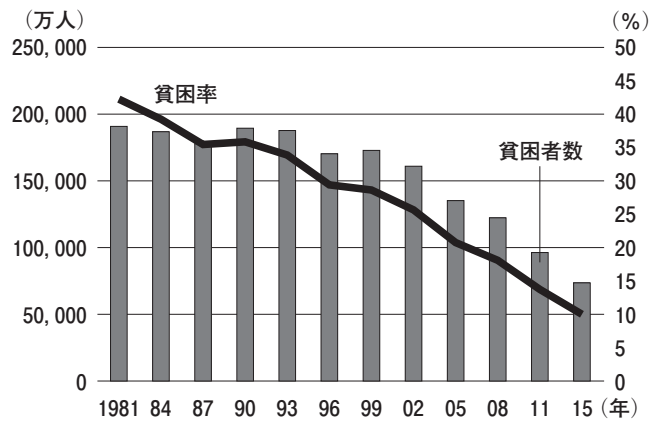
生徒 Y：蚊帳や貯水容器はどこでつくられているのでしょうか。もし現地で生産していないとすると、現地での雇用の機会を **B** という見方もできるのではないのでしょうか。現地で本当に必要なのは、仕事をもち自立することなのではないのでしょうか。

先生：蚊帳や貯水容器を現地で生産している地域もあります。ただ、請負企業をあらかじめ先進国の企業に決めておくような場合は、Y さんのいうことも懸念されますね。次に、国家レベルの援助についてはどう考えますか。

生徒 X：資料 2 からわかるように、先進国と発展途上国との間に GDP の差がありすぎるように思います。先進国と発展途上国の間で格差がありすぎると国際社会が不安定化するので、**C** するために先進国の政府は、発展途上国の政府に対して経済援助をすべきだと思います。


生徒 Y：日本は ODA として 1 兆円以上の援助をしています。多額の援助を受けた国は、援助に依存してしまい、現地の人々の労働意欲をゆがめてしまうのではないのでしょうか。また、非民主的な政府では援助が行き渡らず、かえって経済発展を妨げることにもなりかねません。やはり自立を目指すことが重要だと思います。

資料1 世界の貧困率および貧困者数



(世界銀行ホームページにより作成)

資料2 各国・地域のGDPの大きさを表した地図



(『世界国勢図会 2016/17』により作成)

A

B

C

- | | | | |
|---|------|---------|--------|
| ① | 40 % | 奪っている | 現状を維持 |
| ② | 40 % | 創りだしている | 不平等を是正 |
| ③ | 10 % | 奪っている | 不平等を是正 |
| ④ | 10 % | 創りだしている | 現状を維持 |

【選択問題 2】

- 12 次の大学生が書いたレポートと、次のページの資料や会話文を見て、レポートと会話文中の **A** , **B** , **C** にあてはまるものの組合せとして適切なものを、次のページの①～④のうちから一つ選べ。解答番号は **24** 。

レポート

2017年10月、バルセロナがあるカタルーニャ州で住民投票が行われ、注目を集めた。住民投票の結果、スペインからの独立宣言が出される一方、中央政府が州議会の解散、州知事等の職務停止などの措置をとる事態となった。

なぜ、カタルーニャで独立運動がおこるのだろうか。

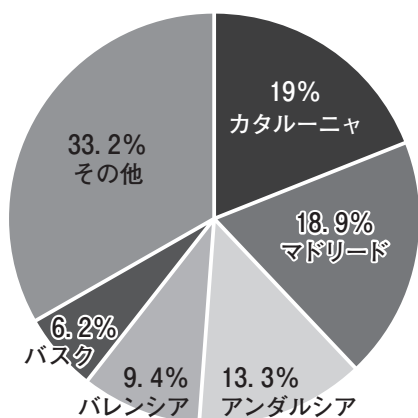
第1の理由に文化や言語の独自性がある。カタルーニャ州はスペイン北東部にあり、フランスと国境を接し、東は地中海である。そのため、他の州にはみられないような魚介類と鶏肉を混ぜた料理があったり、サグラダ・ファミリアに代表される独特な建築物があったりする。言語はカタルーニャ語で、バルセロナにある看板はカタルーニャ語・スペイン語・英語で表記されていることもある。また、カタルーニャ語は憲法で公用語の一つとして認められている。このように、カタルーニャには独自の文化や言語がある。

第2の理由に歴史的背景がある。1936～39年のスペイン内戦では、スペイン全土で戦闘があったが、特にカタルーニャが激戦地域になった。スペイン内戦の後、フランコ政権時代に自治権をはく奪され、カタルーニャ語も禁止された。フランコが死去した後の1978年に自治権を回復したものの、中央政府に弾圧された歴史は、苦い記憶としてカタルーニャの人々の意識に残っている。

第3の理由に経済面がある。カタルーニャ州は観光資源に恵まれ、多くの外国企業が立地するなど産業基盤が充実している。スペインのGDPにおけるカタルーニャ州の割合は、資料のようになっている。収入が多いとその分税金が高くなるため、カタルーニャ州から中央政府へ納められる税金の額は他の州に比べて **A** が、その割に財政資金の配分は少ない。「自分たちの稼ぎが中央や他の州に使われている」という不満があるのではないかと指摘される。

主に上記の3つの理由から、カタルーニャでは独立運動がおこると考えられる。

資料 スペインの GDP における各自治州の割合(2016)



(スペイン統計局資料により作成)

生徒X：このレポートを読んで思い出したのですが、カタルーニャ州にあるサッカーチーム「FCバルセロナ」と、首都マドリード州にあるサッカーチーム「レアル・マドリード」の対戦は、とても盛り上がると聞いたことがあります。

生徒Y：この間、テレビでその二つのチームの試合を見ました。熱狂的なサポーターがたくさん映っていました。

先生：文化的、歴史的、経済的背景に基づくカタルーニャとマドリードの人々のライバル意識があるのでしょうか。このような意識がレポートにあるような独立運動につながっていくのかもしれませんが。二人は、レポートを読んでどのように考えましたか。

生徒X：カタルーニャ州の独自の文化、複雑な歴史、経済の状況を考えると、**B** しようとするという動きは理解できますね。カタルーニャ州以外でもバスク州でも同じような運動がありましたし、住民の意向は重視されるべきだと思います。

生徒Y：私は少し違う考えです。スペインが加盟しているEUは二つの世界大戦を経て、安定した地域をつくろうと統合を進めてきた歴史があります。カタルーニャ州の独立運動は、EUの考え方とは逆である気がします。

先生：なるほど。二人とも、もう少し自分の考えを説明してくれますか。

生徒X：私は自分たちの地域を自分たちで治めたいという思いは尊重されるべきと考えます。

生徒Y：私は文化や歴史的な対立を超えて **C** を目指すことが大切だと考えます。

- | | A | B | C |
|---|-----|----|----|
| ① | 多い | 独立 | 共生 |
| ② | 少ない | 統合 | 共生 |
| ③ | 多い | 統合 | 自治 |
| ④ | 少ない | 独立 | 自治 |

【選択問題 2】

13 次の会話文と、次のページの意見と事例を見て、会話文中の **A** , **B** にあてはまるもの、および、下線部分にあてはまる事例の組合せとして適切なものを、次のページの①～④のうちから一つ選べ。解答番号は **24** 。

先生：テレビやインターネットのニュースで、発展途上国の貧困、食料問題、地域紛争について目にしない日はないですね。こうした問題に日本はどのように対応しているのか、またどのように対応すべきなのか考えてみましょう。

生徒X：日本のODAの支出総額を調べてみました。2016年は約1兆8,000億円でした。かつては世界で1番多い国でしたが、2016年では世界第4位となっています。だから、私は、日本は国際的な支援をもっとしたほうがよいと考えます。 **A** 。

生徒Y：私は、Xさんとは少し考えが違います。2016年のデータでは、国と地方の長期債務残高の合計は1,000兆円を超えています。だから、私は、経済支援の額が多ければよいというわけではなく、その支援が日本にとって効果的かどうかを厳しくチェックしないとダメと考えます。日本の利益になりづらい支援よりも、日本の利益に直結する支援をするべきだと思います。

先生：なるほど、二人とも自分がどのような考え方を重視しているのか意識しながら、もう少し詳しく説明してくれるとよいですね。

生徒X：私は、一国の利益ではなく、国際社会の安定化を重視しています。地球環境問題や人道的な危機などの地球規模の問題を解決していくことで、国際社会が安定します。それが国際平和につながると 생각합니다。

生徒Y：私は、 **B** を重視しています。ODAを戦略的に外交政策として使っていくことが、財政が厳しい日本にとって必要だと思います。

先生：二人ともよい意見です。いずれにしても、国際社会の安定と繁栄のためにニーズに合った適切な支援をしていくことは、とても有効な外交政策になりますね。

意見ア

なぜなら、経済支援によって日本を支持する国が増えるからです。日本を支持する国が増えれば、外交がしやすくなり、日本の重視する政策が国際社会で実現します。日本の発言力が強まることは、日本で暮らす私たちにとって望ましいと思います

意見イ

なぜなら、経済支援によって発展途上国が豊かになればその国の経済が安定するからです。経済が安定することで、紛争や、病気によって命を落とす人が減れば、その国の人々は安心して生活できるようになります。人々が安心して暮らせる世界は望ましいと思います

事例 1

日本は、5歳未満で死亡する子どもや妊産婦の死亡が多いホンジュラスで、保健医療に関するプロジェクトを実施した。外務省の資料では、ホンジュラスへの支援は「地域統合を通じた中米全体の安定と繁栄の観点からも意義がある」と説明されている。

事例 2

2016年に、日本はミャンマーに対して、官民合わせて5年間で8,000億円の支援を表明した。外務省の資料では、「ミャンマーは、中国、インドの間に位置する地政学的に重要な国であり、日本の重要なパートナーであるASEANの加盟国である」と説明されている。

	A	B	事例
①	意見ア	国益	事例 1
②	意見イ	国益	事例 2
③	意見ア	人類益	事例 2
④	意見イ	人類益	事例 1

政治・経済

注意事項

- 1 【共通問題】 から は、必ず解答すること。
解答番号は から 。
- 2 【選択問題1】 から までの5題から1題を選んで、解答する問題番号を記入及びマークした上で、解答欄に解答すること。
解答番号は 。
- 2題以上解答した場合は採点できないので注意すること。
- 3 【選択問題2】 から までの4題から1題を選んで、解答する問題番号を記入及びマークした上で、解答欄に解答すること。
解答番号は 。
- 2題以上解答した場合は採点できないので注意すること。