

令和元年度 日本史A・日本史B (50分)

注 意 事 項

- 1 試験開始の合図があるまで、この問題冊子の中を見てはいけない。
- 2 出題科目、ページ及び選択方法は、下表のとおりである。

出題科目	ページ	選 択 方 法
日本史A	1～26	左の2科目のうちから1科目を選択し、解答しなさい。
日本史B	27～51	

- 3 試験中に問題冊子の印刷不鮮明、ページの落丁・乱丁及び汚れ等に気付いた場合は、手を挙げて監督者に知らせること。
- 4 試験開始の合図前に、監督者の指示に従って、解答用紙の該当欄に以下の内容をそれぞれ正しく記入し、マークすること。

・①氏名欄

氏名を記入すること。

・②受験番号、③生年月日、④受験地欄

受験番号、生年月日を記入し、さらにマーク欄に受験番号(数字)、生年月日(年号・数字)、受験地をマークすること。

・⑤解答科目欄

解答する科目名を○で囲み、さらにその下のマーク欄にマークすること。

- 5 受験番号、生年月日、受験地が正しくマークされていない場合は、採点できないことがある。
- 6 解答科目が正しくマークされていない場合は採点できないので、必ず正しくマークすること。
- 7 解答は、解答用紙の解答欄にマークすること。例えば、解答番号が 10 である問いに対して②と解答する場合は、次の(例)のように解答番号10の解答欄の②にマークすること。

(例)

解答番号	解 答 欄			
10	①	②	③	④

- 8 問題冊子の余白等は適宜利用してよいが、どのページも切り離してはいけない。
- 9 試験終了後、問題冊子は持ち帰ってよい。

日 本 史 A

(解答番号 ~)

次の図1～4とそれに関する文を読み、後にある問1～問3に答えよ。

図1

1等車の乗客のようすの絵



図2

2等車の乗客のようすの絵



図3

3等車の乗客のようすの絵




図4

明治31年頃の新橋－神戸間の運賃

1等車 11円28銭

2等車 7円52銭

3等車 3円76銭

図1～3は19世紀末の神戸における1等車から3等車までの乗客のようすを描いたものである。日本では1870年代初めに鉄道が開通したが、^(a)図1～3や図4に示された当時の等車による運賃の違いからは、19世紀末には の人びとが鉄道を利用していたとわかる。また、^(b)明治期の日本では、 いったこともわかる。

問 1 に当てはまる語句の組合せとして最も適切なものを、次の①～④のうちから一つ選べ。解答番号は 。

- ① A—上流階級 B—女性より男性が先に洋装を取り入れて
- ② A—上流階級 B—庶民の作業に適しているため洋装が普及して
- ③ A—幅広い階層 B—女性より男性が先に洋装を取り入れて
- ④ A—幅広い階層 B—庶民の作業に適しているため洋装が普及して

問 2 下線部分 1870年代初め のできごとについて述べた文の正誤の組合せとして適切なものを、下の①～④のうちから一つ選べ。解答番号は 。

- ア 身分制度が改められ、人びとは職業や居住地を選べるようになった。
- イ 被差別部落の人びとは全国水平社を結成して、差別の廃止を訴えた。

- ① ア—正 イ—正
- ② ア—正 イ—誤
- ③ ア—誤 イ—正
- ④ ア—誤 イ—誤

問 3 下線部分 明治期の日本 の学問や文化について述べた文として適切なものを、次の①～④のうちから一つ選べ。解答番号は 。

- ① 細菌学の研究を進めた北里柴三郎が、破傷風血清療法を発見した。
- ② 社会科学の研究が進み、丸山真男らが日本の社会の特質を追究した。
- ③ 『赤い鳥』が創刊され、児童向けの良質の作品が掲載された。
- ④ 『主婦之友』や『キング』など大衆向けの雑誌が創刊された。

2 次の資料とその説明文を読み、後にある問1～問3に答えよ。

資料(意識してある)

我が日本の国土はアジアの東端にあるが、国民の精神はすでにアジアの未開な段階を脱して、西洋の文明の段階に移った。しかし不幸なことに、近隣には清と朝鮮がある。この二国^(a)の人びとは改進の道を受け入れず、西洋の文明をみても心を動かされず、いまだに古い制度や文化を変えようとしなない。

そのため、我が国は近隣の国々の開明を待って一緒にアジアをたてなおすのではなく、西洋の文明国と進退を共にし、清と朝鮮に接する方法も、隣国だからといって特別の気づかいはせず、西洋人がアジアの国々と接するようにするだけである。悪い仲間と仲良くしている^(b)と、悪い評判を避けられない。私は東アジアの悪い仲間を拒否するものである。

説明文

資料は1885年に『時事新報』に掲載された社説であり、福沢諭吉が書いたと考えられている。福沢は、に参加し、中村正直らとともに欧米の啓蒙思想を紹介した。自らが開いた慶応義塾には朝鮮からの留学生も積極的に受け入れていた。しかしと、翌年、資料の社説を発表して清や朝鮮を「文明を受け入れない国」として批判し、日本は西洋諸国のように厳しい姿勢で両国に接するべきだと主張した。

問1 に当てはまる語句の組合せとして正しいものを、次の①～

④のうちから一つ選べ。解答番号は 。

- ① A—明六社 B—急速な近代化を進めようとした金玉均らのクーデターが失敗する
- ② A—明六社 B—閔氏政権が列強と条約を結び近代化を進めようとする
- ③ A—愛国社 B—急速な近代化を進めようとした金玉均らのクーデターが失敗する
- ④ A—愛国社 B—閔氏政権が列強と条約を結び近代化を進めようとする

問 2 下線部分西洋の文明について、この資料が発表される以前に日本が西洋の文明の段階に移ったと考えられたできごとについて述べた文の正誤の組合せとして最も適切なものを、下の①～④のうちから一つ選べ。解答番号は 5。

- ア 国民主権を柱とする憲法を制定し、諸法律を整備して民主化を進めた。
 イ 小笠原領有宣言や樺太千島交換条約の締結などにより、国境を画定した。

- ① アー正 イー正 ② アー正 イー誤
 ③ アー誤 イー正 ④ アー誤 イー誤


問 3 下線部分西洋人がアジアの国々と接したできごとについて述べた次のア～ウを年代の古い順に正しく並べたものを、下の①～④のうちから一つ選べ。解答番号は 6。

- ア ロシアは、清の影響力が弱まった朝鮮に進出し、日本と対立した。
 イ アメリカは、東インド艦隊司令長官ペリーを派遣し、日本に開国を迫った。
 ウ アヘン戦争に勝利したイギリスは、清に広州(広東)、上海などを開港させた。

- ① ア→イ→ウ ② イ→ア→ウ ③ ウ→ア→イ ④ ウ→イ→ア

- 3 次の図は1888年1月4日の『絵入自由新聞』に掲載された、自由民権運動における演説会のようすを描いた絵である。図をみて、後にある問1～問2に答えよ。

図



- 問1 図の演説者と聴衆の間に割って入っている3人の人物の職業と、彼らが割って入ろうとしている理由の組合せとして最も適切なものを、下の①～④のうちから一つ選べ。

解答番号は 。

職業 ア 警察官
イ 教師

理由 ウ 聴衆が投げた物から、演説者を守ろうとしている。
エ 演説会を中止させようとしている。

- ① アーウ ② アーエ ③ イーウ ④ イーエ

- 問2 図の演説者が行った演説の内容と考えられることとして適切でないものを、次の①～④のうちから一つ選べ。解答番号は 。

- ① 言論の自由や集会の自由を認めることが必要である。
② 不平等条約を改正し、対等な条約を結ぶことが必要である。
③ 地租を軽減し、納税者の負担を軽減することが必要である。
④ 私有財産制度を否認し、生産手段を共有することが必要である。

4 先生と生徒 Y・Z は、秋田県小坂町こさかに研修旅行に来た。次の会話文 I・II を読み、後にある問 1～問 4 に答えよ。

I

康楽館の写真



先生：これは康楽館こうらくかんという芝居小屋です。明治から昭和前期にかけて発展した小坂鉦山の従業員の娯楽施設として 1910 年に建てられました。

生徒 Y：ここで行われた催し物や関連するできごとのリストをみつけました。これをみると、康楽館では **A** ことがわかりますね。

年	催し物・できごと
1910	大阪歌舞伎の尾上松鶴一座公演「仮名手本忠臣蔵」他
1915	文学博士 井上円了講演会
1923	福田豊太公演 メーテルリンク作「青い鳥」
1932	映写室完成 ローヤル映写機設置
1935	市川玉之助一行歌舞伎公演「白浪五人男」他

問 1 **A** に当てはまる文の正誤の組合せとして正しいものを、下の①～④のうちから一つ選べ。解答番号は **9**。

ア 歌舞伎や新劇が上演されていた

イ 世界恐慌がおこる前に映画の上映が行われていた

① アー正 イー正

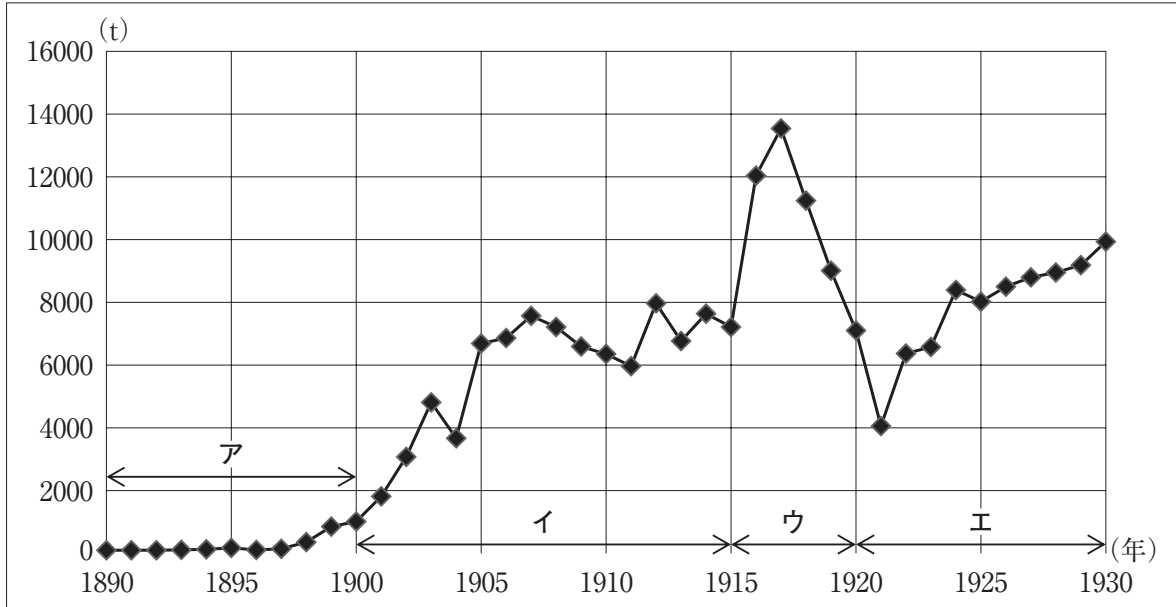
② アー正 イー誤

③ アー誤 イー正

④ アー誤 イー誤

Ⅱ

グラフ1 小坂鉱山の年次別銅生産量



(『創業百年史[資料]』により作成)

生徒 Y：グラフ1からは、イの時期には生産量に変動しながらも徐々に増えていることがわかります。

先生：小坂鉱山ではこの時期に技術革新が行われ、生産量を伸ばすことができたようです。

生徒 Z：ウの時期にははじめ生産量が激増し、その後激減しています。どういうことでしょうか。

先生：これには当時の世界情勢が大きく影響しています。次の表をみてください。

年	銅 60 kg あたりの卸売物価 指数(注)(年平均)	年間銅輸出総額 (円)	年間銅輸入総額 (円)
1913	102	29,183,904	61,753
1914	93	27,196,617	15,977
1915	114	44,264,301	169,446
1916	159	66,119,107	1,733,266
1917	176	87,495,102	3,582,857
1918	172	37,348,643	679,804
1919	159	19,647,000	26,340,000
1920	143	5,138,000	22,261,000

(注) 1900年10月=100としたもの (『明治20年-昭和37年 卸売物価指数』、『本邦貿易年鑑』により作成)

生徒 Y：第一次世界大戦開戦の翌年から銅価格が上がり始め、休戦の年から下がり始めていますね。

先生：銅は軍需用品などに用いられていたため、戦時中は需要が高まったのです。ウの時期の前半に生産量が激増しているのもそのためと考えられます。

生徒 Z：他にも、休戦の翌年に **B** が結ばれ講和が成立すると、銅は輸入超過に転じていることに気づきました。

先生：終戦後 **C** からの輸入が増えると、国産銅は価格競争に負けてしまうようになったことが原因のようです。

問 2 B C に当てはまる語句の組合せとして最も適切なものを、次の


①～④のうちから一つ選べ。解答番号は 10 。

- ① B—ポーツマス条約 C—日本が影響力を強めた満州国
- ② B—ポーツマス条約 C—東アジア市場へ復帰した欧米諸国
- ③ B—ヴェルサイユ条約 C—日本が影響力を強めた満州国
- ④ B—ヴェルサイユ条約 C—東アジア市場へ復帰した欧米諸国

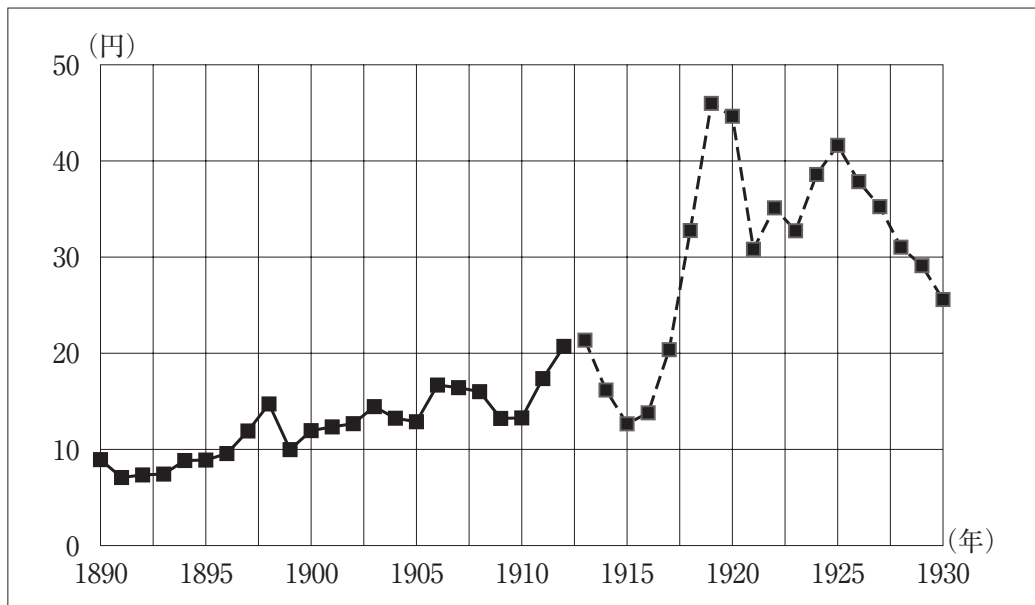
問 3 次の資料は、小坂鉦山の労働者たちが経営者側に提出した嘆願書である。これが出された時期として適切なグラフ 1 中の期間を、グラフ 2 を参考に、下の①～④のうちから一つ選べ。解答番号は 11 。

資料(意識してある)

『小坂町史』により作成(意識)



グラフ 2 1石(約 180 リットル)あたりの米価の推移(注)



(注) 1890～1912年までは東京正米市場平均価格、1913～1930年までは標準米の価格に基づいて作成した。
(『米価の歩み千七百年』により作成)

- ① ア
- ② イ
- ③ ウ
- ④ エ

問 4 グラフ 1 中のア～エの時期の経済・産業界の状況について述べた文として適切でないものを、次の①～④のうちから一つ選べ。解答番号は 。

- ① アの時期には日本銀行が設立され、数年後には銀兌換の紙幣が発行された。
- ② イの時期には鉄道国有法が公布され、全国の幹線が国有化された。
- ③ ウの時期には造船業・海運業がブームを迎え、日本の造船量は世界第 3 位に達した。
- ④ エの時期には関東大震災がおこり、その影響で多くの企業が倒産した。

5 第11回から第17回までの衆議院議員選挙についてまとめた次の表について、後にある問1～問4に答えよ。

表

回	年	首相	有権者数	選挙結果
11	1912年	西園寺公望	約151万人	<p>立憲政友会 55.4% 立憲国民党 24.9% 中央俱樂部 8.1% 無所属 11.6%</p>
12	1915年	大隈重信	約155万人	<p>立憲政友会 28.3% A 40.2% 立憲国民党 7.1% 中正会 8.7% 大隈伯後援会 3.1% 無所属 12.6%</p>
13	1917年	寺内正毅	約142万人	<p>立憲政友会 43.3% 憲政会 31.8% 立憲国民党 9.2% 無所属 15.7%</p>
14	1920年	原敬	約307万人	<p>立憲政友会 59.9% 憲政会 23.7% 立憲国民党 6.3% 無所属 10.1%</p>
15	1924年	清浦奎吾	約329万人	<p>立憲政友会 22.6% 憲政会 32.5% 革新俱樂部 6.5% 政友本党 23.5% 無所属 14.9%</p>
16	1928年	田中義一	約1241万人	<p>立憲政友会 46.6% B 46.4% 無産政党(注) 1.7% その他 5.3%</p>
17	1930年	浜口雄幸	約1281万人	<p>立憲政友会 37.3% B 58.6% 無産政党 1.1% その他 3.0%</p>

(注) 労働者や小作人など、無産階級の意見を代表する政党のこと。

問 1 A・Bに当てはまる政党の組合せとして正しいものを、次の①～④のうちから一つ選べ。

解答番号は 。

- ① A—国民協同党 B—立憲民政党 ② A—国民協同党 B—日本共産党
 ③ A—立憲同志会 B—立憲民政党 ④ A—立憲同志会 B—日本共産党

問 2 次の文(意識してある)はあるできごとについて述べたものである。このできごとがおこったのはどの期間中か、下の①～④のうちから一つ選べ。解答番号は 。

最近、突然憲法擁護などという声が高まっている。……この憲法擁護の声のおこった原因は、ある人物の辞職である。陸軍大臣が辞職して、そのためその人物が内閣を維持することができないというのが根本である。さらに根本を言えば、陸軍の二個師団増設問題である。
 (『大隈重信演説談話集』により作成)

- ① 第 11 回選挙の実施から第 13 回選挙の実施直前までの期間
 ② 第 13 回選挙の実施から第 15 回選挙の実施直前までの期間
 ③ 第 15 回選挙の実施から第 17 回選挙の実施直前までの期間
 ④ 第 17 回選挙の実施以降

問 3 表の下線部分浜口雄幸内閣が金解禁を行った結果、日本の経済状況は悪化した。この理由について述べた次のカードの に当てはまる語の組合せとして最も適切なものを、下の①～④のうちから一つ選べ。解答番号は 。

カード

金輸出の禁止が行われた 1917 年と、金解禁が行われた 1930 年の為替相場は以下のとおりである。

1917 年	100 円 = 49.85 アメリカドル
1930 年	100 円 = 46.46 アメリカドル

このように、1930 年の方が 1917 年よりもアメリカドルに対する円の価値が になっている。それなのに政府は 1917 年の為替相場で金解禁を行ったため が伸び悩み、日本経済は打撃を受けた。

- ① C—低 く D—輸 入 ② C—低 く D—輸 出
 ③ C—高 く D—輸 入 ④ C—高 く D—輸 出

問 4 表から読み取れることとして正しいものを、次の①～④のうちから一つ選べ。

解答番号は

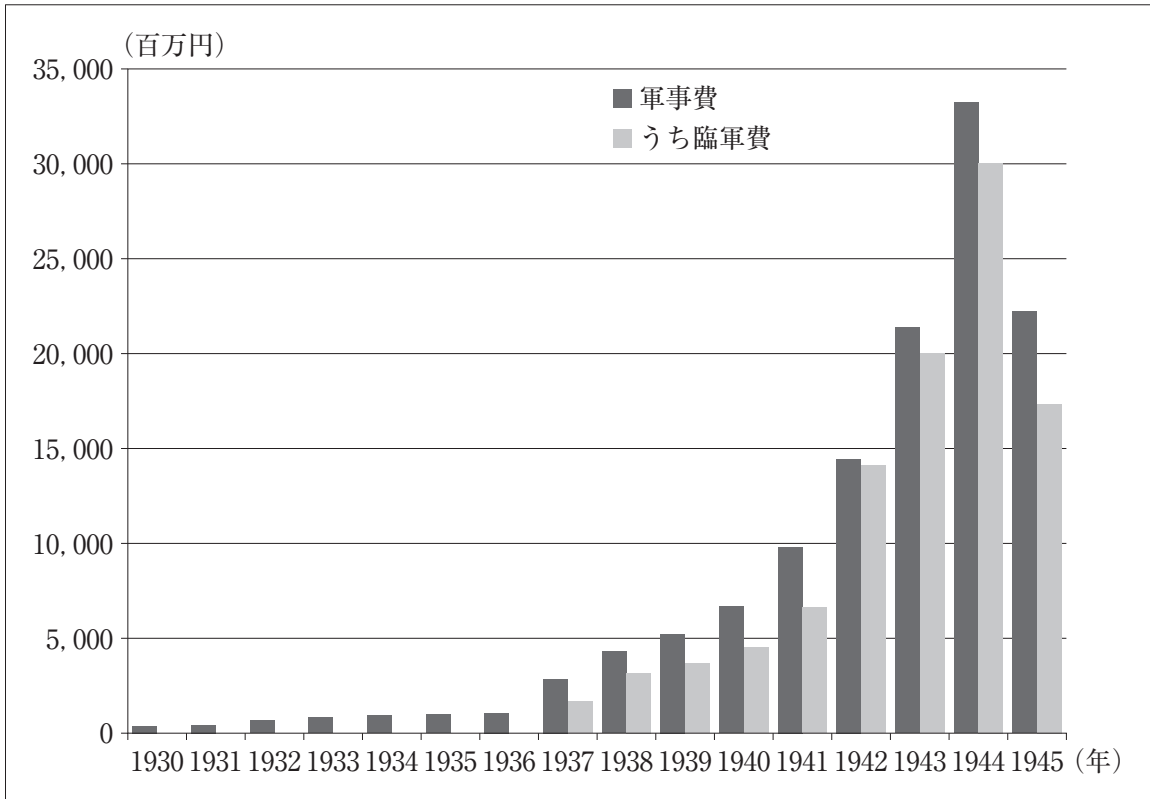
16

。

- ① 第12回選挙で立憲政友会が大きく議席を減らしたのは、シベリア出兵に対する民衆の反感が高まったためと考えられる。
- ② 無産政党の議員が誕生したのは、男子普通選挙が行われるようになってからである。
- ③ ジーメンス事件の後、立憲国民党は大きく議席を伸ばした。
- ④ 第16回選挙で有権者数が4倍近くに増えたのは、女性に参政権が認められたためである。

6 次のグラフと会話文を読み、後にある問1～問4に答えよ。

グラフ



(『近現代日本経済史要覧』より作成)

会話文

先生：このグラフは1930年から1945年の日本の軍事費を表したものです。

生徒：臨時軍事費特別会計(以下、臨軍費)とはなんですか。

先生：臨軍費とは、戦争で必要となる戦費を賄うために特別に作られる予算のことです。

生徒：そうすると、1937年から戦争が始まっていることがわかりますね。

先生：戦争が始まって予算が大きくなっていることも事実ですが、前年におきたクーデター^(a)も政治に軍部が介入しやすくなったという意味で軍事費の拡大の要因になっています。

生徒：軍事費の拡大から戦争の移り変わりを読み取れますね。

先生：そうですね。また、産業の在り方^(c)からも戦争のようすを読み取れますよ。

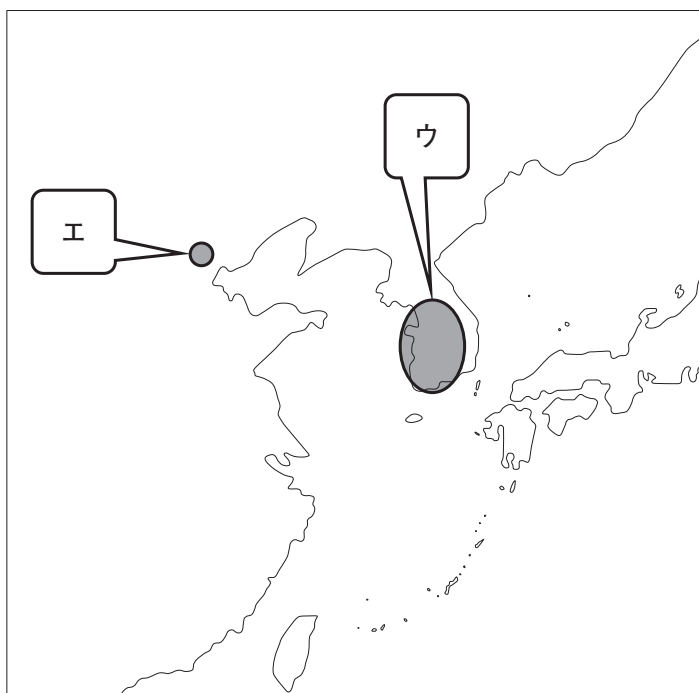
問 1 下線部分戦争について、この戦争の名称と戦争のきっかけとなった事件がおきたおよその地域(a)の組合せとして適切なものを、下の①～④のうちから一つ選べ。解答番号は 17。

名 称

ア一日清戦争

イ一日中戦争

地 域



① アーウ

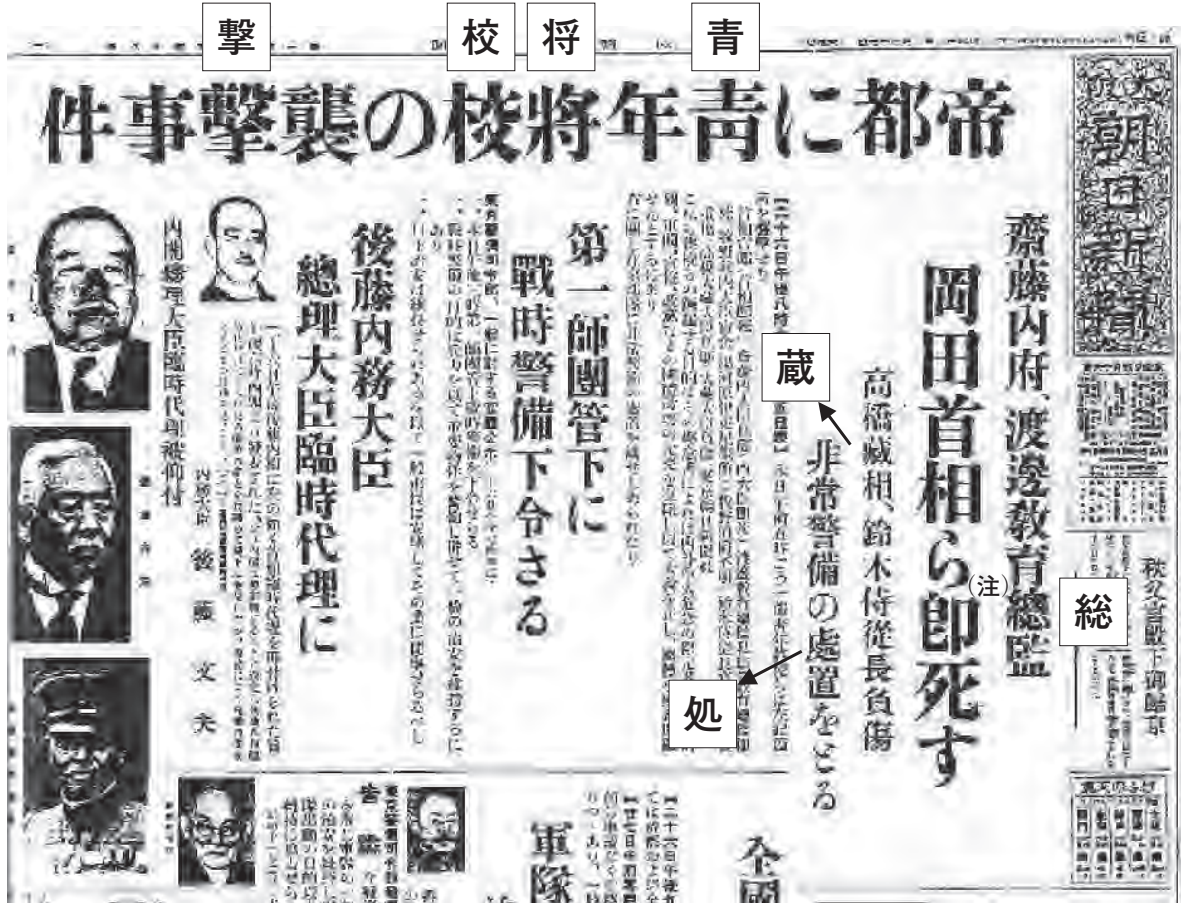
② アーエ

③ イーウ

④ イーエ

問 2 次の記事は下線部分クレーターの翌日に発行された新聞記事の一面である。記事に関連して述べたものとして適切でないものを、下の①～④のうちから一つ選べ。

解答番号は 18 。



(注) その後岡田首相の生存は確認された。

- ① 首相や教育総監，侍従長などの要人が標的となった。
- ② 青年将校らが中心となって事件をおこした。
- ③ 陸軍によって通常警備が敷かれ，事件は終息した。
- ④ この事件を二・二六事件という。

問 3 下線部分^(c)戦争の移り変わりが読み取れる文の正誤の組合せとして適切なものを、下の①～④のうちから一つ選べ。解答番号は 。

ア 1942年以降に臨軍費が著しく増加していることから、前年末に日本が新たな戦争を始めたことが読み取れる。

イ 1945年に臨軍費が減少していることから、1944年に戦争が終結したことが読み取れる。

- ① アー正 イー正 ② アー正 イー誤
③ アー誤 イー正 ④ アー誤 イー誤

問 4 下線部分^(d)産業の在り方に関して、次の表についての説明文の に当てはまる語句の組合せとして適切なものを、下の①～④のうちから一つ選べ。解答番号は 。

表

	1930年	1940年	1944年
農業	13,742	13,363	11,274
鉱業	314	596	778
軽工業	3,192	3,089	1,633
重工業	1,510	3,756	6,344
小売業	4,113	4,083	1,248

単位(千人)

(『近現代日本経済史要覧』より作成)

説明文

この表は産業別の就業人口をまとめたものである。この表に示された1930年から1944年の間に の人口が最も増加していることがわかる。また、その一方で軽工業や小売業が縮小していることから、 が優先されるようになったという戦時体制の特徴を読み取ることができる。

- ① A—重工業 B—民需よりも軍需 ② A—重工業 B—軍需よりも民需
③ A—鉱業 B—民需よりも軍需 ④ A—鉱業 B—軍需よりも民需

7 次の資料を読み、後にある問1～問4に答えよ。

資料(意識してある)

国民所得倍増計画について(意識)

問1 下線部分^(a)国民所得倍増計画について、この計画が出される以前におこった社会問題と、国際経済と日本の関わりについて説明した文の組合せとして適切なものを、下の①～④のうちから一つ選べ。解答番号は 21 。

社会問題

- ア 交通網の整備による地域振興案が、石油危機と相まって狂乱物価を引き起こした。
- イ 日米安全保障条約の改正に対して、大規模な国民のデモがおこった。

国際経済と日本の関わり

- ウ 占領下からの独立を果たし、国際通貨基金(IMF)に加盟した。
- エ 急速な経済成長を背景に、経済協力開発機構(OECD)に加盟した。

- ① アーウ ② アーエ ③ イーウ ④ イーエ

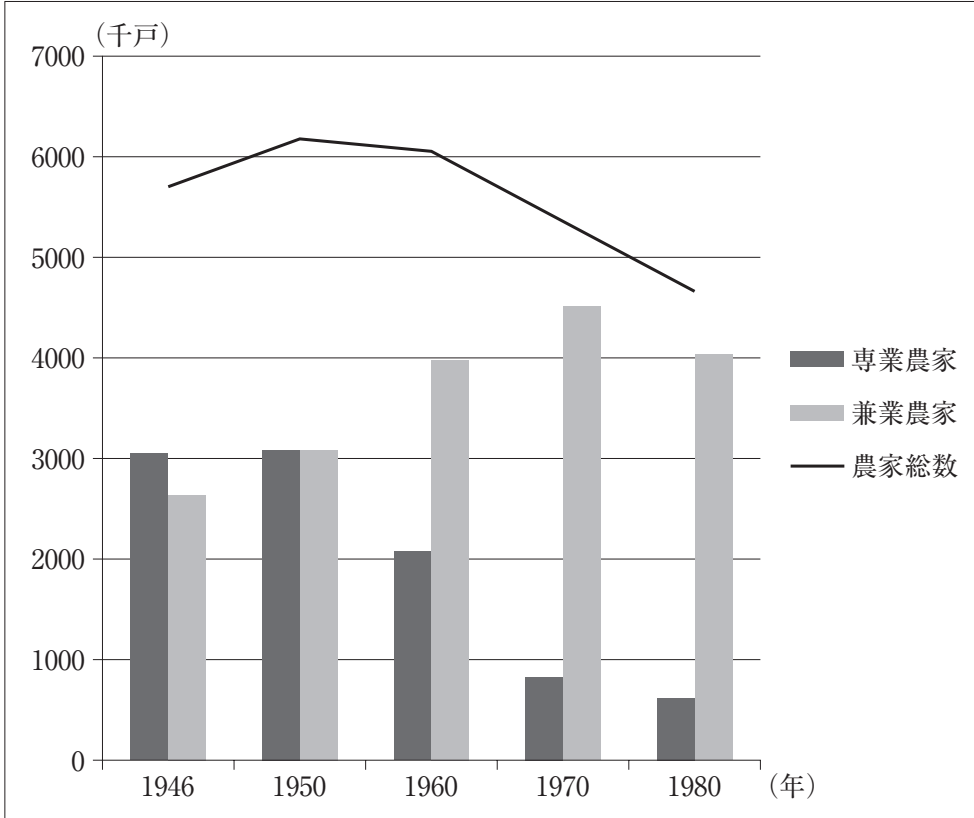
問2 下線部分^(b)国民の生活水準を大はばに引き上げるについて、生活水準の向上に影響を与えたとされる経済成長について説明した次のア～ウを年代の古い順に正しく並べたものを、下の①～④のうちから一つ選べ。解答番号は 22 。

- ア 戦後初のオリンピック開催に向けて刺激を受けた経済成長
- イ 朝鮮戦争に参加していたアメリカ軍によってもたらされた特需による経済成長
- ウ 造船業の繁盛やヨーロッパ向けの軍需品の輸出拡大による経済成長

- ① ア→イ→ウ ② イ→ア→ウ ③ ウ→ア→イ ④ ウ→イ→ア

問 3 下線部分^(c)生活上および所得上の格差の是正に関して、次のグラフの説明文の **A** **B** に当てはまる語句の組合せとして適切なものを、下の①～④のうちから一つ選べ。解答番号は **23** 。

グラフ



説明文

国民所得倍増計画で、農業で働く人の所得と他の産業の人の所得に差が生まれすぎないように方針が出され、翌年施行された農業基本法では、経営規模の拡大や農業所得増大が目指された。

その結果実際に農家の所得は増えたが、それは **A** の増加によるものとみられ、全体でみてもこの法律の施行以後の農家総数は **B** ている。

- ① A—兼業農家 B—減少し続け
- ② A—兼業農家 B—増加したり減少したりし
- ③ A—専業農家 B—減少し続け
- ④ A—専業農家 B—増加したり減少したりし

問 4 資料の時期の急速な経済成長について説明した次の文の に当てはまる語の組合せとして適切なものを、下の①～④のうちから一つ選べ。解答番号は 。

経済成長の矛盾として現れた公害病に対して各地で公害反対運動がおり、公害対策基本法が制定され、 が発足して政府も本格的に取り組みを始めた。そのような情勢の下では、地方首長選挙でも都市・公害問題が争点となり東京都では美濃部亮吉が当選するなど 系の首長が相次いで誕生した。

- ① C—環境庁 D—保守 ② C—環境庁 D—革新
③ C—消費者庁 D—保守 ④ C—消費者庁 D—革新


8 次のⅠ・Ⅱを読み、後にある問1～問4に答えよ。

Ⅰ

近世の日本において、庶民に情報を伝達するメディア機能を担っていたのは、「瓦版」^{かわらばん}であった。瓦版が広く世に出始めたのは17世紀後半以降からであり、それらは図のような「読売」^{よみうり}たちによって売られていた。幕府は瓦版の扱いを禁止していたが、読売たちは監視の目をかいくぐり、顔を隠して二人一組で市中を売り歩いた。幕府の取り締まりも、幕政批判や心中事件に関わるもの以外は厳格なものではなかったようで、取り扱われた内容は時事問題からうわさ話まで多岐に及んでいた。資料は一般的な瓦版の例で、庶民の娯楽として広まった瓦版は、幕末の動乱期に最盛期を迎えるが、明治以降は新聞の登場などにより次第に衰退していった。

図 資料

読売の絵



問1 Ⅰから読み取れる内容として適切なものの組合せを、下の①～④のうちから一つ選べ。

解答番号は 。

- ア 読売たちが笠をかぶっているのは、身元がわからないようにするためである。
- イ 瓦版の内容では、外国に関する情報などは取り扱われなかった。
- ウ 瓦版は一般的に、絵と文章で構成されていた。
- エ 瓦版は庶民の娯楽として流行したが、幕府は徹底的に取り締まった。

- ① アーウ ② アーエ ③ イーウ ④ イーエ

II

1870年、日本最初の日刊紙である「横浜毎日新聞」が創刊されたのを皮切りに、「東京日日新聞」「郵便報知新聞」など多くの新聞が創刊されていった。

当初政府は、新聞の普及が という認識から積極的に保護する政策を取った。しかし、自由民権運動が盛んになると、政府に批判的な論調が目立つようになったことを危惧した明治政府は、1875年に新聞紙条例、讒謗律を制定して新聞の言論弾圧に乗り出した。

大正時代の新聞は、民衆の言論機関として 的主張の高まりをうながす役割を果たしたりもしたが、昭和になると新聞への言論統制は一層厳しいものとなった。太平洋戦争中には、新聞をはじめとした各メディアの多くは戦意高揚^(a)に用いられていった。

太平洋戦争後、新聞やラジオなどの日本のメディアはGHQの管轄下に置かれ、占領軍に対する批判や軍国主義的発言に対して検閲が行われるようになった。しかし、占領体制に終止符が打たれると、各社はそれぞれの報道を展開して世の中に影響を与えてきた。現代では、新聞のみならずテレビやインターネットなど様々な手段でニュースが発信されるようになっている。^(b)

問 2 に当てはまる語句の組合せとして最も適切なものを、次の①～④のうちから一つ選べ。解答番号は 。

- | | |
|------------------|----------|
| ① A—識字率の格差を拡大させる | B—デモクラシー |
| ② A—識字率の格差を拡大させる | B—欧化主義 |
| ③ A—国民の啓蒙に役立つ | B—デモクラシー |
| ④ A—国民の啓蒙に役立つ | B—欧化主義 |

問 3 下線部分^(a)戦意高揚のために作成されたものとして適切でないものを、次の①～④のうちから一つ選べ。解答番号は 。

①

(画)




②

(強) (扱)




③

陸軍省ポスター



④

与謝野晶子「一遍上人絵伝」



問 4 下線部分世の中に影響を与えてきた報道とその結果を書いたカードがある。これらをそれぞれ組合せたとき1枚余る結果のカードを、下の①～④のうちから一つ選べ。

解答番号は 28。

報 道

「東京横浜毎日新聞」や「郵便報知新聞」などが報じた内容

北海道開拓使の官有物を政商に安価で払い下げる動きがある。

ベルリン発のロイター外電が報じた内容

ドイツの企業が日本の海軍将校に賄賂を贈った記録を確認した。

「朝日新聞」が報じた内容

ある大企業が子会社の不動産会社の未公開株を政財界に譲渡している。

結 果

①

一大汚職事件となり、海軍大将が組閣していた内閣が総辞職した。

②

金脈問題で辞職した前総理大臣が逮捕され、罪に問われた。

③

明治十四年の政変のきっかけとなり、国会開設が約束された。

④

消費税法案成立も重なって支持率が急落し、内閣総辞職となった。

(これで日本史Aの問題は終わりです。)