

平成30年度 政治・経済 (50分)

注 意 事 項

- 1 試験開始の合図があるまで、この問題冊子の中を見てはいけない。
- 2 この問題冊子は44ページである。
試験中に問題冊子の印刷不鮮明、ページの落丁・乱丁及び汚れ等に気付いた場合は、手を挙げて監督者に知らせること。
- 3 試験開始の合図前に、監督者の指示に従って、解答用紙の該当欄に以下の内容をそれぞれ正しく記入し、マークすること。
 - ・①氏名欄
氏名を記入すること。
 - ・②受験番号、③生年月日、④受験地欄
受験番号、生年月日を記入し、さらにマーク欄に受験番号(数字)、生年月日(年号・数字)、受験地をマークすること。
- 4 受験番号、生年月日、受験地が正しくマークされていない場合は、採点できないことがある。
- 5 解答は、解答用紙の解答欄にマークすること。例えば、

10

と表示のある解答番号に対して②と解答する場合は、次の(例)のように解答番号10の解答欄の②にマークすること。

(例)

解答 番号	解 答 欄			
10	①	②	③	④

- 6 問題冊子の余白等は適宜利用してよいが、どのページも切り離してはいけない。
- 7 試験終了後、問題冊子は持ち帰ってよい。

注意事項は裏表紙に続きます。この問題冊子を裏返して必ず読むこと。

ただし、問題冊子を開かないこと。

政治・経済

(解答番号 ~)

【共通問題】

 次の生徒が書いたレポートを読んで、問1～問6に答えよ。

レポート

私は、政治・経済の授業で憲法について学びたいです。日本では、その基本原理として国民民主権や基本的人権の尊重が定められています。それらの基本原理を実現するため、民主主義^(a)や立憲主義という理念を具体化するための統治制度が定められています。これらの原理や理念は、国民が国家権力に不当に干渉されることなく自由に生きていく上でとても大切です。この原理を定めた日本国憲法^(c)は最も重要な法規とされ、憲法に違反する法律を国会が定めたり、行政機関が憲法に違反する権限を行使したりすることは許されないとされています。

日本国憲法第98条第1項では、「この憲法は、国の であつて、その条規に反する法律、命令、詔勅及び国務に関するその他の行為の全部又は一部は、その効力を有しない。」と規定しています。三権分立から見ると司法権としては、日本国憲法第81条にもあるように、最高裁判所^(d)は一切の法律、命令、規則又は処分が憲法に適合するかしないかを決定する権限を有する終審裁判所であるとしています。

政治・経済の授業では、さらに平和主義^(e)について深く考えてみたいです。

問1 レポート中の にあてはまるものとして適切なものを、次の①～④のうちから一つ選べ。解答番号は 。

- ① 政治道徳
- ② 最高法規
- ③ 最低基準
- ④ 硬性憲法

問 2 下線部分^(a)基本的人権に関連して、法の下での平等について述べている次のア、イ、ウ、エの中から最高裁判所が下した違憲判決の組合せとして適切なものを、下の①～④のうちから一つ選べ。解答番号は 。

ア 自分の親などを殺害すると、その他の殺人に比べて重罰が科される刑法の規定について、最高裁判所は不合理な差別的取り扱いをするものであり違憲と判断した。

イ 法律上の結婚をしていない男女間に生まれた婚外子の遺産相続について、結婚した男女間に生まれた子の半分と定める民法の規定について、最高裁判所は違憲と判断した。

ウ 現行の生活保護基準が不十分であり、健康で文化的な最低限度の生活が保障されていないとした訴訟で、最高裁判所は不合理な差別であるとして違憲と判断した。

エ 同じ市町村に長く住んでいる 20 歳以上の定住外国人に選挙権を与えないことについて、最高裁判所は不合理な差別的取り扱いをするものであり違憲と判断した。

- ① アとイ
- ② アとウ
- ③ イとウ
- ④ イとエ

問 3 下線部分^(b)民主主義に関連して、次のオ、カ、キの出典としてあてはまるものの組合せとして適切なものを、下の①～④のうちから一つ選べ。解答番号は 。

オ あらゆる主権の原理は、本質的に国民に存する。

カ 人民の、人民による、人民のための、政治を地上から絶滅させないため、であります。

キ そもそも国政は、国民の厳粛な信託によるものであつて、その権威は国民に由来し、その権力は国民の代表者がこれを行使し、その福利は国民がこれを享受する。

	オ	カ	キ
①	権利章典	アメリカ独立宣言	日本国憲法
②	権利章典	ゲティスバーグ演説	ワイマール憲法
③	フランス人権宣言	ゲティスバーグ演説	日本国憲法
④	フランス人権宣言	アメリカ独立宣言	ワイマール憲法

問 4 下線部分^(c)日本国憲法に関連して、次の文章はある生徒が国民投票制度についてまとめたレポートである。レポート中の **B** , **C** , **D** にあてはまるものの組合せとして適切なものを、下の①～④のうちから一つ選べ。解答番号は **4** 。

レポート

私は、憲法改正手続きの国民投票制度について関心を持ちました。留学する予定なので、その時に国民投票が実施されたら投票できるのかを調べました。

1. 日本国憲法の改正手続きに関する法律(国民投票法)の趣旨

この法律の趣旨は、日本国憲法第 96 条に定める日本国憲法の改正について、国民の承認に係る投票(国民投票)に関する手続きを定めるとともに、あわせて憲法改正の発議に係る手続きの整備を行う内容となっています。

2. 投票権について

国民投票の投票権は、年齢満 **B** 歳以上の日本国民が有することとされています。

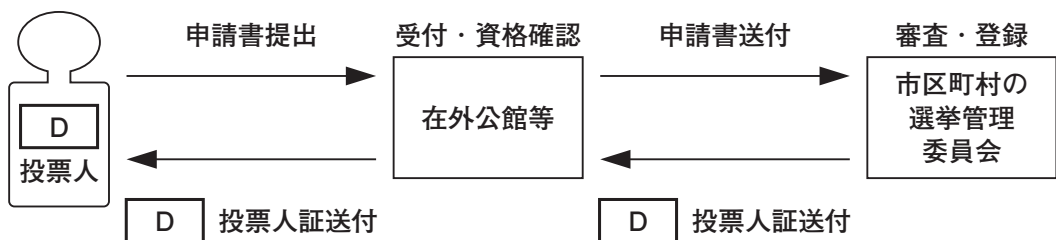
3. 憲法改正の承認について

憲法改正案に対する賛成の投票の数が **C** の 2 分の 1 を超えた場合は、当該憲法改正について日本国憲法第 96 条第 1 項の国民の承認があったものとされます。その場合、内閣総理大臣は、直ちに当該憲法改正の公布のための手続きをとらなければなりません。

4. 留学先の国で投票する場合

投票をするには、自分が住んでいる地域を管轄する大使館や領事館で、選挙人名簿への登録を申請します。すると、投票時に必要な証書が所定の市区町村選挙管理委員会から送付され在外公館等を通じて交付されます。このように留学先でも国民投票に参加できることがわかりました。

D 投票人名簿登録申請の流れ



- | | | | |
|---|----------|----------|----------|
| | B | C | D |
| ① | 25 | 有権者数 | 在外 |
| ② | 25 | 投票総数 | 洋上 |
| ③ | 18 | 有権者数 | 洋上 |
| ④ | 18 | 投票総数 | 在外 |

問 5 下線部分^(d)最高裁判所に関連して、次の会話文中の **E** , **F** , **G** にあてはまるものの組合せとして適切なものを、下の①～④のうちから一つ選べ。

解答番号は **5** 。

先 生：次の表は、今日の授業のために作った架空の最高裁判所裁判官の国民審査の結果です。前回の授業で学んだ衆議院議員総選挙の際に行われる国民審査ですね。投票用紙には、審査を受ける裁判官の氏名が印刷されています。裁判官ごとに、辞めさせたい意思があれば **E** の記号を記載し、辞めさせたくなければ何も記載せずに投票します。それでは、この表から罷免される裁判官が誰かわかりますか。

表

裁判官	罷免を可とする投票数	罷免を可としない投票数	罷免を可とする投票数の割合
ク氏	4,500,000	55,500,000	7.5%
ケ氏	6,100,000	53,900,000	10.2%
コ氏	3,500,000	56,500,000	5.8%
サ氏	3,000,000	57,000,000	5.0%
シ氏	2,500,000	57,500,000	4.2%

生徒X：罷免を可とする割合が、10%を超えているのでケ氏だと思います。

先 生：本当ですか。教科書で確認してみてください。

生徒Y：**E** の記号が記載された票が、何も記載されていない票の票数を超えた場合、その裁判官は罷免されると教科書に書いてあります。

生徒X：そんな基準だったのですか。つまり、罷免を可とする票が **F** を超えないと罷免されないということですか。それだと、ほとんど罷免されませんね。

先 生：実際には、これまでの国民審査で罷免された裁判官は **G** 。国民審査の前には、その裁判官がどんな判決を下しているのかを調べるところから始めることが大切ですね。

	E	F	G
①	×	3分の1	数名しかいません
②	×	2分の1	1人もいません
③	○	2分の1	数名しかいません
④	○	3分の1	1人もいません

問 6 下線部分^(e)平和主義に関連して、日本の安全保障政策についての文として適切なものを、次の①～④のうちから一つ選べ。解答番号は 。

- ① 朝鮮戦争が勃発すると GHQ の指令により警察予備隊が創設され、サンフランシスコ講和会議後に日本政府は保安隊に改組し、その後自衛隊へと改組した。
- ② 1960 年代に日米安全保障条約の改定について、日本国内で激しいデモなどの反対運動が起こり、日本政府は同条約を改定しなかった。
- ③ 湾岸戦争の発生を受けて、国連平和維持活動(PKO)への日本の協力をめぐる議論が高まり、国会は日本国憲法第 9 条を根拠に PKO 協力法案を廃案にした。
- ④ アメリカでの同時多発テロ事件を受けて日本の安全保障政策についての議論も高まったが、直ちに危険はないため、国会はテロ対策特別措置法案を廃案にした。

【共通問題】

2 次の文章を読んで、問1～問5に答えよ。

ある国で大量虐殺が行われたり多くの難民が発生したりするなど人権侵害や人道的な問題が起きた場合、国際社会はその国に介入し強制的にやめさせるべきだろうか。

次の二つの考え方をを用いて、この事例を考えてみよう。

一つ目は、主権国家体制の基本原則を重んじる考え方である。国際社会において、主権国家は他国から干渉を受けないという **A** の原則がある。**A** は国際社会において最も重要な原則の一つであるため、それを侵すべきではないという考え方である。この考え方は、国家間秩序の維持のために主権国家体制の基本原則を重視し、強制的な手法で他国に介入するのはその原則を無視しているとする。このような主張は、歴史的に欧米諸国から干渉を受けてきた旧植民地の国々を中心になされることが多い。

二つ目は、**B** を是とする考え方である。この考え方は、ある国で大量虐殺や難民^(a)の発生などの人権侵害や人道危機が起きて多くの人々の生命が危機に瀕しており、外部からの強制力以外に危機を止める方法がない場合、国際社会はその人権侵害行為や人道危機を止めるために介入すべきとする。冷戦終結後、^(b)地域紛争での残虐行為がメディアを通じて世界中に報道されて、この考え方を支持する声が高まった。**B** は北大西洋条約機構(NATO)が行ったり、^(c)国際連合の決議をもとに多国籍軍が行ったりするなど様々な形態がある。

この問題について、2001年に「介入と国家主権に関する国際委員会」は報告書で、本来人々を保護するのは国家だが、それが果たされない時には、国際社会が「保護する責任」を負うとした。しかし、「保護する責任」に基づいて行動するとしても、**C** への価値観の押しつけではないかという批判がある。一方で、人権抑圧や人道的な問題は実際に起きている。今日の国際社会はこうしたジレンマに直面している。こうした国際的な問題に対して各国はどのような^(d)国際貢献をするべきなのか、国家・社会の形成者である私たちが考えなければならない課題となっている。

問1 文章中の **A** , **B** , **C** にあてはまる語句の組合せとして適切なものを、次の①～④のうちから一つ選べ。解答番号は **7** 。

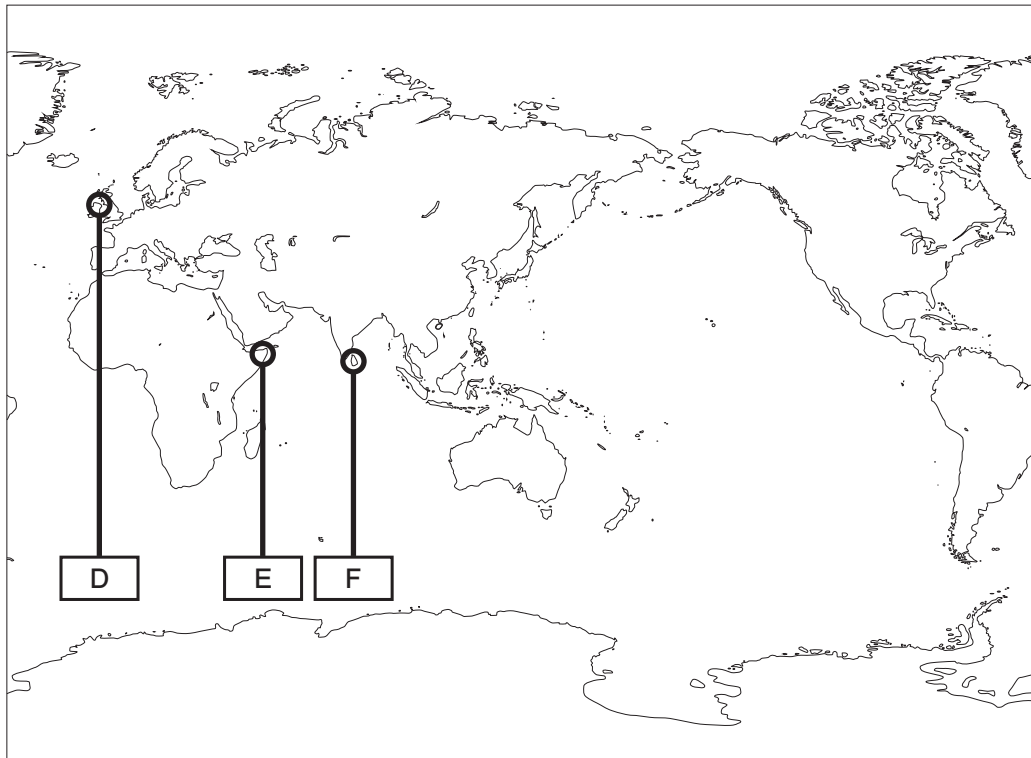
- | A | B | C |
|----------|----------|-------------|
| ① 内政不干涉 | 人道的介入 | 先進国による発展途上国 |
| ② 非同盟主義 | 勢力均衡 | 先進国による発展途上国 |
| ③ 内政不干涉 | 勢力均衡 | 主権国家による国際社会 |
| ④ 非同盟主義 | 人道的介入 | 主権国家による国際社会 |

問 2 下線部分難民について述べた文として適切なものを、次の①～④のうちから一つ選べ。

解答番号は 。

- ① 国連総会は、冷戦終結後に地域紛争などによって増えた難民に対処するため、難民条約を採択している。
- ② 日本は、難民と認定された人には参政権を与えて国政選挙や地方選挙への選挙権と被選挙権を保障している。
- ③ 難民条約を批准した国は、難民を生命や自由が危険にさらされる国へ送りかえすことが禁じられている。
- ④ 難民条約は、経済的な理由で国外に逃れた人々や国内避難民を、難民と同様に保護の対象としている。

問 3 下線部分地域紛争(b)に関連して、次の地図中の **D** , **E** , **F** が示す地域と、その地域で起こったできごとについて説明しているア, イ, ウの組合せとして適切なものを、下の①~④のうちから一つ選べ。解答番号は **9** 。



ア 政権が崩壊して無政府状態となった後、国際連合が介入したものの撤退した。海賊行為が行われ、外国船が被害を受けて国際問題となった。

イ タミル人の反政府武装勢力が、北部と東部の分離・独立を目指して活動し、政府との間で内戦状態だったが、内戦の終結が宣言された。

ウ カトリック系住民とプロテスタント系住民が対立し、分離・独立をめぐる争いが続いた。その後、和平合意が成立した。

	D	E	F
①	ア	イ	ウ
②	ア	ウ	イ
③	ウ	イ	ア
④	ウ	ア	イ

問 4 下線部分^(c)国際連合について述べた文として適切なものを、次の①～④のうちから一つ選べ。解答番号は 。

- ① 総会は、常任理事国と非常任理事国によって構成され、国際連合が取り扱う問題について審議・勧告する機関である。
- ② 安全保障理事会は、国際連合の信託を受けた国が、ある特定の地域を統治することを支援する機関である。
- ③ 経済社会理事会は、専門機関などと連携して人権を国際的に保障したり、経済的な協力を行ったりする機関である。
- ④ 信託統治理事会は、「平和のための結集」決議に基づいて緊急特別総会を開くことができる機関である。

問 5 下線部分^(d)国際貢献に関連して、次の資料は日本が国際社会で果たすべき役割についての世論調査の結果である。会話文中の **G** , **H** , **I** にあてはまるものの組合せとして適切なものを、下の①～④のうちから一つ選べ。解答番号は **11** 。

資料 日本が国際社会で果たすべき役割(複数回答可)

項目	2009年	2016年
環境・地球温暖化などの地球規模の課題解決への貢献	62.8%	54.4%
人的支援を含んだ、地域情勢の安定や紛争の平和的解決に向けた取組を通じた国際平和への貢献	57.7%	56.6%
軍縮・不拡散の取組等を通じた世界の平和と安定への貢献	42.1%	41.1%

(内閣府「外交に関する世論調査」により作成)

先生：この資料を読み取って、気づいたことを挙げて下さい。

生徒X：2009年と2016年を比較したとき、「環境・地球温暖化などの地球規模の課題解決への貢献」は、割合が **G** 減っています。

生徒Y：2016年には「人的支援を含んだ、地域情勢の安定や紛争の平和的解決に向けた取組を通じた国際平和への貢献」が、資料中の3項目のうち最も多くなっています。

先生：その通りですね。では、それぞれの具体例を考えてみましょう。「環境・地球温暖化などの地球規模の課題解決への貢献」は、パリ協定の批准がありますよね。

生徒Y：「人的支援を含んだ、地域情勢の安定や紛争の平和的解決に向けた取組を通じた国際平和への貢献」については、「駆け付け警護」が具体例になりますか。

先生：その通りです。**H** が行う活動として「駆け付け警護」は話題になりましたね。では、資料中の2009年と2016年を比較してどちらも3番目の「軍縮・不拡散の取組等を通じた世界の平和と安定への貢献」の具体例は何があるでしょう。

生徒Y：以前先生が授業で話していた **I** 条約の批准があてはまるのでしょうか。

先生：そうですね。私たちが住む日本は国際社会で具体的にどのような役割を果たすべきなのか考えることが大切です。

- | | | |
|----------|----------|-----------|
| G | H | I |
| ① 約8ポイント | 民間人 | ワシントン |
| ② 約1ポイント | 民間人 | クラスター爆弾禁止 |
| ③ 約1ポイント | 自衛隊 | ワシントン |
| ④ 約8ポイント | 自衛隊 | クラスター爆弾禁止 |

【共通問題】

3 次の文章を読んで、問1～問6に答えよ。

財政とは一言で表せば、国や地方公共団体の予算のやりくりである。近年、^(a)世界では財政危機を懸念される国家があり、日本も例外ではないとの指摘がある。財政危機に陥る理由はいたって明瞭であり、政府が借金をし過ぎてしまうことにある。政府が発行する^(b)国債は国家を運営するため、必要に応じて認められるべきものと考えられているが、現在は、^(c)市場から資金を得ており、^(d)国債残高があまりに膨れ上がってしまえば、見過ごすこともできないであろう。なぜなら、国民に返済の負担を強いることはもちろん、投資家や金融機関に、「本当に返済してもらえるのだろうか」との思いを芽生えさせ、この不安が^(d)国債の金利を上昇させるからである。この原理は、私たちの生活においても同じであり、信用の低い借り手に対して、貸し手は高い金利を要求するのが当然であり、万が一に元本が戻ってこないときの損失を抑えておこうとするのである。

政府へ貸し付けをしているのは、前述のように金融市場である。いわゆる金融機関や投資ファンドが主になるが、それらに貯蓄や投資をしているのは私たち国民自身でもある。こう考えると、政府への借金を貸し付けているのが国民であり、政府の借金を負担しているのも国民と捉えられる。このような中、財政再建の改革は思うように進んでいるとは言い難い。消費税率の引き上げや^(e)年金の給付額削減を実行に移そうとすると、国民生活を圧迫するとも考えられ、改革にストップがかけられることにつながる。誰もが財政再建の重要性を認識しつつも、自らの既得権益を守ろうとするのが人間の姿なのかもしれない。

財政再建の問題に対しては、あらゆる議論がなされているが、まだこの世に生のないこれから生まれてくる子供たちは、この^(f)課題に対して意見すら主張できない。財政問題の核心は「借金のつけ回し」でもあり、今を生きる私たちが対策を講じなければならない問題でもある。財政を再建すべしという総論には大多数の賛同を得やすいが、既得権益を喪失するかもしれないという各論には個々レベルで反対する論調を展開するだけでは、いつまでも財政赤字を削減することはできそうにない。これからの私たちには、生まれてくる子供たちの未来を見据えた議論が必要になっているのかもしれない。

問 1 下線部分^(a)世界に関連して、世界的な不況について述べた文として適切なものを、次の①～④のうちから一つ選べ。解答番号は 。

- ① プラザ合意によって、租税回避地と呼ばれるタックスヘイブンの存在が禁止されると、日本への資金流入が巨額となりバブル景気を引き起こしたが、その後は「失われた10年」と呼ばれるほどの長期低迷に見舞われた。
- ② 日本が変動為替相場制へ移行すると、ヘッジファンドと呼ばれる大規模な機関投資家が投機的な短期資金を日本から引き上げ、アジア各国へ通貨下落現象が波及するアジア通貨危機を引き起こされた。
- ③ アメリカでは、低所得者層などを対象としたサブプライムローンの延滞や焦げ付きが増えると、大手投資銀行リーマン・ブラザーズが経営破綻に追い込まれ、その影響は日本にも及んだ。
- ④ ベトナム戦争をきっかけとする第一次石油危機は、アラブ諸国と敵対するイスラエルが石油輸出国機構(OPEC)を指揮して、原油価格の大幅引き上げを行い世界的な石油価格高騰による混乱を引き起こした。

- 問 2 下線部分**国債**に関連して、次の文章はある生徒が調べたことをまとめたものである。文章中の **A** , **B** , **C** にあてはまる語句の組合せとして適切なものを、下の①～④のうちから一つ選べ。解答番号は **13** 。

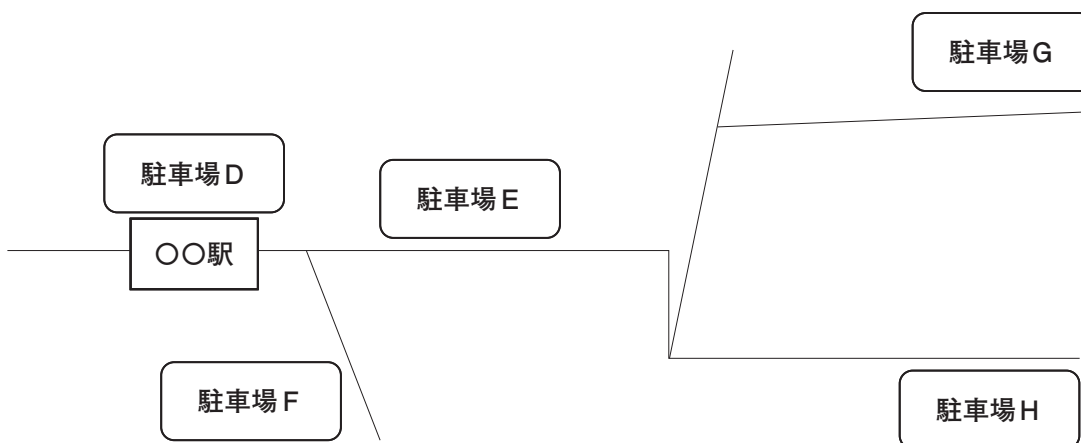
国債とは財政上の理由から、資金を調達するために国が発行する債券です。国債は償還とって、 **A** 元金が返済されます。しかし、利札と呼ばれるクーポンがついていて、定期的に利息の支払いを受けることもできます。この確実性の高いリターンを期待して、購入することが多いようです。

国債は金融市場で売買されています。国債価格は、市場経済の原理に^{のつと}則り、常に変動しているとのことです。現在は個人向け国債もあるので、私たちでも購入することができます。仮に国債を買おうとする投資家が増えれば、国債価格は **B** するので、購入価格に対して金利は低く抑えられるようになります。一方、国債を売ろうとする投資家が増えれば、国債価格は **C** するので、購入価格に対して金利は高くなるのです。つまり、受け取れる利息が一定であれば、価格が高いときに購入してしまうと、比較的利益は少なくなってしまうのです。ですから、より多くのリターンを期待するのであれば、国債価格が **C** しているときに購入するべきということが分かりました。

- | | A | B | C |
|---|------------|----|----|
| ① | デフォルトになったら | 上昇 | 下落 |
| ② | デフォルトになったら | 下落 | 上昇 |
| ③ | 満期になったら | 上昇 | 下落 |
| ④ | 満期になったら | 下落 | 上昇 |

問 3 下線部分^(c)市場に関連して、次の地図は、ある会社が経営する駐車場の位置を表しているものである。この会社では、駅に近い多くの利用者が便利と感じる駐車場には、高い駐車料金を設定しており、いわゆる需要と供給の法則を料金設定に活用している。しかし、駐車場Hの料金は、駅から遠くないにも関わらず、地図上の駐車場の中では、最も高い料金設定がなされている。この理由として考えられるものとして最も適切なものを、下の①～④のうちから一つ選べ。解答番号は 14。

地図



各駐車場の〇〇駅からの距離と駐車料金

駐車場D：	徒歩 0 分(駅前)	／	1 時間につき 500 円
駐車場E：	徒歩 10 分	／	1 時間につき 400 円
駐車場F：	徒歩 20 分	／	1 時間につき 300 円
駐車場G：	徒歩 30 分	／	1 時間につき 200 円
駐車場H：	徒歩 25 分	／	1 時間につき 600 円

- ① この駐車場の近くに、いくつかのライバル会社が格安を売りにした大型駐車場をオープンした。
- ② この駐車場の近くの施設が世界遺産に登録されて多くの観光客が訪れるようになったが、駐車場を完備しておらず、周辺にも駐車場があまりなかった。
- ③ この駐車場の近くに〇〇市役所が移転すると、その隣接する駐車場を一般市民に無料で開放した。
- ④ この駐車場の近くにあったある会社の大規模工場が、経営上の理由から閉鎖して、海外へ移転した。

問 4 下線部分金融機関について、次のカード(ア)、カード(イ)、カード(ウ)は、ある高校生たちが金融機関について調べたことを報告しあった内容である。正しいものの組合せとして適切なものを、下の①～④のうちから一つ選べ。解答番号は 15。

カード(ア)

金融機関といったら都市銀行や地方銀行などの銀行が思い浮かぶけれど、証券会社や保険会社も金融機関に該当するんだね。

カード(イ)

中央銀行ももちろん、金融機関だよ。ということは、日本の場合は日本銀行と財務省が中央銀行だから、それらも金融機関なんだね。

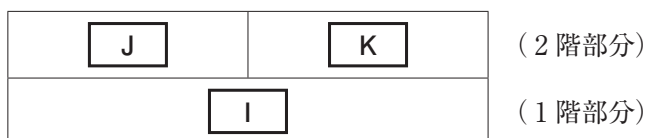
カード(ウ)

農業協同組合や漁業協同組合は、農業や漁業に関することをそれぞれ行っているのだけれど、金融に関する業務も行っているから金融機関といえるね。

- ① カード(ア) と カード(イ)
- ② カード(ア) と カード(ウ)
- ③ カード(イ) と カード(ウ)
- ④ カード(ア) と カード(イ) と カード(ウ)

問 5 下線部分^(e)年金に関連して、次の図は、日本の年金制度について示したものである。また、資料はそれらについて調べた生徒たちの発言を先生が記録してまとめたものである。資料を参考にして , , にあてはまるものの組合せとして適切なものを、下の①～④のうちから一つ選べ。解答番号は 。

図 日本のおおまかな公的年金のしくみ



資料

- ・日本は、すべての国民が何らかの年金に加入している国民皆年金が実現しているね。
- ・その実現には、1961年に発足した の存在が大きいみたいだ。それまで、公的年金の対象になっていなかった農家や商店主などの自営業者も年金に加入できるようになったからだ。
- ・ は基礎年金とも呼ばれているね。専業主婦(主夫)も加入しているし、私たちが20歳になったら、原則的に大学生であっても加入することになっているよ。
- ・そうか。私たちが年金に加入するのは、そんなに遠いことでもないのね。
- ・就職すれば、さらに別の年金に加入するよ。なぜなら、サラリーマンは、2階部分とされる にも加入するからね。給付を受けるときは、その分を上乗せして支給されるから、基礎年金だけよりも多くなるはずだ。
- ・公務員は確か、異なる年金に加入することになっていたかな。
- ・ は公務員などを対象にしたものだったようですね。でも、2015年から公務員は から へ移行したので、年金制度が一元化されたといわれていますね。
- ・年金制度は理解するのに難しいこともあるけれど、しくみのあり方をいろいろと見直して、社会保険制度を維持していこうとしているのですね。

- | | | |
|--------------------------------|--------------------------------|--------------------------------|
| <input type="text" value="I"/> | <input type="text" value="J"/> | <input type="text" value="K"/> |
| ① 国民年金 | 厚生年金 | 共済年金 |
| ② 国民年金 | 共済年金 | 厚生年金 |
| ③ 厚生年金 | 国民年金 | 共済年金 |
| ④ 厚生年金 | 共済年金 | 国民年金 |

問 6 下線部分課題^(f)について、次のレポートはある生徒がまとめたものの一部である。レポート

中の にあてはまるものとして最も適切なものを、下の①～④のうちから一つ選べ。

解答番号は 。

レポート

日本は、世界で例を見ないほど急速に高齢化が進行しています。加えて、少子化も大きな改善が見込まれていません。そのような中、国民の生活を守る社会保障制度を維持していくためには、財政の健全化が急務の課題になっています。これからも社会保障制度を維持していくために、私たちの負担を減らすことは難しいのかもしれませんが、まずは それぞれがどの程度負担するかという課題について、国民的に議論して、合意形成を図る必要があると考えています。

- ① 先進国と発展途上国
- ② 政府と NGO
- ③ 地方自治体と NPO
- ④ 現役世代と将来世代

【共通問題】

4 次の文章を読んで、問1～問5に答えよ。

外国と商品の売買をすることを貿易と呼び、他国へ商品を売る輸出と、他国から商品を買う輸入からなる。1929年のアメリカに端を発する世界恐慌を機にその動きが停滞してしまった。その反省から、第二次世界大戦後にブレトン・ウッズ体制^(a)がアメリカを中心として構築され、国際貿易は活発化していった。

さまざまな国同士で貿易が行われている中で、経済的に発展を遂げた先進国^(b)と、資源の不足や技術力に遅れをとった発展途上国との間の経済格差の問題^(c)は、なかなか自由貿易の推進だけでは解決しない問題である。むしろ貿易をすることで富める国と貧しい国との格差はますます広がっている、との指摘もある。結果としてその問題は国民生活の豊かさにもかかわってくるようになり、識字率や平均寿命、就学率などに深刻な影響が出ている。そのためにも、特定の国ばかりが利益を上げ、その他の国が困ることがないように、国際貿易ルール^(d)をしっかりと定めていくことが必要であろう。

貿易のあり方には完全なものはない。さまざまな貿易の枠組みが提案されているが、地域的な経済統合により、関税や輸入制限などをなくしお互いに経済的な利益を得ようとした組織が欧州連合(EU)^(e)である。このほかにも AFTA や APEC などの地域的な経済統合は世界各地で行われている。これからもさまざまな試みによって、より良い方策が求められるべきだろう。

- 問 1 下線部分ブレトン・ウッズ体制について述べた、次の生徒のレポート中の , , ^(a) にあてはまる語句の組合せとして適切なものを、下の①～④のうちから一つ選べ。
 解答番号は 。

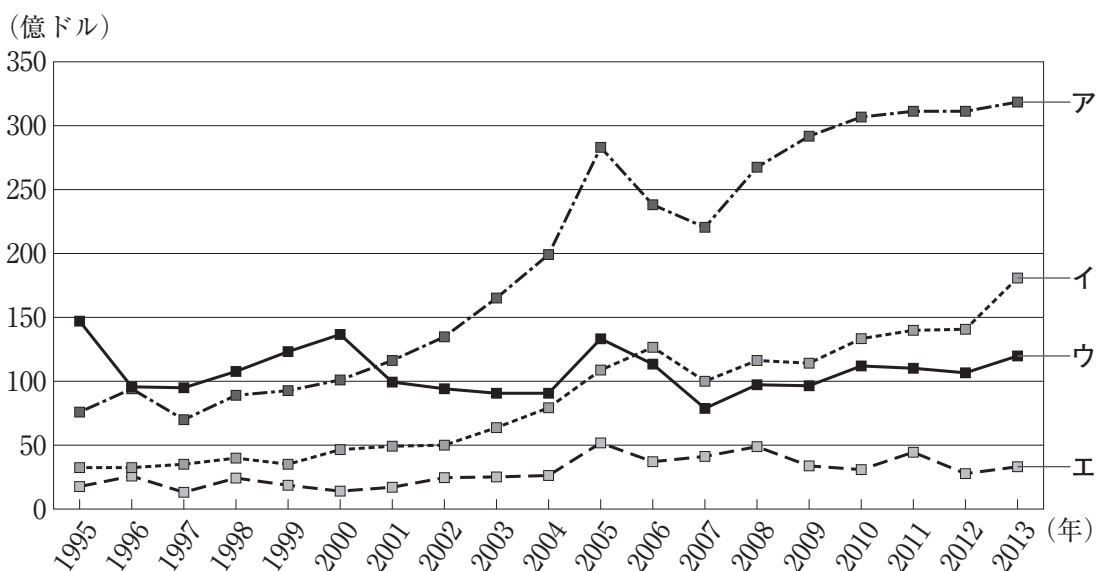
レポート

1944年の第二次世界大戦末期に、連合国はアメリカのブレトン・ウッズに集まり、戦後の経済復興について話し合った。これがブレトン・ウッズ会議である。まず、この会議で決めたのは を基軸通貨として、固定相場制をとることで自由貿易を推進していくことであった。その際、国際収支が赤字の国に対しての短期の支援などを行い国際通貨の維持と安定をはかる , また戦後復興のために長期融資を行う を設立することとなった。後者は現在では発展途上国への長期融資が主な任務になっている。

- | | <input type="text" value="A"/> | <input type="text" value="B"/> | <input type="text" value="C"/> |
|---|--------------------------------|--------------------------------|--------------------------------|
| ① | ドル | IBRD | IMF |
| ② | ドル | IMF | IBRD |
| ③ | ポンド | IBRD | IMF |
| ④ | ポンド | IMF | IBRD |

問 2 下線部分先進国に関連して、次のグラフは主要先進国のうち、アメリカ、イギリス、イタリア、日本の4か国が行っている政府開発援助(ODA)の実績を表したものである。グラフ中のア、イ、ウ、エのうち、日本にあてはまるものを、下の①～④のうちから一つ選べ。
 解答番号は 19。

グラフ 主要国における ODA 実績の推移(支出純額ベース)



(外務省ホームページにより作成)

- ① ア
- ② イ
- ③ ウ
- ④ エ

問 3 下線部分^(c)経済格差の問題に関連して、発展途上国について述べた文として適切でないものを、次の①～④のうちから一つ選べ。解答番号は 。

- ① 「南北問題」に続いて、発展途上国の中でも経済的に発展を遂げた国とそうでない国との間に「南南問題」と呼ばれる問題が生じてきた。
- ② 発展途上国の中でも、一人当たりの国民総所得や識字率、カロリー摂取量などが低く、特に発展が遅れている国のことを「後発発展途上国(LDC)」と呼ぶことがある。
- ③ 経済格差が生まれた背景に、旧植民地時代に専ら輸出向けの工業原材料や農作物の生産を余儀なくされたモノカルチャー経済の存在がある。
- ④ 発展途上国を援助するために適正価格より割増して購入することをダンピングと呼び、発展途上国の労働者の生活改善に役立っている。

問 4 下線部分^(d)国際貿易ルールに関連して、次の資料は発表のために生徒が作成したものである。資料中の , , にあてはまる語句の組合せとして適切なものを、下の①～④のうちから一つ選べ。解答番号は 。

資料

1995年に、一般的な協定であったGATTを発展させて、国際機関である が設立された。この機関はGATTにくらべて紛争処理能力が高く、その対象はモノ、サービス、そして にまで拡大した。また、自由貿易を推進する立場をとるが、例外的に緊急輸入制限である を容認している。

- | | <input type="text" value="D"/> | <input type="text" value="E"/> | <input type="text" value="F"/> |
|---|--------------------------------|--------------------------------|--------------------------------|
| ① | WTO | 知的財産権 | セーフガード |
| ② | FTA | 知的財産権 | ミニマム・アクセス |
| ③ | WTO | 排出権取引 | ミニマム・アクセス |
| ④ | FTA | 排出権取引 | セーフガード |

- 問 5 下線部分^(e)欧州連合(EU)に関連して、それについての文章中の **G** , **H** , **I** にあてはまる語句の組合せとして適切なものを、下の①～④のうちから一つ選べ。
 解答番号は **22** 。

欧州連合(EU)は、1993年11月にそれまでの統一組織である **G** を発展させる形で、**H** 条約の発効により創設されました。域内の多くの国ではモノやヒトの移動が自由です。経済統合が進み、統一通貨ユーロが導入されました。ユーロはEU加盟国の **I** 導入されています。

- | | G | H | I |
|---|----------|----------|----------|
| ① | ECSC | マーストリヒト | すべての国で |
| ② | ECSC | ローマ | 多くの国で |
| ③ | EC | ローマ | すべての国で |
| ④ | EC | マーストリヒト | 多くの国で |

【選択問題 1】

5 次の資料と次のページの生徒の会話文中の **A** , **B** にあてはまるものの組合せとして適切なものを、次のページの①～④のうちから一つ選べ。解答番号は **23** 。

資料

日本の人口と出生率の推移

高齢者 1 人を何人の現役世代で支えるか

1965 年	2015 年	2065 年
10.8 人	2.3 人	1.3 人

2065 年の日本の人口が 8,808 万人になるとした 50 年後までの将来推計人口を、国立社会保障・人口問題研究所が 2017 年 4 月 10 日に公表した。女性が生涯に産む子供の数(合計特殊出生率)の 50 年後の見通しは 1.44 になるとした。

政権が掲げる 50 年後の人口 1 億人維持へのハードルは高いままだ。「超高齢社会」を乗り切るには、女性や高齢者の働き手を増やす環境づくりといった **A** を強化する政策の推進も必要だ。

人口推計で最も重要な指標が出生率で、2.07 が人口維持の目安だ。2020 年代半ばにかけて少し下がるものの、その後は出生率 1.43～1.44 で安定するとした。これを受け、1 億 2,709 万人(2015 年)の人口が 1 億人を切る時期は、2053 年になると見込んだ。

この推計では人口は、現在より 3 割減って 1954 年の水準となり、少子高齢化の流れに歯止めをかけられない。2065 年の出生数は 55 万 7 千人で 2015 年からほぼ半減すると見込む。

今回の推計では、2065 年の人口は 8,808 万人になるとした。現在の人口より 3 割減となるが、30、40 代の出産が増えて 50 年後の出生率の見通しが 5 年前の前回推計から 0.09 上がり、1.44 になるとしたため人口の減少ペースはダウンした。厚生労働省の担当者は「保育の受け皿整備など子育て支援策の充実が支えになっていると考えられる」とし、働く女性が子供を産みやすくなったことが要因とみる。人口推計では、政権が掲げる 50 年後の人口 1 億人維持は、2065 年の出生率を 1.8 まで伸ばさないとできないとでた。達成へのハードルは高い。

推計の通りだと、社会保障制度が行き詰まりかねない。65 歳以上の高齢者人口がピークを迎えるのは、第 2 次ベビーブーム世代が高齢者になった後の 2042 年の見通し。高齢化率は 36.1 % となり、その後も上昇を続けて 50 年後は 38.4 % だ。

(朝日新聞 平成 29 年 4 月 11 日より作成)

生徒X：この資料を読むと、日本の人口の減少が止まらないようです。年金や医療、介護などの社会保障は主に15～64歳の現役世代の保険料や税負担で高齢者世代を支える仕組みです。2015年は現役2.3人で高齢者1人を支える「騎馬戦型社会」です。50年後は現役1.3人に高齢者1人を支える「肩車型社会」となるといわれています。

生徒Y：そうですね。もっと、働く女性が安心して子育てができる環境づくりが必要だと思います。保育所や幼稚園のために政府が補助を増やせば、出生率が上がり、今よりも高齢化の伸び率が改善できるかもしれません。

生徒X：もし、このままの状態が続くと、出生率が下がって高齢者の割合が増加するといわれているので、高齢者自身の自助努力が求められると思います。現役1.3人に高齢者1人の「肩車型社会」では、働いている現役世代も高齢者世代を養うのは難しい。だから、政府の役割ではなく個人の自助努力が必要になると思います。65歳以上でも元気な高齢者は、もっと働く必要が出てくるでしょう。

生徒Y：いや、個人より政府の役割の方が必要だと思います。まず、女性が安心して子供を産み育てることができる社会をつくることは政府の責任だと思います。そうすれば、出生率も上がると思います。だから、政府主導の政策が必要だと思います。

先生：対照的な意見が出ましたね。社会保障の問題は、女性の働き方の問題もかかわって難しいですね。

B：先生、最後に意見を言わせてください。超高齢化の問題は、未来の問題ではなく、現在の問題だと思います。その解決のためにも、やはり、政府がもっと主導権を発揮していくべきだと思います。

A

- ① 社会保障を受ける側
- ② 社会保障を支える側
- ③ 社会保障を支える側
- ④ 社会保障を受ける側

B

- 生徒X
- 生徒Y
- 生徒X
- 生徒Y

【選択問題 1】

- 6 次の資料と次のページの生徒の会話文中の **A** , **B** にあてはまるものの組合せとして適切なものを、次のページの①～④のうちから一つ選べ。解答番号は **23** 。

資料

(外国人観光客の宿泊人数のグラフ)

訪日消費の好調さは訪れる外国人の顔ぶれが多彩になっているだけではない。リピーターが日本の風情を深く楽しもうと地方にまで足を運び、帰国後に日本の商品を通販で購入している。いちど接点を持った外国人は息長く日本とかかわる。

観光庁によると、2016年の訪日客の延べ宿泊人数は6,938万人。うち三大都市圏にある8都府県(東京、神奈川、千葉、埼玉、愛

知、大阪、京都、兵庫)は前年比138万人増の4,185万人。他の地域は客数(2,752万人)でこそ劣るものの、増加幅は238万人増と三大都市圏を初めて上回った。これまでは延べ宿泊人数は水準も増加幅も三大都市圏がリードしてきた。だが、リピーターは地方の良さに目を向けつつある。観光庁によると、訪日回数が2回以上という人の割合は2017年4～6月時点で62%。2年前より4ポイント上昇した。

地方経済を潤す主役の変化。北海道銀行地域総合研究所(道銀総研)は、北海道の国内総生産(GDP)の構成比が変わりそうだと予測する。GDPベースの道内の観光事業は2015年度で1兆1,264億円。訪日客の消費拡大により2020年度は1兆5,572億円とはじく。北海道電力総合研究所が試算した2020年度の公共投資の最終需要は2015年度比0.4%増の1兆4,718億円。観光が逆転する。道銀総研は「観光は **A** へカジを切る数少ない手段。地域の自立意識が芽吹くきっかけになる」と期待する。

訪日客消費が地方経済に与える影響は一段と強まってきている。都道府県ごとに名目GDPに対する訪日客消費の比率を試算したところ、43都道府県で2012年から2016年にかけて比率が上昇した。

(北海道経済に関するグラフ)

生徒X：資料によると2016年には、訪日客のうち地方での宿泊客の増加幅が大都市圏を上回っているのですね。訪日客も地方の良さがわかってきたのではないのでしょうか。

生徒Y：私は、この資料を読んで驚いたのは、2015年度の北海道では **B** ということです。地方が、いかに政府を頼っているかということに気づきました。

生徒X：確かにそうかもしれません。しかし、必ずしも2015年度に **B** からといって、一概に地方が政府を頼っているということにはならないと思います。地方によって、さまざまな経済構造があると思います。

生徒Y：でも、実際に地方経済を潤していたのは、公共投資の割合がかなり大きいということですよ。

生徒X：この資料だけでは、そのことも断言できないと思います。ただ、訪日客の観光消費が地方経済の活性化につながれば、それはよいことだと思います。

A

B

- | | |
|-------------|------------------|
| ① 民需主導の経済構造 | 観光消費よりも公共投資の額が多い |
| ② 官需主導の経済構造 | 公共投資よりも観光消費の額が多い |
| ③ 官需主導の経済構造 | 観光消費よりも公共投資の額が多い |
| ④ 民需主導の経済構造 | 公共投資よりも観光消費の額が多い |

【選択問題 1】

- 7 次の資料と次のページの生徒の会話文中の **A** , **B** にあてはまるものの組合せとして適切なものを、次のページの①～④のうちから一つ選べ。解答番号は **23** 。

資料

(「男性正社員」、「女性正社員」、「男性有期雇用」、「女性有期雇用」の月額賃金に関するグラフ)

愛知県経営者協会が開いた「同一労働同一賃金」のセミナーには、100人近い県内企業の人事労務担当者が詰めかけた。「国がいう“同一”とはどういう意味か」「非正規に支払っていない手当はどこまでが不合理な差別になるのか」。予定を越す人が集まり、主催者は急きょ広い部屋に会場を変更した。

非正規の待遇を正規に近づけ、処遇改善を目指す国の「同一労働同一賃金」によって、経営者の中には **A** につながるの考え方を持つ者もいる。

人手不足に直面する企業には、国に先んじる例も出始めた。非正規の労働をきちんと評価し、処遇にも反映する枠組みをつくり、幅広い人材を生かす動きだ。X社の副店長は20年近くパートとして働いてきたが、今年2月にX社の「地域限定社員」に登用された。正規と非正規を橋渡しする位置づけだ。新設の「地域限定社員」は勤務店が自宅近くに限定される。能力に応じた賃金がもらえ、努力次第で店長への道も開かれる。

Y社には高いスキルを持つ社員を認める社内制度があり、正規・非正規関係なく「技能手当」が受け取れる。Y社は昨年、パートの雇用年齢の上限を67歳から70歳に上げ、戦力として長く働いてもらう仕組みを整備した。

総菜の製造販売を手掛けるZ社は人事制度を刷新し、パート約1,000人の等級を初等～7等まで8段階に整理し、評価に基づいて昇格と賃金上昇がある仕組みにした。指導的立場にある人は「パートリーダー」に任用し、社員を補佐する職責を任せる。職務手当を支給するなど待遇も手厚くした。定期的に教育研修を実施し、優秀な人材は正社員に登用する。このようにパートも正社員と同じ能力に向上させ、これに見合う処遇も必要だ。

しかし、「すべての企業で処遇改善ができるとは限らない」(中部の経済団体幹部)という声が多いのも事実だが、正規・非正規に関わりなく、**B** 枠組みは必要だ。「同一労働同一賃金」の政策を起点とした人事労務制度の改革の波は、すぐそこまで来ている。

奈津子：私は、「同一労働同一賃金」という考え方は当然だと思います。ですので、資料にあるようなパートなどの非正規社員の処遇改善は当然だと思います。資料を見ると、男性正社員と女性正社員、男性有期雇用と女性有期雇用の賃金にも格差があり、その点は、改善すべきだと思います。

春 樹：非正規社員の処遇を改善することによって、会社の財務状況が悪くなると考える経営者が多いと思います。すべての企業が資料にある会社のように、非正規社員の処遇改善が本当にできるのでしょうか。

奈津子：いいえ、非正規社員の仕事だと、今までは、正社員と「同一労働」をしても正当に評価されないことがあったのではないかと思います。私の母は非正規社員なので、「正社員と同じ仕事をして、正当に評価されないことがあるのよ」と言っていました。資料にあるように正規・非正規に関わりなく **B** 仕組みは必要だと思います。

春 樹：確かに、「同一労働同一賃金」は必要でしょう。しかし、非正規社員の処遇を改善することで、正社員モチベーションが下がってしまうのではないかと心配です。

奈津子：政府が「同一労働同一賃金」ガイドラインを提示しているし、非正規社員の処遇を見直すべきです。

A

- ① 人件費の減少
- ② 人件費の増加
- ③ 人件費の増加
- ④ 人件費の減少

B

- 経営者が解雇しやすくする
- 能力や成果を適切に評価する
- 経営者が解雇しやすくする
- 能力や成果を適切に評価する

【選択問題 1】

8 次の会話文を読んで、会話文中の **A** , **B** , **C** にあてはまるものの組合せとして適切なものを、次のページの①～④のうちから一つ選べ。解答番号は **23** 。

ゆり：昨夜放送された「大企業による下請いじめ」というテレビを見ましたか。

信二：大企業が中小企業に納入している製品の価格を無理矢理下げさせているという番組だね。

先生：どれどれ面白そうな話をしているね。私もまぜてもらえるかな。

ゆり：先生、先日授業で教わりましたが、下請法で禁止されているものがありましたよね。

先生：そうだよ。右の資料 1 を示したよね。 **資料 1**

信二：昨夜のテレビで、ある豆腐製造業者がパッケージが違う「98 円」と「30～45 円」の豆腐を示して「98 円の豆腐は、私がスーパーに卸している自社商品です。こちらの 30～45 円のは、スーパーのブランド名で製造したプライベートブランド(PB)商品です。中身はいっしょなんですけれど。」とっていました。



先生：私も見たが、「PBの豆腐の卸値は24円で自社商品の半額以下、しかも原価割れを起こしている。スーパーが売値を先に決め、自分たちの利益を確保したうえで、一方的に値下げを要求する結果です。それでも、生産する豆腐の8割をこのスーパーに卸しているため、要求に応じるしかないのです。」と右の資料 2 を使いながら言っていたね。

資料 2



ね。これは下請法で禁止されている「買ったとき」にあたる可能性が大だね。

ゆり：さらに、「豆腐製造業者の社員がスーパーに呼ばれ、書類作成や商品データの打ち込みなどで、長時間にわたって拘束されていた。」と番組で言っていました。これは下請法上の **A** にあたると思うのですが。

信二：番組でも、これらは下請法違反にあたるを見て、下請Gメンが実態調査を進めることにしていると言っていたね。

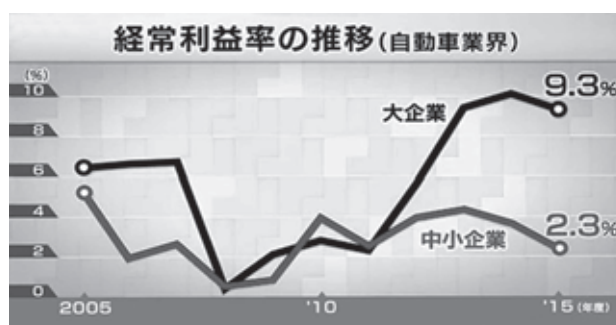
ゆり：「下請Gメン」ってなんですか。

先生：2016年に、公正取引委員会が下請法違反で指導した件数は、6,302件と過去最悪だったんだ。事態を重く見た中小企業庁は、2017年4月、専門の調査チーム「下請Gメン」を発足させて、約2,000の下請会社を対象に調査を開始したんだ。

ゆり：そうなんですか。

先生：いま、下請Gメンが注目しているのが、自動車メーカーとその下請なんだ。右の資料3を見てごらん。アベノミクスによる円安や株価上昇で、2015年度の大手自動車メーカーの経常利益率はリーマンショック前の水準を大きく上回っているが、中小企業は「2.3%」

資料3



と伸び悩んでいるんだ。それなのに番組で取り上げられていた2次下請の会社は、今も毎年1%の納入製品価格の値下げを求められているようだ。

ゆり：なんでそんなことになるのですか。昨日のテレビで取材に応じた社長さんは、「平気で値下げ1%って、皆さん言ってますが、やれないと思いますよ。やれる会社はなんか変ですよ。もう絞るところがないはずですよ。」とっていたのに。

信二：そうですよ。これ以上値下げできる企業なんてあるのですかね。先生、解決策はないんですか。

先生：解決策の一つは **B** だろうね。授業で説明したように、中小企業への「政府による保護育成」という意見や、「規制緩和をさらに進めてベンチャーの育成を」という意見もある。ただし、この番組で取り上げられていた中小企業のように「下請」の役割を押しつけられた企業は、まずそれが必要だと考えているんだ。

信二：なるほどそうですね。

ゆり：先生、それはわかりますが、**C** の意識の変化も必要だと思いました。はじめに紹介した豆腐製造業者の社長さんが、「水の味しかない豆腐もあるわけですよ。私どもがしていることは、最終的にはお客様が不利になっていると思いますし、日常生活が貧しくなってしまったということじゃないか。」とっていました。

先生：なるほどそうですね。次回の授業は、その視点から話をしていきましょう。

(画像：NHK「クローズアップ現代+ (プラス)」より)

- | | A | B | C |
|---------|---|-----|-----|
| ① 役務提供 | | 脱下請 | 消費者 |
| ② 役務提供 | | 系列化 | 生産者 |
| ③ 支払い遅延 | | 系列化 | 消費者 |
| ④ 支払い遅延 | | 脱下請 | 生産者 |

【選択問題 1】

9 次の資料は、ある名誉教授の講演である。文中の **A** , **B** , **C** にあてはまるものの組合せとして適切なものを、次のページの①～④のうちから一つ選べ。

解答番号は **23** 。

資料

いま、なぜ「小農」なのか

私は、60歳の年に、農村再生の課題を人生最後の宿題として大学を早期退職し鹿児島
の里山に移り住みました。農村に移り住んで14年の歳月が経ちましたが、農村に住んでの私
の印象は次の通りです。

- ・赤ちゃんの泣き声がしないし家畜の声もしない。また、庭先に鶏がいない。
- ・魚釣りやトンボを追う少年の姿を見ないし、都会に出た子どもたちは帰ってこない。
- ・お年寄りや一人暮らしが多いし、廃屋が増えた。

このままでは中山間地の農村社会が消滅します。そのため、日本の食料自給率は更に低下
し、食料輸入大国となります。

私は40歳代後半の頃から、水田で稲と合鴨を同時に育てる合鴨農法の研究に没頭しまし
た。合鴨たちは田んぼの中の雑草や害虫を食べ、しかも排せつするふんは稲の肥料となり、
無農薬による米づくりが実現したのです。この普及のため、全国合鴨フォーラムも組織しま
した。フォーラムではいつも笑い声が絶えず、明るく農を楽しむ全国の合鴨農家と学習交流
を深めていく中で、実は農業には二つの側面があることに私は気づくようになりました。

それは、産業としての「農業」＝「産業農業」(これは「自由化していく農業」と言い換えるこ
とが出来ます)と、暮らしとしての「農」＝「生活農業」(これは「私たちの生活と結びついた農
業」と言い換えることが出来ます)があるということです。つまり「農業」と「農」は区別して考
えた方がよいのではないのでしょうか。戦後の農業政策は産業としての農業、すなわち産業農
業の発展のみを一面的に捉えて、もっぱら農業収入をメインとした農家の育成を掲げて推進
してきました。

しかしながら、現在では農家の多くは **A** なのです。農家の多くは家族を養うため、
小さな農地を守って他産業で働くかたちで生き延びているのです。戦後の農政への抵抗と知
恵^{あか}の証しが小さな農家と **A** の存在です。これを小農といいます。そしてこのような小
農が農村社会を形づくり守ってきているのです。

この小農の視点こそが、国土(資源)を有効に循環的に活用し、自給自足、地域流通により
食料自給率の向上を図り、食の安全性と安定性を保障し、農業の低コスト化、すなわち省資
源となり、田園の自然環境を守り、小さな農地の多い中山間地農村を守ることとなります。

そして農村の人口減少をくい止め、都市との調和を実質的に推進していくことになるのではないのでしょうか。

そしていま、国内でもささやかな追い風が吹き始めています。

- ・国内農業を見直す気運が高まり、有機農業推進法が制定されて市民権を得ました。
- ・就農、農村での暮らし、体験、市民農園、定年帰農者が増えています。
- ・地産地消、産直、小さな直売所が市民権を持ち始め、新たな流通が始まっています。

私の地域でも農林産物直売所がつくられ、13年も営業を続けています。しかもこの直売所のメンバーの多くはお年寄りで小さな農家を中心となっており、まさに小農を守る直売所です。

さて、高度経済成長をとげた現代の日本において、小農とは何か、改めて新しい位置づけと定義が必要と考えています。それは小農をこれまでの既存の小農のみに限定せず、農村での暮らし、田舎暮らし、菜園家族、定年帰農、市民・体験農園などで取り組む **B** も含めた階層も新しい小農と定義づけたいと思います。そしてこのような新しい人たちも加わって村が再生していくものと思います。

戦後、日本は農林水産業、製造業、サービス業などに分化して発展し、大部分の人は製造業やサービス業に従事するようになりました。しかし、これからの社会は、小農として何らかのかたちで、命の源であり、人の生きる礎である **C** に関わる時代を迎えるのではないかと思います。

これが私の考える次の新しい社会であり、また中山間地農村の再生の道筋だと考えています。

(NHK 「視点・論点」により作成)

	A	B	C
①	専業農家	都市生活者	第3次産業
②	専業農家	外国移住者	第1次産業
③	兼業農家	都市生活者	第1次産業
④	兼業農家	外国移住者	第3次産業

【選択問題 2】

- 10 次の生徒のレポートを読んで、レポート中の **A** , **B** , **C** にあてはまるものの組合せとして適切なものを、次のページの①～④のうちから一つ選べ。解答番号は **24**。

レポート

世界から見た日本のエネルギー事情

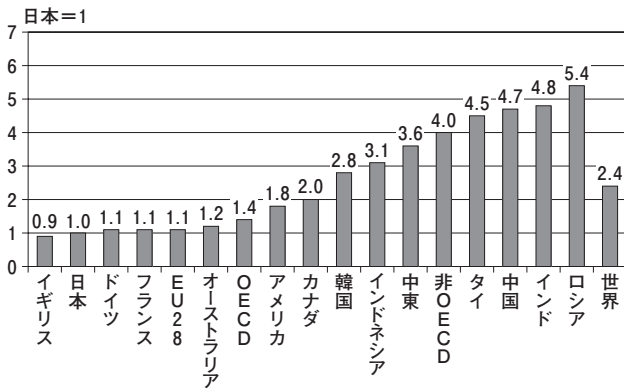
日本の便利な暮らしを支えているのは、電気やガス、ガソリンといったエネルギーです。エネルギーなくして成立し得ない現代の生活スタイルですが、資料1より、日本の実質GDP当たりのエネルギー消費は世界平均を大きく下回っていることが分かります。日本を1としたとき、GDP世界第1位のアメリカと比べ約2分の1、日本と同じ非資源国の韓国と比べ **A** 程度の消費に抑えられているのです。これは、1970年代、2度の石油危機を教訓として、官民をあげて省エネルギーに注力してきた結果といえるでしょう。

しかし、エネルギー利用効率が非常に良い一方で、日本のエネルギー需要量そのものは、石油危機後拡大しています。資料2から、最終エネルギー消費量は2004年度まで増え続けましたが、その後は減少傾向となっています。

しかし、資料2について注目したい点があります。それは、1985年度以降、GDPの増減とエネルギーの消費の増減は相関関係がありますが、2011年度以降、GDPが増加しているのに対しエネルギー消費は減少している点です。この現象の背景には **B** から読み取れるように、「3.11東日本大震災」以降、私たちの身の回りを含めて「省エネ」が徹底してきたことがあげられます。具体的には、照明はLEDが主流になりましたし、冷蔵庫などの家電製品も「省エネマーク」に代表されるように「省エネ」を消費者に訴えかけてきたことが大きな原因となっています。このことは、私たちの周りにある「生活水準の向上」と「経済発展」の両立を図る **C** の身近な例として考えることができます。

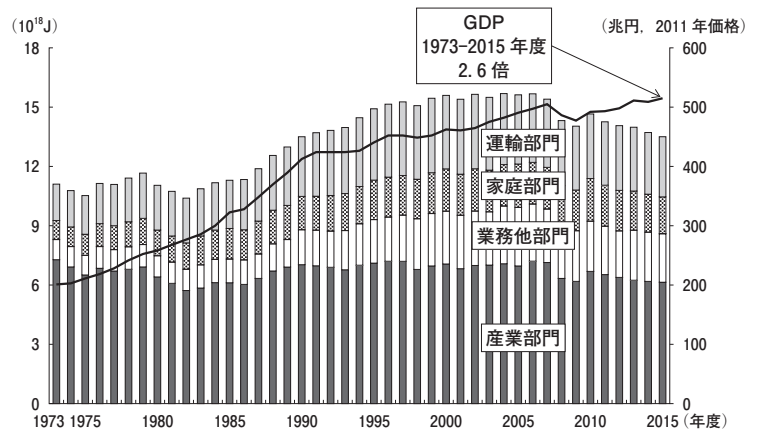
資料1 実質 GDP 当たりのエネルギー消費の

主要国比較(2014年)



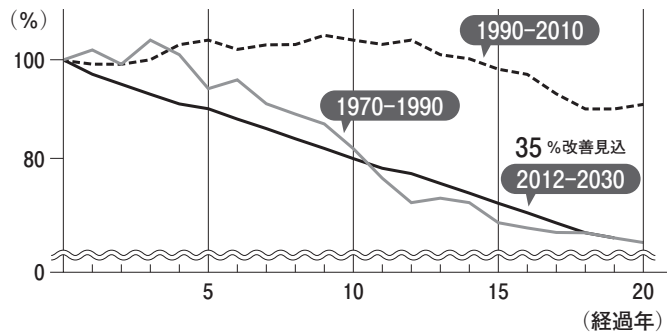
(『エネルギー白書』により作成)

資料2 最終エネルギー消費と実質 GDP の推移



(『エネルギー白書』により作成)

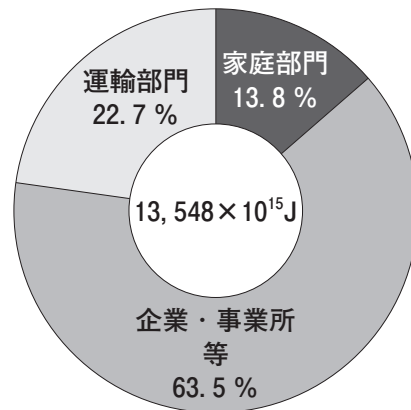
資料3 エネルギー消費効率の改善



(資源エネルギー庁「省エネ政策の動向」により作成)

資料4 最終エネルギー消費の

構成比(2015年度)



(注) Jは「ジュール」である。

(『エネルギー白書』により作成)

A

B

C

- | | | |
|---------|-----|---------|
| ① 約3分の1 | 資料4 | 都市開発の申請 |
| ② 約3分の1 | 資料3 | 持続可能な開発 |
| ③ 約2分の1 | 資料3 | 都市開発の申請 |
| ④ 約2分の1 | 資料4 | 持続可能な開発 |

【選択問題 2】

- 11 次のレポート中にある **A** , **B** , **C** にあてはまるものの組合せとして適切なものを、次のページの①～④のうちから一つ選べ。解答番号は **24** 。

レポート 納豆のネバネバが世界を救う

I 調査の動機


以前から発展途上国の経済問題や格差について興味を持っていた。そこで、そのような問題に関して日本が何をしているのか、何が出来るのかといった可能性について探してみたいと思った。

II BOP ビジネスと中小企業

BOP(Base Of the economic Pyramid)とは経済ピラミッドの土台のことであり、BOP ビジネスはその名が示すように **A** を対象とした持続可能な、現地における様々な社会的課題の解決に資することが期待されるものであり、欧米では積極的な取組が行われている。

III 日本の中小企業の取組

この分野で実績を残しているP社に興味を持った。「PG α 21Ca」という白い粉を使った水質浄化剤を製造、販売している。「PG α 21Ca」は、生分解性を持つアミノ酸の高分子、納豆菌などのネバネバ成分「ポリグルタミン酸架橋物」とカルシウム化合物をはじめとする無機成分を原料とした安全性の高い水質浄化剤である。有機系成分と無機系成分の両方の特性を兼ね備えているため、多様な排水、汚水に対応することができる。水中のゴミや菌類、有害物質を瞬時に凝縮、沈殿させる。この上澄みを煮沸させると飲み水となる。P社の素晴らしいところは、この浄化剤を安価で提供していること、さらにバングラデシュでは現地の女性に販売させ、その差額は彼女たちの収入となっている点にある。日本の中小企業のビジネスが現地を救う、なんて素晴らしいことなのだと感じた。

浄化剤「PG α 21Ca」と凝集の様子

(外務省ホームページにより作成)

IV 日本の政府開発援助(ODA)との関わり

このP社の取組は日本のODAの案件となり、経済産業省もBOPビジネス例として取り上げている。個人的にはODAとは発展途上国への一方的な援助という認識を持っていたの

で、驚きを隠せなかった。確かに単純な物資や金銭の援助は途上国の自立や、自助努力による発展のかえって足かせになる可能性もある。そこで、このような案件は、先進国の責任としての積極的な援助による国際社会の格差の是正に繋がるだけでなく、現在の日本のODAのねらいである、中小企業の活用や、市場の獲得に繋がり、何より **B** だと確信した。

V まとめ

今回の調査で、活力のある中小企業を取組とそれを補助し、日本の強みとしていこうとする政府を取組がわかり、日本という国の底力を感じることができた。そして何より、発展途上国の自立に繋がる援助である点に注目したい。これからは **C**。

ア 富裕層

イ 低所得者層

ウ 日本や先進国の国益に資するもの

エ 日本の国益と発展途上国の持続可能な発展に資するもの

オ ただ援助したり、受けたりするのではなく、お互いの利益にかなったこのような取組が主流となるはずである

カ 発展途上国は金銭的援助を期待し、先進国は目の前にある課題解決を最優先する取組が主流となるはずである

	A	B	C
①	ア	ウ	オ
②	ア	エ	カ
③	イ	ウ	カ
④	イ	エ	オ

【選択問題 2】

- 12 次の資料を読み、会話文中の **A** , **B** , **C** にあてはまる語句の組合せとして適切なものを、次のページの①～④のうちから一つ選べ。解答番号は **24** 。

資料

(民族問題に関する文章)

先 生：民族問題について考えてもらうための資料だよ。感想はどうか。

生徒X：このような考え方を突き詰めていくと **A** につながることであり、不安を感じました。

先 生：いい指摘だね。民族が自立することは最も幸せなのかもしれないが、現代のような国際化された社会においては普遍的ではなくなっているのかもしれない。言語や民族を研究したヘルダーの主張は、当時高まりつつあった民族主義を後押しするものとなったんだ。しかし、同時に、植民地主義や帝国主義の危険性を指摘しているという重要な点は忘れてはいけないだろうね。

生徒Y：以前学んだことのあるベンサムが指摘する「最大多数の最大幸福」という言葉を私なりに解釈すると、一つの多数を占める民族が自ら決定権を持つことが最も自然と思えます。

先 生：こんな考え方もあるよ。アメリカの思想家ロールズは、正義・公正・不平等といったことを研究していたんだ。不平等が大きな問題であり、それを是正するために正義を貫いた社会制度を導入することが必要で、再分配の制度の導入で不平等の是正が行える。社

会が公正につくられていると人々が信じていると満足し、それこそが多文化社会の基盤となり、自由主義がその実現に適していると説いているね。

生徒Y：自由主義は自己の利益を最大限にすることが重要となるので、再分配の制度はかえって不満をもたらすはずで。やはり、自己の利益つまり **B**こそ理想社会の近道でしょう。

生徒X：そうでしょうか。現実の社会は多民族で構成されているはずで。それならばロールズの指摘するように正義が貫かれ、全ての人が公正に扱われ、民族間の不平等がなくなることにより実現する **C**を求めるべきです。

先生：深い議論ができたね。絶対的な答えがないからこそ民族問題は難しい。狭い判断にとらわれず、これからも議論を大いに深めていこう。

A	B	C
① 自民族中心主義	民族自決	共存する社会
② 多文化主義	民族自決	分離を容認する社会
③ 自民族中心主義	多民族共存	分離を容認する社会
④ 多文化主義	多民族共存	共存する社会

【選択問題 2】

13 次の会話文中の **A** , **B** , **C** にあてはまるものの組合せとして適切なものを、次のページの①～④のうちから一つ選べ。解答番号は **24** 。

達 夫：今回の課題、日本の政府開発援助(ODA)について、進んでいますか。

久美子：はい。アジアを重視していること、円借款を中心に考えていることなどの特徴がわかり、面白かったです。

達 夫：私が注目したのは、1992年に閣議決定された大綱です。**A** のような内容で、湾岸戦争直後ということもあり、どちらかという人類益や、平和、社会的正義といった概念が強調されているように感じました。これを守ることが大切だと強く感じました。

久美子：そのあと、改訂されていきましたよね。

達 夫：日本の財政赤字や、ODAのありかたが問題視された世論の影響も受け、2003年に新しい大綱が確認されましたね。その目的の中に、日本の安全や繁栄といった文言が出てきます。また、個々の人間に着目した **B** の視点で考えることが重要で、人づくりを通じた地域社会の能力強化に向けたODAを実施する点などが盛り込まれました。

久美子：私は、2015年の大綱を調べました。内容の一部は **C** になります。より国益や効率性が重視され、各方面の協力が重視されているように感じました。現在の日本の置かれている状況を考えると、こちらの方が良い流れのように思えます。

達 夫：人類益重視も国益重視も重要な考え方です。どちらが正解とは一概に判断できませんね。

久美子：そうですね。ますます日本の経済力に見合った援助は必要となりますよね。皆が幸せになることのできる援助の道を今後も探り続ける努力が必要なのだと思います。

資料 1

日本の ODA の歴史、実績、経験、教訓などを踏まえた上で、国際的な援助潮流とともに、日本の独自性と積極性をもって定められた援助の基本理念として、(1)人道的考慮、(2)相互依存関係の認識に加え、(3)環境の保全、(4)開発途上国の離陸に向けての自助努力の支援、の 4 点を掲げました。また、重点地域としてアジアが、重点項目としては環境問題をはじめとする全地球的課題への対応などが取り上げられています。

また、上記 4 指針を受けた大綱の原則については、原則に照らして途上国に好ましい動きがあれば、援助を通じてそれを積極的に推進し、逆に好ましくない場合は相手国に事態の改善を求め、状況に応じて援助を見直すなどの対策を講じてきました。

たとえば前者では、1991 年に和平を達成し、内戦で荒廃した国土の復旧・復興、民主化をめざしていたカンボジアに対し、その取り組みを積極的に支援した例が、後者では、1998 年に核実験を実施したインド、パキスタンに対し、新規円借款・無償資金協力の停止などの経済措置を実施した例があげられます。

資料 2

近年、テロや大規模自然災害、感染症が深刻な脅威となる中、地球環境、経済状況など、国際環境も開発課題も大きく変化しています。

日本の開発協力は、企業、NGO、地方自治、大学、研究機関など、オールジャパンでの連携を一層強化し、より戦略的、効果的な開発協力を実施します。

そして、平和国家として国際社会の平和、安定、繁栄により一層積極的に貢献していきます。

開発協力により国際社会の平和と安定及び日本としてより一層積極的に貢献することは“未来への投資”として日本の利益にもつながるものです。

一人あたりの国民所得だけで判断するのではなく、国際的に定められた ODA 対象国から外れた国であっても、脆弱な経済・自然環境にある国々に対しては、しっかりと実情を見極め、日本との関係も考慮しながら必要な協力を行っていきます。

- | | A | B | C |
|---|------|---------|------|
| ① | 資料 1 | 人間の盾 | 資料 2 |
| ② | 資料 2 | 人間の安全保障 | 資料 1 |
| ③ | 資料 1 | 人間の安全保障 | 資料 2 |
| ④ | 資料 2 | 人間の盾 | 資料 1 |

政治・経済

注意事項

- 1 【共通問題】 から は、必ず解答すること。
解答番号は から 。
- 2 【選択問題1】 から までの5題から1題を選んで、解答する問題番号を記入及びマークした上で、解答欄に解答すること。
解答番号は 。
- 2題以上解答した場合は採点できないので注意すること。
- 3 【選択問題2】 から までの4題から1題を選んで、解答する問題番号を記入及びマークした上で、解答欄に解答すること。
解答番号は 。
- 2題以上解答した場合は採点できないので注意すること。