

平成30年度 現代社会 (50分)

注意事項

- 1 試験開始の合図があるまで、この問題冊子の中を見てはいけない。
- 2 この問題冊子は48ページである。
試験中に問題冊子の印刷不鮮明、ページの落丁・乱丁及び汚れ等に気付いた場合は、手を挙げて監督者に知らせること。
- 3 試験開始の合図前に、監督者の指示に従って、解答用紙の該当欄に以下の内容をそれぞれ正しく記入し、マークすること。
 - ・①氏名欄
氏名を記入すること。
 - ・②受験番号、③生年月日、④受験地欄
受験番号、生年月日を記入し、さらにマーク欄に受験番号(数字)、生年月日(年号・数字)、受験地をマークすること。
- 4 受験番号、生年月日、受験地が正しくマークされていない場合は、採点できないことがある。
- 5 解答は、解答用紙の解答欄にマークすること。例えば、

10

と表示のある解答番号に対して②と解答する場合は、次の(例)のように解答番号10の解答欄の②にマークすること。

(例)

解答 番号	解 答 欄			
10	①	②	③	④

- 6 問題冊子の余白等は適宜利用してよいが、どのページも切り離してはいけない。
- 7 試験終了後、問題冊子は持ち帰ってよい。

現代社会

(解答番号 ~)

1 次の会話文を読んで、問1～問3に答えよ。

信幸：夏休みの環境に関するレポート課題だけど、何かいいテーマが見つかった？

夏実：まだ決まってないけど、環境について考える体験をしたよ。

信幸：どんなことがあったの？

夏実：町内のボランティアで廃品回収に参加した時のことなんだけど、すごくたくさんアルミ缶や段ボール、紙パックなどが集まったの。2、3時間みんなで町内を回ったら、大型のトラックの荷台に積みきれないくらいの量になって、びっくりしたよ。

信幸：大型トラックの荷台がいっぱい？ それはすごいね。

夏実：ただ、回収のために町内を回っているときに、「スチール缶は回収してくれないのか」って聞かれたの。それで、町の役員の人に聞いてみたら、「スチール缶はリサイクル業者が引き取ってくれないから」って言うんだよね。スチール缶を集めても採算が合わないらしいよ。だから空き缶などの包装容器のリサイクルについて、詳しく調べてみようと思っているんだ。

信幸：なるほど、それは調べてみると面白そうだね。僕も環境に関する、最近の出来事を思い出したよ。

夏実：どんなこと？

信幸：先月、うちの父が、新しい車を買ったんだ。

夏実：新しい車、いいね。

信幸：車は製造するのにたくさんの資源やエネルギーを使うし、走行には多くの燃料を消費するから、環境のことを考えてプラグインハイブリッド車を選んだって、父は話していたよ。

夏実：プラグインハイブリッド車って自宅でも充電できるんだよね。

信幸：そうなんだ。最近の車は、リサイクルされた部品を多く使ったり、燃料効率を向上させるために新しい技術開発を行ったりするなど、色々な面から環境に配慮しているようだから、車に関連するリサイクルについて調べてレポートにまとめてみようかな。

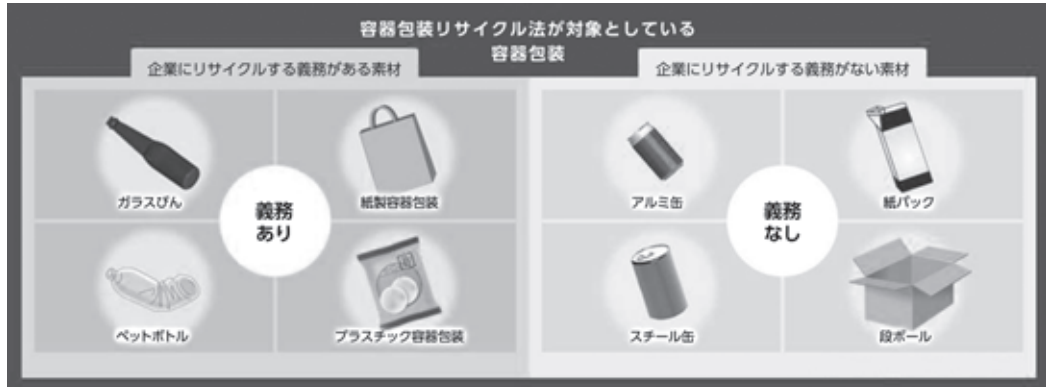
夏実：そう言えば1学期の「現代社会」の授業では、循環型社会の形成について勉強したし、リサイクルについてもっと詳しく調べるのは面白そうだね。

信幸：そうだね。じゃあ、お互いに調べた結果を報告し合うことにしよう。

問 1 下線部分^(a)リサイクルに関連して、夏実さんの用意した資料と信幸さんの用意した資料について述べた、4ページの会話文中の発言【ア】～【オ】のうち、正しい発言の組合せとして適切なものを、4ページの①～④のうちから一つ選べ。解答番号は 1。

夏実さんの用意した資料

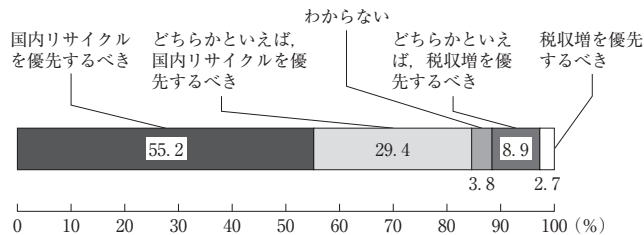
資料Ⅰ 容器包装リサイクル法で企業にリサイクルが義務づけられている素材と、義務づけられていない素材



企業にリサイクルが義務づけられている4素材は、容器包装リサイクル法制定時、資源価値が低く、市町村が分別収集してもお金を支払わないとリサイクルできない状態でした。一方、企業にリサイクルが義務づけられていない4素材は、資源価値が高くお金を払わなくてもリサイクルされる状態であったため、リサイクル義務の対象から除外されました。

(公益財団法人 日本容器包装リサイクル協会ホームページにより作成)

資料Ⅱ ペットボトルのリサイクルに関する世論調査の結果



市民から集められたペットボトルは、国内で再びペットボトルにリサイクルされる技術が開発されています。一方、市町村によってはペットボトルを独自に海外に売却し税収にあてている事例があります。その場合、国内リサイクルよりも高い金額で引き取られる反面、海外ではリサイクルされずに処理される事例が見受けられます。

(内閣府「平成26年循環型社会形成に関する世論調査」により作成)

信幸さんの用意した資料

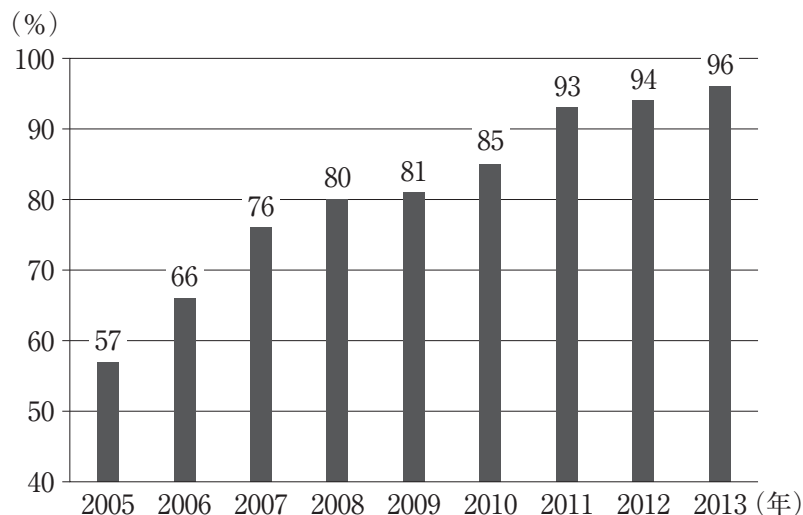
資料Ⅲ 使用済自動車の再資源化等に関する法律(自動車リサイクル法) (一部抜粋)

第三条 自動車製造業者等は、自動車の設計及びその部品又は原材料の種類を工夫することにより、自動車が長期間使用されることを促進するとともに、使用済自動車の再資源化等を容易にし、及び使用済自動車の再資源化等に要する費用を低減するよう努めなければならない。

第五条 自動車の所有者は、自動車をなるべく長期間使用することにより、自動車が使用済自動車となることを抑制するよう努めるとともに、自動車の購入に当たってその再資源化等の実施に配慮して製造された自動車を選択すること、自動車の修理に当たって使用済自動車の再資源化により得られた物又はこれを使用した物を使用すること等により、使用済自動車の再資源化等を促進するよう努めなければならない。

第六条 3 国は、教育活動、広報活動等を通じて、使用済自動車の再資源化等に関する国民の理解を深めるとともに、その実施に関する国民の協力を求めるよう努めなければならない。

資料Ⅳ シュレッダーダストのリサイクル率の推移



(注) シュレッダーダストとは廃棄された自動車や家電などの工業製品を工業用シュレッダーで粉砕し、鉄などの再利用資源を回収した後に残る、ガラス・ゴム・樹脂などの破片のこと。

(経済産業省「自動車リサイクル制度の執行状況と高度化・効率化に向けた取組」により作成)

会話文

夏実：私はレポートを作成するにあたり、容器包装リサイクル法に関連する資料を2つ準備したよ。

信幸：資料Ⅰを見ると、同じ容器包装でも、リサイクルが義務づけられているものと、義務づけられていないものがあるんだね。

夏実：そう。リサイクルが義務づけられているものは、容器包装リサイクル法が制定された当時、資源価値が低く、分別収集してもお金を支払わなければリサイクルができないものだったんだ。

信幸：【ア】アルミ缶やスチール缶、ペットボトル、ガラスびんは資源としての価値が高く、お金を払わなくてもリサイクルができたので、企業にリサイクルが義務づけられていないんだね。

夏実：でも、最近ではリサイクルが義務づけられているはずのペットボトルのリサイクルが、うまくいっていない事例があるみたい。資料Ⅱを見てくれる。

信幸：資料Ⅱを見ると、【イ】市町村によっては、ペットボトルを独自に海外に売却し、税金にあてているケースもあるみたいだね。

夏実：資料Ⅱの調査では、【ウ】「国内リサイクルを優先するべき」と答えた人が90%以上いる状況ではあるけれど、何かしらの対策を考えていく必要があると感じるね。信幸くんはどんな資料を準備した？

信幸：自動車リサイクル法とシュレッダーダストのリサイクル率の資料を準備したよ。

夏実：資料Ⅲの自動車リサイクル法って初めて見たけど、単に車のリサイクルについて規定しているだけではなく、自動車製造業者に長期間使用できたり、リサイクルしやすかったりする車を作るように促しているね。

信幸：他に資料Ⅲでは、【エ】自動車の所有者が、自動車を購入する際は再資源化等の実施に配慮して製造された自動車を選択するよう努めることや、国が使用済自動車の再資源化促進のために取り組むべきこと等も定めているんだ。

夏実：資料Ⅳのシュレッダーダストってという言葉も初めて聞いたな。

信幸：自動車部品の中でも、車体に使われる金属やプラスチック製の部品は、以前からそのほとんどがリサイクルされていたみたいなんだ。シュレッダーダストのリサイクルは技術的に難しかったんだけど、ここ数年で急速にリサイクルされるようになってきたようだよ。

夏実：確かに、資料Ⅳの【オ】2005年と比較すると2013年ではリサイクル率が35ポイント以上高まっているね。

信幸：多くの自動車メーカーでは自動車のリサイクル率100%を目指し、様々な工夫を行っているみたいだよ。

夏実：じゃあ集めた資料をもとにして、レポート作成にとりかかるとしよう。

- ① 【ア】と【イ】と【エ】
- ② 【ア】と【エ】と【オ】
- ③ 【イ】と【ウ】と【エ】
- ④ 【イ】と【エ】と【オ】

問 2 下線部分エネルギーに関連して、次のメモ中の **A** , **B** にあてはまる語句の組合せとして適切なものを、下の①～④のうちから一つ選べ。解答番号は **2** 。

メモ

省エネルギーを実現するためには、エネルギーの効率的利用技術とそのシステム化が必要である。近年は、節電型の電気製品や低燃費の自動車などが開発されている。

従来は発電の際に排熱として捨てられていた、蒸気や熱などのエネルギーを、冷暖房や給湯などに利用する **A** (熱電併給)の導入も増加している。最近では、医療機関での停電対策や、公共施設での災害対策のために **A** を導入する事例が見られる。

他に、家庭や事業所の電気機器の効率的な使用や地域間での電力の融通などを、IT技術を駆使した制御により実現することで、電力消費を抑制するシステムとして **B** が注目されている。日本においては、風力や太陽光などによる再生可能エネルギーの一層の活用のために **B** の整備が検討されている。

A にあてはまる選択肢

- ア コージェネレーション
- イ マテリアルリサイクル

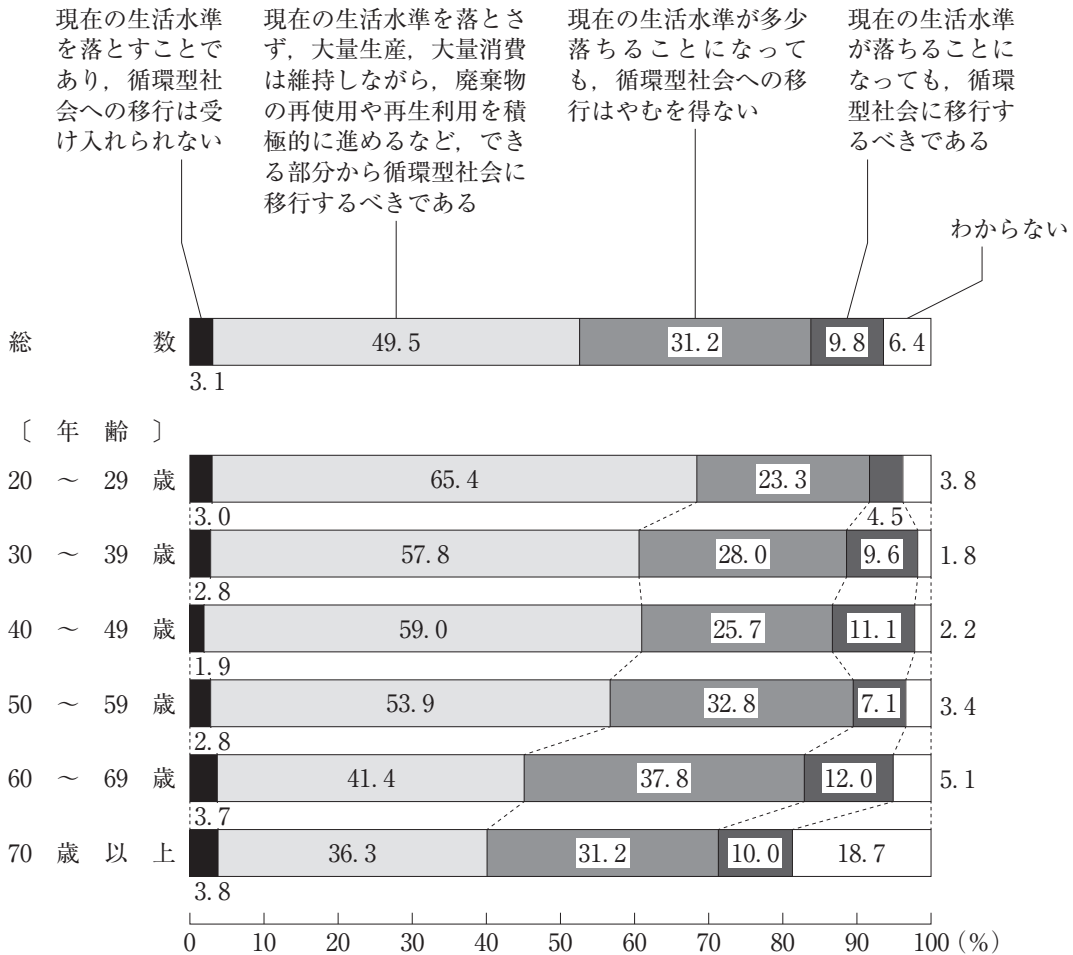
B にあてはまる選択肢

- ウ バイオマスエネルギー
- エ スマートグリッド

	A	B
①	ア	ウ
②	ア	エ
③	イ	ウ
④	イ	エ

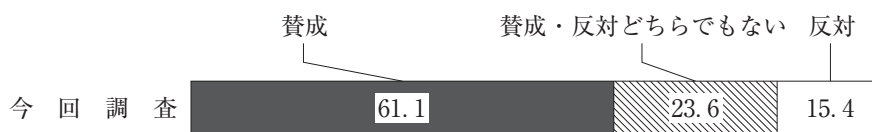
問 3 下線部分^(c)循環型社会に関連して、循環型社会に関する次のグラフ1、グラフ2、グラフ3、グラフ4について述べた文章の組合せとして適切なものを、8ページの①～④のうちから一つ選べ。解答番号は 3。

グラフ1 循環型社会についての意識



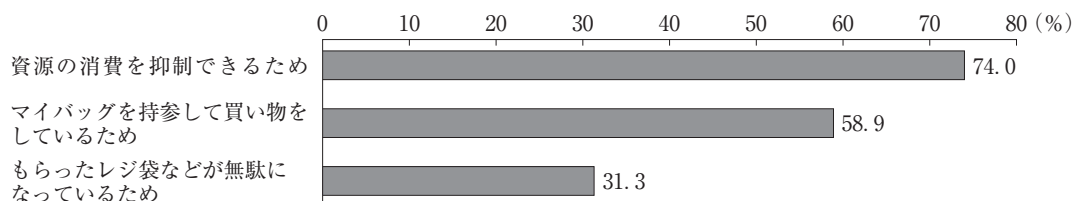
(注) 四捨五入しているため、合計値は100にならない場合がある。
 (内閣府「環境問題に関する世論調査結果」平成24年実施により作成)

グラフ2 レジ袋の無料配布禁止についての賛否

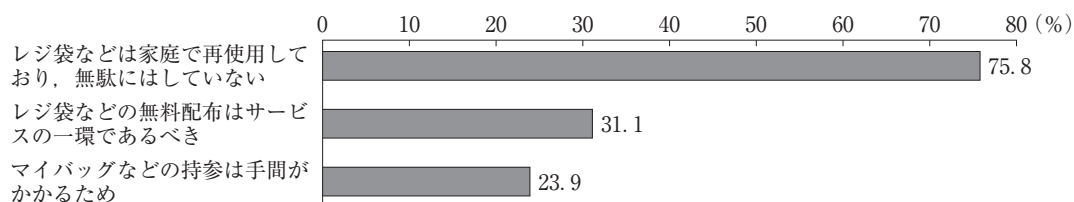


(注) 四捨五入しているため、合計値は100にならない場合がある。

グラフ3 レジ袋の無料配布禁止について「賛成」と答えた人に、その理由を尋ねた際の回答(複数回答)



グラフ4 レジ袋の無料配布禁止について「反対」と答えた人に、その理由を尋ねた際の回答(複数回答)



(内閣府「平成26年循環型社会形成に関する世論調査」により作成)

グラフ 1 に関する選択肢

- ア 「現在の生活水準が多少落ちることになっても、循環型社会への移行はやむを得ない」と答えた人の割合は、20～29 歳、30～39 歳、40～49 歳の年齢層ではいずれも 20 % 台であるのに対し、50～59 歳、60～69 歳、70 歳以上の年齢層ではいずれも 30 % を超えており、中でも 60～69 歳の年齢層の数値が最も高くなっている。
- イ 総数をみると「現在の生活水準を落とさず、大量生産、大量消費は維持しながら、廃棄物の再使用や再生利用を積極的に進めるなど、できる部分から循環型社会に移行すべきである」と考える人は、「現在の生活水準が多少落ちることになっても、循環型社会への移行はやむを得ない」と考える人の割合より 20 ポイント以上高い。

グラフ 2，グラフ 3，グラフ 4 に関する選択肢

- ウ グラフ 2 をみると、レジ袋の無料配布禁止について「賛成」と答えた人の割合は、60 % を超えている。また、グラフ 4 をみると、レジ袋の無料配布禁止について「反対」する理由として、「レジ袋などは家庭で再使用しており、無駄にはしていない」と答えた人の割合は 70 % を超えている。
- エ グラフ 2 をみると、レジ袋の無料配布禁止について「賛成」と答えた人の割合の数値は、「反対」と答えた人の割合の数値より、50 ポイント以上高い。また、グラフ 3 をみると、レジ袋の無料配布禁止について、「賛成」する理由として、「資源の消費を抑制できるため」と答えた人が最も多い。

- ① アとウ ② アとエ ③ イとウ ④ イとエ

2 次の文章を読んで、問1～問3に答えよ。

「せいかこくさいびょういん」

きみたちのなかには、この名前をはじめて聞く人もいるでしょう。

「せいかってなんだろう」

と思う人もいるかもしれません。

「聖路加」とは、「聖人ルカ」を意味しています。「路加」はルカの当て字です。

聖人とは、キリスト教において重要な役割をになう人のことで、イエス・キリストによる愛と救済の精神を深い信仰心をもって伝えた賢者です。『新約聖書』には何人かの聖人が登場しますが、「聖ルカ」もそのひとりです。職業がお医者さんであったことから、世界中に「聖ルカ」を病院名として用いている病院がたくさんあります。

聖路加国際病院は、英語で St. Luke's International Hospital と書きます。

キリスト教の聖人から名前をとった理由は、病院を設立したルドルフ・B・トイスラー先生が、アメリカの宣教医師だったからです。宣教医師というのは、キリスト教の教えを人々に伝えて広める使命をもつお医者さんのことです。

トイスラー先生は1900年(明治33年)、24歳になる直前に妻のメリーさんといっしょに来日しました。そして1902年(明治35年)、当時、外国人居留地でもあった築地明石町に、「聖ルカ」の名をつけた小さな診療所「聖路加病院」を開きました。

それが、聖路加国際病院のはじまりです。

(日野原重明『戦争といのちと聖路加病院ものがたり』より)

美香：昨年、105歳で亡くなられた日野原重明さんって、どんな人だったか知っているかしら。

悠樹：聖路加国際病院の名誉院長だった方だよ。100歳を過ぎてもお元気で活躍していらした。僕が小学生の頃、日野原さんの「いのちの授業」を受けたことがあって、「争いでものごとは解決しない」、「いのちの尊さや大切な人との出会いを知る」、「頭にきたら、少し間を置いて考える」などの言葉を覚えているよ。

美香：私は本を読んだわ。日野原さんは、「いのちを守るためには、人と人との争いをなくし、戦争をしない世の中にしなくてはならない」と子供たちへ伝えるために、たくさん本を執筆されたのよ。戦争の悲惨さをよくご存じだから、平和を守る日本国憲法の大切さを説いていらしたの。

悠樹：日野原さんは、1970年の「よど号」ハイジャック事件で人質になったことがあるそうだよ。無事に解放された時、「これまでの人生は、自分のために生きてきた。これからは、世話になった人への恩返しでなく、出会ったどんな人にも自分のいのちを捧げよう」と決意されたらしい。

美香：1945年の東京大空襲の経験から、聖路加国際病院を全面改修する時に、災害時は拠点病院にできる設計にするよう提案されたんですって。改修が終わったあと、1995年3月20日に地下鉄サリン事件が発生して、640人もの被害者を受け入れることができたらしいわ。『『万が一へのそなえ』は、ふつうの時にはむだなものに見えるけど、いのちを失わないようにするには、そなえをおろそかにするわけにはいかない』と、本に書かれていたわ。

悠樹：そのとおりだと思う。そして、いのちとは「自分が使える時間」であり、「おとなになったら人のために自分の時間を使えるようになること」と仰っていたよ。僕たちも、日野原さんの教を参考にして、いのちを大切にした生き方をしていきたいね。
(c)

- 問 1 下線部分キリスト教に関連して、次の高校生が作成したレポート中の **A** , **B** , **C** , **D** ^(a) にあてはまる語句の組合せとして適切なものを、次のページの①～④のうちから一つ選べ。解答番号は **4** 。

レポート

昨年の夏休み、僕は東京にあるキリスト教関連の施設などを見学してきました。

まず、築地居留地跡に行きました。このあたりは江戸時代末期から明治にかけて、外交官や宗教関係者が多く住んでいた場所です。青山学院大学や立教大学など、現在日本にある多くのミッションスクールや教会が、この居留地を発祥の地としています。

聖路加国際大学には聖ルカ礼拝堂があります。英国国教会の流れをくむ聖公会の教会で、ステンドグラスが美しい建物です。ルカは、原始キリスト教の時代、キリスト教の教義を確立しローマ帝国で異邦人への伝道を行った **A** に付き添い聖書の一部を記述した、ギリシャ人の医者と伝えられています。トイスラー牧師が布教を始めた頃は日本語の聖書が無く、中国語の聖書を用いたのが「聖路加」の表記の由来です。

印刷博物館では、グーテンベルク 42 行聖書を見ました。2017 年は、ルターが「九十五か条の論題」を示してローマ教会を批判し、**B** を始めてから 500 年の節目の年になります。ルターは、人が義とされるのは信仰のみという **A** の信仰義認説を主張し、新約聖書をドイツ語に訳して聖書中心主義を唱えました。15 世紀、グーテンベルクが発明し、書物を大量かつ安価に出版することを可能にした活版印刷術は、聖書の教えを一般の人々に広げ、**B** を推進する原動力となりました。この技術は、キリスト教とともに日本に伝わっています。

東京復活大聖堂(ニコライ堂)は、ジョサイア・コンドルが実施設計したビザンチン様式の建物です。日本ハリストス正教会(日本正教会)の中心的存在で、十字架は八端十字と呼ばれる十字架を用いています。キリスト教では、アダムとイブが神に背き知恵の木の実を食べたため、人間は生まれながらの罪である **C** を背負っているとされます。しかし、イエスが十字架上で亡くなり罪を ^{あがな}贖ったことで神と人間との間に新しい契約が結ばれた、と説きます。

上智大学と聖イグナチオ教会は、カトリックの修道会イエズス会によって設立されました。16 世紀、日本にキリスト教を伝えた宣教師フランシスコ・ザビエルの「都に大学を」という願いが、20 世紀に実現したのです。プロテスタントに対抗して作られたイエズス会は、多数の宣教師を世界各地に派遣し、神が人間に与えた無差別で無償の愛である **D** など、キリスト教の教えを説きました。聖イグナチオ教会では、日本語のほか英語やスペイン語、ベトナム語、インドネシア語などでもミサを行っています。

僕はこの体験によって、教育や文化・医療などさまざまな面で、キリスト教が明治以降の日本に与えた影響はとても大きいと実感することができました。そして日本と世界との関わりを、もっとたくさん知りたいと思いました。

	A	B	C	D
①	パウロ	市民革命	福音	アガペー
②	モーセ	宗教改革	福音	エロース
③	パウロ	宗教改革	原罪	アガペー
④	モーセ	市民革命	原罪	エロース

問 2 下線部分**子供たち**に関連して、次の会話文中の **E** , **F** にあてはまるものの組合せとして適切なものを、16 ページの①～④のうちから一つ選べ。解答番号は **5** 。

会話文

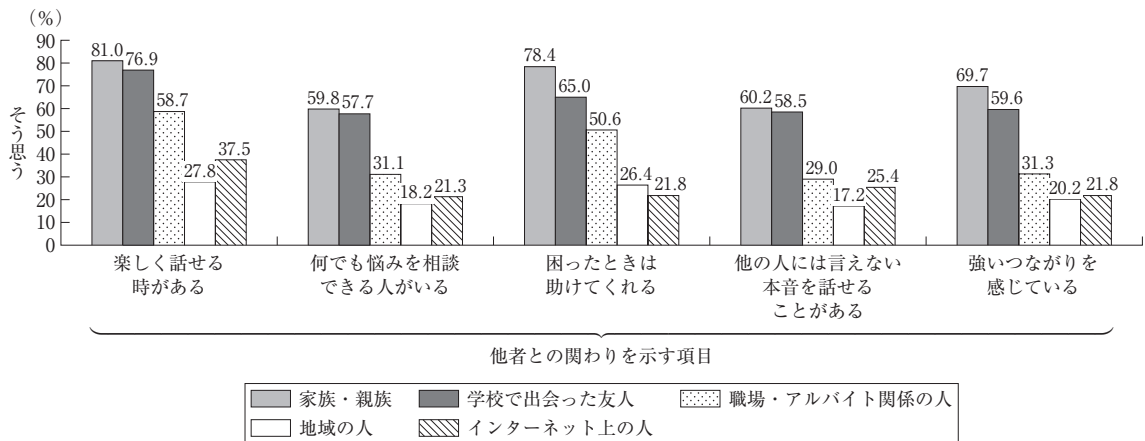
学：「現代社会」の青年期の課題に関するレポート、進み具合はどうか。

愛：私は、「若者にとっての人とのつながり」について、レポートを書こうと思っているの。

学：つながりって、生きていく上で大切だよな。学校や職場で人間関係を築くことが難しい場合もあるけど。

愛：様々な問題に直面した時、人には心を開いて悩みを相談できる相手が必要よ。そこで若者のつながりに関する現状と課題を考えるために、15歳から29歳までの男女6,000人を対象に意識調査が行われたの。グラフ1は、まず、つながりの対象を「家族・親族」、「学校で出会った友人」、「職場・アルバイト関係の人」、「地域の人」、「インターネット上の人」の5つのカテゴリーに分け、それぞれの対象とどのようにつながっているかを把握するため、「楽しく話せる時がある」、「何でも悩みを相談できる人がある」、「困ったときは助けてくれる」、「他の人には言えない本音を話せることがある」、「強いつながりを感じている」の5つの項目について質問した回答結果を示しているのよ。

グラフ1 対象別のつながりの強さ(「そう思う」と答えた人の割合)



(内閣府「平成29年版 子供・若者白書」により作成)

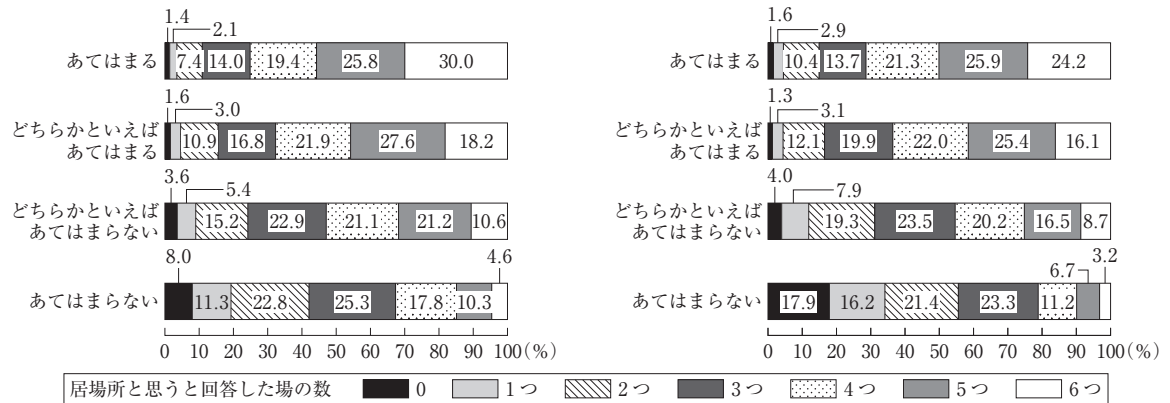
学：グラフ1によると、**E** ということが分かるね。

愛：また、若者がどのような場を居場所と思うかを見るために、どこが居心地の良い場所と思うかについて「自分の部屋」、「家庭」、「学校」、「職場」、「地域」、「インターネット空間」の6つの場に分け、そのうちのいくつ居場所と思う場があるかを質問しているの。そして、他者と付き合う時に「誰とでもすぐに仲良くなれる」、「その場に合った行動がとれる」かを尋ねた質問の回答について、居場所の数によって、どのような違いがあるのかを示したものがグラフ2よ。

グラフ2 他者との交流における自己認識の居場所の数

質問 誰とでもすぐに仲良くなれる

質問 その場に合った行動がとれる



(注) 四捨五入しているため、合計値が100にならない場合がある。

(内閣府「平成29年版 子供・若者白書」により作成)

学：グラフ2では、**F**ということが分かるんだ。

愛：つまり、居場所の数が多いと回答している人ほど、誰とでもすぐに仲良くなれたりその場に合った行動がとれたりすると感じている、という傾向があるの。

学：じゃあ若者が居場所を多く持てるようにするために、どんな取組みがあるのかな。

愛：例えば、高校で「哲学カフェ」を実施して悩みや人生について語る機会を作ったり、会員制の飲食店で、一度も働いたことのない若者にジョブトレーニングなどをする就労支援をしたり、子供食堂を設置して食を通じた集まりの場を提供したりしているわ。行政の支援策だけでなく民間団体の活動も増えているの。たくさん居心地の良い場ができて、若者の孤立を防ぐことができるようになるといいわよね。

E にあてはまる選択肢

- ア 対象別のつながりの強さでは、すべての項目で「家族・親族」が一番高い値となっており、「何でも悩みを相談できる人がいる」と「他の人には言えない本音を話せることがある」の項目で「そう思う」と答えた人のうち、「インターネット上の人」と答えた人は「地域の人」と答えた人より多い
- イ 対象別のつながりの強さでは、すべての項目で「職場・アルバイト関係の人」が二番目に高い値となっており、「困ったときは助けてくれる」と「強いつながりを感じている」の項目で「そう思う」と答えた人のうち、「学校で出会った友人」と答えた人は「インターネット上の人」の3倍以上である

F にあてはまる選択肢

- ウ 「誰とでもすぐに仲良くなれる」という質問に対して「あてはまる」と回答した人のうち、居場所が「6つ」と回答した人と居場所が「5つ」と回答した人の割合の合計は50%を超えており、「その場に合った行動がとれる」という質問に対して「あてはまらない」と回答した人のうち、居場所が「0」と回答した人の割合は居場所が「5つ」と回答した人の割合の2倍以上である
- エ 「誰とでもすぐに仲良くなれる」という質問に対して「あてはまらない」と回答した人のうち、居場所が「1つ」と回答した人と居場所が「2つ」と回答した人の割合の合計は40%を超えており、「その場に合った行動がとれる」という質問に「あてはまる」と回答した人のうち、居場所が「2つ」と回答した人の割合は居場所が「5つ」と回答した人の割合の3倍以上である

	E	F
①	ア	ウ
②	イ	エ
③	ア	エ
④	イ	ウ

問 3 下線部分^(c)生き方に関連して、次の文章はルソーが説いた教育論の一部である。文章を参考にして、ルソーの「第二の誕生」の説明として適切なものを、下の①～④のうちから一つ選べ。解答番号は 6。

わたしたちは、いわば、二回この世に生まれる。一回目は存在するために、二回目は生きるために。はじめは人間に生まれ、つぎには男性か女性に生まれる。女を未完成の男と考える人たちはたしかにまちがっている。けれども外見的な類似を考えればそれは正しい。思春期にいたるまでは、男の子も女の子も、見たところ全然ちがわない。同じ顔だち、姿、顔色、声、何もかも同じだ。女の子も子どもだし、男の子も子どもだ。…(中略)…

気分の変化、たびたびの興奮、たえまない精神の動揺が子どもをほとんど手におえなくする。まえには素直に従っていた人の声も子どもには聞こえなくなる。それは熱病にかかったライオンのようなものだ。子どもは指導者を見とめず、指導されることを欲しなくなる。

気分の変化を示す精神的なしるしとともに、顔かたちにもいちじるしい変化があらわれる。容貌が整ってきて、ある特徴をおびてくる。頬の下のほうにはえてくるまばらな柔らかい毛はしだいに濃く密になる。声が変わる。というより声を失ってしまう。…(中略)…

これがわたしのいう第二の誕生である。ここで人間はほんとうに人生に生まれてきて、人間的ななにものもかれにとって無縁のものではなくなる。…(中略)…ふつうの教育が終わりとなるこの時期こそ、まさにわたしたちの教育をはじめなければならない時期だ。

(ルソー『エミール』により作成)

- ① 第二の誕生とは、人が無意識下に眠っている性の衝動によって支配されているということである。欲求が満たされない時、その緊張状態から自分自身を守り、フラストレーションを解消しようとして防衛機制がはたらく。
- ② 第二の誕生とは、人が子供集団と大人集団の重複する領域にいて、両方の集団に属していたり、属していなかったりするということである。境界人として帰属意識を持たず中途半端な状態のため、人は心理的に不安定になる。
- ③ 第二の誕生とは、人が大人への準備期間として心理的にも社会的にも責任を免除され、さまざまな可能性にチャレンジできるということである。現在の自分は「仮のもの」なので、「本当の自分」は未来のものとして大切に保存されている。
- ④ 第二の誕生とは、人がそれまで存在するために生きてきた頃と異なって、性的特徴があらわれて他人を意識するなかで自我が目覚めるということである。身体的・心理的に著しい発達をとげることで、精神的な自立を求めようになる。

3 次の会話文を読んで、問1～問3に答えよ。

政司：えーと、フォースコー アンド セヴンイヤーズ アゴウ アウワ ファーザーズ (Four score and seven years ago our fathers)…

治美：何ぶつぶつ英語でつぶやいてるの？ そんな英語の宿題あった？

政司：いや、英語の宿題じゃなくって、今度の「現代社会」の授業で、近代民主政治についての発表をすることになったんだよ。みんなに政治への関心をもってもらえるような発表にしたいから、最初に有名な演説を原語で話そうかなって…

治美：ちょっと見せてよ。ああ、確かに有名だわ。これって、リンカーン大統領が南北戦争の際にゲティスバーグで行った演説で、民主主義の大事な理念を示しているよね。で、どこまで覚えたの？

政司：いや、まだ最初だけ。日本語のように簡単には覚えられないんだよ。

治美：じゃ、日本語訳を読んでから暗記したら？ ネットにはあるはずで…(スマホで検索して)ほら！（政司に以下の資料を見せる）読んでみて。

資料

87年前、われわれの父祖たちは、自由の精神にはぐくまれ、人はみな平等に創られているという信条にささげられた新しい国家を、この大陸に誕生させた。…(中略)…この国に神の下で自由の新しい誕生を迎えさせるために、そして、**A**を地上から決して絶滅させないために、われわれがここで固く決意することである。

政司：よおし、感情移入して読むぞ！ フォースコー…

治美：ちょっと待って！ 演説一つだけで発表を終わるわけ？

政司：そんなことはないよ。この演説に示されている、国民主権にもとづく民主政治の特質に触れてから、その内容が示されている日本国憲法前文の場所をみんなにさがしてもらって、アメリカ合衆国と日本の民主政治について報告しようと思っているんだ。

治美：「そもそも国政は、国民の厳粛な信託によるものであつて、その権威は国民に由来し、その権力は国民の代表者がこれを行使し、その福利は国民がこれを享受する。」というところね。

政司：そう。ここにも述べられているように、現代の民主政治では直接民主制の実施は困難なので、国民は代表者を選出して主権を行使する、という間接民主制がとられているんだ。

治美：だからこそ、代表を選出する選挙制度がとても大事なのね。でも、日本とアメリカ合衆国では行政府の長の選出方法が大きく異なっているでしょ？

政司：アメリカ合衆国では議会の議員も行政府の長も選挙で選出される大統領制なのに対して、

日本では国会議員が選挙で選出されたのちに原則的に第一党の党首が内閣総理大臣として国会で指名されるんだ。

治美：この日本の制度を **B** というよね。日本では内閣総理大臣を国民が直接選ぶわけではないけれど、アメリカ合衆国では議員とは別に大統領も国民が選ぶことになっているのよね。

政司：で、^(a)アメリカ合衆国大統領の選挙制度についてレポートに詳しくまとめてみたんだ。

治美：なるほど。さらに、^(b)日本の選挙の様子についても、調べてみるといいんじゃないかな。

問 1 会話文中の **A** , **B** にあてはまるものの組合せとして適切なものを、下の①～④のうちから一つ選べ。解答番号は **7** 。

A にあてはまる選択肢

- ア 人民の、人民による、人民のための政治
- イ 言論及び信仰の自由が受けられ、恐怖及び欠乏のない世界

B にあてはまる選択肢

- ウ 民主集中制
- エ 議院内閣制

	A	B
①	ア	ウ
②	ア	エ
③	イ	ウ
④	イ	エ

問 2 下線部分^(a)アメリカ合衆国大統領の選挙制度について、政司がまとめた次のレポートを参考にして、2016年のアメリカ合衆国の大統領選挙の分析をしている生徒の発言として適切なものを、下の①～④のうちから一つ選べ。解答番号は 8。

レポート

アメリカ合衆国大統領の選挙制度

- 民主党・共和党それぞれから候補者を1人に絞るための予備選挙を行ってから本選挙が実施される。
- 本選挙は間接選挙方式で行われる。大統領選挙人は各州とコロンビア特別区で選出される代表者であり、大統領選挙人が大統領を選ぶ。
 - ・大統領選挙人の人数は、各州の上院議員の人数(各2人)と下院議員の人数(州の人口によって配分された人数)の合計に、州に属さないコロンビア特別区の3人を加えて538人となっている。
 - ・大統領選挙人はあらかじめどの候補に投票するかを明らかにしている。
 - ・有権者は支持する大統領候補に投票する。州ごとに得票数で1票でも上回った候補者が、その州に割り当てられた大統領選挙人の数を総取りする仕組みとなっている(州により例外あり)。

2016年の大統領選挙の結果

	民主党候補	共和党候補
獲得した大統領選挙人数	232人	306人
得票数	6,585万人	6,299万人

(注) 得票数は千人単位を四捨五入している。

(ニューヨークタイムズにより作成)

- 春子：民主党候補は共和党候補より得票数で上回り、大統領選挙人を多く獲得して当選した。
- 夏男：共和党候補は民主党候補より得票数で上回り、大統領選挙人を多く獲得して当選した。
- 秋代：民主党候補は共和党候補より得票数では下回ったが、大統領選挙人を多く獲得して当選した。
- 冬吉：共和党候補は民主党候補より得票数では下回ったが、大統領選挙人を多く獲得して当選した。

- ① 春子 ② 夏男 ③ 秋代 ④ 冬吉

問 3 下線部分日本の選挙について、現代の日本の選挙について述べた文として適切なものを、次の①～④のうちから一つ選べ。解答番号は 。

- ① 地方議会議員の選挙においては、現在に至るまで無投票当選は全くない。
- ② 参議院議員選挙では、選挙権年齢と被選挙権年齢は満 18 歳以上に引き下げられた。
- ③ 衆議院議員の選挙制度として、小選挙区比例代表並立制が導入されている。
- ④ インターネットを使った選挙運動は、候補者や政党によるものを含め一切禁止されている。

4 次の会話文を読んで、問1～問3に答えよ。

絵理：今、日本国憲法を勉強しているのですが、^(a)平等権、自由権、社会権など基本的人権の保障について書かれている条文が多いですね。

先生：日本国憲法は、条文の約3分の1を基本的人権の規定にあてているんだよ。これらの権利は、国家が与えたものではなく、「侵すことのできない永久の権利」(第11条)として保障されているんだ。しかし、どんな場合でも^(b)人権が一切の制限を受けないという意味ではないよ。人権は、他人の権利との関係において、何らかの制限を受ける場合もあるんだ。

純一：自分の権利を一方的に主張するのではなく、他の人の権利も尊重するということですね。授業で習った「公共の福祉」ですね。ただし気をつけなくてはいけないのは、「公共の福祉」は決して個人を超えた全体の利益を意味するものではないということです。全体の利益のみを重視すると、個人の権利が軽視される危険がありますよね。

先生：そうですね。よく勉強しているね。

絵理：憲法他にたくさんの法律が存在していますよね。法律って聞くと完璧で、守らないといけないし、違反した者には罰則があり、厳しいものというイメージがあります。

純一：たしかに法律には、守らないといけなくて、守らないと罰を与えられるものもあるけど、私たちが社会生活をしていくうえで必要なものだとも思うよ。

先生：法に関しては二つの考え方があるんだ。一つは、イギリスなどで発達した「法の支配」という考え方がある。「法の支配」は、現代では、権力者といえども、国民の代表者である議会によって制定された法に従うという考え方だとされているよ。一方、ドイツなどで発達した「法治主義」は、法律による行政という形式を重視し、法律によれば個人の自由も制限しようとする考え方だよ。なお、現在のドイツでは、このような形式的な法治主義は改められているんだ。日本も、戦前や戦中は治安維持法などによって、国民生活が統制されていた時代もあったね。このように、法律が常に人権を保障するとは限らなかったんだね。

絵理：だからこそ人権の尊重が大切なのですね。そういえば、日本国憲法って、国民の権利について定めた条文が多いのは分かるのですが、義務についてはあまり規定されていない感じがするのですが…。

先生：そうだね。日本国憲法に記されている国民の義務には、保護する子女に普通教育を受けさせる義務(第26条)、勤労の義務(第27条)、**A**の義務(第30条)があるね。日本国憲法は、国民の権利や自由を保障するために、国家権力を制限し国民の権利を保障する立憲主義という考え方に立っているんだよ。第99条では、「天皇又は摂政及び国務大臣、国会議員、裁判官その他の**B**は、この憲法を尊重し擁護する義務を負ふ」と規定して、この考え方を具体化しているんだよ。

純一：憲法と国民との関係や、立憲主義の意味が分かりました。

絵理：憲法って難しくて少し取っつきにくいイメージでしたが、私たちの生活の根本に関わって

いるんだと思いました。

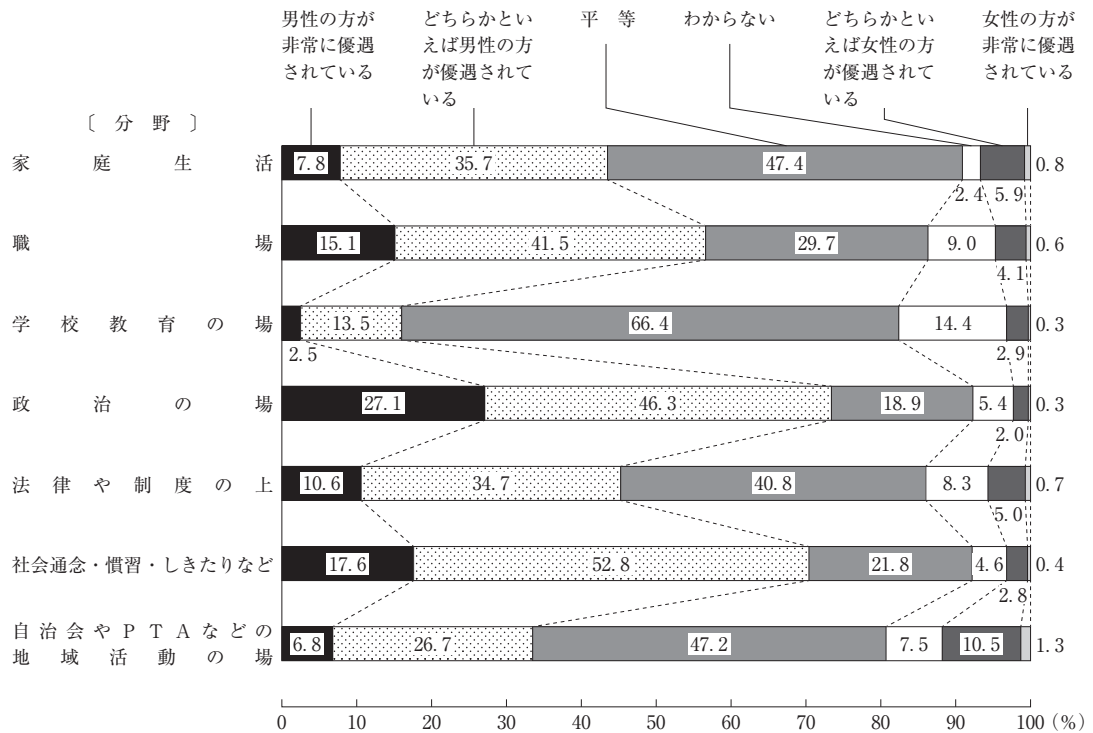
先生：憲法の条文が、日常生活のさまざまな場面で、いかに大きく関わっているかを、身近な問題と関連させて勉強していこう。

問 1 会話文中の **A** , **B** にあてはまる語句の組合せとして適切なものを、次の①～④のうちから一つ選べ。解答番号は **10** 。

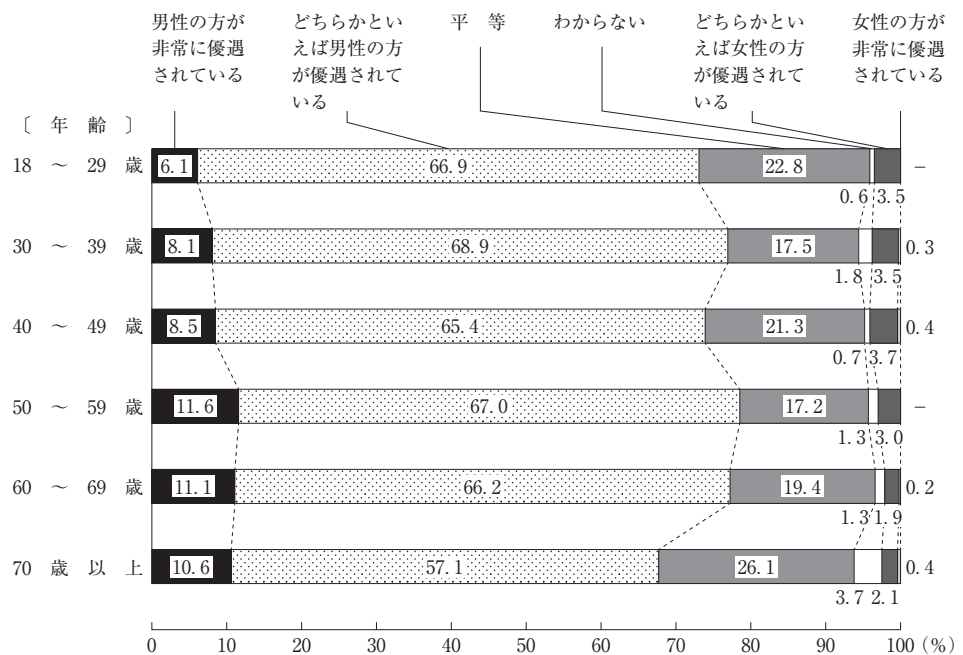
- | | A | B |
|---|----------|----------|
| ① | 投票 | 国民 |
| ② | 納税 | 公務員 |
| ③ | 投票 | 公務員 |
| ④ | 納税 | 国民 |

問 2 下線部分^(a)平等権に関連して、次のグラフ 1、グラフ 2 から読み取れるものを、次のページの①～④のうちから一つ選べ。解答番号は 11。

グラフ 1 次のそれぞれの分野で男女の地位は平等になっていると思うか



グラフ 2 社会全体でみた場合には、男女の地位は平等になっていると思うか



(注) グラフ 1 とグラフ 2 の数値は四捨五入しているため、合計値が 100 にならない場合がある。
(平成 28 年度 内閣府「男女共同参画社会に関する世論調査」により作成)

- ① グラフ 1 をみると、分野別では、「男性の方が非常に優遇されている」と「どちらかといえば男性の方が優遇されている」と答えた人の割合の合計が最も高いのは、「社会通念・慣習・しきたりなど」の項目である。また、グラフ 2 をみると、年代別では、「どちらかといえば女性の方が優遇されている」と「女性の方が非常に優遇されている」と答えた人の割合の合計は、70 歳以上の年齢層が最も高い。
- ② グラフ 1 をみると、分野別では、「どちらかといえば女性の方が優遇されている」と「女性の方が非常に優遇されている」と答えた人の割合の合計が最も高いのは、「学校教育の場」の項目である。また、グラフ 2 をみると、年代別では、「男性の方が非常に優遇されている」と「どちらかといえば男性の方が優遇されている」と答えた人の割合の合計は、60～69 歳の年齢層が最も高い。
- ③ グラフ 1 をみると、分野別では、「学校教育の場」の項目で「平等」と答えた人の割合は、「政治の場」で「平等」と答えた人の割合の 3 倍以上である。また、グラフ 2 をみると、年代別では、「平等」と答えた人の割合は、70 歳以上の年齢層が最も高い。
- ④ グラフ 1 をみると、分野別では、「平等」と答えた人の割合が最も高いのは「自治会や PTA などの地域活動の場」の項目で、その次に高い項目は「職場」である。また、グラフ 2 をみると、年代別では、「どちらかといえば女性の方が優遇されている」と「女性の方が非常に優遇されている」と答えた人の割合の合計は、18～29 歳の年齢層が最も低い。

問 3 下線部分^(b)人権に関連して、次のア、イの訴訟例と、そこで争われた権利の組合せとして適切なものを、下の①～④のうちから一つ選べ。解答番号は 12。

ア 法律上婚姻していない男女の間に生まれた子供の相続分を、法律上婚姻している夫婦の間に生まれた子供の 2 分の 1 に定めた民法の規定をめぐって争われた訴訟。

イ 大阪空港に離着陸する航空機による騒音、振動、排ガスなどの被害を受けていると主張する周辺住民が、夜間発着の差し止めと、過去および将来の損害賠償を求めた訴訟。

- ① アー平等権 イーアクセス権
 ② アー平等権 イー環境権
 ③ アー自由権 イーアクセス権
 ④ アー自由権 イー環境権

5 次の会話文を読んで、問1～問5に答えよ。

先生：前回の授業では、一国の経済活動の大きさを測る尺度として何が使われるかを学習しました。みなさん、覚えていますか。

優子：はい、覚えています。一般にGDPが指標として使われます。これは、1年間に国内で生み出された財やサービスなど付加価値の総額を表した数値です。そして、一般に経済成長は、GDPが前年度と比較してどれだけ増減したかによって示されます。

先生：そうですね。では、GDPについて、質問をしてみましょう。たとえば、今売られている株や土地を購入した場合、このとき支払われた金額はGDPに含まれるでしょうか。

優子：株や土地の代金は **A** ことになります。

先生：その通りですね。それでは、国などが支出する公害対策費といった、国民の福祉からみてマイナスの事象についての支出についてはどうでしょうか。

一郎：たとえば、公害対策費は **B** ことになります。

先生：これも正解です。GDPはあくまで一定期間にどれだけの財やサービスが生み出されたかを示すものなのですね。

一郎：先生、GDPは常に、年を追って単調に増大するというものではありませんよね。

先生：そうですね。経済は、好況、後退、不況、回復という循環的な変動を繰り返してきましたからね。

優子：景気の変動ですね。景気をはかる指標はGDPだけをみればよいのでしょうか。

先生：GDPだけではなく、ほかに設備投資の増加率や物価上昇率、失業率なども景気をはかる指標となります。たとえば、不況時には一般的に物価は **C** しますよね。

一郎：なるほど、景気の変動は私たちの生活の様々な局面で影響を及ぼしているのですね。物価や通貨の価値が安定していないと、経済活動が停滞したり、不安定になっていくことになるのですね。

先生：その点については、次回の金融政策のところで考えてみましょう。

問 1 会話文中の **A** , **B** , **C** にあてはまるものの組合せとして適切なものを、下の①～④のうちから一つ選べ。解答番号は **13** 。

A にあてはまる選択肢

- ア 新たに生み出された価値ではないので、GDPにはカウントされない
- イ ストックとして計上される価値であるから、GDPにカウントされる

B にあてはまる選択肢

- ウ 市場で取引されるので、GDPにカウントされる
- エ 外部不経済であるので、GDPにはカウントされない

C にあてはまる選択肢

- オ 下落
- カ 上昇

	A	B	C
①	ア	ウ	オ
②	イ	ウ	カ
③	ア	エ	オ
④	イ	エ	カ

問 2 下線部分 GDP に関連して、次の生徒の会話文中の **D** , **E** にあてはまるものの組合せとして適切なものを、次のページの①～④のうちから一つ選べ。

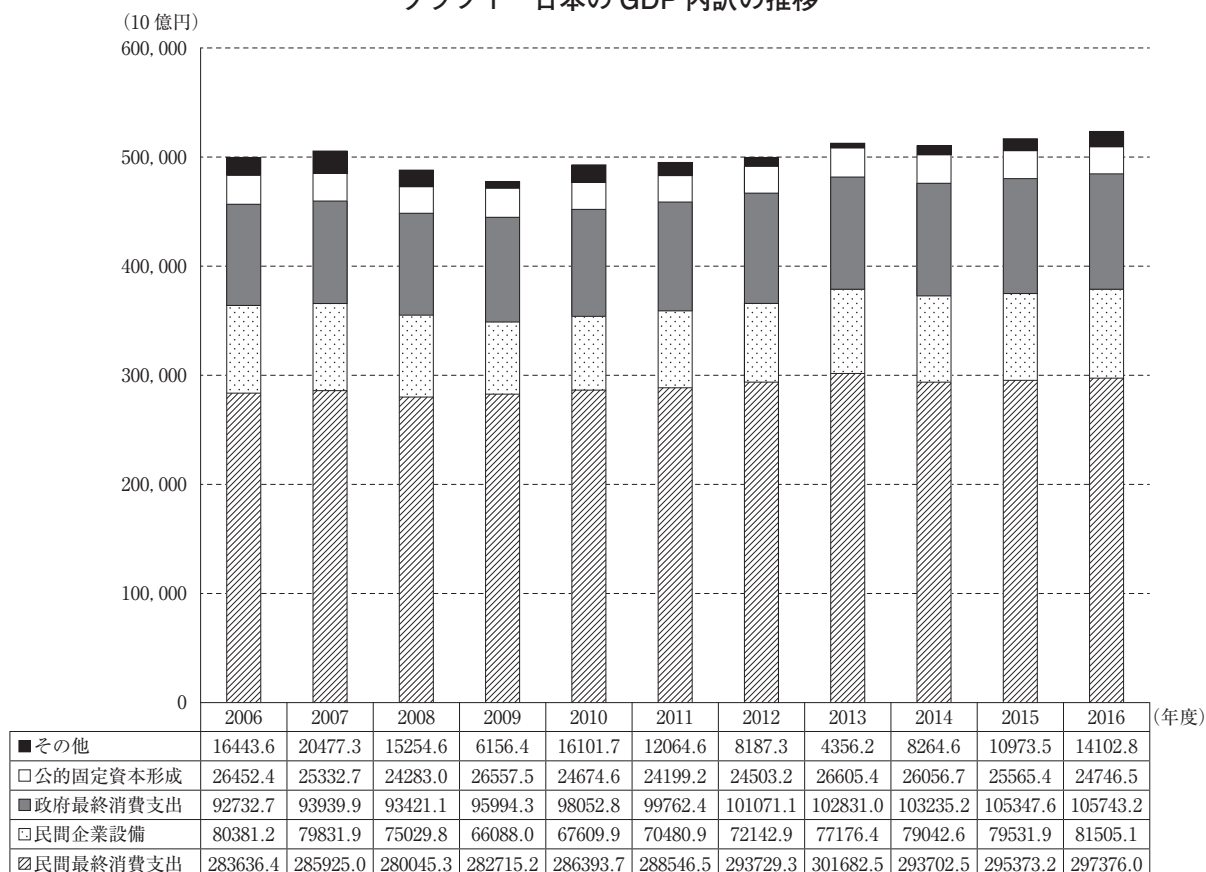
解答番号は **14** 。

会話文

優子：一国の経済の指標として GDP があげられますが、日本ではどのように推移しているのでしょうか。

一郎：グラフ 1 をみると **D** ことが分かります。

グラフ 1 日本の GDP 内訳の推移



(内閣府「四半期別 GDP 速報 時系列表 2017(平成 29)年 4～6 月期(1 次速報値)」により作成)

真男：経済成長を実感するときの指標として身近に感じられるのは、所得と消費の動向を示すデータではないでしょうか。近年の日本の所得と消費動向はどのようになっているのかな。

優子：グラフ 2 は、2014 年 1 月の値を 100 としたときの消費総合指数と総雇用者所得の変化を表したものです。グラフ 2 をみると **E** ことが分かります。

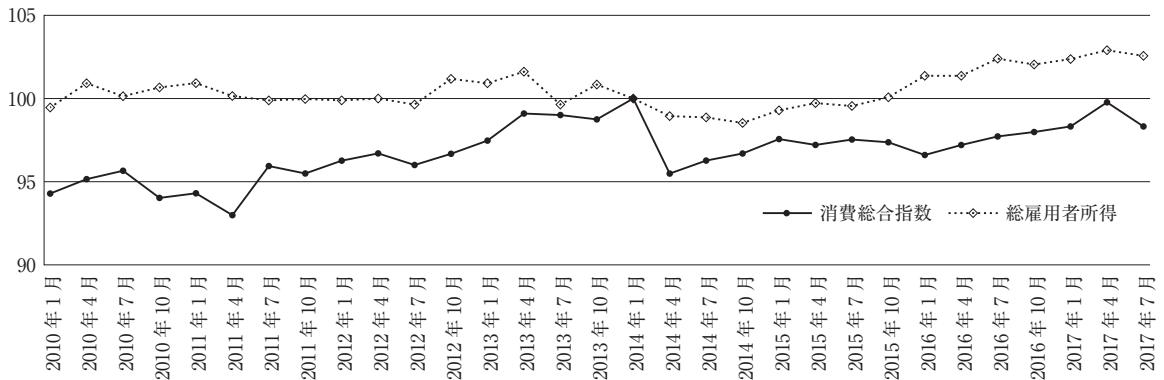
一郎：近年のスマートフォンの普及や ICT の革新、都市化、単身化や高齢化といった世帯の構造変化は、日本の個人消費の構造を大きく変えていると聞きます。

優子：消費の形態別にみると、サービスに対する消費支出が増加しているといわれていますね。

真男：データの数値の変化だけでなく、具体的な変化の内容をよく調べる必要がありますね。

グラフ2 消費総合指数と総雇用者所得

(2014年1月=100)



(内閣府「月例経済報告」により作成)

D にあてはまる選択肢

- ア 日本の GDP の総額は 2006 年度から 2012 年度にかけて 500 兆円を超えることがなかったが、2013 年度以降は常に 500 兆円を上回っており、内訳として 2013 年度以降は民間企業設備が政府最終消費支出を上回っている
- イ 日本の GDP の総額は 2006 年度から 2016 年度まで前年度に比べて一貫して増加しており、内訳として 2006 年度から 2016 年度を通じて 2 番目に民間企業設備が大きく、3 番目は公的固定資本形成となっている
- ウ 日本の GDP の総額は 2009 年度に比べて 2016 年度は増加しており、内訳として最も大きいのは 2009 年度から 2016 年度を通じて民間最終消費支出であり、常に総額の 5 割を超えている
- エ 日本の GDP の総額は 2009 年度から 2016 年度にかけて常に 400 兆円を超えており、内訳として 2009 年度以降は政府最終消費支出と公的固定資本形成を加えた額が民間最終消費支出の額を上回っている

E にあてはまる選択肢

- オ 2016 年 1 月以降をみると、総雇用者所得は 2014 年 1 月の数値を上回っているが、消費総合指数は 2014 年 1 月の数値を上回っていない
- カ 2010 年 1 月以降をみると、消費総合指数が減少するときは総雇用者所得も必ず減少するという傾向がある

	D	E
①	ア	オ
②	イ	カ
③	ウ	オ
④	エ	カ

問 3 下線部分**経済成長**に関連して、経済成長に関する次の**主張**と**人物名**の組合せとして適切なものを、下の①～④のうちから一つ選べ。解答番号は 15。

主張

- I 人々が自らの利益だけを追求しても、市場の価格が需要と供給を自動的に調整すると主張し、市場への自由放任が結果として社会全体を調和させると論じた。
- II 社会全体の経済活動の水準は需要の大きさによって決まると主張し、政府が積極的に有効需要をつくり出すことで景気が回復するという考え方を唱えた。
- III 生産力が増大すると、それまでの生産関係(資本家階級と労働者階級)の矛盾も大きくなり、やがて資本主義経済は社会主義経済に移行すると主張した。
- IV 資本主義経済の発展の原動力は、新製品の開発や新たな生産方式の導入などのイノベーション(技術革新)であると説いた。

人物名

- ア アダム・スミス
- イ マルクス
- ウ ケインズ
- エ シュンペーター

- ① I - ア II - ウ
- ② I - エ III - ウ
- ③ III - ア IV - イ
- ④ II - イ IV - エ

問 4 下線部分失業率に関連して、次の生徒の会話文中の **F** , **G** , **H** にあてはまるものの組合せとして適切なものを、次のページの①～④のうちから一つ選べ。
 解答番号は **16** 。

会話文

真男：景気の動向をみると、失業率の動きをみることも大切ですね。

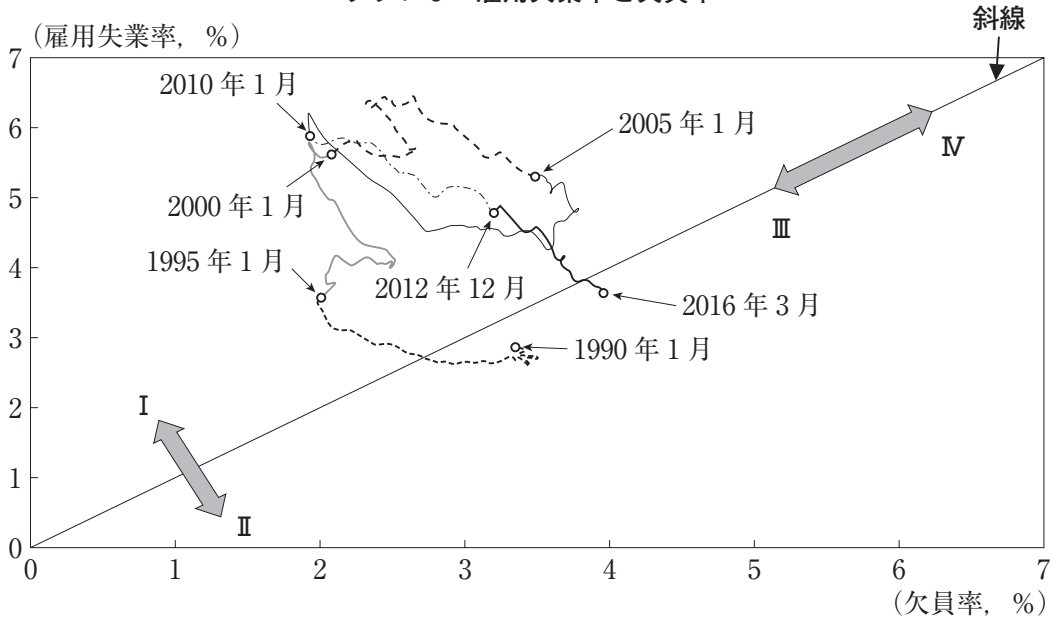
優子：私たちの将来を考える上でも気になる数値ですね。

真男：1990年以降で見ると、日本の雇用失業率は7%を超えてはいないようです。

一郎：景気がよいとき、企業は生産を拡大しようとしますから、雇用は増えていきます。このように、景気がよいときには労働力市場は **F** であるといいますよね。失業率は低いにこしたことがないですよ。

優子：もう少ししていねいに考えるべきではないでしょうか。グラフ3をみてください。

グラフ3 雇用失業率と欠員率



(内閣府『平成28年度経済財政白書』により作成)

一郎：おもしろいグラフですね。このグラフは何を表しているのですか。

優子：これはUV曲線といわれるものです。このグラフ3の縦軸は雇用失業率を、横軸は欠員率を示しています。雇用失業率は「完全失業者数」を「完全失業者数+非農林雇用者数」で割った数値で、欠員率は「有効求人数-就職件数」を「有効求人数-就職件数+非農林雇用者数」で割った数値です。

真男：そうすると、グラフ3中の斜線を越えてIの方向に向かう状態となる場合は、**G** ということになりますね。2016年3月をみると、2012年12月に比べて雇用失業率も低下し、労働力の需給バランスは改善されたようにみえますね。

一郎：そのほかにどんなことがこのグラフ3から分かるのですか。

優子：雇用失業率，欠員率ともに上昇していくという，グラフ 3 中のⅣの方向に向かう状態を考えてみましょう。これはどんな状態だと考えられますか。

一郎：したい仕事が見つからない，だから仕事に就かない，就くことができない，ということであれば，雇用失業率も欠員率ともに上昇することになりますよね。ということは，グラフ 3 中のⅣの方向に向かう状態とは，雇用のミスマッチが拡大しているということですね。

真真：そのようにグラフ 3 をみると， H ということになりますね。

F にあてはまる選択肢

- ア 買い手市場
- イ 売り手市場

G にあてはまる選択肢

- ウ 欠員率より雇用失業率が高くなるため，労働者から見た雇用の状況は悪化している
- エ 雇用失業率より欠員率が高くなるため，労働者から見た雇用の状況は改善されている

H にあてはまる選択肢

- オ 2000 年 1 月に比べて，2016 年 3 月は雇用のミスマッチが拡大している
- カ 1990 年 1 月に比べて，2016 年 3 月は雇用のミスマッチが拡大している

	F	G	H
①	ア	ウ	オ
②	イ	ウ	カ
③	ア	エ	オ
④	イ	エ	カ

問 5 下線部分通貨(d)に関連して，現在の日本の通貨について説明する文として適切なものを，次の①～④のうちから一つ選べ。解答番号は 17。

- ① 預金通貨には，普通預金のほか，小切手による支払い手段に利用される定期預金がある。
- ② 使用せずに手元に残した現金通貨を準通貨といい，この総額は預金通貨を上回っている。
- ③ ある時点の国内での通貨量をマネーストックといい，現金通貨が占める割合が最も大きい。
- ④ 流通している現金通貨には，日本銀行が発行する日本銀行券と政府が発行する硬貨とがある。

6

次の文章は生徒が書いた作文である。これを読んで、問1～問5に答えよ。

日本が国際社会で果たす役割

私は、「現代社会」を学ぶ中で国際関係に興味を持ち、日本が世界でどのような役割を果たすべきか、という点に問題意識を持ちました。そして、日本が国際社会で果たすべき役割として、次の四つを挙げたいと思います。

第一に、^(a)貿易などの国際的な経済活動が世界で維持され続けるように働きかけることです。それは、戦後日本の経済成長は、資源を輸入し、これを自国で加工して工業製品を輸出するという加工貿易が一因で成し遂げることができたからです。また戦後の自由貿易体制が維持された背景には、GATTやIMFなどが作り出した国際経済の枠組みがあったことも知りました。国境を越える経済活動は各国の経済成長にとって重要だと思います。その恩恵を受けた日本が、さまざまな場をつうじてその維持・促進に寄与することは大事だと思うのです。また、^(b)国々が経済で結び付くことを強めれば、経済活動を維持するために戦争を起こせない状況が生じるので、平和維持にもつながると考えます。

第二に、^(c)世界の弱い立場にある人々のために働きかけることです。日本は世界全体で見れば経済的に豊かな国といえます。また、憲法によって基本的人権が保障されている国でもあります。一方、世界には絶対的な貧困に苦しんでいる人々、政府によって人権がおびやかされている人々が多数存在します。幸福な生活を送る権利は、世界中の誰もがもっています。すべての人が人間らしい生活を送れるように、日本が国連などの場をつうじて、経済や人権などの面から、積極的な行動をとることが必要だと考えます。

第三に、身近な国際化を考えることです。国際社会というと国外に目が向きがちですが、日本国内にも多くの^(d)外国人、また外国にルーツを持つ人々が生活しています。日本が少数者であるこれらの人々の人権を尊重する社会であることは、憲法で基本的人権の保障をうたっている国としてとても重要だと思います。また、現在日本に居住する人々のみならず、難民など、日本に救いを求めてくる人々の問題に向き合うことも必要だと考えます。

最後に、^(e)戦争や紛争のない世界をめざすことです。日本国憲法は、戦争の放棄、戦力の不保持及び交戦権の否認を規定しています。この精神を、第二次世界大戦に関わった国であり、また唯一の被爆国でもある日本が世界に発信することは、絶対に必要だと思います。

私自身も日本で生きるひとりとしてこの四つの役割を意識し、将来は国際社会に貢献できる仕事に従事したいと考えています。そして平和を維持し、人々の人権が保障される世界の形成に努めたいと思います。

- 問 1 下線部分貿易に関連して、貿易の理論について記述した次のレポート中の **A** , **B** ^(a) にあてはまる語句の組合せとして適切なものを、下の①～④のうちから一つ選べ。
解答番号は **18** 。

レポート

第二次世界大戦後、自由主義国を中心とした国際社会においては、基本的に自由貿易を促進する政策が採用されてきました。自由貿易の理論は、リカードによって18世紀のイギリスで提唱されました。

リカードは、各国が有利な条件で生産できる商品を輸出し、そうでない商品を輸入するというかたちで貿易を行えば互いに利益が生じるとし、貿易を行う際、関税等政府の介入は極力避けて自由貿易を行うべきだと主張しました。

しかし、この理論に反対の主張をする人もいました。それがドイツの **A** です。彼は、各国には発展段階の差があるので、経済発展をとげた国とそうでない国が貿易を行う際、後者を配慮した政策を採らなければ、後者の幼稚な工業が競争によっておし潰されてしまうと主張して、保護貿易の必要性を説きました。

戦後、自由貿易を推進することを基本的な立場とする GATT や現在の WTO の規定の中にも、保護貿易の主張に沿ったものが例外的に存在します。国内産業保護のため、緊急避難措置としての輸入制限を可能とする **B** を認めているのは、その一例です。**B** とは、安い輸入品の急増によって国内産品の被害が大きくなる時、生産者を保護する目的で、一時的に輸入数量を制限したり、輸入品に高い関税率を課したりするものです。

A**B**

- | | | |
|---|-------|--------|
| ① | リスト | 最恵国待遇 |
| ② | エンゲルス | 最恵国待遇 |
| ③ | リスト | セーフガード |
| ④ | エンゲルス | セーフガード |

問 2 下線部分^(b)国々が経済で結び付くに関連して、単一の経済圏をめざす欧州連合(EU)の4か国の経済指標に関する次の表1をみて、下の会話文中の **C** , **D** にあてはまるものの組合せとして適切なものを、次のページの①~④のうちから一つ選べ。

解答番号は **19** 。

表 1

経済指標 \ 国名	ドイツ	フランス	イギリス	ギリシャ
GDP(100 万米ドル)	3, 363, 600	2, 418, 946	2, 858, 003	194, 860
累積債務残高(対 GDP 比)(%)	78. 5	120. 1	116. 4	190. 0
輸出額(100 万米ドル)	1, 326, 839	493, 831	477, 934	28, 705
輸入額(100 万米ドル)	1, 052, 121	563, 310	663, 718	48, 306
EU 予算の分担金割合(%)	21. 7	17. 1	11. 0	1. 4
外国人訪問者数(千人)	35, 579	82, 600	35, 814	24, 799

(注) 外国人訪問者数は 2016 年のもので、それ以外はすべて 2015 年のものである。

(総務省統計局「世界の統計 2017」、財務省ホームページ、総務省統計局「世界の統計 2017」、外務省ホームページ「欧州連合 平成 28. 6」、日本政府観光局ホームページにより作成)

会話文

たかし：EU について調べていたら、域内の経済格差に触れた資料を見つけたよ。

かおり：域内格差は EU が抱える課題の一つよね。2009 年にギリシャで発生した財政危機が、その後ユーロ導入国のうち、経済力の弱い国々に波及したの。その時は IMF や財政力の強い EU 加盟国が支援したんだけど、経済的に格差がある国同士で通貨統合したことが危機の一因ではないか、といわれているみたいよ。

たかし：それでとりあえず表 1 にまとめてみたんだ。これをみると、表 1 の 4 か国では、ギリシャとそれ以外の国の経済指標で相違があるように思えるね。それは、ギリシャだけが **C** からだよ。

かおり：確かにそうね。2016 年 6 月にイギリスで、EU 離脱の賛否を問う国民投票が行われ、その結果「離脱」を選択した票が「残留」を選択した票を上回ったのよね。その理由の一つに、EU への財政負担が大きい、というものがあつたと聞いたわ。この表 1、見方によっては、ドイツとそれ以外の国の間の相違を読みとることもできそうよ。だって、表 1 をみる限り **D** じゃない。

たかし：確かにそうだ。でも外国人訪問者数をみると、フランス以外の 3 か国はフランスの半分にも満たないんだね。こうやってみると、EU がさまざまな国から成り立っていることがわかるね。

かおり：これだけ多様性があるのに一つの経済圏を作ろうとしているのって、いろいろ課題はあっても、すごいことだと思うよ。もう少し時間をかけて、他の国についても調べてみようよ。

C にあてはまる選択肢

- ア GDP が他の 3 か国それぞれの 1 割未満であり，累積債務残高が 150 % を上回っている
- イ 輸入額が輸出額の 2 倍を超えていて，EU 予算の分担金割合は 10 % に満たない

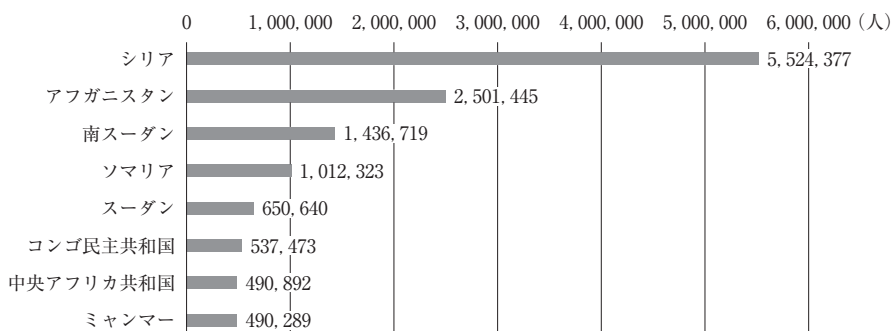
D にあてはまる選択肢

- ウ ドイツのみ累積債務残高(対 GDP 比)が 100 % を下回っていて，貿易黒字になっている
- エ ドイツの輸出額と輸入額は，他の 3 か国の輸出額・輸入額それぞれの 2 倍を上回っている

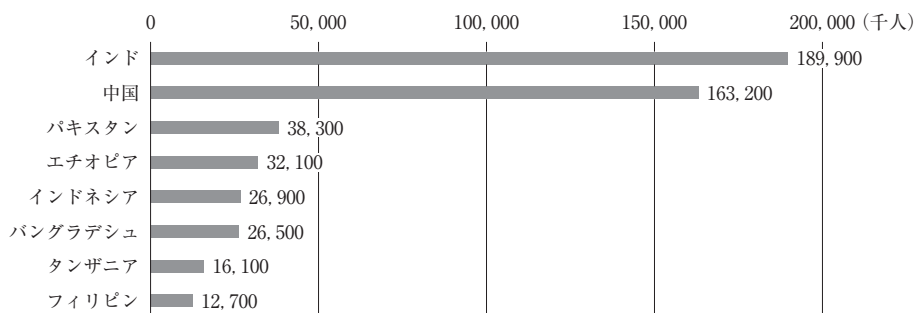
	C	D
①	ア	ウ
②	ア	エ
③	イ	ウ
④	イ	エ

問 3 下線部分^(c)世界の弱い立場にある人々のために働きかけるに関連して、次のページの会話文中の **E** , **F** , **G** , **H** にあてはまるグラフの組合せとして適切なものを、次のページの①～④のうちから一つ選べ。解答番号は **20** 。

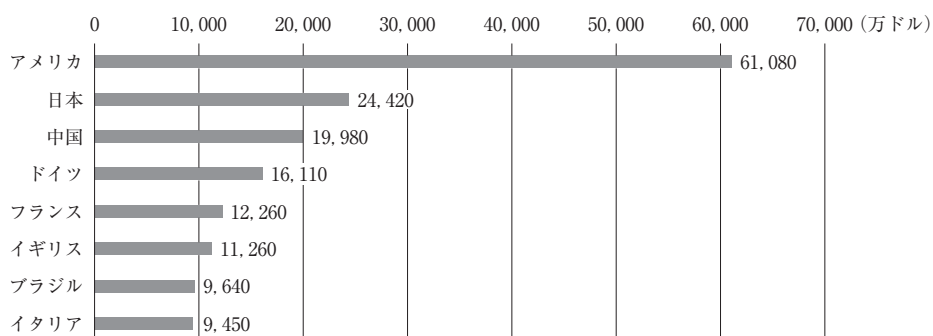
グラフ 1



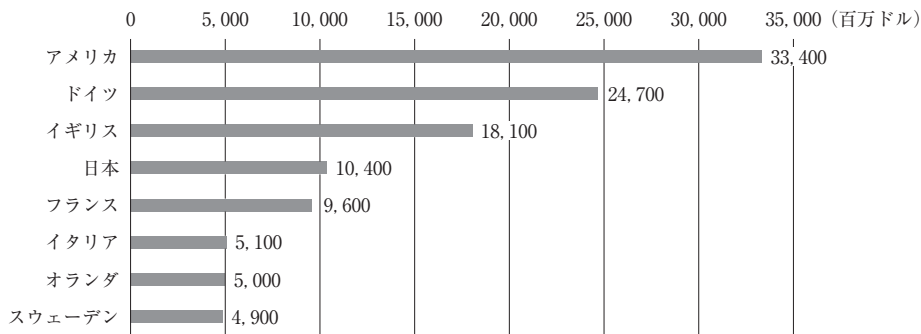
グラフ 2



グラフ 3



グラフ 4



(外務省ホームページなどにより作成)

会話文

ひろみ：グラフ 1，グラフ 2 のうち **E** は，開発途上地域における国別栄養不足人口(2010～2012 年の平均値)の上位 8 か国とその人数を，**F** は，難民及び難民と同じような危機にある人々の人口(2016 年末)の上位 8 か国とその人数を，それぞれ示したもののよ。

たろう：開発途上地域における国別栄養不足人口の上位 8 か国は，すべてがアジアかアフリカの国だね。その中に，経済成長が著しいといわれる BRICS や ASEAN の国が含まれていることが意外だった。

ひろみ：難民及び難民と同じような危機にある人々の人口上位 8 か国は，現在も内戦が継続中の国か，または 1990 年以降に内戦や紛争があった国ばかりね。地域別ではアフリカが一番多く，5 か国がアフリカの国よ。

たろう：グラフ 3，グラフ 4 のうち **G** は，途上国に対する援助総額(2016 年)の上位 8 か国とその金額を，**H** は，国連通常予算の分担金(2017 年)上位 8 か国とその金額を，それぞれ示したもののなんだ。

ひろみ：途上国に対する援助総額上位 8 か国は，すべてが OECD の加盟国ね。OECD は，世界中の人々の経済や社会福祉の向上に向けた政策を推進するために活動を行っている国際機関よ。

たろう：国連通常予算の分担金は，各国の GNI(国民総所得)の世界合計に対する各国の比率を基礎として，合意された一定の算出方法に従って調整等が加えられて決められるそうだよ。上位 8 か国に OECD 加盟国など先進国以外の新興国が入っているのは，近年新興国の GNI が増加していることを表しているのですね。

- | | | | | |
|---|----------|----------|----------|----------|
| | E | F | G | H |
| ① | グラフ 1 | グラフ 2 | グラフ 3 | グラフ 4 |
| ② | グラフ 1 | グラフ 2 | グラフ 4 | グラフ 3 |
| ③ | グラフ 2 | グラフ 1 | グラフ 3 | グラフ 4 |
| ④ | グラフ 2 | グラフ 1 | グラフ 4 | グラフ 3 |

問 4 下線部分外国人，また外国にルーツを持つ人々に関連して，次の表 2 とレポート中の
^(d)
，，， にあてはまる国(地域)の組合せとして適切なものを，下の①～④のうちから一つ選べ。解答番号は 。

表 2 日本における国籍・地域別在留外国人数の推移(人)

年次	国(地域) <input type="text" value="I"/>	<input type="text" value="J"/>	<input type="text" value="K"/>	<input type="text" value="L"/>	その他	総数
1950	544,903	40,481	367	169	12,776	598,696
1970	614,202	51,481	932	891	40,952	708,458
1990	687,940	150,339	49,092	56,429	131,517	1,075,317
2010	560,799	678,391	200,208	228,702	419,161	2,087,261
2015	491,711	714,574	229,595	173,437	622,872	2,232,189

(法務省ホームページにより作成)

レポート

は，1910 年から第二次世界大戦の終結まで，日本の植民地でした。その時代に日本への移住してきた人たちの中には，意思に反して連れて来られて働かされた人たちもいました。移住してきた人たちのうち，終戦後も日本に居住する人たちとその子孫は，1952 年以降は日本国籍を失って特別永住者となりました。 出身者の人口は，1970 年までは在留外国人の 80 % 以上を占めていましたが，その後は割合を減らしてきています。

は，一部の地域出身者には特別永住者もいますが，1990 年以降に来日した人数の伸びが顕著で，2015 年現在，在留外国人としては最大の人口となっています。その背景には，日本の経済大国化と人手不足に伴う労働力不足があると思われます。また からは，1980 年代以降，第二次世界大戦後の混乱の際に肉親と離れ離れになって現地人養父母に育てられた，いわゆる日本人残留孤児の家族として来日した人も含まれます。

は，1990 年以降の伸びが顕著であり，その背景には，日本の経済大国化と人手不足に伴う労働力不足があると思われます。この国は 2008 年に日本と経済連携協定(EPA)を締結し，それ以降は介護や看護などの専門職の人々が来日して活躍しています。

は，1900 年代から 1970 年代にかけて日本人が移住し，現在では，その子孫も含めると世界最大の日系人人口を持つ国です。入国管理に関する法律が改正・施行され，日系人の日本での就労が自由化された 1990 年以降は， からの日系人が労働力として受け入れられるようになりました。

- | | | | |
|--------------------------------|--------------------------------|--------------------------------|--------------------------------|
| <input type="text" value="I"/> | <input type="text" value="J"/> | <input type="text" value="K"/> | <input type="text" value="L"/> |
| ① 中国(台湾, 香港, マカオを含む) | 韓国, 朝鮮 | ブラジル | フィリピン |
| ② 韓国, 朝鮮 | 中国(台湾, 香港, マカオを含む) | フィリピン | ブラジル |
| ③ 中国(台湾, 香港, マカオを含む) | 韓国, 朝鮮 | フィリピン | ブラジル |
| ④ 韓国, 朝鮮 | 中国(台湾, 香港, マカオを含む) | ブラジル | フィリピン |

- 問 5 下線部分^(e)戦争や紛争のない世界をめざすに関連して、次のレポート中の **M** , **N** にあてはまるものの組合せとして適切なものを、下の①～④のうちから一つ選べ。
解答番号は **22** 。

レポート

ドイツの哲学者 **M** は、1795年に『永遠平和のために』を著しました。その中で彼は、どうすれば地球上から戦争をなくすことができるのか、という平和論を語りました。

M は、ふつうにいわれる「平和」というのは、戦争をしていない状態だと考えました。よって平和条約とは次の戦争を想定して結ばれるものであり、休戦条約に過ぎない。それに対して「永遠平和」とは、戦争をもたらす一切の敵対条約がなくなることを意味します。そして「永遠平和」は諸国家の連合によって創り出される、と述べたのです。

彼のこの思想は、第一次世界大戦後の1920年に創設された、国際連盟によって具現化されることになりました。また1928年には、戦争を違法化する不戦条約も結ばれました。第一次世界大戦の惨禍の後、歴史上初めて、国際社会が協力して戦争を防止するという動きが起こったのです。

しかし国際連盟は、第二次世界大戦の勃発を阻止することができませんでした。現在ではその原因として、アメリカなど主要国が参加しなかったことや、制裁を経済的方法に限っていたこと、議決の際に **N** など制度上の問題点が挙げられています。

このような反省を踏まえて、現在の国際連合が成立したのです。

M**N**

- | | | |
|---|--------|----------------------------------|
| ① | カント | 安全保障理事会における常任理事国5か国が、拒否権を有していたこと |
| ② | グロティウス | 安全保障理事会における常任理事国5か国が、拒否権を有していたこと |
| ③ | カント | 総会、理事会ともに、全会一致制を原則にしていたこと |
| ④ | グロティウス | 総会、理事会ともに、全会一致制を原則にしていたこと |

7 次の生徒の会話文を読んで、問1～問2に答えよ。

乙葉：「現代社会」の授業で先生が「これからは持続可能な社会について考えていくことが大切だ」って言っていたけれど、そもそも「持続可能」ってどういう意味なのかな。

海哉：僕も気になって、国連や外務省のホームページを調べてみたよ。どうやら、1987年に「環境と開発に関する世界委員会」の報告書で中心的に取り上げられた概念のようなんだ。そこで取り上げられていた「持続可能な開発」というのは、「将来の世代の欲求を満たしつつ、現在の世代の欲求も満足させる開発」と定義されていたよ。

秀樹：でも、僕らだってどうなるか分からないのに、まだ生まれてもいない人達のことを考えるなんて難しいなあ。ただ、地球の環境は守らなければ悪くなる一方だし、資源だって限りがあるしね。世界にはいまだに10億人以上の人々が貧困の中で暮らしているというし、経済をはじめ、格差や不公平、差別などは僕らも身近な問題として考えていかなければいけないと思う。

美咲：みんなはSDGsとよばれる「持続可能な開発目標」を知っているかしら？表1のとおり、17分野からなるグローバル目標のことなのだけど、2015年9月の国連サミットで、**A** すべての国連加盟国が全会一致で採択したと聞いたわ。SDGsの前身であるMDGs(ミレニアム開発目標)と違って、発展途上国だけでなく、先進国も取組む普遍的な目標という特徴があるみたい。

乙葉：持続可能な開発を行っていくための目標を、世界中で合意したなんて、素晴らしいことね。表1の目標1の「貧困をなくそう」、目標16の「平和と公正をすべての人に」はSDGsのスローガンである“Leave no one behind”(誰一人取り残さない)を実現するためにも、すぐにでも解決すべき課題よね。日本の取組み状況はどのようになっているのかしら。

美咲：それについては、興味深い資料を見つけたわ。表2とグラフ1は、SDGsの17分野からなるグローバル目標について、現在の取組み状況を表わした指標の一つなのだけど、表2からは**B** こと、グラフ1からは**C** ことが分かるわ。現在の日本の立場を確認するのは大切なことではないかしら。

海哉：なるほど、とても重要な視点だね。持続可能な社会へ向けて、僕たち自身が将来も住みたいと思える世界を地球規模で考えていくことが必要な時なのかもしれない。SDGs ^(a) につながる身近な行動について、僕らも具体的に考えてみよう。

表1 17の持続可能な開発のためのグローバル目標

目標1	貧困をなくそう	目標10	人や国の不平等をなくそう
目標2	飢餓をゼロに	目標11	住み続けられるまちづくりを
目標3	すべての人に健康と福祉を	目標12	つくる責任、つかう責任
目標4	質の高い教育をみんなに	目標13	気候変動に具体的な対策を
目標5	ジェンダー平等を実現しよう	目標14	海の豊かさを守ろう
目標6	安全な水とトイレを世界中に	目標15	陸の豊かさも守ろう
目標7	エネルギーをみんなにそしてクリーンに	目標16	平和と公正をすべての人に
目標8	働きがいも経済成長も	目標17	パートナーシップで目標を達成しよう
目標9	産業と技術革新の基盤をつくろう		

(国際連合広報センター Web ページにより作成)

表2 SDGs に向けた各国の取組み状況

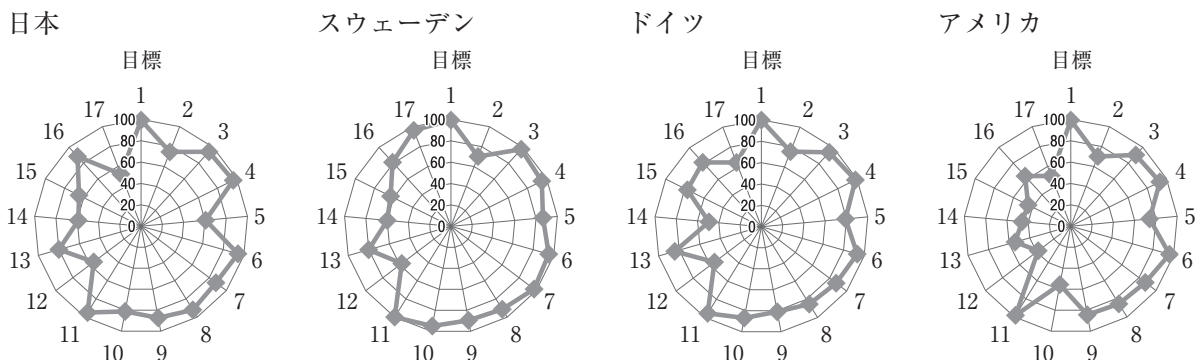
1～13位

順位	国名	総合スコア
1	スウェーデン	85.6
2	デンマーク	84.2
3	フィンランド	84.0
4	ノルウェー	83.9
5	チェコ	81.9
6	ドイツ	81.7
7	オーストリア	81.4
8	スイス	81.2
9	スロベニア	80.5
10	フランス	80.3
11	日本	80.2
12	ベルギー	80.0
13	オランダ	79.9

その他(抜粋)

順位	国名	総合スコア
31	韓国	75.5
42	アメリカ	72.4
55	タイ	69.5
61	シンガポール	69.0
71	中国	67.1
88	コロンビア	64.8
93	フィリピン	64.3
105	ネパール	61.6
116	インド	58.1
129	ウガンダ	52.9
139	スーダン	49.9
145	ナイジェリア	48.6
150	アフガニスタン	46.8

グラフ1 表1で示した17の持続可能な開発のためのグローバル目標に対する取組み状況の詳細



(注1) 表2の総合スコアおよびグラフ1の17の目標に対する取組みの最高スコアは、ともに100である。

(注2) グラフ1の1から17の数字は、表1の17の目標を示すものである。

(ベルテルスマン財団とSDSNによるSDGsの各国の取組み状況2017年版により作成)

問 1 会話文中の **A** , **B** , **C** にあてはまるものの組合せとして適切なものを、下の①～④のうちから一つ選べ。解答番号は **23** 。

A にあてはまる選択肢

- ア 193 か国
- イ 80 か国

B にあてはまる選択肢

- ウ 日本の総合スコアはスウェーデン、デンマークなどの北欧諸国には及ばないものの、アジア諸国の中では1位である
- エ 日本の総合スコアは2016年のGDPが世界第1位の国よりも10ポイント以上高く、また、同じく世界第2位の国よりも20ポイント以上高い数値を示している

C にあてはまる選択肢

- オ 日本は目標5の「ジェンダー平等を実現しよう」において、スウェーデン、ドイツ、アメリカと比べ最も低いスコアを示している
- カ 日本は目標12の「つくる責任、つかう責任」において、日本よりも総合スコアが高いスウェーデン、ドイツと比べいずれも20ポイント以上差がある

	A	B	C
①	ア	ウ	オ
②	ア	エ	カ
③	イ	エ	オ
④	イ	ウ	カ

問 2 下線部分^(a)SDGsにつながる身近な行動に関連して、次の会話文中 **D** , **E** にあてはまるものの組合せとして適切なものを、48 ページの①～④のうちから一つ選べ。
 解答番号は **24** 。

秀樹：みんなと話していたら、日本に住む僕らも持続可能な社会に向けてやるべきことがあることが分かってきたよ。具体的に自分たちのどのような行動が持続可能な社会の実現につながっているのだろう。

美咲：そうね、例えば私たちは日々、物やサービスを消費しているわよね。その背景に何かあるのかを理解して、環境や社会、地域に配慮してお金を使ったり、環境に配慮したエコなライフスタイルに近づけたりすることなどが考えられるのではないかしら。

海哉：途上国の労働環境改善や生活の向上を目指して、適正な価格で製品や原料を買い取るフェアトレードもその一つといえるよね。この前調べたら、フェアトレードの国内推定商品規模は2010年以降増え続けていて、2015年には100億円を超えたことが分かったよ。

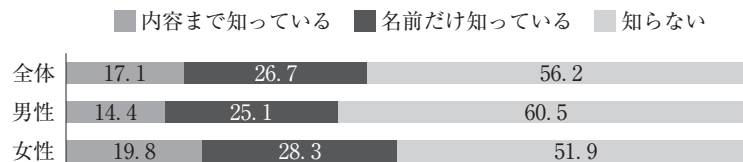
乙葉：確かに、最近スーパーやコンビニでも見かけるようになってきたわ。グラフ2、グラフ3をみると、**D** ことが分かるね。

秀樹：それに、グラフ4、グラフ5をみると、**E** ことが分かるね。フェアトレード商品を購入することの他にも、食べ残しをしないこと、無駄使いをしないこと、必要のない買い物はしないことなど、たくさんできることがありそうだね。


海哉：できることから始めていきたいな。

乙葉：そうね、まずSDGsについてしっかり学んで、理解を深めることが近道じゃないかしら。「現代社会」の授業から実際の社会に目を向けて、自分ができることから行動していこう。

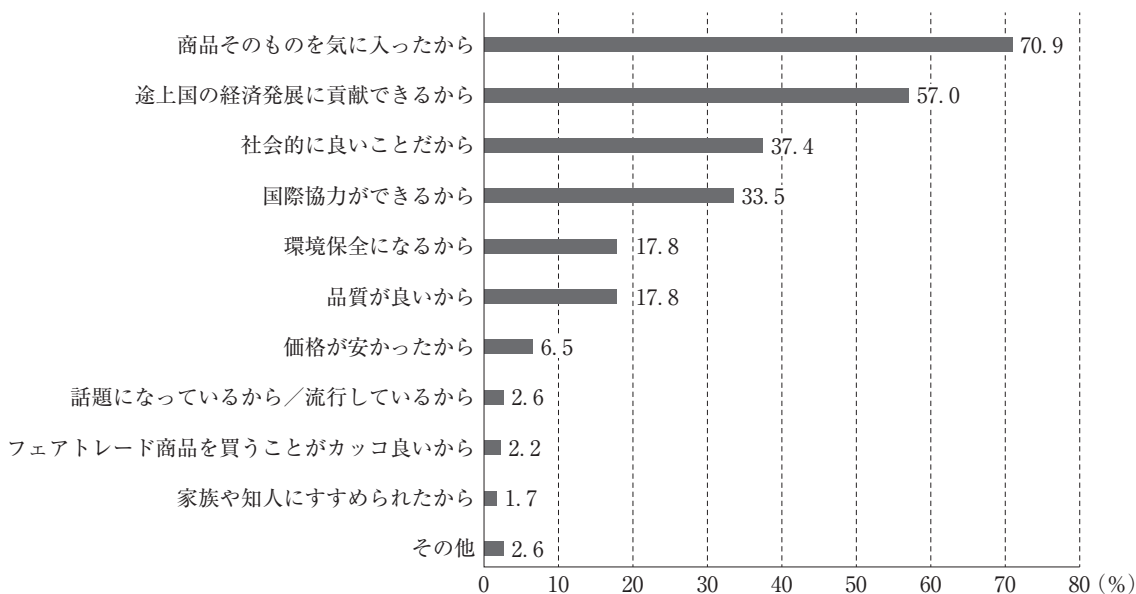
グラフ2 フェアトレードの認知度(%)



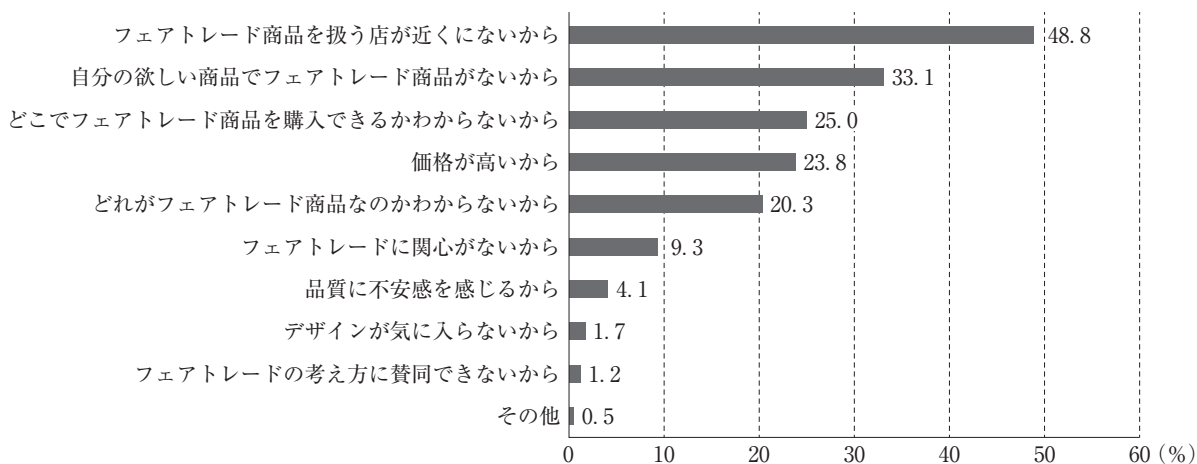
グラフ3 フェアトレード商品の購入経験有無(%)



グラフ4 フェアトレード商品を購入する理由(複数回答)



グラフ5 フェアトレード商品を購入しない理由(複数回答)



(注) グラフ3, 4, 5はグラフ2で「内容まで知っている」、「名前だけ知っている」と回答した人を対象としている。
 (NTTコムオンライン・マーケティング・ソリューション株式会社 フェアトレード商品に関する調査結果(2013年3月)により作成)

D にあてはまる選択肢

キ 全体では、フェアトレードについて、「内容まで知っている」、「名前だけ知っている」を合わせて半数以上が認知しており、「内容まで知っている」、「名前だけ知っている」を合わせた合計値を認知度としたとき、認知度、購入経験ともに女性よりも男性が高い

ク 全体では、フェアトレードについて、「内容まで知っている」、「名前だけ知っている」を合わせて43.8%が認知しており、「内容まで知っている」、「名前だけ知っている」を合わせた合計値を認知度としたとき、認知度、購入経験ともに男性よりも女性が高い

E にあてはまる選択肢

ケ フェアトレード商品を購入する理由として、「商品そのものを気に入ったから」に次いで、「途上国の経済発展に貢献できるから」が多く、また、フェアトレード商品を購入しない理由として、「フェアトレード商品を扱う店が近くにないから」が最も多い

コ フェアトレード商品を購入する理由として、「社会的に良いことだから」が最も多く、フェアトレード商品を購入しない理由として、「価格が高いから」に次いで、「自分の欲しい商品でフェアトレード商品がないから」が多い

	D	E
①	キ	ケ
②	キ	コ
③	ク	コ
④	ク	ケ

