

## 平成30年度 世界史A・世界史B (50分)

## 注 意 事 項

- 1 試験開始の合図があるまで、この問題冊子の中を見てはいけない。
- 2 出題科目、ページ及び選択方法は、下表のとおりである。

出題科目	ページ	選 択 方 法
世界史A	1～28	左の2科目のうちから1科目を選択し、解答しなさい。
世界史B	29～58	

- 3 試験中に問題冊子の印刷不鮮明、ページの落丁・乱丁及び汚れ等に気付いた場合は、手を挙げて監督者に知らせること。
- 4 試験開始の合図前に、監督者の指示に従って、解答用紙の該当欄に以下の内容をそれぞれ正しく記入し、マークすること。

## ・①氏名欄

氏名を記入すること。

## ・②受験番号、③生年月日、④受験地欄

受験番号、生年月日を記入し、さらにマーク欄に受験番号(数字)、生年月日(年号・数字)、受験地をマークすること。

## ・⑤解答科目欄

解答する科目名を○で囲み、さらにその下のマーク欄にマークすること。

- 5 受験番号、生年月日、受験地が正しくマークされていない場合は、採点できないことがある。
- 6 解答科目が正しくマークされていない場合は採点できないので、必ず正しくマークすること。
- 7 解答は、解答用紙の解答欄にマークすること。例えば、

10
----

と表示のある解答番号に対して②と解答する場合は、次の(例)のように解答番号10の解答欄の②にマークすること。

(例)

解答番号	解 答 欄
10	① ② ③ ④

- 8 問題冊子の余白等は適宜利用してよいが、どのページも切り離してはいけない。
- 9 試験終了後、問題冊子は持ち帰ってよい。

世界史 A

(解答番号  ~ )

1 次の文章と図版に関連して、問1～問2に答えよ。

高校生の富野さんは、グリーンランドの歴史について調べてパネルにまとめ、授業で発表した。

パネル

北大西洋に浮かぶグリーンランドは、世界最大の島である。先住民はイヌイットだが、10世紀に、大西洋に進出したスカンディナヴィア半島の人々によって、アイスランドに続けて「発見」<sup>(a)</sup>され、入植が行われた。入植地では農業・牧畜と漁業が営まれたが、しだいに維持が困難になり、15世紀末頃、ついに消滅した。その後、18世紀に、デンマーク人とノルウェー人(当時、ノルウェーはデンマーク領だった)によって再入植が行われ、それ以来デンマーク領となっている。



高橋さん： こんなに寒そうな地域なのに、どうして「グリーンランド」というのですか。

富野さん： 10世紀に「発見」したとき、移住希望者を少しでも集めようと、魅力的に見えるように、「緑の島」すなわちグリーンランドと名づけたといわれています。ですが、当時は現代よりも温暖で、実際に植生が豊かだったそうです。





高橋さん： それなのに、なぜ入植地が一度消滅したのですか。

富野さん： 世界的な寒冷化によって維持できなくなり、やがて入植地には誰もいなくなったそうです。<sup>(b)</sup> 気候の影響を受けやすい土地は、環境の変化に敏感なのですね。

問 1 下線部分<sup>(a)</sup>大西洋に進出したスカンディナヴィア半島の人々が海洋活動で用いた船の写真と、その説明との組合せとして正しいものを、次の①～④のうちから一つ選べ。

解答番号は 1。

( 実教出版 新版世界史A 新訂版 (B312) より )  
( 帝国書院 新詳世界史B (世B303) より )

	船の写真	説明
①		このような船を使って、ヴァイキング(ノルマン人)がヨーロッパ各地に侵入した。
②		このような船はムスリム商人が多く使い、この海域でモンズーンを利用して帆走した。
③		このような船を使って、ヴァイキング(ノルマン人)がヨーロッパ各地に侵入した。
④		このような船はムスリム商人が多く使い、この海域でモンズーンを利用して帆走した。

問 2 下線部分<sup>(b)</sup>世界的な寒冷化とあるが、14世紀には、気象・環境条件の悪化にともなって、世界各地で社会不安が発生した。この時期の社会不安の状況を調べるための資料として適切なものを、次の①～④のうちから一つ選べ。解答番号は 2。

- ① アイルランドで、ジャガイモの不作による飢饉が発生した地域を示した地図。
- ② ローマ帝国における、移動してきたゲルマン人諸部族の移動経路を示した図。
- ③ 株価の大暴落をきっかけとした大恐慌によって発生した失業者数のグラフ。
- ④ ヨーロッパにおける、黒死病(ペスト)の大流行による死者数の統計。

2 1～2の文章と図版に関連して、問1～問4に答えよ。

1 通貨の歴史は、紀元前にさかのぼることができる。紀元前18世紀頃、ハンムラビ王によって発布された<sup>(a)</sup>ハンムラビ法典には、銀での支払いについて多くの記述がある。紀元前6世紀頃には、リディアで金属のかたまりに打刻器をハンマーで押しつけたコインがつくられ、通貨として用いられた。<sup>(b)</sup>古代のローマ帝国では、英雄や皇帝の肖像を刻印したさまざまなコインが使用された。



ハンムラビ法典が刻まれた石柱

(「Photo © RMN-Grand Palais(musée du Louvre) / Franck Raux / distributedby AMF-DNPartcom」より)



リディアの打刻コイン

(実教出版「世界史B 新訂版」より)

問1 下線部分<sup>(a)</sup>ハンムラビ法典について述べた文として適切なものを、次の①～④のうちから一つ選べ。解答番号は **3**。

- ① 課税のため、すべての印刷物に印紙をはることを定めた。
- ② 法の下での平等をうたうなど、市民革命の成果を集成した。
- ③ 「目には目を、歯には歯を」という復讐法を原則とした。
- ④ 立法・行政・司法の三権分立を明記した。

問 2 下線部分**古代のローマの遺跡**と、古代ローマ文化の特徴について述べた文との組合せとして正しいものを、次の①～④のうちから一つ選べ。解答番号は 4。

( 帝国書院「明解世界史A」より )

	遺 跡	古代ローマ文化の特徴
①	 <p>コロッセウム</p>	死後の復活を信じて、ミイラが作られた。
②	 <p>コロッセウム</p>	水道橋・公共浴場・凱旋門が作られた。
③	 <p>ピラミッド</p>	死後の復活を信じて、ミイラが作られた。
④	 <p>ピラミッド</p>	水道橋・公共浴場・凱旋門が作られた。

2 古代の東アジアでは、青銅製の錢以外に布や黄金も通貨として使われていた。また、穀物などもしばしば通貨として機能した。戦国時代の中国では、有力な諸国がそれぞれ別々に錢を鑄造していた。そのなかでも半兩錢は、戦国諸国を滅ぼしていわゆる天下統一を達成した **A** で発行されたため、よく知られている。紀元前2世紀末の前漢では五銖錢が発行され、10世紀に建てられた宋では、年号を改めるごとに新貨幣が鑄造された。日本や朝鮮半島<sup>(c)</sup>でも、これらと同様の形の貨幣が多くつくられた。



半兩錢



五銖錢

(帝国書院「最新世界史図説タペストリー 十三訂版」より)

問 3 **A** に当てはまる王朝と、その王朝が滅亡した頃にモンゴル高原で勢力をもっていた騎馬遊牧民の国家との組合せとして正しいものを、次の①～④のうちから一つ選べ。

解答番号は **5** 。

	<b>A</b>	騎馬遊牧民の国家
①	秦	匈奴
②	秦	カルタゴ
③	隋	匈奴
④	隋	カルタゴ

問 4 下線部分朝鮮半島<sup>(c)</sup>の10世紀のようすについて述べた文として適切なものを、次の①～④のうちから一つ選べ。解答番号は **6** 。

- ① 阮朝が成立した。
- ② 太平天国が建てられた。
- ③ 金大中が、大統領となった。
- ④ 高麗が建国された。



3 1～2の文章と図版に関連して、問1～問5に答えよ。

1 資料1は、17世紀のヨーロッパと日本の貿易に関するものである。

資料1

マカオのポルトガル人が、中国人と協力して日本貿易を行おうと試みていることは明白です。…ポルトガル人は、ふたたび日本にきたいという希望を持ち続けており、彼らの王が日本に特別の使節を派遣してくるだろうと公言しています。…この先の状況がどうなるのか情報を集め、可能な限りあらゆる妨害策を講じてください。

また、もしイギリス人やデンマーク人がいつの日か日本に現れたら、日本人はどのように遇するつもりか探ってください。他の諸国民を排して、われわれだけが日本に渡航し貿易することができるよう取り計らうように。 **A** との排他的な関係が日本に安心と安らぎをもたらし、満足を与えるはずだ、と説明してください。

**A** 東インド総督から長崎の **A** 商館長にあてた書簡(1643年5月)



**A** 商館が描かれた長崎図屏風  
(東京法令出版「写真資料館 日本史のアーカイブ」より)



問 1 下線部分中国は、1644 年から清が統治するようになった。清について述べた文として適切なものを、次の①～④のうちから一つ選べ。解答番号は 。

- ① 諸子百家が活躍した。
- ② 重装歩兵を軍の主力とした。
- ③ 八旗とよばれる軍制をとった。
- ④ 国会議事堂放火事件がおこった。

問 2 16 世紀の宗教改革によって、下線部分イギリス人やデンマーク人、 人の中には、カトリックから新教に改宗する者も多かった。 に当てはまる国名と、新教徒の総称との組合せとして正しいものを、次の①～④のうちから一つ選べ。解答番号は 。

	<input type="text" value="A"/>	新教徒の総称
①	オランダ	ブルジョワジー
②	オランダ	プロテスタント
③	ロシア	ブルジョワジー
④	ロシア	プロテスタント

2 生徒と先生が、資料2を見ながら会話をしている。

生徒： これはオスマン帝国が、フランスに対して貿易の特権を認めた文書ですね。

先生： はい。カピチュレーションとよばれる特権を保障したものです。しかし、特権を認めたといっても、オスマン帝国の方が優位にあって、権利や安全を保障している、ということがわかる内容ですね。

生徒： 当時のオスマン帝国は、それほど強かったのですか。

先生： この条約を結んだのはセリム2世ですが、その父スレイマン1世は、オスマン帝国最盛期の君主といわれています。しばしば軍事力でヨーロッパ諸国を圧迫しました。

生徒： 当時は、イスラーム勢力が強大だったのですか。経済的にも豊かだったのですか。

先生： 国や地域にもよりますが、イランの **B** 朝では、16世紀末に新しい都となったイсфаハーンが、「世界の半分」といわれるほど繁栄したと伝えられています。

## 資料2

フランスおよびそれに従属する土地の商人たち、通訳たち、その他の人間たちは、海上・陸上を通じて、朕(君主)の神に守られたる諸国土に来て、売買や交易をし、次のようにすべし。通常の諸税を慣習と法令に従って支払った後は、来る時と去る時に、提督(カプダン)たち、海上を航行する船長たち、その他の者たち、兵士たちのうちのいかなる者も妨害しないように。彼ら自身、その物品や財産、人間たち、所持品に干渉しないように。



オスマン帝国時代に築かれたトプカプ宮殿の門

問 3 下線部分フランスで、17世紀後半、ルイ14世によって造営された宮殿を、次の①～④のうちから一つ選べ。解答番号は  。



① 円明園  
(第一学習社「高等学校 改訂版 世界史A」より)



② アルハンブラ宮殿



③ サン＝スーシ宮殿



④ ヴェルサイユ宮殿  
(第一学習社「高等学校 改訂版 世界史A」より)

問 4 下線部分スレイマン1世について述べた文として適切なものを、次の①～④のうちから一つ選べ。解答番号は  。

- ① 第1次ウィーン包囲を行った。
- ② ノルマンディー上陸作戦を行った。
- ③ ローマ進軍を行った。
- ④ ルール占領を行った。

問 5  に当てはまる王朝と、この王朝が国教としていたイスラーム教の宗派との組合せとして正しいものを、次の①～④のうちから一つ選べ。解答番号は  。

	<input type="text" value="B"/>	宗 派
①	サファヴィー	ジャコバン派
②	サファヴィー	シーア派
③	ヴァルダナ	ジャコバン派
④	ヴァルダナ	シーア派

4 1～2の文章と図版に関連して、問1～問6に答えよ。

1 生徒と先生が、図1と図2を見ながら会話している。

先生： 図1と図2は、ドイツの宰相であったビスマルクのことが題材になっています。この絵が意味していることがわかりますか。

生徒： いいえ、わかりません。これはいったい何のことが描かれているのですか。

先生： 図1は1884年9月にイギリスの雑誌に掲載されたもので、A ため、ドイツ・オーストリア＝ハンガリー・ロシアの3人の皇帝をビスマルクがあやつるさまが描かれており、図2は1890年3月に「水先案内人の下船」というタイトルで同様の雑誌に掲載されたものです。

生徒： では、図2で船を下りていくのもビスマルクですか。

先生： そうです。彼はバルカン半島をめぐる諸国の利害調整などに努めましたが、次第に皇帝と不和になり、1890年に宰相の座を降りることになったのです。

生徒： その後のドイツはどうなったのですか。

先生： ビスマルクの辞職後は皇帝が親政を行いました。他国との協調よりも世界政策を唱えて積極的に海外進出をはかったため、他のヨーロッパ諸国と対立していくことになるのです。

(図1・図2ともにアフロ「<https://punch.photoshelter.com>」より)



図1



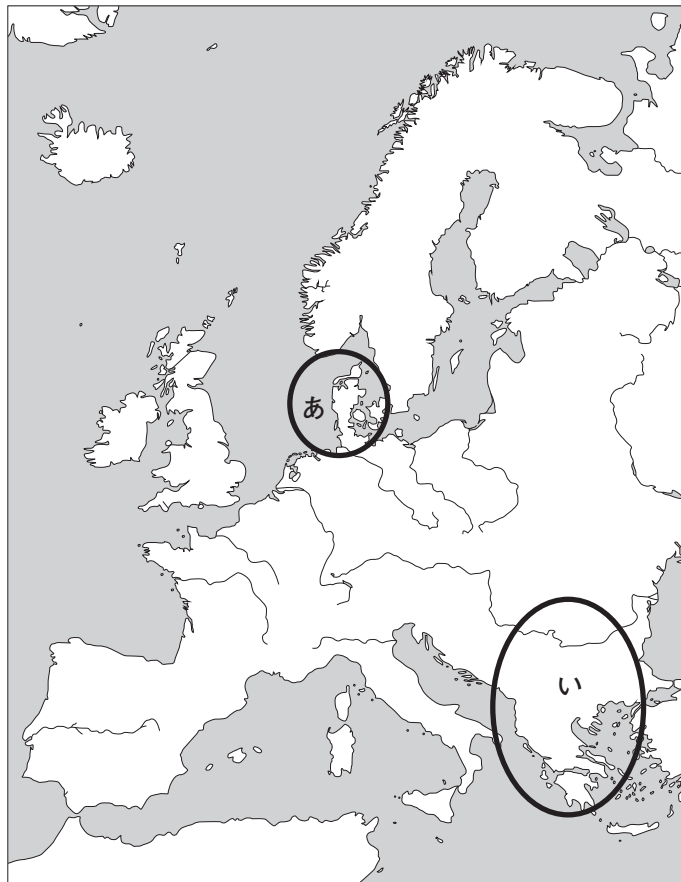
図2

問 1 A に当てはまる文として適切なものを、次の①～④のうちから一つ選べ。

解答番号は 12 。

- ① ドイツ農民戦争を終結させる
- ② ナントの勅令(王令)を廃止させる
- ③ フランスを孤立させる
- ④ ウェストファリア条約を結ぶ

問 2 下線部分(a)バルカン半島をめぐる諸国の利害調整に関連して、バルカン半島の略地図中のおよその位置と、ビスマルクが行った利害調整の結果との組合せとして正しいものを、下の①～④のうちから一つ選べ。解答番号は 13 。



	位置	ビスマルクが行った利害調整の結果
①	あ	ロシアの南下政策を阻止した。
②	あ	ハンザ同盟が結成された。
③	い	ロシアの南下政策を阻止した。
④	い	ハンザ同盟が結成された。

2 高校生の上田さんは、ハワイの歴史について調べ、次のカード1～カード5にまとめた。

カード1

(古代ポリネシア人が  
ハワイに到達した写  
真)

【紀元前 300～1300 年】 古代ポリネシア人がハワイに到達

マルサケス人たちが双胴船カヌーによってハワイに渡り、移住し始めます。後にタヒチ諸島から大勢の移住者が渡り、各島に住み始めました。

カード2

(ジェームズ=クック  
の写真)

【1778 年】 ジェームズ=クックがハワイに到達

1778 年にジェームズ=クックがオアフ島、カウアイ島に到達し、カウアイ島のワイメア=ベイに上陸しました。

カード3



【1810 年】 カメハメハ大王がハワイを統一

ハワイ諸島を初めて統一したハワイ島生まれのカメハメハ大王は、1810 年にハワイ王国を建国し、初代国王に即位しました。<sup>(c)</sup>優れた外交センスをもち、英米との友好関係を維持しながらハワイの独立を守り、ハワイ文化の保護と繁栄に貢献しました。

カード4 (ピシヨップ博物館「<https://www.aloha-program.com/curriculum/lecture/detail/26>」より)



【1894 年】 ハワイ共和国が成立

<sup>(d)</sup>リリウオカラニ女王は 1891 年の即位直後から、すでに衰退しつつあった王家の権威を取り戻そうと努力を重ねるもかなわず、退位を要請された 1894 年、ハワイ共和国が成立します。

カード5

(国旗の写真)

【1898 年】 アメリカ合衆国属領となる

<sup>(e)</sup>アメリカ=スペイン(米西)戦争をきっかけに、アメリカ合衆国は、軍事中継地点としてハワイの必要性を再認識し、ハワイを準州としてアメリカ合衆国に編入しました。この後、1959 年に全米で 50 番目の州となり、現在に至っています。

問 3 下線部分<sup>(b)</sup>ジェームズ＝クックは 18 世紀後半に、ハワイを含む太平洋地域の探検航海を数回行っている。彼の到達地の一つであるオーストラリアの 18 世紀後半から 19 世紀中頃のようすについて述べた文として適切なものを、次の①～④のうちから一つ選べ。

解答番号は  。

- ① スペインが、インディオとよばれた先住民を鉱山や農園の労働に酷使した。
- ② イギリスの流刑植民地となった。
- ③ プガチョフに率いられた大規模な農民反乱がおこった。
- ④ 北部の 7 州が、ユトレヒト同盟を結成した。

問 4 下線部分<sup>(c)</sup>1810 年について、1810 年代の世界のようすについて述べた文として適切なものを、次の①～④のうちから一つ選べ。解答番号は  。

- ① 朱元璋が、明を建国した。
- ② 神聖ローマ帝国では、三十年戦争が発生した。
- ③ コロンブスが、大西洋を横断した。
- ④ ウィーン会議が開かれ、ヨーロッパの秩序の回復が論議された。

問 5 下線部分<sup>(d)</sup>リリウオカラニ女王は、文化の面においても大きな足跡を残した。彼女が行ったことについて述べた文として適切なものを、次の①～④のうちから一つ選べ。

解答番号は  。

- ① 人物画である「モナ＝リザ」を描いたとされる。
- ② 叙事詩である『神曲』を著したとされる。
- ③ 後に国歌となった「ラ＝マルセイエーズ」を作曲したとされる。
- ④ 今も歌い継がれている「アロハ＝オエ」の作者とされる。

問 6 下線部分アメリカ＝スペイン(米西)戦争の結果、アメリカ合衆国はアジア地域に植民地をもつことになった。その植民地名(地名)と略地図中のおよその位置との組合せとして正しいものを、下の①～④のうちから一つ選べ。解答番号は 17。



	植民地名(地名)	位 置
①	フィリピン	あ
②	セイロン	あ
③	フィリピン	い
④	セイロン	い





5 1～2の文章と図版に関連して、問1～問7に答えよ。

1 第一次世界大戦は、**A** をきっかけに始まり、やがて総力戦となって植民地の人々も戦場に動員された。植民地側もまた、自治権の拡大や独立を期待して第一次世界大戦に協力する<sup>(a)</sup>ことがあった。

また、多くの男性が兵士として戦場に向かうなか、女性は産業労働に進出し、とりわけ軍需生産を支えた。この経験が、いくつかの国における第一次世界大戦後の女性参政権の承認につながったが、一方で女性の社会進出や政治参加をめぐる<sup>(b)</sup>様々な議論がおこった。その中では、女性が戦前のように家庭にいて、母として健康な子を産み育てることで、<sup>(c)</sup>社会の秩序は保たれるという偏見も強かった。この影響もあり、フランスにおける女性参政権は第二次世界大戦後まで認められなかった。女性参政権が認められた国においても、女性の政治参加は「子を育てる母の意見を届けるため」と強調されるが多かった。



ドイツにおける1919年の選挙で、女性に投票をよびかけるポスター  
 「子どもたちには平和とパンが必要です。さあ女性のみなさん、投票しましょう！」  
 (明石書店「世界の教科書シリーズ30 フランスの歴史」より)

問 1 **A** に当てはまる語句を，次の①～④のうちから一つ選べ。解答番号は **18** 。

- ① サライエヴォ事件
- ② 西安事件
- ③ 独ソ不可侵条約
- ④ 日独伊三国同盟

問 2 下線部分自治権の拡大や独立を期待して第一次世界大戦に協力した具体例について述べた文として適切なものを，次の①～④のうちから一つ選べ。解答番号は **19** 。

- ① 中国国民党と中国共産党との間に第1次国共合作が成立した。
- ② イランでは，タバコ=ボイコット運動がおこった。
- ③ 南アフリカのオランダ系住民が，南アフリカ戦争(ボーア戦争・ブール戦争)を戦った。
- ④ アラブ人が，フサイン=マクマホン協定を結んだ。

問 3 下線部分第一次世界大戦後のパリ講和会議の基礎となった方針として適切なものを，次の①～④のうちから一つ選べ。解答番号は **20** 。

- ① 95 か条の論題
- ② 十四カ条の平和原則
- ③ 八・一宣言
- ④ ポツダム宣言

問 4 次の資料は、下線部分女性の社会進出や政治参加をめぐる様々な議論の中の、当時の主張の一つである。資料の<sup>(c)</sup> **B** に当てはまる語句と、資料の主張を示す文との組合せとして適切なものを、下の①～④のうちから一つ選べ。解答番号は **21** 。

資料

帰還した兵士は、人けのない家を見て苦しむのではないだろうか。そこではもはや、大きな代償を払って獲得した自分の権威が認められていないのではないかと。…帰還するやいなや、もはや市民としての男性も女性もなく、法的に平等な二つの存在、二つの社会的単位があるだけだと、彼は知らされるのではないか。いままたその資格にふさわしいことを行ったばかりなのに、昔からの保護者の役割を失い、市民的・政治的な闘いを **B** とわかちあうことを耐え忍ばなければならないのではないか。いたるところで、女性は男性が狙っている職の好敵手、競争相手として存在し、女性はすでに有利にことを進めているのではないか。…女性を家庭に戻し、政治的闘争から引き離す。もし、これから約 20 年のあいだ、数十万人の男性を不要にしたくなければ、それこそが遂行すべき計画である。

(1918 年にフランスの雑誌に掲載された論説より)

	<b>B</b>	資料の主張
①	男性	女性の社会進出に賛成している。
②	男性	女性の社会進出に反対している。
③	女性	女性の社会進出に賛成している。
④	女性	女性の社会進出に反対している。

2 日本が、日露戦争後に満州に勢力を伸ばすと、中国進出をねらっていたアメリカ合衆国との間に対立が生じた。<sup>(d)</sup>そのため、多くの移民を受け入れていたアメリカ国内で、日本人移民に対する排斥運動が強まった。1924年には、日本人移民を事実上禁止する移民法が成立した。

一方、このような状況を不安に思ったアメリカ合衆国の人々が、日本の子どもたちに人形の贈り物をしようという活動をおこした。募金活動により、衣服もつくろった人形が12000体以上も集まり、1927年、朝鮮を含む各地の幼稚園や小学校に贈られた。子どもたちは、これを「青い目の人形」とよび、<sup>(e)</sup>喜んだ。いっしょに遠足に連れて行ったり、お礼の手紙を書いたりもしたようである。

しかし、1941年に日米が開戦し、第二次世界大戦で敵国同士となると、「青い目の人形」も敵に変わった。<sup>(f)</sup>その結果、竹槍訓練の的になるなどしたため、現存するものは少ない。



島根県浜田市立今福小学校に現存する「青い目の人形」  
(「<http://www.city.hamada.simane.jp/www/contents/1023000000008/index.html>」より)


問 5 下線部分<sup>(d)</sup>日露戦争の時期に東京で中国同盟会を結成した人物を、次の①～④のうちから一つ選べ。解答番号は  。



朴正熙



ホセ＝リサル



孫 文



ナセル

問 6 下線部分<sup>(e)</sup>朝鮮について、日本の統治下のようすについて述べた文として適切なものを、次の①～④のうちから一つ選べ。解答番号は  。

- ① 三・一独立運動がおこった。
- ② シパーヒー(セポイ)が反乱をおこした。
- ③ 清朝最後の皇帝だった溥儀を執政とした。
- ④ ラダイト運動がおこった。

問 7 下線部分<sup>(f)</sup>第二次世界大戦中の出来事について述べた文として適切なものを、次の①～④のうちから一つ選べ。解答番号は  。

- ① 血の日曜日事件が発生した。
- ② 大西洋憲章が発表された。
- ③ トラファルガーの海戦が行われた。
- ④ モンロー宣言が発表された。



6 1～2の文章と図版に関連して、問1～問6に答えよ。

1 生徒と先生が、写真を見ながら会話している。

生徒： この写真は、ベトナム戦争のときの写真ですね。教科書で見たことがあります。

先生： そうです。撮影したのは、<sup>(a)</sup>報道写真家の澤田教一<sup>さわだ きょういち</sup>さんで、当時、アメリカ合衆国の通信社に所属し、ベトナム戦争を取材していました。この写真は、すぐに全世界に配信され、日本の新聞にも掲載されました。

生徒： 川を渡って逃げる母と子の必死なようすが伝わってきます。

先生： 澤田さんは、この写真で、すぐれた写真報道などに贈られる<sup>(b)</sup>ピューリッツァー賞を受賞しました。しかし、自分が撮った母子がどうなったのか気になり、授賞式の後、捜し当てて、賞金の一部を見舞金として贈りました。

生徒： その後、澤田さんは、どんな活躍をしたのですか。

先生： 澤田さんは、「人々の暮らしの中にこそ真実がある。」と言っていたそうです。しかし、ベトナム戦争は、他の東南アジア地域にも拡大しました。澤田さんは、ベトナムの隣国<sup>(c)</sup>のカンボジアを取材中、銃撃されて亡くなりました。34歳でした。

生徒： 本当は平和な写真が撮りたかったのですね。



「安全への逃避」  
(山川出版社「戦場カメラマン沢田教一の眼」より)




問 1 下線部分<sup>(a)</sup>ベトナム戦争に関して、アメリカ合衆国がベトナムに軍事介入した理由と、アメリカ合衆国が支援した国との組合せとして正しいものを、次の①～④のうちから一つ選べ。  
解答番号は 25。

	軍事介入した理由	支援した国
①	共産主義が広がることを恐れたため。	パルティア(安息)
②	共産主義が広がることを恐れたため。	ベトナム共和国(南ベトナム)
③	大量破壊兵器を保持していると考えたから。	パルティア(安息)
④	大量破壊兵器を保持していると考えたから。	ベトナム共和国(南ベトナム)

問 2 下線部分<sup>(b)</sup>ピューリッツァー賞に関して、次の写真は、1992年に受賞(撮影は1991年)したシリーズ作品のうち2枚である。2枚の写真があらわしている出来事を、下の①～④のうちから一つ選べ。解答番号は 26。

(下記写真は、いずれも日経ナショナル・ジオグラフィック社「ピューリッツァー賞受賞写真全記録 第2版」より)



建国時の政治家の像を踏みつける人々



ゴルバチョフ大統領の辞任発表

- ① ユーゴスラヴィア連邦の解体
- ② ロシア革命
- ③ ソ連の解体
- ④ イラン革命

問 3 下線部分<sup>(c)</sup>東南アジアのベトナム戦争後のようすについて述べた文として適切なものを、次の①～④のうちから一つ選べ。解答番号は 27。

- ① ベトナムで、ドンズー(東遊)運動が始まった。
- ② 東ティモールが、インドネシアから独立した。
- ③ フランス領インドシナ連邦が成立した。
- ④ カンボジアで、アンコール=ワットが造営された。

2 高校生の前田さんは、世界史の授業でキング牧師について調べ、次の資料を作成して発表した。

資料

## I Have A Dream. キング牧師、夢を語る。

### バス = ボイコット運動 1955 年～56 年 アラバマ州モントゴメリー

アメリカ合衆国では、1950年代半ばから人種差別撤廃運動が盛んになった。1955年、ローザ＝パークスという黒人女性が、白人にバスの席を譲らなかったという理由で逮捕された。黒人たちは、バスの座席が人種によって分離されていることに抗議し、バス＝ボイコット運動を展開した。この運動を指導したのが、キング牧師だった。翌年、最高裁は、モントゴメリーの人種隔離政策を違憲とする判決を下し、キングたちの運動は勝利した。

### 「私には夢がある」1963年 ——ワシントン大行進の演説——

1963年8月、人種の垣根を越えて約20万人が首都ワシントンを行進し、人種差別撤廃運動は最高潮に達した。

非暴力的な方法で人種統合をめざすキング牧師は、「私には夢がある。…私の子どもたちが、肌の色ではなく、人格で評価される国にいつか住めるようになる、という夢が。」と演説し、人々の共感を集めた。

翌1964年、画期的な公民権法が成立し、<sup>(d)</sup>キング牧師はノーベル平和賞を受賞した。しかし、1968年メンフィスで暗殺された。<sup>(e)</sup>



モントゴメリーのバスに乗るローザ＝パークス  
(日経ナショナル・ジオグラフィック社「ビジュアル1001の出来事でわかる世界史」より)

- 1863 奴隷解放宣言
- 1896 最高裁判決「分離すれども平等」
- 1954 ブラウン判決  
公立校での人種分離教育は違憲
- 1955 バス＝ボイコット運動始まる
- 1963 ワシントン大行進  
キング牧師「私には夢がある」
- 1964 公民権法成立
- 1968 キング牧師暗殺



演説するキング牧師  
(山川出版社「現代の世界史 改訂版(世A315)」より)

問 4 前田さんが作成した資料から読み取れないことを、次の①～④のうちから一つ選べ。

解答番号は  。

- ① キング牧師は、ワシントン大行進の演説の後、ノーベル平和賞を受賞した。
- ② ワシントン大行進は、奴隷解放宣言から 100 年後に行われた。
- ③ キング牧師は、バス＝ボイコット運動を指導した。
- ④ ジョンソン大統領は、キング牧師の運動を支持した。

問 5 下線部分公民権法の内容について述べた文として適切なものを、次の①～④のうちから一つ選べ。解答番号は  。

- ① 教育や公共施設における人種差別を禁止した。
- ② 私有財産制の廃止を唱えた。
- ③ 人種差別の撤廃などをめざす平和十原則が定められた。
- ④ 失業者救済のための公共事業を実施した。

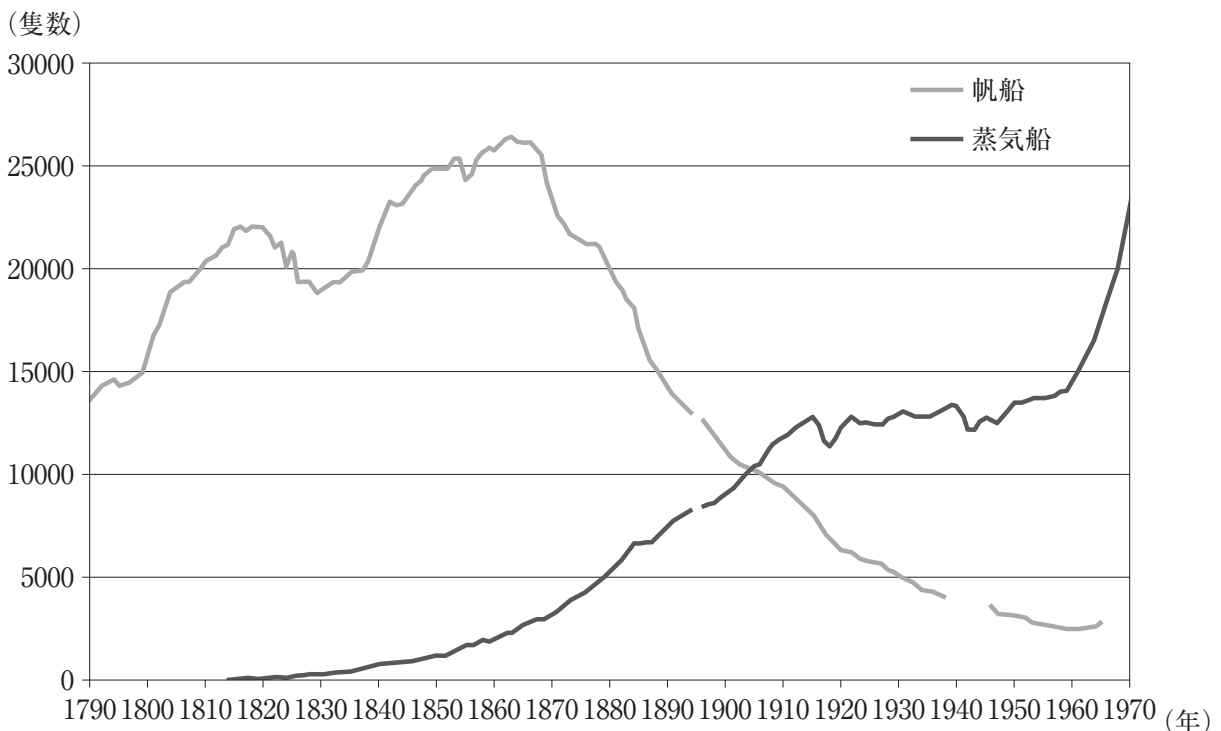
問 6 下線部分 1968 年におきた出来事について述べた、次の説明文中の  に当てはまる都市と、 に当てはまる語句との組合せとして正しいものを、下の①～④のうちから一つ選べ。解答番号は  。

チェコスロヴァキアでは、「人間の顔をした社会主義」をめざす政治経済の改革が始まり、「 の春」とよばれた。しかし、 の介入により改革は挫折した。

	<input type="text" value="A"/>	<input type="text" value="B"/>
①	マドリード	8カ国連合軍
②	マドリード	ワルシャワ条約機構軍
③	プラハ	8カ国連合軍
④	プラハ	ワルシャワ条約機構軍

7 次の文章と図版に関連して、問1～問2に答えよ。

次のグラフは、1790年から1970年までのイギリスの登録商船における帆船と蒸気船(1923年以降は発動機船との合計)の数を示している。産業革命の特徴の一つとして、動力源の開発がある。新しい動力源は、**A**を燃料とする蒸気機関であった。この動力源は、工場だけでなく、移動手段にも利用され、19世紀前半には蒸気船も実用化された。とはいうものの、グラフからわかるように、船の数で見ると、**B**。帆船は、産業革命期においても改良が進められ、クリッパーとよばれる高速帆船が登場したことで、登録数から見ると19世紀後半に帆船が全盛期を迎えた。蒸気船が実用化されたからといって、いきなり帆船にとってかわったわけではないのである。



グラフの欠けている部分はデータなし。  
 (『マクミラン ヨーロッパ歴史統計 1750～1993』により作成)

グラフ

問1 **A**に当てはまる語句と、**B**に当てはまる文との組合せとして正しいものを、次の①～④のうちから一つ選べ。解答番号は **31**。

	<b>A</b>	<b>B</b>
①	石炭	19世紀半ばに、蒸気船が帆船を追い抜いた
②	石炭	20世紀初頭まで、帆船は蒸気船を上回り続けた
③	石油	19世紀半ばに、蒸気船が帆船を追い抜いた
④	石油	20世紀初頭まで、帆船は蒸気船を上回り続けた

問 2 下線部分<sup>(a)</sup> 19 世紀後半に帆船が全盛期を迎えたが、この時期、ある商品を運ぶスピードを競うことで帆船の技術革新が進んだ。帆船によるその商品の輸送について述べた文として最も適切なものを、次の①～④のうちから一つ選べ。解答番号は 32。

- ① メキシコからスペインへ、銀を運んだ。
- ② 日本からアメリカ合衆国へ、自動車を運んだ。
- ③ 中国から日本へ、銅銭を運んだ。
- ④ 中国からイギリスへ、茶を運んだ。

(これで世界史 A の問題は終わりです。)

世 界 史 B

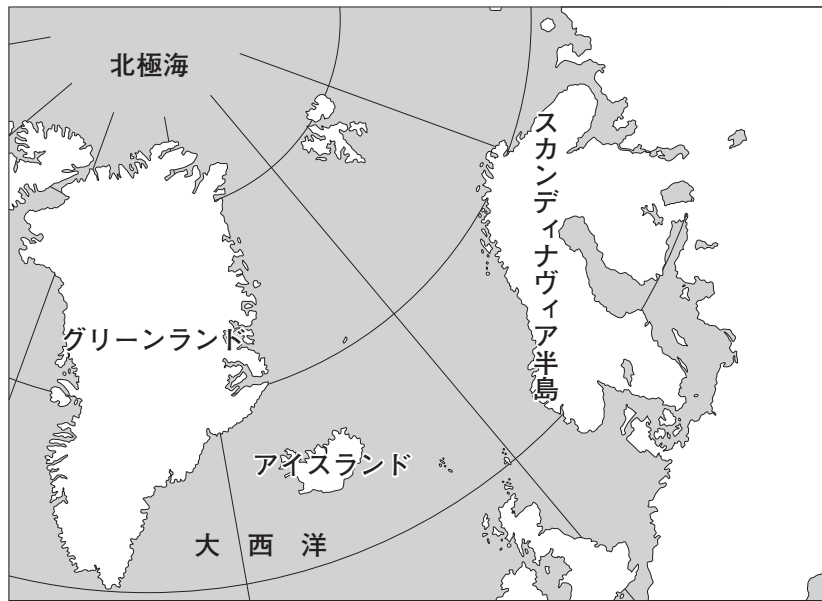
( 解答番号  ~  )

**1** 次の文章と図版に関連して、問1～問2に答えよ。

高校生の富野さんは、グリーンランドの歴史について調べてパネルにまとめ、授業で発表した。

パネル

北大西洋に浮かぶグリーンランドは、世界最大の島である。先住民はイヌイットだが、10世紀に、大西洋に進出したスカンディナヴィア半島の人々によって、アイスランドに続けて「発見」<sup>(a)</sup>され、入植が行われた。入植地では農業・牧畜と漁業が営まれたが、しだいに維持が困難になり、15世紀末頃、ついに消滅した。その後、18世紀に、デンマーク人とノルウェー人(当時、ノルウェーはデンマーク領だった)によって再入植が行われ、それ以来デンマーク領となっている。



高橋さん： こんなに寒そうな地域なのに、どうして「グリーンランド」というのですか。





富野さん： 10世紀に「発見」したとき、移住希望者を少しでも集めようと、魅力的に見えるように、「緑の島」すなわちグリーンランドと名づけたといわれています。ですが、当時は現代よりも温暖で、実際に植生が豊かだったそうです。

高橋さん： それなのに、なぜ入植地が一度消滅したのですか。

富野さん： 世界的な寒冷化によって維持できなくなり、やがて入植地には誰もいなくなったそうです。<sup>(b)</sup> 気候の影響を受けやすい土地は、環境の変化に敏感なのですね。

問 1 下線部分<sup>(a)</sup>大西洋に進出したスカンディナヴィア半島の人々が海洋活動で用いた船の写真と、その説明との組合せとして正しいものを、次の①～④のうちから一つ選べ。

解答番号は 1。 ( 実教出版「新版世界史A 新訂版(世B312)」より )  
( 帝国書院「新詳世界史B(世B303)」より )

	船の写真	説明
①		このような船を使って、ヴァイキング(ノルマン人)がヨーロッパ各地に侵入した。
②		このような船はムスリム商人が多く使い、この海域でモンズーンを利用して帆走した。
③		このような船を使って、ヴァイキング(ノルマン人)がヨーロッパ各地に侵入した。
④		このような船はムスリム商人が多く使い、この海域でモンズーンを利用して帆走した。

問 2 下線部分<sup>(b)</sup>世界的な寒冷化とあるが、14世紀には、気象・環境条件の悪化にともなって、世界各地で社会不安が発生した。この時期の社会不安の状況を調べるための資料として適切なものを、次の①～④のうちから一つ選べ。解答番号は 2。

- ① アイルランドで、ジャガイモの不作による飢饉が発生した地域を示した地図。
- ② ローマ帝国における、移動してきたゲルマン人諸部族の移動経路を示した図。
- ③ 株価の大暴落をきっかけとした大恐慌によって発生した失業者数のグラフ。
- ④ ヨーロッパにおける、黒死病(ペスト)の大流行による死者数の統計。

2 1～3の文章と図版に関連して、問1～問8に答えよ。

1 通貨の歴史は、紀元前にさかのぼることができる。紀元前18世紀頃、ハンムラビ王によって発布されたハンムラビ法典<sup>(a)</sup>には、銀での支払いについて多くの記述がある。紀元前6世紀頃には、リディアで金属のかたまりに打刻器をハンマーで押しつけたコイン<sup>(b)</sup>がつくられ、通貨として用いられた。古代のローマ帝国では、英雄や皇帝の肖像を刻印したさまざまなコインが使用された。



ハンムラビ法典が刻まれた石柱

(「Photo © RMN-Grand Palais(musée du Louvre) / Franck Raux / distributed by AMF-DNPartcom」より)



リディアの打刻コイン

(実教出版「世界史B 新訂版」より)

問1 下線部分ハンムラビ法典<sup>(a)</sup>について述べた文として適切なものを、次の①～④のうちから一つ選べ。解答番号は **3**。

- ① 課税のため、すべての印刷物に印紙をはることを定めた。
- ② 法の下での平等をうたうなど、市民革命の成果を集成した。
- ③ 「目には目を、歯には歯を」という復讐法を原則とした。
- ④ 立法・行政・司法の三権分立を明記した。



問 2 下線部分**古代のローマの遺跡**と、古代ローマ文化の特徴について述べた文との組合せとして正しいものを、次の①～④のうちから一つ選べ。解答番号は 4。

( 帝国書院「明解 世界史A」より )

B

	遺 跡	古代ローマ文化の特徴
①	 <p>コロッセウム</p>	死後の復活を信じて、ミイラが作られた。
②	 <p>コロッセウム</p>	水道橋・公共浴場・凱旋門が作られた。
③	 <p>ピラミッド</p>	死後の復活を信じて、ミイラが作られた。
④	 <p>ピラミッド</p>	水道橋・公共浴場・凱旋門が作られた。

2 古代の東アジアでは、青銅製の錢以外に布や黄金も通貨として使われていた。また、穀物などもしばしば通貨として機能した。戦国時代の中国では、有力な諸国がそれぞれ別々に錢を鑄造していた。そのなかでも半兩錢は、戦国諸国を滅ぼしていわゆる天下統一を達成した **A** で発行されたため、よく知られている。紀元前2世紀末の前漢では五銖錢が発行され、10世紀に建てられた宋では、年号を改めるごとに新貨幣が鑄造された。日本や朝鮮半島<sup>(c)</sup>でも、これらと同様の形の貨幣が多くつくられた。



半兩錢



五銖錢

(帝国書院「最新世界史図説タペストリー 十三訂版」より)

問 3 **A** に当てはまる王朝と、その王朝が滅亡した頃にモンゴル高原で勢力をもっていた騎馬遊牧民の国家との組合せとして正しいものを、次の①～④のうちから一つ選べ。

解答番号は **5** 。

	<b>A</b>	騎馬遊牧民の国家
①	秦	匈奴
②	秦	カルタゴ
③	隋	匈奴
④	隋	カルタゴ

問 4 下線部分朝鮮半島<sup>(c)</sup>の10世紀のようすについて述べた文として適切なものを、次の①～④のうちから一つ選べ。解答番号は **6** 。

- ① 阮朝が成立した。
- ② 太平天国が建てられた。
- ③ 金大中が、大統領となった。
- ④ 高麗が建国された。

## 3 地図を見ながら、生徒と先生が会話している。

生徒： お金には、いろいろな種類がありますね。

先生： 種類によってその歴史も様々です。古代ローマの硬貨が、東南アジア地域において地図中のあで出土<sup>(d)</sup>しています。硬貨はかなり古くから使われていました。

生徒： ローマからずいぶん離れた地域で、硬貨が見つっていますね。同様にローマの硬貨が出土した南インドでは、サータヴァーハナ朝の時代に **B** ことを授業で学習しました。

先生： 製紙や印刷の技術がすすんでからは紙幣も使われました。

生徒： モンゴル帝国で発行された紙幣<sup>(e)</sup>や日本の江戸時代に使われた藩札が思い浮かびます。

先生： 硬貨や紙幣以外に、イギリス領の北米13植民地ではビーバーの毛皮を通貨として認めていたそうです。また、中央アメリカのマヤ文明<sup>(f)</sup>が栄えた地域では、カカオが通貨として流通していました。ほかの通貨の種類も、調べてみるとよいでしょう。



地図

問 5 下線部分<sup>(d)</sup>東南アジア地域において地図中のあで出土したとあるが、あの地域に1世紀末頃に建てられた国を、次の①～④のうちから一つ選べ。解答番号は 

7
---

。

- |          |          |
|----------|----------|
| ① 扶南     | ② アクスム王国 |
| ③ フランク王国 | ④ 渤海     |

問 6 

B
---

 に当てはまる文として適切なものを、次の①～④のうちから一つ選べ。

解答番号は 

8
---

。

- ① インカ帝国が、スペインに滅ぼされた
- ② 全国の要地を結ぶ「王の道」が建設された
- ③ キリシト教が国教とされた
- ④ 季節風を利用した海洋交易が盛んとなった

問 7 下線部分<sup>(e)</sup>モンゴル帝国で発行された紙幣の名称と、その紙幣について述べたマルコ＝ポーロの旅行記とされる次の資料との組合せとして正しいものを、下の①～④のうちから一つ選べ。解答番号は 

9
---

。

資料

カンバルクの町には大カーンの造幣所がある。…すなわち、彼(大カーン)はまず木の樹皮を採取させる。…この木の外側の厚い樹皮と内側の木質部のあいだにある、白くて繊細な樹皮を取り出すと、この繊細で紙のような樹皮から真っ黒な紙を作る。…これらの証書にはすべて大カーンの<sup>いんじ</sup>印璽が押されている。大カーンはこうして毎年、なんら出費を強いられずに、この世のあらゆる財宝を<sup>あがな</sup>購い得るほどの膨大な量の証書をつくらせるのだ。こうして証書が作られると、大カーンの支払いはすべてこれによってなされる。

	紙幣の名称	資料
①	竹簡	『世界の記述(東方見聞録)』
②	竹簡	『漢書』
③	交鈔	『世界の記述(東方見聞録)』
④	交鈔	『漢書』

問 8 下線部分<sup>(f)</sup>マヤ文明について述べた文として適切なものを、次の①～④のうちから一つ選べ。解答番号は 。

- ① モスクで礼拝が行われた。
- ② トウモロコシが栽培された。
- ③ 馬に騎乗する技術が開発された。
- ④ ヴェーダが編纂された。

B

3 1～2の文章と図版に関連して、問1～問5に答えよ。

1 資料1は、17世紀のヨーロッパと日本の貿易に関するものである。

資料1

マカオのポルトガル人が、中国人と協力して日本貿易を行おうと試みていることは明白です。…ポルトガル人は、ふたたび日本に來たいという希望を持ち続けており、彼らの王が日本に特別の使節を派遣してくるだろうと公言しています。…この先の状況がどうなるのか情報を集め、可能な限りあらゆる妨害策を講じてください。

また、もしイギリス人やデンマーク人がいつの日か日本に現れたら、日本人はどのように遇するつもりか探ってください。他の諸国民を排して、われわれだけが日本に渡航し貿易することができるよう取り計らうように。 **A** との排他的な関係が日本に安心と安らぎをもたらし、満足を与えるはずだ、と説明してください。

**A** 東インド総督から長崎の **A** 商館長にあてた書簡(1643年5月)



**A** 商館が描かれた長崎図屏風

(東京法令出版「写真資料館 日本史のアーカイブ」より)

問 1 下線部分中国は、1644 年から清が統治するようになった。清について述べた文として適切なものを、次の①～④のうちから一つ選べ。解答番号は 。

- ① 諸子百家が活躍した。
- ② 重装歩兵を軍の主力とした。
- ③ 八旗とよばれる軍制をとった。
- ④ 国会議事堂放火事件がおこった。

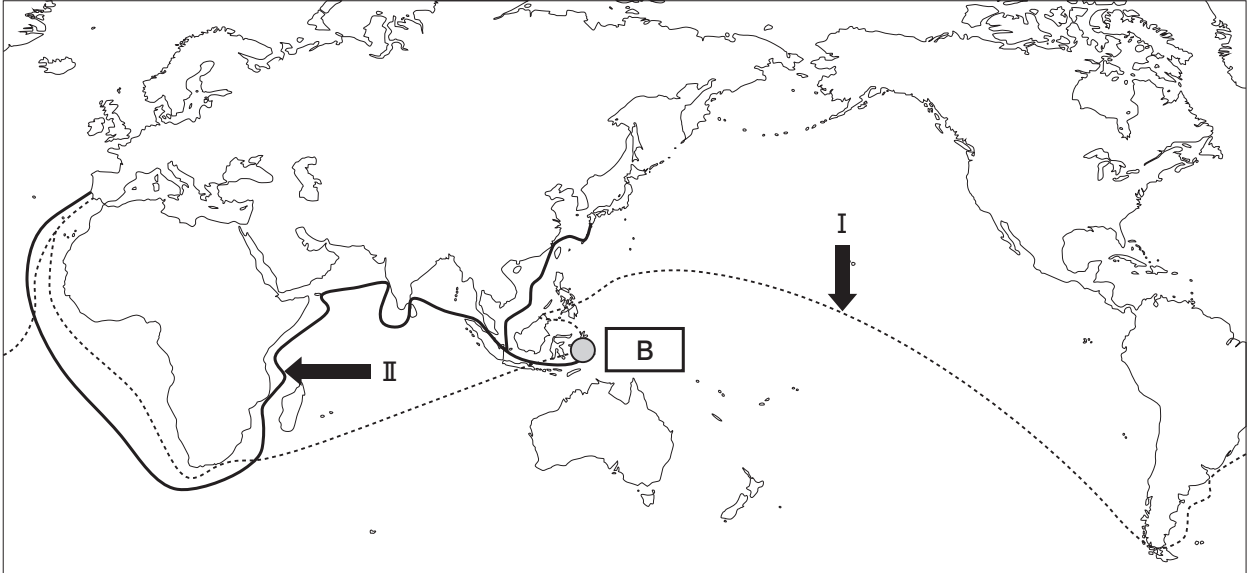
問 2 16 世紀の宗教改革によって、下線部分イギリス人やデンマーク人、 人の中には、カトリックから新教に改宗する者も多かった。 に当てはまる国名と、新教徒の総称との組合せとして正しいものを、次の①～④のうちから一つ選べ。解答番号は 。

	<input type="text" value="A"/>	新教徒の総称
①	オランダ	ブルジョワジー
②	オランダ	プロテスタント
③	ロシア	ブルジョワジー
④	ロシア	プロテスタント

B

2 高校生の三浦さんは、次の地図とレポートを作成した。地図中のⅠはマゼラン一行の航路、Ⅱはザビエルの航路を表している。

地図



レポート

マゼラン一行は、マゼランが戦死した後、生き残った少数の船員たちが、略地図中に○  
で示される **B** に立ち寄り、スペインへと帰還している。

ザビエルは、日本来航以前に、インドなどでの布教を経て、**B** での布教を1年以上も  
行っている。この地は、香料諸島ともよばれ、香辛料の中でもクローヴ(丁子)などの  
特産地として知られていた。ここは、当時のヨーロッパ人にとって、とても重要な場所  
であったと考えられる。



**B** の中心都市アンボン

(Garuda Orient Holidays Japan 「<http://indonesia-corner.com/sightseeing/>」より)



問 3 地図およびレポート中の **B** に当てはまる地名と、資料 2 から読み取ることができる事柄との組合せとして正しいものを、下の①～④のうちから一つ選べ。解答番号は **13**。

資料 2 16 世紀初頭、ポルトガルのリスボンでの香辛料販売価格の算定額(約 50 kg 当たり)

香辛料の種類・産地	仕入れ価格+輸送費用	リスボンでの販売価格
コショウ(南インド産など)	6.08 クルザード*	22 クルザード
クローヴ( <b>B</b> 特産)	10.58 クルザード	60~65 クルザード

\* 15 世紀後半に発行されたポルトガルの金貨

	<b>B</b>	事 柄
①	モルッカ諸島	同じ重さでは、コショウよりクローヴの方が、リスボンで販売した時の利益が大きい。
②	マリアナ諸島	同じ重さでは、コショウよりクローヴの方が、リスボンで販売した時の利益が大きい。
③	モルッカ諸島	同じ重さでは、クローヴよりコショウの方が、リスボンで販売した時の利益が大きい。
④	マリアナ諸島	同じ重さでは、クローヴよりコショウの方が、リスボンで販売した時の利益が大きい。

問 4 下線部分スペインは、16世紀半ばに即位した国王の下で、オスマン帝国海軍をレパントの海戦で破った。この国王を、次の①～④のうちから一つ選べ。解答番号は  。



エリザベス1世



ラ＝ファイエット



フェリペ2世



カール大帝

( 帝国書院「最新世界史図説タペストリー 十五訂版」より )  
( 山川出版社「改訂版 世界の歴史 世界史A」より )

問 5 下線部分インドについて、ムガル帝国第3代皇帝アクバルの政策を、次の①～④のうちから一つ選べ。解答番号は  。

- ① ベンガル分割令を出した。
- ② 穀物法を廃止した。
- ③ 農奴解放令を出した。
- ④ 人頭税(ジズヤ)を廃止した。



4 1～2の文章と図版に関連して、問1～問4に答えよ。

1 生徒と先生が、図1と図2を見ながら会話している。

先生： 図1と図2は、ドイツの宰相であったビスマルクのことが題材になっています。この絵が意味していることがわかりますか。

生徒： いいえ、わかりません。これはいったい何のことが描かれているのですか。

先生： 図1は1884年9月にイギリスの雑誌に掲載されたもので、A ため、ドイツ・オーストリア＝ハンガリー・ロシアの3人の皇帝をビスマルクがあやつるさまが描かれており、図2は1890年3月に「水先案内人の下船」というタイトルで同様の雑誌に掲載されたものです。

生徒： では、図2で船を下りていくのもビスマルクですか。

先生： そうです。彼はバルカン半島をめぐる諸国の利害調整などに努めましたが、次第に皇帝と不和になり、1890年に宰相の座を降りることになったのです。

生徒： その後のドイツはどうなったのですか。

先生： ビスマルクの辞職後は皇帝が親政を行いました。他国との協調よりも世界政策を唱えて積極的に海外進出をはかったため、他のヨーロッパ諸国と対立していくことになるのです。

(図1・2ともにアフロ「<https://punch.photoshelter.com>」より)



図1



図2

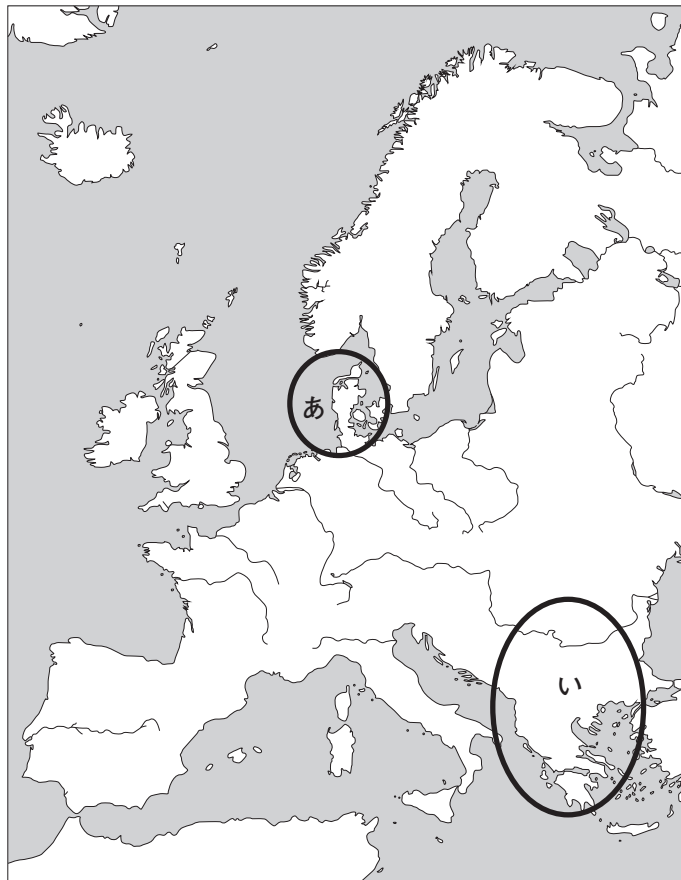
問 1 A に当てはまる文として適切なものを、次の①～④のうちから一つ選べ。

解答番号は 16 。

- ① ドイツ農民戦争を終結させる
- ② ナントの勅令(王令)を廃止させる
- ③ フランスを孤立させる
- ④ ウェストファリア条約を結ぶ

B

問 2 下線部分(a)バルカン半島をめぐる諸国の利害調整に関連して、バルカン半島の略地図中のおよその位置と、ビスマルクが行った利害調整の結果との組合せとして正しいものを、下の①～④のうちから一つ選べ。解答番号は 17 。



	位 置	ビスマルクが行った利害調整の結果
①	あ	ロシアの南下政策を阻止した。
②	あ	ハンザ同盟が結成された。
③	い	ロシアの南下政策を阻止した。
④	い	ハンザ同盟が結成された。

2 高校生の浅沼さんは、歴史の学習で気になったことについて調べ、カード1～カード2にまとめた。

カード1



フレデリック＝フランソワ＝ショパンは、1810年にポーランドのワルシャワで生まれた。彼はフランスで七月革命が発生した直後にパリに向かい、その途中でポーランド蜂起に共鳴して「エチュード(ハ短調)<sup>(b)</sup>」を作曲したとされる。フランスの二月革命後にこの世を去ったが、祖国への思いをピアノに託し、民族舞曲のリズムや様式を用いて作曲を行った人物であった。

(写真：帝国書院「明解 世界史A(世A314)」より)

カード2



1868年から1910年まで **B** の国王であったラーマ5世(チュラロンコーン王)は、西欧を視察して近代化の必要性を痛感し、強力な指導力を発揮して広範な近代化政策をおしすすめた。また、彼は1904年、日本に仏舎利などを贈り、それがきっかけとなって名古屋市に日暹寺(現在の日泰寺)が建立され、そこには1987年に両国の修好百周年記念としてラーマ5世像が建てられている。

問3 下線部分ポーランド蜂起が発生した後の19世紀のポーランドのようすについて述べた文として適切なものを、次の①～④のうちから一つ選べ。解答番号は **18** 。

- ① バビロン捕囚が行われた。
- ② ロシア皇帝による支配が強化された。
- ③ ヤゲウォ(ヤゲロー)朝が成立した。
- ④ カノッサの屈辱がおこった。

問 4  に当てはまる国と、ラーマ5世の治世に関する説明との組合せとして正しいものを、次の①～④のうちから一つ選べ。解答番号は  。

	<input type="text" value="B"/>	説 明
①	タ イ	独立を維持した。
②	タ イ	フランス領になった。
③	アルジェリア	独立を維持した。
④	アルジェリア	フランス領になった。

B

5 1～2の文章と図版に関連して、問1～問6に答えよ。

1 第一次世界大戦は、**A** をきっかけに始まり、やがて総力戦となって植民地の人々も戦場に動員された。植民地側もまた、自治権の拡大や独立を期待して第一次世界大戦に協力する<sup>(a)</sup>ことがあった。

また、多くの男性が兵士として戦場に向かうなか、女性は産業労働に進出し、とりわけ軍需生産を支えた。この経験が、いくつかの国における第一次世界大戦後の女性参政権の承認につながったが、一方で女性の社会進出や政治参加をめぐる<sup>(b)</sup>様々な議論がおこった。その中では、女性が戦前のように家庭にいて、母として健康な子を産み育てることで、<sup>(c)</sup>社会の秩序は保たれるという偏見も強かった。この影響もあり、フランスにおける女性参政権は第二次世界大戦後まで認められなかった。女性参政権が認められた国においても、女性の政治参加は「子を育てる母の意見を届けるため」と強調されることが多かった。



ドイツにおける1919年の選挙で、女性に投票をよびかけるポスター  
 「子どもたちには平和とパンが必要です。さあ女性のみなさん、投票しましょう！」  
 (明石書店「世界の教科書シリーズ30 フランスの歴史」より)



問 1 **A** に当てはまる語句を、次の①～④のうちから一つ選べ。解答番号は **20** 。

- ① サライエヴォ事件
- ② 西安事件
- ③ 独ソ不可侵条約
- ④ 日独伊三国同盟

問 2 下線部分自治権の拡大や独立を期待して第一次世界大戦に協力した具体例について述べた文として適切なものを、次の①～④のうちから一つ選べ。解答番号は **21** 。

- ① 中国国民党と中国共産党との間に第1次国共合作が成立した。
- ② イランでは、タバコ=ボイコット運動がおこった。
- ③ 南アフリカのオランダ系住民が、南アフリカ戦争(ボーア戦争・ブール戦争)を戦った。
- ④ アラブ人が、フサイン=マクマホン協定を結んだ。

問 3 下線部分第一次世界大戦後のパリ講和会議の基礎となった方針として適切なものを、次の①～④のうちから一つ選べ。解答番号は **22** 。

- ① 95か条の論題
- ② 十四カ条の平和原則
- ③ 八・一宣言
- ④ ポツダム宣言

B

問 4 次の資料は、下線部分女性の社会進出や政治参加をめぐる様々な議論の中の、当時の主張の一つである。資料の<sup>(c)</sup> **B** に当てはまる語句と、資料の主張を示す文との組合せとして適切なものを、下の①～④のうちから一つ選べ。解答番号は **23** 。

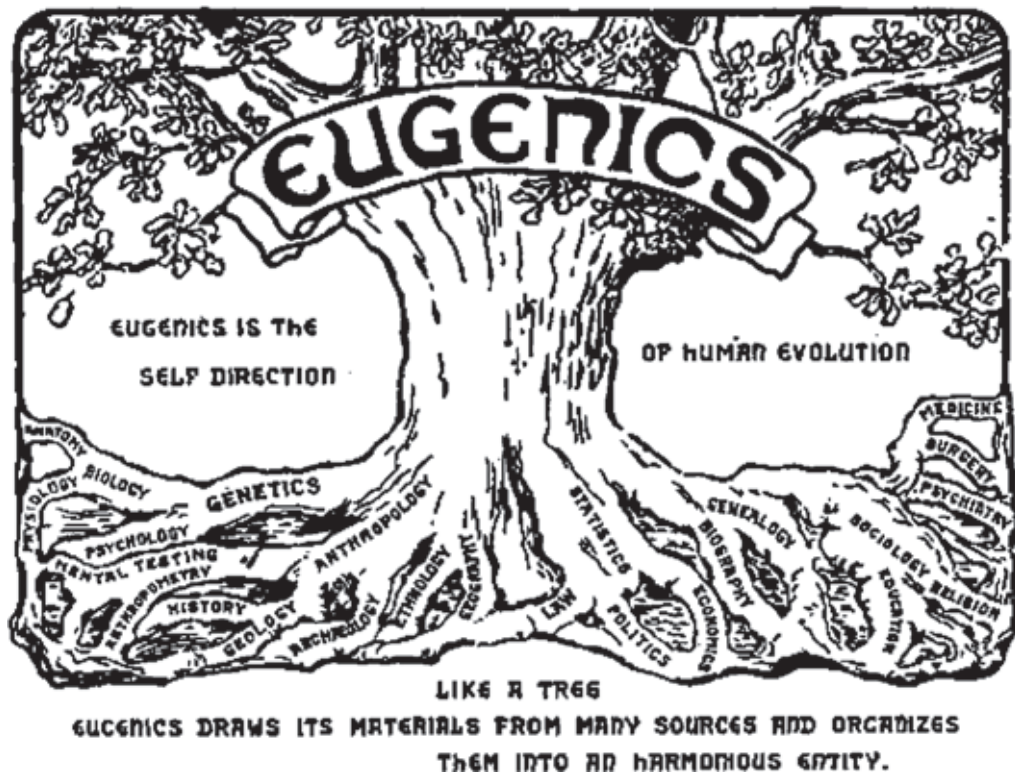
資料

帰還した兵士は、人けのない家を見て苦しむのではないだろうか。そこではもはや、大きな代償を払って獲得した自分の権威が認められていないのではないかと。…帰還するやいなや、もはや市民としての男性も女性もなく、法的に平等な二つの存在、二つの社会的単位があるだけだと、彼は知らされるのではないか。いままたその資格にふさわしいことを行ったばかりなのに、昔からの保護者の役割を失い、市民的・政治的な闘いを **B** とわかちあうことを耐え忍ばなければならないのではないか。いたるところで、女性は男性が狙っている職の好敵手、競争相手として存在し、女性はすでに有利にことを進めているのではないか。…女性を家庭に戻し、政治的闘争から引き離す。もし、これから約 20 年のあいだ、数十万人の男性を不要にしたくなければ、それこそが遂行すべき計画である。

(1918年にフランスの雑誌に掲載された論説より)

	<b>B</b>	資料の主張
①	男性	女性の社会進出に賛成している。
②	男性	女性の社会進出に反対している。
③	女性	女性の社会進出に賛成している。
④	女性	女性の社会進出に反対している。

2 ヨーロッパにおける 19 世紀の自然科学の発達<sup>(d)</sup>は、人間の生殖を科学的にコントロールしようとする営みへとつながった。19 世紀末、ゴルトンは、いとこのダーウィンが唱えた進化論を人間に適用し、「優秀な子孫」の誕生の促進と「劣等な子孫」の誕生の抑制によって「人類の品種改良」を図る優生学を提唱した。例えばドイツでは、**C** が 1933 年 1 月に政権をとると、優生学を背景とする政策を採用し、「劣等」とされた人々を迫害した。その際、優生学の影響を受けた学者や医師たちは、このような政策は科学的に正当であると主張した。2010 年、ドイツの、ある医学会は、本来は命を救うべき立場の医師が患者の迫害に関わった過去を謝罪した。「命の選別」を繰り返さないために、当時を反省する試みが今も続けられている。



第 2 回国際優生学会(1921 年)のロゴ

「優生学は人類の進化の自己制御である」

問 5 下線部分 19 世紀の自然科学の発達について述べた文として適切なものを、次の①～④のうちから一つ選べ。解答番号は  。

- ① アルキメデスが、浮力の原理を唱えた。
- ② イブン=シーナーが、『医学典範』を著した。
- ③ ガリレイが、地動説を唱えた。
- ④ レントゲンが、X線を発見した。

問 6  に当てはまる人物を、次の①～④のうちから一つ選べ。解答番号は  。

①



ド = ゴール

②



ニクソン

③



ヒトラー

④



ブランド



6 1～2の文章と図版に関連して、問1～問5に答えよ。

1 生徒と先生が、写真を見ながら会話している。

生徒： この写真は、ベトナム戦争のときの写真ですね。教科書で見たことがあります。

先生： そうです。撮影したのは、<sup>(a)</sup>報道写真家の澤田教一<sup>さわだ きょういち</sup>さんで、当時、アメリカ合衆国の通信社に所属し、ベトナム戦争を取材していました。この写真は、すぐに全世界に配信され、日本の新聞にも掲載されました。

生徒： 川を渡って逃げる母と子の必死なようすが伝わってきます。

先生： 澤田さんは、この写真で、すぐれた写真報道などに贈られる<sup>(b)</sup>ピューリッツァー賞を受賞しました。しかし、自分が撮った母子がどうなったのか気になり、授賞式の後、捜し当てて、賞金の一部を見舞金として贈りました。

生徒： その後、澤田さんは、どんな活躍をしたのですか。

先生： 澤田さんは、「人々の暮らしの中にこそ真実がある。」と言っていたそうです。しかし、ベトナム戦争は、他の東南アジア地域にも拡大しました。澤田さんは、ベトナムの隣国<sup>(c)</sup>のカンボジアを取材中、銃撃されて亡くなりました。34歳でした。

生徒： 本当は平和な写真が撮りたかったのですね。



「安全への逃避」


(山川出版社「戦場カメラマン沢田教一の眼」より)

問 1 下線部分<sup>(a)</sup>ベトナム戦争に関して、アメリカ合衆国がベトナムに軍事介入した理由と、アメリカ合衆国が支援した国との組合せとして正しいものを、次の①～④のうちから一つ選べ。  
解答番号は 26。

	軍事介入した理由	支援した国
①	共産主義が広がることを恐れたため。	パルティア(安息)
②	共産主義が広がることを恐れたため。	ベトナム共和国(南ベトナム)
③	大量破壊兵器を保持していると考えたから。	パルティア(安息)
④	大量破壊兵器を保持していると考えたから。	ベトナム共和国(南ベトナム)

問 2 下線部分<sup>(b)</sup>ピューリッツァー賞に関して、次の写真は、1992年に受賞(撮影は1991年)したシリーズ作品のうち2枚である。2枚の写真があらわしている出来事を、下の①～④のうちから一つ選べ。解答番号は 27。

(下記写真は、いずれも日経ナショナル・ジオグラフィック社「ピューリッツァー賞受賞写真全記録 第2版」より)



建国時の政治家の像を踏みつける人々



ゴルバチョフ大統領の辞任発表

- ① ユーゴスラヴィア連邦の解体
- ② ロシア革命
- ③ ソ連の解体
- ④ イラン革命

問 3 下線部分<sup>(c)</sup>東南アジアのベトナム戦争後のようすについて述べた文として適切なものを、次の①～④のうちから一つ選べ。解答番号は 28。

- ① ベトナムで、ドンズー(東遊)運動が始まった。
- ② 東ティモールが、インドネシアから独立した。
- ③ フランス領インドシナ連邦が成立した。
- ④ カンボジアで、アンコール=ワットが造営された。

2 次の資料は、1993年に合意されたパレスチナ暫定自治協定の一部である。1994年には、パレスチナ自治政府が誕生し、パレスチナ国家樹立への道がひらかれた。しかし、イスラエルが、占領地での入植地を拡大し、再び武力衝突がおこるなど、平和実現への道はけわしい状況にある。

資料

イスラエル政府と、パレスチナ人民を代表する PLO チームは、数十年の対決と闘争に終止符を打ち、お互いの正当な政治的権利を認め合うときがきたことに同意する。そして、平和のうちに共存し、お互いを尊重し、安全を保障し、…以下の諸原則に同意する。

第1条 交渉の目的

現在の中東和平プロセスにおけるイスラエル＝パレスチナ交渉の目的は、(ヨルダン川)西岸地区とガザ地区におけるパレスチナ暫定自治政府、すなわち選挙された評議会を設置することである。この暫定期間は、5年をこえないこととし、国連安全保障理事会決議 242号と 338号に基づく恒久的な取り決めに導くものである。…<sup>(d)</sup>

(『世界史史料 12』により作成)

写真



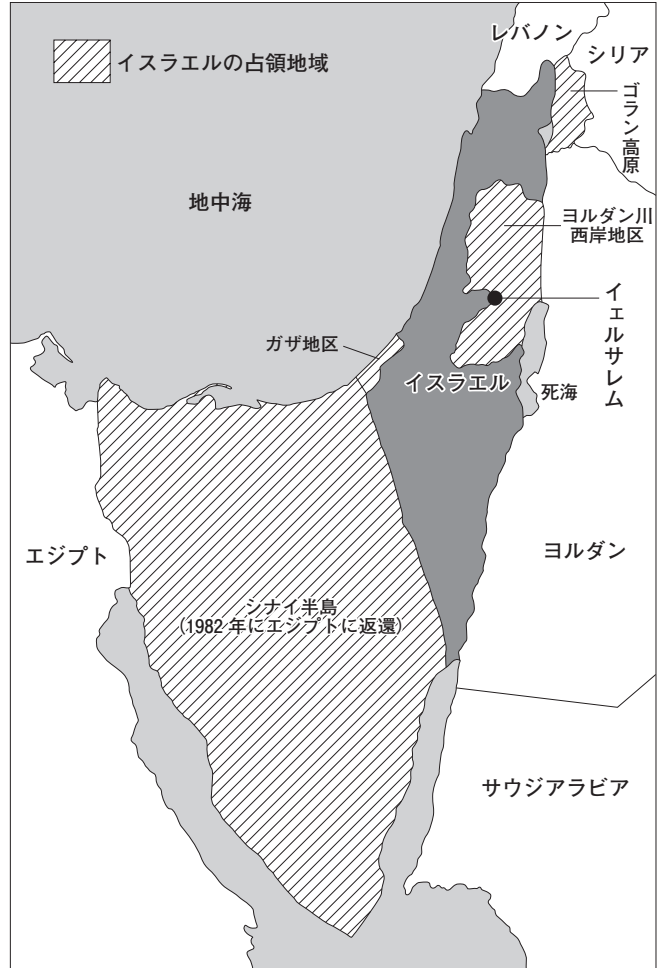
調印式の様子  
(山川出版社「高校世界史改訂版(世B314)」より)



問 4 下線部分<sup>(d)</sup>国連安全保障理事会決議 242 号は、イスラエルに対して、第 3 次中東戦争で占領した地域からの撤退を求めたものである。このときの占領地域をあらわしている地図と、資料の内容との組合せとして正しいものを、下の①～④のうちから一つ選べ。解答番号は **29**。



地図あ



(『アラブ・イスラエル紛争地図』により作成)

地図い

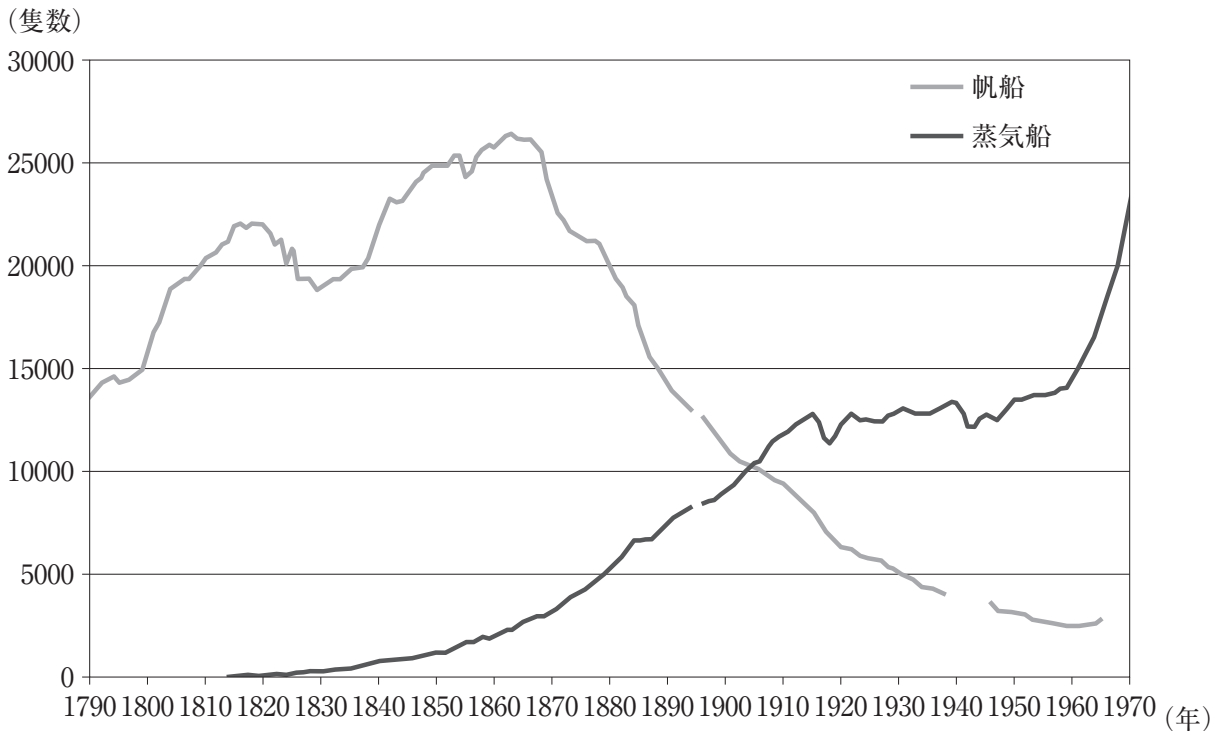
	地図	資料の内容
①	あ	イギリスの委任統治が終了した。
②	あ	イスラエル政府と PLO が相互に承認しあった。
③	い	イギリスの委任統治が終了した。
④	い	イスラエル政府と PLO が相互に承認しあった。

問 5 写真中の **A** に当てはまる、パレスチナ暫定自治協定を仲介した人物を、次の①～④のうちから一つ選べ。解答番号は **30**。

- ① アメリカ合衆国大統領クリントン      ② イギリス首相サッチャー
- ③ トルコ大統領ムスタファ＝ケマル      ④ ドイツ首相シュトラーゼマン

7 次の文章と図版に関連して、問1～問2に答えよ。

次のグラフは、1790年から1970年までのイギリスの登録商船における帆船と蒸気船(1923年以降は発動機船との合計)の数を示している。産業革命の特徴の一つとして、動力源の開発がある。新しい動力源は、**A**を燃料とする蒸気機関であった。この動力源は、工場だけでなく、移動手段にも利用され、19世紀前半には蒸気船も実用化された。とはいうものの、グラフからわかるように、船の数で見ると、**B**。帆船は、産業革命期においても改良が進められ、クリッパーとよばれる高速帆船が登場したことで、登録数から見ると19世紀後半に帆船が全盛期を迎えた。蒸気船が実用化されたからといって、いきなり帆船にとってかわったわけではないのである。



グラフの欠けている部分はデータなし。  
 (『マクミラン ヨーロッパ歴史統計 1750～1993』により作成)

グラフ

問1 **A**に当てはまる語句と、**B**に当てはまる文との組合せとして正しいものを、次の①～④のうちから一つ選べ。解答番号は **31**。

	<b>A</b>	<b>B</b>
①	石炭	19世紀半ばに、蒸気船が帆船を追い抜いた
②	石炭	20世紀初頭まで、帆船は蒸気船を上回り続けた
③	石油	19世紀半ばに、蒸気船が帆船を追い抜いた
④	石油	20世紀初頭まで、帆船は蒸気船を上回り続けた

問 2 下線部分<sup>(a)</sup> 19 世紀後半に帆船が全盛期を迎えたが、この時期、ある商品を運ぶスピードを競うことで帆船の技術革新が進んだ。帆船によるその商品の輸送について述べた文として最も適切なものを、次の①～④のうちから一つ選べ。解答番号は 32。

- ① メキシコからスペインへ、銀を運んだ。
- ② 日本からアメリカ合衆国へ、自動車を運んだ。
- ③ 中国から日本へ、銅銭を運んだ。
- ④ 中国からイギリスへ、茶を運んだ。

B

