

平成30年度 **世界史A・世界史B** (50分)

注 意 事 項

- 1 試験開始の合図があるまで、この問題冊子の中を見てはいけない。
- 2 出題科目、ページ及び選択方法は、下表のとおりである。

出題科目	ページ	選 択 方 法
世界史A	1～26	左の2科目のうちから1科目を選択し、解答しなさい。
世界史B	27～54	

- 3 試験中に問題冊子の印刷不鮮明、ページの落丁・乱丁及び汚れ等に気付いた場合は、手を挙げて監督者に知らせること。
- 4 試験開始の合図前に、監督者の指示に従って、解答用紙の該当欄に以下の内容をそれぞれ正しく記入し、マークすること。

・①氏名欄

氏名を記入すること。

・②受験番号、③生年月日、④受験地欄

受験番号、生年月日を記入し、さらにマーク欄に受験番号(数字)、生年月日(年号・数字)、受験地をマークすること。

・⑤解答科目欄

解答する科目名を○で囲み、さらにその下のマーク欄にマークすること。

- 5 受験番号、生年月日、受験地が正しくマークされていない場合は、採点できないことがある。
- 6 解答科目が正しくマークされていない場合は採点できないので、必ず正しくマークすること。
- 7 解答は、解答用紙の解答欄にマークすること。例えば、

10

と表示のある解答番号に対して②と解答する場合は、次の(例)のように解答番号10の解答欄の②にマークすること。

(例)

解答番号	解 答 欄
10	① ② ③ ④

- 8 問題冊子の余白等は適宜利用してよいが、どのページも切り離してはいけない。
- 9 試験終了後、問題冊子は持ち帰ってよい。

世 界 史 B

(解答番号 ~)

1 次の文章と図版に関連して、問1～問2に答えよ。

新潟県の高校で、生徒と先生が、資料を見ながら会話している。

二十九日、丙申。晴。去年の冬頃、高麗人の乗った船が越後国(現在の新潟県)^{てらどまり}寺泊浦に流れ着いた。(北条)朝時が高麗人の弓矢以下の道具を若君(後の将軍藤原頼経)の御方に取り次いで進上した。…弓二張・^{うつぼ}羽壺一・太刀一・刀一・帯一筋である。その帯の中央に銀の札^{ふだ}が付いており、その中に銘が四文字記されていた。…四文字の銘については、文士数人が参っていたが、これを読む人はなかったという。

(『吾妻鏡』貞応三年(元仁元年)二月二十九日条)

生徒：『吾妻鏡』は鎌倉幕府の記録ですね。いつの記事ですか。

先生：これは、1224年の記事の一節です。日本海沿岸に大陸から漂着した船に、武具などの他に、誰も読めない文字を記した札があったという内容です。

生徒：どんな文字だったか、わかっているのですか。

先生：明治時代になってから、実はこの文字が、船が漂着した当時に日本海の対岸を支配していた^(a)金で制定された文字だったことがわかりました。

生徒：えっ、それが鎌倉時代の新潟に流れ着いて、幕府で記録されていたのですか。驚きました。どういう意味が書いてあるのですか。

先生：「国の誠」と書いてあって、これは王朝による通行許可と公的施設の利用許可証でした。国家が交通路を整備したり、そのための施設を用意したりすることは、歴史上よく行われていましたね。

生徒：はい。以前の授業で、アケメネス朝では、 ことを習いました。交通と情報伝達は、昔から重視されていたのですね。

問 1 下線部分金で制定された文字と考えられるものを、次の①～④のうちから一つ選べ。


解答番号は 。

①




甲骨文字

②



ハングル(訓民正音)

③



女真文字

④



インダス文字

問 2 に当てはまる文として適切なものを、次の①～④のうちから一つ選べ。

解答番号は 。

- ① 「王の道」という道路網が整備された
- ② ジャムチとよばれる駅伝制がしかれた
- ③ 喜望峰経由でインドに至る航路が開拓された
- ④ シベリア鉄道が建設された

B

2 1～2の文章と図版に関連して、問1～問8に答えよ。

1 生徒と先生が、地図を見ながら会話している。

先生： 今日の授業では8世紀の世界について、地図を用いて勉強しました。

生徒： はい。地図中のあの王朝では各地との交流があったことがよくわかりました。地図中の
^(a)その他の地域のようすについても、しっかりと復習をしておこうと思います。^(b)先生、地
図中のXは現在のイスタンブルですよ。

先生： そうです。この都市はギリシア人の植民市として建設され、4世紀にはローマ皇帝が都
^(c)をここへ移しました。

生徒： そのために都市の名称が、皇帝の名にちなんで A と改称されたのです。

先生： その通りですよ。今日の授業で学習した8世紀にも、この都市はビザンツ帝国の首都と
^(d)して栄えていました。ビザンツ帝国が減んだ後も、オスマン帝国のもとで繁栄してい
きます。現在の呼称のイスタンブルは、オスマン帝国の時代に生まれたものです。

生徒： さまざまな歴史のある都市なのですね。



地図

問 1 下線部分地図中の^(a)あの王朝で、8世紀にみられた交流を説明したカードとして適切なものを、次の①～④のうちから一つ選べ。解答番号は 。

① 邪馬台国の女王である卑弥呼が都に使者を送り、「親魏倭王」の称号を与えられた。

② 武帝は、匈奴をはさみ撃ちにするために、張騫を使者として大月氏に遣わした。

③ マルコ＝ポーロが都を訪れ、『世界の記述(東方見聞録)』にそのようすを記した。

④ 長安には、西方から伝来したネストリウス派キリスト教(景教)の寺院が建てられた。

問 2 下線部分地図中の^(b)その他の地域の8世紀の出来事として適切なものを、次の①～④のうちから一つ選べ。解答番号は 。

① いの地域では、パガン朝が元軍に攻撃された。

② うの地域では、プラッシーの戦いがあった。

③ えの地域では、アッバース朝の都としてバグダードが建設された。

④ おの地域では、宗教対立から三十年戦争があった。

問 3 下線部分ギリシアのアテネの^(c)紀元前5世紀のようすについて述べた文として適切なものを、次の①～④のうちから一つ選べ。解答番号は 。

① 民会を舞台にして、直接民主政が実施された。

② 自然現象や動物を崇拜して、『ヴェーダ』がまとめられた。

③ 勘合を用いた朝貢貿易が行われた。

④ ヴェルサイユ宮殿が建設された。

問 4 A に当てはまる語句と、下線部分^(d)ビザンツ帝国の説明との組合せとして正しいものを、次の①～④のうちから一つ選べ。解答番号は 6 。

	A	説 明
①	コンスタンティノーブル	大憲章(マグナ＝カルタ)が発布された。
②	コンスタンティノーブル	ギリシア正教会の中心的な存在であった。
③	アレクサンドリア	大憲章(マグナ＝カルタ)が発布された。
④	アレクサンドリア	ギリシア正教会の中心的な存在であった。

2 大川さんは世界史の授業の課題として大英博物館の収藏品について調べ、カード1～カード3にまとめた。

カード1

収藏品1は「ウルのスタンダード」である。発掘した学者が軍旗(スタンダード)のように戦場にかかげたのではないかと指摘したことから、このようによばれている。シュメール人が築いたメソポタミア文明の都市ウルの王家の墓の中から発掘された。
(e)



収藏品1

カード2

収藏品2は、世界最大規模の仏教遺跡である **B** からもたらされた。 **B** は、ジャワ島にある石造りの巨大な建造物で、多くの仏像で飾られている。ジャワ島やその周辺の島々では、交易が盛んに行われ、仏教やイスラーム教が伝えられた。
(f)



収藏品2



B

カード3

収藏品3は、14世紀から15世紀の作品で、銅と真鍮^{しんちゅう}でつくられている。王冠^{いただ}を戴いたこの姿は、^(g)支配者あるいは王をあらわすと考えられている。この作品は800年頃に西アフリカ^(h)に出現した国の一つのイフェのものである。この国はニジェール川沿いの交易網に近かったこともあって、商業・政治・宗教の中心地として栄えた。1939年に発見されたこの作品は、アフリカの高度な文化を人々に示した。



収藏品3

問5 下線部分^(e)メソポタミア文明の特徴をあらわす資料として適切なものを、次の①～④のうちから一つ選べ。解答番号は 。

①



コロッセウム

②



楔形文字が刻まれた粘土板

③



シヴァ神像

④



兵馬俑

問 6 に当てはまる語句と、下線部分イスラーム教の説明との組合せとして正しいものを、次の①～④のうちから一つ選べ。解答番号は 。

	<input type="text" value="B"/>	説 明
①	マチュ=ピチュ	唯一神アッラーを信仰する。
②	マチュ=ピチュ	マウリヤ朝のアショーカ王のもとで発展した。
③	ボロブドゥール	唯一神アッラーを信仰する。
④	ボロブドゥール	マウリヤ朝のアショーカ王のもとで発展した。

問 7 下線部分 14 世紀の出来事として適切なものを、次の①～④のうちから一つ選べ。解答番号は 。

- ① 初めて科擧の制度がつけられた。
- ② カール大帝が、ローマ皇帝の冠を授けられた。
- ③ 甲午農民戦争がおこった。
- ④ 百年戦争が始まった。

問 8 下線部分西アフリカに出現した国に関して、サハラ砂漠を縦断する交易を経済基盤とし、11 世紀にムラービト朝の攻撃によって衰退した国や王朝を、次の①～④のうちから一つ選べ。解答番号は 。

- ① ガーナ王国
- ② サファヴィー朝
- ③ マラッカ王国
- ④ キプチャク=ハン国

3 1～2の文章と図版に関連して、問1～問5に答えよ。

1 生徒と先生が、図1を見ながら会話している。

先生： 図1は、16世紀に、ポルトガルの地図製作者で、イエズス会士のティセラが作成した日本地図です。

生徒： 本州、九州、四国が示されているのですね。

先生： 拡大した部分には、Hivami(石見)という地名と、ラテン語で **A** 鉱山を意味する アルゲンティ フォディナエ Argenti fodinae と書かれています。他の宣教師が書いた報告書の中にも、国際的に通貨として使われた **A** について報告されています。

生徒： 宣教師たちは、キリスト教の布教の他にもさまざまなことに興味を持っていたのですね。逆に、外国に関心を持った日本人はいるのですか。

先生： いますよ。この時期、 **B** ^(a)、東南アジアの都市には日本町が形成されました。たとえばアユタヤにあった日本町では、貿易のかたわら日本人部隊を率いてアユタヤ王を助けた山田長政のような日本人もいました。

生徒： いろいろな交流があったのですね。

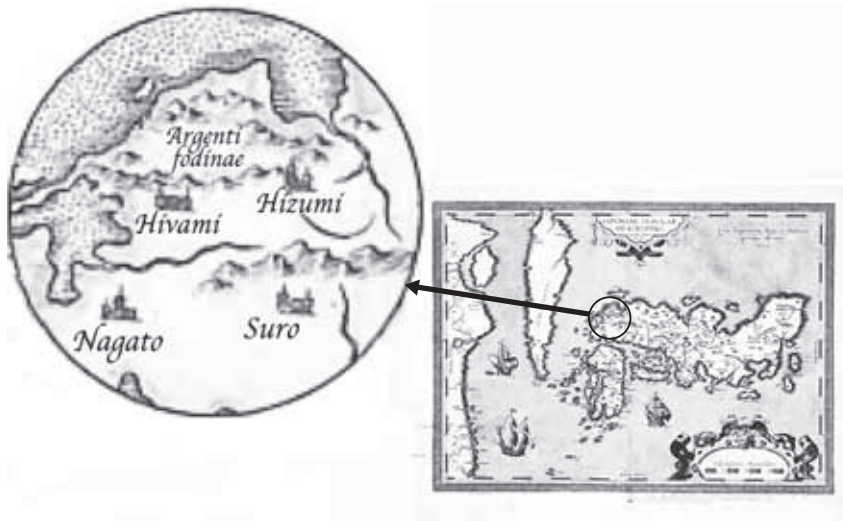


図1 ティセラによる日本地図

問 1 A に当てはまる語句を、次の①～④のうちから一つ選べ。解答番号は 11。

- ① 銀 ② 銅
 ③ 石炭 ④ 錫すず

問 2 B に当てはまる文と、下線部分東南アジアの都市^(a)との組合せとして正しいものを、次の①～④のうちから一つ選べ。解答番号は 12。

	B	東南アジアの都市
①	遣唐使が派遣され	マニラ
②	遣唐使が派遣され	アムステルダム
③	朱印船貿易が盛んに行われ	マニラ
④	朱印船貿易が盛んに行われ	アムステルダム

B

2 生徒と先生が、図2を見ながら会話している。

先生： 図2には、1792年9月に来航したロシア人一行の根室滞在中の様子が描かれています。一行は、日本人漂流民の大黒屋光太夫らを送還するために、日本に来航しました。

生徒： 漂流したということは、光太夫は船に乗っていたのですか。

先生： そうです。光太夫は伊勢(三重県)の船乗りだったのですが、遭難し、アリューシャン列島に漂着しました。その後、ロシア人に助けられ、1791年にロシアの首都ペテルブルクに到着します。そこで光太夫の日本送還とロシア使節 **C** の派遣を決めたロシアの君主が、啓蒙専制君主として知られるエカチェリーナ2世でした。

生徒： 江戸時代でしたから、漂流がきっかけとはいえ、ロシアを訪れた日本人は珍しかったのでしょうか。当時のロシアと東アジアの関係は、どんなようだったのですか。

先生： 清とロシアとのあいだで交易が行われていましたが、たびたび中断されたようです。



図2 「光太夫と露人蝦夷ネモロ滞居之図」

問 3 図 2 には、商人と通詞(通訳)の姿が描かれている。図 2 と会話から読み取れる事柄と、
 に当てはまる人物との組合せとして正しいものを、次の①～④のうちから一つ選
 べ。解答番号は 。

	読み取れる事柄	<input type="text" value="C"/>
①	ロシア人一行は、日本との通商に関心を持っていた。	ソクラテス
②	ロシア人一行は、日本との通商に関心を持っていた。	ラクスマン
③	ロシア人一行は、大日本帝国憲法に関心を持っていた。	ソクラテス
④	ロシア人一行は、大日本帝国憲法に関心を持っていた。	ラクスマン

問 4 下線部分^(b)啓蒙専制君主とされる人物について述べた文として適切なものを、次の①～④の
 うちから一つ選べ。解答番号は 。

- ① 陳勝が、「王侯将相いずくんぞ種あらんや」と唱えた。
- ② トマス＝アクィナスが、スコラ学を大成した。
- ③ イヴァン 3 世が、初めてツァーリ(皇帝)の称号を用いた。
- ④ プロイセン王のフリードリヒ 2 世が、「君主は国家第一の僕^{しもべ}」と唱えた。

問 5 下線部分^(c)清について述べた文として適切なものを、次の①～④のうちから一つ選べ。
 解答番号は 。

- ① ゴロアスター教を国教とした。
- ② 焚書・坑儒によって思想統制を行った。
- ③ 辮髪を、漢人男性に強要した。
- ④ 「大東亜共栄圏」を唱えた。

4 1～2の文章と図版に関連して、問1～問4に答えよ。

1 ハイน์リヒ＝シュリーマンは、優れた語学力と商才を活かして貿易商として成功した。特に、1853年にロシアとオスマン帝国との間で始まった **A** では、ロシアに武器を輸出して巨万の富を築いた。しかし、1863年には、一切の商業活動をやめ、1871年からトロイアで発掘調査を開始した。その間の1865年、彼はインドから海路で世界旅行をしており、その途中で、清と日本にそれぞれ約1か月ずつ滞在し、旅行記を残している。次の資料1・資料2は、その抜粋である。

資料1

(清国への上陸)

世界旅行の途中、上海に行った折、私はどうしても万里の長城を訪ねたい気持ちを抑えることができなかった。長城へは北京を通らなければならない。私の心はいよいよ躍^{おど}った。…しかし北京へは天津を経由しなければならなかった。4月20日、朝5時に、私は天津行きの蒸気船、^{ヤンチーフェイ}燕子飛号に乗った。…4月27日、われわれは^{はくが}白河の河口にある^{タークー}大沽の要塞に着いた。大沽では、北の要塞にフランス軍、南の要塞にイギリス軍が駐屯している。

^(a) 1860年の条約によって、英仏の占領は賠償金が完全に支払われるまで続くはずである。

資料2

(日本の江戸にて)

江戸での私はまるで囚^{とら}われ人のようであった。武装した百人余りの役人が公使館の周囲を厳戒態勢で守っているにもかかわらず、私が風呂場や^{きゆうしや}厩舎に行くたびに、役人が何人かついてくるのだ。風呂場も厩舎も同じ庭の中にあるのに、である。こういううんざりするような過剰警備に抗議をしたが徒労に終わった。…6月27日、私は団子坂にある有名な苗床と公園、王子にある名高い茶屋を見物し、帰路もう一度見たいと思っていた浅草観音寺を経て戻れるように、5人の役人たちとともに早朝出発した。



図1 「外国人の江戸散策」フェリーチェ＝ベアト撮影(1863年)

問 1 A に当てはまる戦争と、下線部分 1860 年の条約 で講和が結ばれた戦争との組合せとして正しいものを、次の①～④のうちから一つ選べ。解答番号は 16 。

	A	下線部分(a)で講和が結ばれた戦争
①	クリミア戦争	ポエニ戦争
②	クリミア戦争	アロー戦争
③	ペロポネソス戦争	ポエニ戦争
④	ペロポネソス戦争	アロー戦争

B

問 2 資料 1・資料 2 と図 1 から推察できることについて述べた次の(ア)・(イ)の正誤を判断し、その組合せとして正しいものを、下の①～④のうちから一つ選べ。解答番号は 17 。


(ア) 清の沿岸では、すでに海上を蒸気船が航行していた。

(イ) 日本の江戸では、外国人の警護は日本側が担当していた。

- | | |
|---------------|---------------|
| ① (ア)―正 (イ)―正 | ② (ア)―正 (イ)―誤 |
| ③ (ア)―誤 (イ)―正 | ④ (ア)―誤 (イ)―誤 |

2 アメリカ合衆国の国旗は、独立13州にちなんだ13本の赤・白のしまと、紺地に州の数を示した白い星からなる「星条旗」である。この国旗とデザインが似ている国旗に、アフリカ西部のリベリア共和国がある。19世紀前半にアメリカ合衆国から入植した者たちが、1847年にアメリカ合衆国憲法を基本とした憲法を制定し、アフリカ最初の黒人共和国として独立した国である。このような建国に至る背景が国旗にもあらわされ、11本の赤・白のしまは、リベリアの独立宣言に署名した11人を示している。

また、アメリカ合衆国の各州の旗には、合衆国の歴史、とりわけ南北戦争の影響が垣間見られる。北部には、南北戦争時の北軍の旗の色に由来する青地を採用した州がいくつもある。また、南部には、南北戦争の際に一時成立したアメリカ連合国の海軍旗・サザンクロスに由来するデザインを採用している州もある。



現在のアメリカ合衆国の国旗



現在のリベリア共和国の国旗



現在のウィスコンシン州旗
(青地に白い文字)



現在のミシシッピ州旗
(青・白・赤の横3色に
サザンクロス)



アメリカ連合国の海軍旗
(1863～65)(赤地に青い斜め
十字, 白い星)

問3 下線部分19世紀のアフリカ大陸のようすについて述べた文として適切なものを、次の

(b) ①～④のうちから一つ選べ。解答番号は 。

- ① 南アフリカ共和国で、アパルトヘイトが撤廃された。
- ② フォークランド戦争(フォークランド紛争)がおこった。
- ③ ノルマン人が、両シチリア王国を建てた。
- ④ フランスが、アルジェリアを植民地化した。

問 4 下線部分南北戦争中にアメリカ合衆国でおこった出来事について述べた文として適切なものを、次の①～④のうちから一つ選べ。解答番号は 19。

- ① ハンザ同盟が結成された。
- ② ドレフュス事件がおこった。
- ③ 奴隷解放宣言が出された。
- ④ 十四カ条の平和原則が出された。


B

5 1～2の文章と図版に関連して、問1～問6に答えよ。

1 沖田さんは、イギリスの盛衰と海軍力の関係に興味を持ち、カード1～カード3を作成した。

カード1 海軍の軍備縮小

強力な大砲を備えた戦艦は「主力艦」とよばれ、その数が国力をはかる指標の一つとされていた。しかし、戦艦を建造・維持する費用は各国にとって負担となり、ワシントン会議^(a)で海軍軍縮条約が結ばれた。その結果、イギリスの主力艦の保有トン数はアメリカ合衆国と同等に抑えられた。



条約での主力艦保有トン数の比率

カード2 第一次世界大戦

イギリスは、長年対立していた **A** と提携し、三国協商を形成した。その背景には、ドイツが艦隊の増強を進め、イギリスに脅威を与えていたことがあった。もっとも、第一次世界大戦の時点ではイギリス海軍の優位は揺るがず、ドイツに対する海上封鎖を行うことができた。



英独の建艦競争の風刺画

カード3 日本海軍の建設とイギリス

「パクス＝ブリタニカ」とよばれるイギリスの覇権を支えたのが、圧倒的な海軍力であった。明治時代の日本が海軍を建設する際にも、イギリスの知識や技術が重要な役割を果たした。日露戦争^(b)で日本が用いた6隻の戦艦は、すべてイギリスで建造されたものであった。

(戦艦三笠の写真)

イギリス製の戦艦三笠

問1 下線部分ワシントン会議^(a)について述べた文として適切なものを、次の①～④のうちから一つ選べ。解答番号は **20**。

- ① 正統主義にもとづき、ヨーロッパの政治秩序を定めた。
- ② 中国の領土保全や主権の尊重などが確認された。
- ③ 反植民地主義を唱え、平和十原則を採択した。
- ④ 環境問題に対処するため、「持続可能な開発」を打ち出した。

2 飛行機を軍艦から発着させるという発想は、第一次世界大戦の頃に生まれた。第一次世界大戦後に日本が完成させた鳳翔^{ほうしょう}は、航空母艦(空母)として計画・建造されたものとしては世界初とされる。戦艦の数でアメリカ合衆国に劣る日本は空母に期待をよせ、太平洋戦争の開始時には6隻の空母から発進させた数百の飛行機でハワイの真珠湾を攻撃した。^(d)これ以後、空母が戦艦にかわって海戦の主力となり、今日でも大国の海軍力の象徴とみなされている。



日本最初の航空母艦鳳翔

問 5 下線部分第一次世界大戦後におこった出来事について述べた文として適切なものを、次の

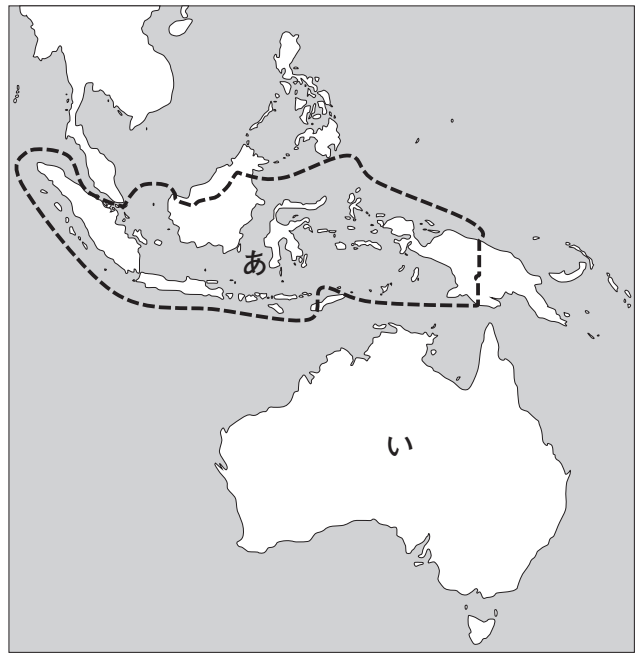
^(c)
①～④のうちから一つ選べ。解答番号は 。

- ① 義和団が「扶清滅洋」をかかげ、外国勢力と戦った。
- ② シュタインやハルデンベルクが、農民解放などの改革を行った。
- ③ ガンディーが、「塩の行進」を行った。
- ④ セルジューク朝の君主が、スルタンを称した。

問 6 下線部分太平洋戦争に関して、次の文が説明している地域の略地図中のおよその位置と、
 (d) **B** に当てはまる語句との組合せとして正しいものを、下の①～④のうちから一つ選
 べ。解答番号は **25** 。

B

この地域は **B** による植民地支配のもとにあったが、太平洋戦争中に日本軍により占領され、軍政下におかれた。1945年に日本が降伏すると、その直後にスカルノらが独立を宣言した。



	位 置	B
①	あ	フランス
②	あ	オランダ
③	い	フランス
④	い	オランダ

6 1～2の文章と図版に関連して、問1～問5に答えよ。

1 世界史上の事件は、様々な形で新聞に報じられてきた。資料1は、1989年11月10日の日本の新聞記事からの抜粋である。

資料1

A の壁をまたぐ鉄橋の上で、見も知らぬ東と西の市民が抱き合った。花火が上が
り、シャンパンがはじける。車の警笛、拍手、Vサイン。9日夜から、東西 **A** の通
過地点では最大の人波が東から西へ抜けたボルンホルマー通り。「向こうへ行くぞ」「壁を
どける」のシュプレヒコール。…1961年に出来た東西対立の象徴「**A** の壁」を一気に
突き崩しそうな勢いがあった。…

この後、東西両陣営の対立は収束に向かい、12月2日にはマルタ会談で、アメリカ合衆国
のブッシュ大統領とソ連の **B** 書記長が冷戦の終結を宣言した。

(喜び合う人々の写真)

「**A** の壁開放」を喜びあう人々

問 1 A に当てはまる都市名と、その都市の略地図中のおよその位置との組合せとして正しいものを、下の①～④のうちから一つ選べ。解答番号は 26 。



B

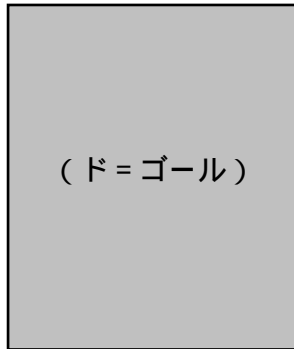
	A	位 置
①	ローマ	あ
②	ローマ	い
③	ベルリン	あ
④	ベルリン	い

問 2 下線部分東西両陣営の対立について述べた文として適切なものを、次の①～④のうちから一つ選べ。解答番号は 27 。

- ① イェルマークが、シベリアへ進出した。
- ② クロムウェルが、アイルランドを征服した。
- ③ イギリスを中心に、第1回対仏大同盟が結成された。
- ④ ソ連を中心に、コミンフォルムが組織された。

問 3 B に当てはまる人物を，次の①～④のうちから一つ選べ。解答番号は 28 。

①




ド = ゴール

②



ゴルバチョフ

③



ディズレーリ

④



カストロ

2 冷戦の終結で、平和の訪れが期待されたが、各地で紛争や事件が勃発した。資料2は、冷戦後のある事件についての日本の新聞記事からの抜粋である。

資料2

…ニューヨークでは同日午前9時頃、マンハッタン南端にある超高層ビルの世界貿易センタービルの南北両棟(それぞれ高さ430メートル、110階建て)の上層階にアメリカン航空機2機が相次いで突っ込んだ。…ワシントンでは、国防総省に航空機が突っ込んで同省ビルが炎上した。アメリカン航空のワシントン発ロサンゼルス行きのボーイング757機とみられる。乗員、乗客64人乗りとの情報もある。…

この事件後、アメリカ合衆国はアフガニスタンに派兵し、日本の自衛隊も後方支援をするためにインド洋に派遣された。^(b)

(事件の写真)

資料2の事件

問 4 資料 2 が報じている出来事を，次の①～④のうちから一つ選べ。解答番号は 29。

- ① 9・11 同時多発テロ
- ② テルミドールのクーデタ
- ③ マフディーの反乱
- ④ アナーニ事件

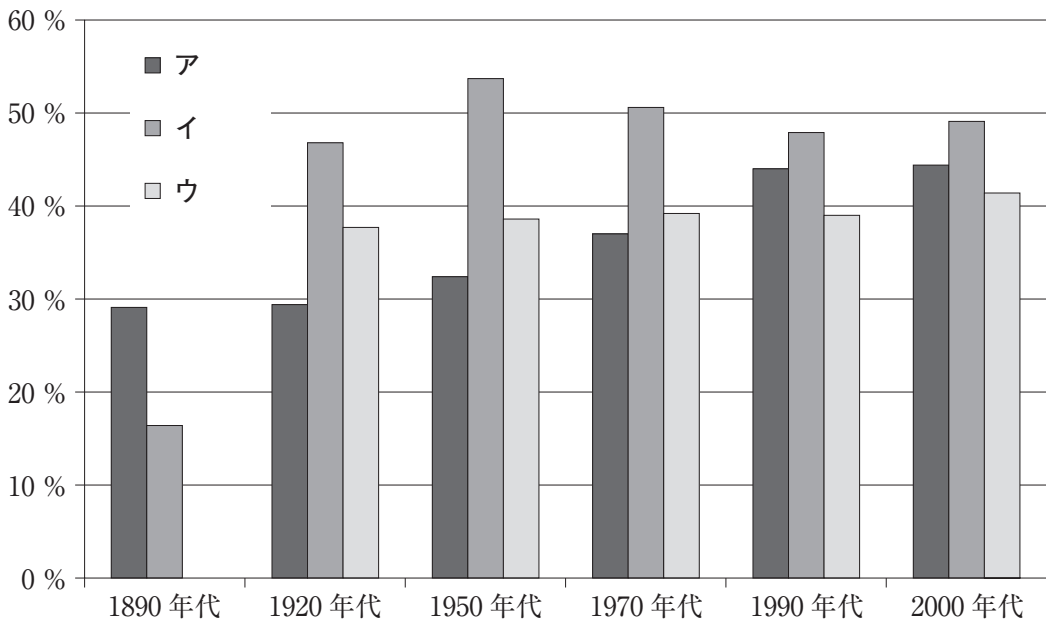
問 5 下線部分**アメリカ合衆国**の第二次世界大戦後の出来事について述べた文として適切なものを，次の①～④のうちから一つ選べ。解答番号は 30。

- ① ティトーが，第 1 回非同盟諸国首脳会議を開催した。
- ② ディオクレティアヌスが，四帝分治(テトラルキア)を始めた。
- ③ トルーマンが，共産主義に対する封じ込め政策を宣言した。
- ④ ジョン＝ヘイが，中国に関する門戸開放宣言を提唱した。

7 次の文章と図版に関連して、問1～問2に答えよ。

次のグラフは、イギリス・ロシア(ソ連の時期を含む)・日本の就業者数に占める女性の割合を示しており、女性の社会進出の程度を見ることができるといえる。イギリスでは、19世紀末から2000年代まで次第に女性の割合が高まっている。これに対して、日本は、20世紀を通じてほとんど変化がなく、2000年代になり40%を超えた。また、ロシアでは、社会主義となったのち、^(a)就業者数に占める女性の割合が急激に上がった。このように、女性の社会進出の程度は、それぞれの国や地域によってさまざまに異なっているのである。

(女性の割合)



ウの1890年代についてはデータがない。

(B. R. Mitchell, *International historical statistics* により作成)

グラフ

問 1 グラフのア～ウに当てはまる国の組合せとして正しいものを、次の①～④のうちから一つ選べ。解答番号は **31**。

	ア	イ	ウ
①	イギリス	ロシア	日本
②	イギリス	日本	ロシア
③	ロシア	日本	イギリス
④	ロシア	イギリス	日本

問 2 下線部分ロシアでは、社会主義となったのち、就業者数に占める女性の割合が急激に上がった^(a)とあるが、その背景として考えられる事柄について述べた文として適切なものを、次の①～④のうちから一つ選べ。解答番号は **32**。

- ① 人権宣言で、私有財産が認められたため。
- ② 第2次囲い込みにより、農業労働力が必要となったため。
- ③ ニューディールにより、公共事業が盛んになったため。
- ④ 五カ年計画による工業化で、労働力が必要とされたため。

